

日 本 史











注 意

1. 問題は全部で15ページである。
2. 解答用紙に氏名を忘れずに記入すること。
3. 解答はすべて解答用紙に記入すること。
4. 問題冊子の余白等は適宜利用してよいが、どのページも切り離してはいけない。
5. 解答用紙は必ず提出のこと。この問題冊子は提出する必要はない。

マーク・シート記入上の注意

1. HBの黒鉛筆またはシャープペンシルを用いて記入すること。
2. 解答用紙にあらかじめプリントされた受験番号を確認すること。
3. 解答する番号の○を塗りつぶしなさい。○で囲んだり×をつけたりしてはいけない。

解答記入例(解答が1のとき)

1										
---	---	---	---	---	---	---	---	--	---	---

4. 一度記入したマークを消す場合は、消しゴムでよく消すこと。×をつけても消したことになる。
5. 解答用紙をよごしたり折り曲げたりしないこと。

I 次のA～Dの文章を読み、後の問に答えなさい。(解答番号 1 ～ 15)

A 縄文時代には一般的に大きな集落は発達せず、20～30人ほどの集団が基本的な単位となっていたと考えられている。集団内の結びつきは強固であったが、しかし自然に対してはきわめて無力であり、そのためにさまざまな呪術的信仰が発達していた。縄文時代の遺跡で発見される ア や土偶は、豊穡を願って制作されたものである。一方で、こうした集団は孤立して存在していたわけではなく、活発な交易活動を行っていたことも特徴である。たとえば、神津島や長野県の イ で産出した ウ が広範囲に分布していることは、稲作以前の社会にあっても、交易が大きな役割を占めたことを物語っている。

これに対して、弥生時代になると次第に大きな集団が形成されるようになった。それとともに有力者が出現し、あわせて、各地で地域的特色のある墓制も採用された。また同時に、^③広い範囲にわたって共通した祭器が現れることもこの時期の特徴である。たとえば、近畿地方を中心とする地域には エ が、瀬戸内海周辺には平形銅剣が分布しているが、これらは共通の祭祀が広い地域で実施されていたことを物語る。集団の大型化は、同時に人びとの交流を深いものにしていった。

問1 空欄 ア に入る語句として正しいものを、次の①～④の中から一つ選んでマークしなさい。 1

- ① 石人・石馬 ② 石包丁 ③ 竪杵 ④ 石棒

問2 空欄 イ ウ に入る語句の組合せとして正しいものを、次の①～④の中から一つ選んでマークしなさい。 2

- ① イ 和田峠 ウ 黒曜石 ② イ 和田峠 ウ 硬玉
③ イ 姫川流域 ウ 黒曜石 ④ イ 姫川流域 ウ 硬玉

問 3 空欄 に入る語句として正しいものを、次の①～④の中から一つ選んでマークしなさい。

- ① 銅 矛 ② 銅 戈 ③ 銅 鐸 ④ 銅 鏡

問 4 下線部③について、この時期の墓制について述べた文として正しいものを、次の①～④の中から一つ選んでマークしなさい。

- ① 西日本を中心に、方形の墳丘を二段に重ねた方形周溝墓が作られた。
② 山陰地方では、四隅突出型墳丘墓が作られた。
③ 地域ごとの結束を示すため、抜歯の風習が広まった。
④ 有力者の出現を反映し、近畿地方を中心に群集墳が作られた。

B 大宝・養老の律令には、整然とした国家機構の頂点に立つ天皇の姿が描かれているが、一方で天皇は神々の直接の子孫とされ、天皇自身が神であると認識されていた。しかし同時に、天皇は最高の司祭でもあった。天皇のもっとも重要な職務は、祈年祭や新嘗祭などの祭祀において、全国の神々に社会の安定と平和を祈ることにあつたからである。律令制のもとでは が設けられて 全国の神社を統括したが、 はもっとも格式の高い官司として位置 ^⑥付けられている。こうしたことは、当時の社会が古墳時代以来の神祇信仰と密接に結びついていたことを物語っている。

しかし7世紀から8世紀になると、そこに仏教という新しい宗教的權威が登場した。当初「蕃神」とされた仏教は異国の神としか理解されなかったが、やがて天皇家はもとより、有力豪族もこぞって寺院を建立し、仏教の加護が求められた。8世紀半ばには東大寺に 盧舎那仏が造立されたほか、さまざまな寺院で ^⑦仏像や仏画が制作され、現代では、 天平文化を代表する美術品となっているもの ^⑧も多い。

問 5 空欄 に入る語句として正しいものを、次の①～④の中から一つ選んでマークしなさい。

- ① 中務省 ② 太政官 ③ 陰陽寮 ④ 神祇官

問 6 下線部⑥に関して、この時期から存在する神社の記述として誤っているものを、次の①～④の中から一つ選んでマークしなさい。 [6]

- ① 平城京郊外の春日神社は、都城住民が集う御霊信仰の拠点となった。
- ② 大神神社は三輪山を神体とし、古い神社の形態を伝えている。
- ③ 伊勢神宮には、天皇の直接の祖先とされる天照大神が祭られている。
- ④ 巨大建築で知られる出雲大社には、大国主神が祭られている。

問 7 下線部③について、この時期の仏教に関する事項Ⅰ～Ⅲについて、古いものから年代順に並べた組合せとして正しいものを、下の①～⑥のうちから一つ選んでマークしなさい。 [7]

- Ⅰ 僧玄昉が天皇に重用され、政界の中で力を発揮した。
- Ⅱ 東大寺で大仏開眼供養が実施された。
- Ⅲ 朝廷の僧尼政策に反するとして、僧行基の活動が厳しく弾圧された。

- ① Ⅰ—Ⅱ—Ⅲ ② Ⅰ—Ⅲ—Ⅱ ③ Ⅱ—Ⅰ—Ⅲ
- ④ Ⅱ—Ⅲ—Ⅰ ⑤ Ⅲ—Ⅰ—Ⅱ ⑥ Ⅲ—Ⅱ—Ⅰ

問 8 下線部①について、この時期の作品として正しいものを、次の①～④の中から一つ選んでマークしなさい。 [8]

- ① 興福寺八部衆像 ② 薬師寺僧形八幡神像
- ③ 中宮寺天寿国繡帳 ④ 法華寺十一面観音像

C 1180年12月、 [力] は南都焼討ちを敢行し、東大寺をはじめとする諸大寺の多くが焼け落ちた。 [力] は平清盛の五男で武勇の名をとどろかせ、たびたび源氏を打ち破ったが、最後には捕虜となり斬殺されている。南都の諸寺は貴族たちの精神的支えでもあったため、焼討ちは京都の貴族にも大きな衝撃を与えた。藤原兼実はその日記『 [キ] 』に深い悲しみを記している。しかし翌年、後白河法皇は直ちに東大寺の再建に着手した。まず [ク] を「東大寺勸進職」に任じ、全国で大仏再建の費用を集めていった。

彼は各地で修行を積んだ^{ひじり}聖であったが、一方で、三度も中国大陸に渡った経験があり、最新の寺院建築をよく知っていた。やがて宋人陳和卿に大仏鑄造の協力をあおぎ、1185年には法皇によって開眼供養が行われるに至った。ところで、この時東大寺再建に協力した人物の一人に『山家集』を残した がいる。彼は金を求めて陸奥にまで出向いたが、その途中に鎌倉で源頼朝と直接対面し、歌の心得や出家した心境を語ったとされる。この時 は、間もなく70歳になろうとしていた。

問9 空欄 に入る語句の組合せとして正しいものを、次の①～④の中から一つ選んでマークしなさい。

- ① カ 平重衡 キ 愚管抄 ② カ 平重衡 キ 玉葉
③ カ 平忠盛 キ 愚管抄 ④ カ 平忠盛 キ 玉葉

問10 空欄 に入る人名として正しいものを、次の①～④の中から一つ選んでマークしなさい。

- ① 重源 ② 明恵 ③ 源信 ④ 叡尊

問11 空欄 に入る人物として正しいものを、次の①～④の中から一つ選んでマークしなさい。

- ① 鴨長明 ② 無住 ③ 藤原定家 ④ 西行

D 足利幕府が創設されて間もない時期には、將軍尊氏と弟の が、いわば二頭体制で政治を執りおこなっていた。しかし、やがて両者の対立が深まり、尊氏は執事の らとともに、 の一派と激しい戦いを繰りひろげた。さらに、 の養子である直冬が九州で挙兵すると、戦いは全国の武將を巻き込んでいった。しかし、1352年、 が鎌倉で捕らえられた直後に急死すると、この混乱は一応の終息を見た。この大規模な戦闘を という。これ以後、幕府は尊氏とその子 のもとで運営されていったが、南朝との対立を含め、依然として不安定な政治状況が続いた。

問12 空欄 (解答番号) (解答番号)
(解答番号)に入る人名として正しいものを、次の①～⑧の中から一つ
選んでマークしなさい。

- ① 義教 ② 持氏 ③ 義詮 ④ 直義
⑤ 今川了俊 ⑥ 新田義貞 ⑦ 北畠親房 ⑧ 高師直

問13 空欄 に入る語句として正しいものを、次の①～④の中から一つ
選んでマークしなさい。

- ① 正中の変 ② 文法の和談 ③ 観応の擾乱 ④ 元弘の変

Ⅱ 次の(1)~(4)について、それぞれの設問に答えなさい。(解答番号 16 ~ 35)

(1) 次の文章を読んで、後の問に答えなさい。

足利 は、明と国交をひらくため、1401年側近の僧 を正使、博多商人肥富を副使として派遣した。日本からの国書に対し、翌年明の皇帝は「日本国王源道義」あての返書と、明の を与えた。それに答えて1403年 は自ら「日本国王臣源」と名乗って明への臣従の意向を示し、翌年から朝貢の形式をとる日明貿易が始まった。遣明船は、貿易統制のため明が交付した勘合とよばれる証票③を持参しなければならなかった。勘合は、明からの船は「 勘合」、日本からの船は「 勘合」を持参し、底簿と照合した。

問 1 空欄 に該当するものはどれか。次の①~④の中から一つ選んでマークしなさい。 16

- ① 尊氏 ② 義政 ③ 義満 ④ 義教

問 2 空欄 に該当するものはどれか。次の①~④の中から一つ選んでマークしなさい。 17

- ① 俊寛 ② 絶海中津 ③ 夢窓疎石 ④ 祖阿

問 3 空欄 に該当するものはどれか。次の①~④の中から一つ選んでマークしなさい。 18

- ① 宣明暦 ② 三島暦 ③ 大統暦 ④ 貞享暦

問 4 空欄 ・ に該当するものとして、正しい組合せはどれか。次の①~④の中から一つ選んでマークしなさい。 19

- ① エ本字 オ日字 ② エ日字 オ本字
③ エ明字 オ本字 ④ エ日字 オ明字

問 5 下線部④について、日本からの輸出品として正しくないものはどれか。

次の①～④の中から一つ選んでマークしなさい。 20

- ① 硫黄 ② 銅錢 ③ 刀剣 ④ 蒔絵

(2) 次の史料を読んで後の問に答えなさい。

〔 定

一、日本ハ神国たる処、 国より邪法を授け候儀、太以て然るべからず候事。

一、其国郡の者を近付け門徒になし、神社仏閣を打破るの由、前代未聞に候。……

一、、其知恵の法を以て、心ざし次第二檀那を持ち候と思召され候へハ、右の如く日域の仏法を相破る事曲事に候条、の儀、日本の地ニハおかせられ間敷候間、今日より廿日の間ニ用意仕り帰国すべく候。……

一、黒船の儀ハ商売の事に候間、各別に候の条、年月を経、諸事売買いたすべき事。」(松浦文書)

問 6 空欄 に該当するものはどれか。次の①～④の中から一つ選んでマークしなさい。 21

- ① きりしたん ② 南蛮 ③ 紅毛 ④ 仏教

問 7 空欄 に該当するものはどれか。次の①～④の中から一つ選んでマークしなさい。 22

- ① きりしたん ② 伴天連 ③ 甲比丹 ④ いるまん

問 8 下線部⑥はどこの国の船をさすか。次の①～④の中から一つ選んでマークしなさい。 23

- ① イギリス・オランダ ② 明
③ アメリカ ④ ポルトガル・スペイン

問 9 この法令がだされたのは何年か。次の①～④の中から一つ選んでマークしなさい。 24

- ① 1577年 ② 1587年 ③ 1588年 ④ 1590年

問10 この法令を出したのは誰か。次の①～④の中から一つ選んでマークしなさい。 25

- ① 織田信長 ② 豊臣秀吉 ③ 徳川家康 ④ 徳川家光

(3) 次のA～Cの史料を読んで後の問に答えなさい。

A 「 条々 長崎

一、異国江日本の船遣すの儀、堅く停止の事。

一、日本人異国江遣し申す間敷候。若忍び候て乗渡る者之有るに於ては、其者は死罪、其舟并船主共二とめ置き、言上仕るべき事。……

一、異国船つみ来り候白糸、直段を立候而、残らず五ヶ所其外書付の所割符仕るべき事。】(『教令類纂』)

B 「一、日本国御制禁成され候吉利支丹宗門の儀、其趣を存知ながら、彼の法を弘むるの者、今に密々差渡るの事。

……自今以後、かれうた渡海の儀、之を停止せられ訖。此上若し差渡るニおゐてハ、其船を破却し、并乗来る者速に斬罪に処せらるべきの旨、仰せ出さるる者也。(『御当家令条』)

C 「一、異国え 力 の外、舟遣すの儀、堅く停止の事」(『武家厳制録』)

問11 史料ABCについて、発令された順に正しく並んでいるのはどれか。次の①～④の中から一つ選んでマークしなさい。 26

- ① A→B→C ② B→C→A
③ C→A→B ④ C→B→A

問12 下線部◎について、該当するものはどれか。次の①～④の中から一つ選んでマークしなさい。 27

- ① 木綿糸 ② 麻糸 ③ 毛糸 ④ 生糸

問13 下線部㉑について、該当しないものはどれか。次の①～④の中から一つ選んでマークしなさい。 [28]

- ① 江戸 ② 博多 ③ 長崎 ④ 堺

問14 下線部㉒について、どこの国の船をさしているか。次の①～④の中から該当するものを一つ選んでマークしなさい。 [29]

- ① ポルトガル ② スペイン ③ オランダ ④ アメリカ

問15 史料Cについて、空欄 [カ] に該当するものを次の①～④の中から一つ選んでマークしなさい。 [30]

- ① 朱印船 ② 亀甲船 ③ 奉書船 ④ 弁才船

(4) 次の史料を読んで、後の問に答えなさい。

「…をろしや船の儀に付ては、文化の度改めて相触候次第も候処、

㉑

[キ] の船先年長崎において狼藉に及び、近年は所々え小船にて乗寄、薪

㉒

水食料を乞、去年二至り候ては猥り二上陸致し、或は廻船の米穀、嶋方の野牛等奪取候段、追々横行の振舞、其上邪宗門勅め入候致方も相聞、旁捨て置かれ難き事二候、一体 [キ] 二限らず、南蛮・西洋の儀は、御制禁邪教の国二候間、以来何れの浦方におゐても、異国船乗り寄せ候を見受け候ハバ、其処二有合せ候人夫を以て、有無に及ばず、一匁二打払ひ、逃延び候ハバ、追船等差出すに及ばず、其分二差置き、若し押して上陸致し候ハバ、搦捕り、又は打留め候ても苦しからず候。』(『御触書天保集成』)

問16 空欄 [キ] に該当する国はどこか。次の①～④の中から該当するものを一つ選んでマークしなさい。 [31]

- ① ロシア ② フランス ③ イギリス ④ アメリカ

問17 この法令が出されたのは何年か。次の①～④の中から該当するものを一つ選んでマークしなさい。 [32]

- ① 1807年 ② 1825年 ③ 1842年 ④ 1853年

問18 下線部㉑について、1804年アレクサンドル1世の遣日使節として日本に來航した人物は誰か。次の①～④の中から該当するものを一つ選んでマークしなさい。 33

- | | |
|---------|----------|
| ① レザノフ | ② ラックスマン |
| ③ ゴローニン | ④ ビッドル |

問19 下線部㉒について、この事件をなんというか。次の①～④の中から該当するものを一つ選んでマークしなさい。 34

- | | |
|------------|--------------|
| ① フェートン号事件 | ② モリソン号事件 |
| ③ シーボルト事件 | ④ サン＝フェリペ号事件 |

問20 天保期に、この史料にみられる幕府の對外政策を批判した人物は誰か。次の①～④の中から該当するものを一つ選んでマークしなさい。 35

- | | | | |
|--------|--------|---------|--------|
| ① 西川如見 | ② 杉田玄白 | ③ 高山彦九郎 | ④ 渡辺華山 |
|--------|--------|---------|--------|

Ⅲ 近代国家建設において幕藩体制にかわる近代統治機構の整備は、明治政府の最も重要な課題の一つであった。大日本帝国憲法(明治憲法)と日本国憲法(現行憲法)の制定過程についての以下の文を読み、問に答えなさい。(解答番号 36～50)

明治の新体制下では、幕藩体制を支えていた制度の抜本的な変革が早期に行われた。1869(明治2)年 ア によって幕藩体制下の藩主と藩士の主従関係を解消し、1871(明治4)年 イ によって藩主の支配に終止符をうち、1873(明治6)年以降の ウ によって元藩主・藩士への政府からの支給金を整理していった。こうして旧体制を支えた武士の特権を新政権発足早々に廃止したのである。

1882(明治15)年、エ は憲法調査のためヨーロッパに派遣された。ドイツ流の憲法学を学ぶために訪れた エ に対し、ドイツ皇帝は、「ドイツの貴族は自己の領地の大半をなお世襲財産として所有している。日本では諸侯を廃し、士族の権利も著しく減殺げんさいされたというが、過激に過ぎる改革ではないか」という趣旨の感想を述べたという。

確かに、各地で生じた士族の反乱は、この「過激」な政策に対する旧特権層の抵抗と見ることもできるが、^㉔1877(明治10)年の西南戦争を最後にこれも終結した。そもそも、イ のわずか4ヶ月後に、政府の主要メンバーが大挙して欧米視察に出かける余裕をもちえたことも、特筆すべきことであった。

エ は帰国後、^㉕憲法制定とこれに基づく国会開設の準備を進めた。エ を中心に非公開で憲法草案が起草され オ の審議にかけられた。1889(明治22)年2月11日、大日本帝国憲法が公布された。

日本が参考にしたヨーロッパの諸憲法と比較すると、大日本帝国憲法はその条文数が比較的少なく、またその後の改正が日本国憲法の成立まで行われなかったことが特徴として挙げられる。ドイツの憲法をはじめとするヨーロッパの憲法の多くは、特権廃止を進める過程で制定され、特権廃止の進行とともに変更されていった。明治憲法は、主要な特権が廃止された後に制定された点で異なっており、そのことが憲法の特徴にも反映されていると考えられる。

太平洋戦争に敗北した後、日本政府は^㉔連合軍最高司令官総司令部(GHQ)から大日本帝国憲法の改正を指示された。幣原内閣の下、憲法問題調査委員会が設置され、改正案が作られた。東京帝国大学教授(商法)であった を委員長とする同委員会の試案に不満であった GHQ は、自ら英文の改正草案を作成し、政府に提示した。政府はこれを翻訳した上で^㉕修正を加え、政府原案として提出した。新憲法制定の手続は、大日本帝国憲法の改正手続に則って行われ、改正案は衆議院と で修正可決され、日本国憲法として公布された。

大日本帝国憲法第 73 条は、憲法改正について、^㉖天皇による付議に基づき、両議院のそれぞれについて、総議員の 3 分の 2 以上の出席を要し、出席議員の 3 分の 2 以上の賛成で可決されるとしている。これに対し、日本国憲法第 96 条は、各議院の総議員の 3 分の 2 以上の賛成で国会が発議し、国民投票で過半数の賛成を得なければならないとしている。

問 1 空欄 , , に当てはまるものの組合せとして正しいものを選択肢のなかから一つ選び、マークしなさい。

- | | | |
|----------|--------|--------|
| ① ア 秩禄処分 | イ 版籍奉還 | ウ 廃藩置県 |
| ② ア 廃藩置県 | イ 版籍奉還 | ウ 秩禄処分 |
| ③ ア 廃藩置県 | イ 秩禄処分 | ウ 版籍奉還 |
| ④ ア 版籍奉還 | イ 廃藩置県 | ウ 秩禄処分 |

問 2 下線部㉗の例として適当でないものはどれか、次の選択肢のなかから一つ選び、マークしなさい。

- ① 天狗党の乱 ② 佐賀の乱 ③ 萩の乱 ④ 秋月の乱

問 3 下線部㉘を主導したのは誰か、次の選択肢のなかから一つ選び、マークしなさい。

- ① 江藤新平 ② 前原一誠 ③ 西郷隆盛 ④ 板垣退助

問 4 空欄 に当てはまる人物は誰か、次の選択肢のなかから一つ選び、マークしなさい。

- ① 黒田清隆 ② 伊藤博文 ③ 松方正義 ④ 山県有朋

問 5 下線部㉔に関連する記述として誤っているものはどれか、次の選択肢のなかから一つ選び、マークしなさい。

- ① 華族令を定め貴族院の基礎を作った。
② 太政官制を廃止し内閣制度を制定した。
③ 内閣の中に宮内省を設置した。
④ 市制・町村制を定め、地方自治制の基礎を築いた。

問 6 空欄 の人物とともに憲法起草に当たった人物として誤っているものはどれか、次の選択肢のなかから一つ選び、マークしなさい。

- ① 伊東巳代治 ② 後藤新平 ③ 井上毅 ④ 金子堅太郎

問 7 空欄 に当てはまる機関はどれか、次の選択肢のなかから一つ選び、マークしなさい。

- ① 太政官 ② 枢密院 ③ 元老院 ④ 内閣

問 8 下線部㉕に関連して、一定の事項が憲法に規定されていないことも憲法の特徴として指摘しうる。では、次に挙げる事項のうち大日本帝国憲法に定められているものはどれか、選択肢のなかから一つ選び、マークしなさい。

- ① 大日本帝国の領土 ② 摂政の制度
③ 元老院の設置 ④ 言論の自由

問 9 いわゆる GHQ の五大改革に含まれないものはどれか、次の選択肢のなかから一つ選び、マークしなさい。 44

- ① 経済機構の民主化
- ② 労働者の団結権の保障
- ③ 教育の民主化
- ④ 国家と神道の分離

問10 空欄 に当てはまる人物は誰か、次の選択肢のなかから一つ選び、マークしなさい。 45

- ① 南原繁
- ② 田中耕太郎
- ③ 松本丞治
- ④ 我妻栄

問11 空欄 に当てはまるものはどれか、次の選択肢のなかから一つ選び、マークしなさい。 46

- ① 元老院
- ② 参事院
- ③ 参議院
- ④ 貴族院

問12 下線部①の政府による修正について正しいものはどれか、次の選択肢のなかから一つ選び、マークしなさい。 47

- ① 議会を二院制とした。
- ② 両性の平等が加えられた。
- ③ 第9条第2項に「前項の目的を達するため」という文言が加えられた。
- ④ 天皇の統治権を認めた。

問13 下線部②について、大日本帝国憲法の規定するところとして誤っているものはどれか、次の選択肢のなかから一つ選び、マークしなさい。 48

- ① 天皇は条約の締結を行うことができる。
- ② 天皇は緊急勅令を制定することができる。
- ③ 天皇は議会の解散ができる。
- ④ 天皇の地位は臣民の総意に基づく。

問14 日本国憲法に規定されていない事項はどれか、次の選択肢のなかから一つ
選び、マークしなさい。 49

- ① 日本の領土
- ② 象徴天皇制
- ③ 戦争の放棄
- ④ 裁判官の国民審査

問15 次のなかで誤っているものはどれか、選択肢のなかから一つ選び、マーク
しなさい。 50

- ① 大日本帝国憲法においても日本国憲法においても三権分立が定められている。
- ② 皇位継承の方法を定める皇室典範は憲法とは別に定められた。
- ③ 大日本帝国憲法も日本国憲法も国家元首について明示する規定がある。
- ④ 大日本帝国憲法も日本国憲法も第一条は天皇について定めている。

