

日 本 史

注 意

1. 問題は全部で13ページである。
2. 解答用紙に氏名・受験番号を忘れずに記入すること。(ただし、マーク・シートにはあらかじめ受験番号がプリントされている。)
3. 解答はすべて解答用紙に記入すること。
4. 問題冊子の余白等は適宜利用してよいが、どのページも切り離してはいけない。
5. 解答用紙は必ず提出のこと。この問題冊子は提出する必要はない。

マーク・シート記入上の注意

1. 解答用紙(その1)はマーク・シートになっている。HBの黒鉛筆またはシャープペンシルを用いて記入すること。
2. 解答用紙にあらかじめプリントされた受験番号を確認すること。
3. 解答する記号・番号の○を塗りつぶしなさい。○で囲んだり×をつけたりしてはいけない。

解答記入例(解答が1のとき)

1	<input checked="" type="radio"/>	②	③	④	⑤	⑥	⑦	⑧	⑨	⑩
---	----------------------------------	---	---	---	---	---	---	---	---	---

4. 一度記入したマークを消す場合は、消しゴムでよく消すこと。×をつけても消したことになる。
5. 解答用紙をよごしたり折り曲げたりしないこと。

I

次の史料〔I〕～〔III〕と文章【A】・【B】を読んで後の問いに答えなさい。

〔史料Ⅲ〕

夫れ楽浪海中に倭人有り、分れて百余国と為る。歳時を以て来り献見すと云ふ。

〔史料Ⅱ〕

建武中元二年、倭の奴国、貢を奉じて朝賀す。使人、自ら大夫と称す。倭国の極南界なり。光武、賜ふに印綬を以てす。安帝の永初元年、倭の国王 イ 等、生口百六十人を献じ、請見を願ふ。

〔史料Ⅰ〕

倭人は带方の東南大海の中に在り、山島に依りて国邑を為す。旧百余国、漢の時朝見する者有り、今使訳通する所三十国。(中略)其の国、本亦男子を以て王と為す。住まること七、八十年。倭国乱れ、相攻伐すること歴年、乃ち共に一女子を立てて王と為す。名を卑弥呼と曰ふ。 ア を事とし、能く衆を惑はす。

(中略)景初二年六月、倭の女王、大夫難升米等を遣はし郡に詣り、天子に詣りて朝献せんことを求む。

問 1 史料Ⅰの空欄 ア にあてはまる語句を解答用紙(その2)に記しなさい。

問 2 史料Ⅱの空欄 イ にあてはまる語句を解答用紙(その2)に記しなさい。

問 3 史料Ⅲに書かれている「楽浪」とはどこに位置しているのか、①～④の中から一つ選び、解答用紙(その1)にマークしなさい。(解答番号 1)

- ① 朝鮮半島南部
- ② 朝鮮半島東北部
- ③ 朝鮮半島東部
- ④ 朝鮮半島北西部

問 4 史料Ⅰの史料名を①～④の中から一つ選び、解答用紙(その1)にマークしなさい。(解答番号)

- ① 『漢書』地理志
- ② 『宋書』倭国伝
- ③ 『後漢書』東夷伝
- ④ 『魏志』倭人伝

問 5 史料Ⅰにある「帯方」を313年に支配下に入れた国を、①～④の中から一つ選び、解答用紙(その1)にマークしなさい。(解答番号)

- ① 高句麗
- ② 高麗
- ③ 新羅
- ④ 加羅

問 6 史料Ⅰの景初二年は三年の誤りとされている。三年は西暦何年にあたるのか、①～④の中から選びなさい。(解答番号)

- ① 32年
- ② 139年
- ③ 234年
- ④ 239年

問 7 史料Ⅱの建武中元二年とは西暦何年にあたるのか、①～④の中から選びなさい。(解答番号)

- ① 14年
- ② 57年
- ③ 107年
- ④ 236年

問 8 史料Ⅰ～Ⅲの時代に該当する弥生時代の遺跡の特徴に関する組み合わせとして不適当なものを①～④の中から選びなさい。(解答番号)

- ① 環濠集落・吉野ヶ里遺跡
- ② 高地性集落・紫雲出山遺跡
- ③ 環状集落・荒神谷遺跡
- ④ 特殊器台・楯築墳丘墓

【A】 室町時代，産業の発達や商品流通が発展するにつれて，貨幣の流通も大きく広がった。年貢などの税も銭で納めることが多くなった。中世の日本では銭を発行することはなく中国で発行された宋銭や明銭を輸入して使用していた。

問 9 明から輸入していた明銭を①～④の中から選びなさい。(解答番号 7)

- ① 開元通宝 ② 洪武通宝 ③ 天聖元宝 ④ 元祐通宝

問10 銭が多く流通するようになると模鑄銭や粗悪なものも多く出回るようになり，そうした銭の受け取りを拒否する行為もあらわれた。この受け取り拒否を何と呼んだか，①～④の中から選びなさい。(解答番号 8)

- ① 替 銭 ② 撰 銭 ③ 間 銭 ④ 穎 銭

問11 この時期，貨幣経済の発達により富裕な商工業者に高利貸業を兼ねるものがあらわれた。この高利貸業者を何と呼ぶか，①～④の中から選びなさい。(解答番号 9)

- ① 問 屋 ② 札 差 ③ 掛 屋 ④ 土 倉

【B】 遠隔地交易が進むにつれて，北海道などからの珍しい物産も本州に運ばれるようになり，日本海交易は畿内や東北・北海道を結ぶ大きな役割を果たすことになる。

問12 すでに14世紀には北海道から数多くの物産が京都にもたらされていたと言われている。その物を①～④の中から選びなさい。(解答番号 10)

- ① 鮭・昆布 ② 帆立貝・海豹
③ 昆布・海松貝 ④ 帆立貝・海松貝

問13 北海道の南部に本州から進出した人々は各地に道南十二館と呼ばれた居留地を建て、そこで交易をおこなっていた。十二館に入らないものを①～④の中から選びなさい。(解答番号 11)

- ① 志苔館 ② 花沢館 ③ 茂別館 ④ 尻八館

問14 本州から進出した和人は古くから北海道に住んでいたアイヌ民族を圧迫するようになり、これに耐えかねたアイヌ民族はコシャマインを中心として蜂起し、まもなくしずめられた。蜂起した年を①～④の中から選びなさい。(解答番号 12)

- ① 1447年 ② 1457年 ③ 1477年 ④ 1487年

II

次の文章A・Bを読んで、後の設問に答えなさい。

A：一揆とは、武士や農民が特定の目的の下に地域的集団を結成することをいう。血縁ではなく地縁的結合によるところが特徴で、神仏に誓約して一味同心^㉑の集団をつくっていった。中世の土一揆は、荘園領主・守護大名に対する年貢・夫役の減免要求、高利貸業者と結ぶ幕府への徳政要求など、経済闘争が主だった。この時期の土一揆としては、Ⅰ～Ⅲに記したようなものがある。

Ⅰ：この年、将軍 が殺される事件が起こったが、その後、新将軍就任に当たって、代始めの徳政を要求する一揆が起こった。

Ⅱ：近江の の蜂起を契機に畿内一带に波及したこの一揆のことは、大和国 の徳政碑文にも記されている。

Ⅲ：播磨一国の土民が蜂起したもので、守護軍退去を要求したが、守護 がこれを鎮圧した。

問 1 下線部^㉑に関連して、氏神・鎮守の祭祀などを行い、惣結合の中心的役割を果たした神社の氏子組織をなんというか。漢字で書きなさい。解答用紙(その2)を用いること。

問 2 下線部^㉑に関連して、契約し合った内容を守ることを神仏に誓い、違反した場合は神仏の罰を受けることを記した証拠文書のことをなんというか、一つ選んでマークしなさい。解答用紙(その1)を用いること(解答番号)。

- ① 頼母子 ② 百姓申状 ③ 起請文 ④ 綸旨

問 3 空欄 に入る将軍について述べた文章として正しいのはどれか、一つ選んでマークしなさい。解答用紙(その1)を用いること(解答番号)。

- ① 上杉禅秀の乱を鎮め、鎌倉公方持氏を抑えた。
- ② 日明間の国交開始による勘合貿易を実現した。
- ③ 将軍職を辞した後、東山に隠棲し、芸能者・文化人を庇護した。
- ④ 天台座主から還俗して将軍になった。

問 4 空欄 に入る語句として正しいものを一つ選んでマークしなさい。解答用紙(その1)を用いること(解答番号)。

- ① 車借 ② 馬借 ③ 足軽 ④ 博勞

問 5 空欄 に入る語句として正しいものを一つ選んでマークしなさい。解答用紙(その1)を用いること(解答番号)。

- ① 柳生郷 ② 阿氏河莊 ③ 東郷莊 ④ 今堀郷

問 6 空欄 に入る人名として正しいものを一つ選んでマークしなさい。解答用紙(その1)を用いること(解答番号)。

- ① 細川勝元 ② 山名持豊 ③ 石田三成 ④ 赤松満祐

問 7 I～IIIの文章を古い順番に並べたものとして正しいものを一つ選んでマークしなさい。解答用紙(その1)を用いること(解答番号)。

- ① I—II—III ② I—III—II ③ II—I—III
- ④ II—III—I ⑤ III—I—II ⑥ III—II—I

B：江戸時代は民衆の文化が花開いた時代でもあった。

庶民の娯楽の代表は歌舞伎と相撲であり、初期には人形浄瑠璃が人気だったが^㉑、18世紀後半から江戸を中心に歌舞伎が隆盛を極めていった^㉒。近世前半には武家だけが楽しむ娯楽だった相撲も、庶民からの欲求が強くなり、1744年には幕府が四季^㉓ 相撲を公認し、江戸・京・大坂の三都で、全国の力士が集まって合同の興行が行われた。

また、江戸時代後期の文学は、身近なできごとが題材とされ、出版物や貸本屋が普及したこともあって広く民衆のものになった^㉔。さらに、湯治や物見遊山^㉕ など庶民の旅も広く行われ、寺社参詣もさかんになり^㉖、名所・寺社・旧跡や街道・宿駅を紹介した『名所図会』なども多数刊行された。^㉗

五節句や など、今につながる年中行事も広く行なわれた。

問 8 下線部㉑に関連して、浄瑠璃太夫で、元禄時代に近松門左衛門の『曾根崎心中』などを上演して名声を博し、新たな語り口を創始した人物として正しいものを一つ選んでマークしなさい。解答用紙(その1)を用いること(解答番号)。

- ① 高三隆達
- ② 竹本義太夫
- ③ 辰松八郎兵衛
- ④ 常磐津文字太夫

問 9 下線部㉒に関連して、幕府から興行を公認された江戸三座が浅草の猿若町に移された時期として正しいものを一つ選んでマークしなさい。解答用紙(その1)を用いること(解答番号)。

- ① 元禄
- ② 享保
- ③ 安永
- ④ 寛政
- ⑤ 天保

問10 下線部㉓の 相撲とは、元来神社修復などの名目で観覧料をとって興行する職業相撲のことをいったが、空欄 に入る語句として正しいものを一つ選んでマークしなさい。解答用紙(その1)を用いること(解答番号)。

- ① 巡礼
- ② 開帳
- ③ 縁日
- ④ 勧進

問11 下線部㉔に関連して、江戸新吉原に本屋を開業し、黄表紙・洒落本・狂歌本・錦絵などを版元として刊行し、山東京伝の作品を出版して処分を受けたのは次のどれか、一つ選んでマークしなさい。解答用紙(その1)を用いること(解答番号)。

- ① 蔦屋 ② 須原屋 ③ 淀屋 ④ 越後屋

問12 下線部㉕に関連して、三河の国学者で40年にわたって東北各地を旅し、その見聞記を残した人物の名前を漢字で書きなさい。解答用紙(その2)を用いること。

問13 下線部㉖に関連して、初代市川団十郎が、出身地の不動尊霊験記を上演したためにその信仰が広まり、各地に講が組織され参詣が盛んになったのはどの寺か、一つ選んでマークしなさい。解答用紙(その1)を用いること(解答番号)。

- ① 善光寺 ② 金毘羅宮 ③ 久遠寺 ④ 新勝寺

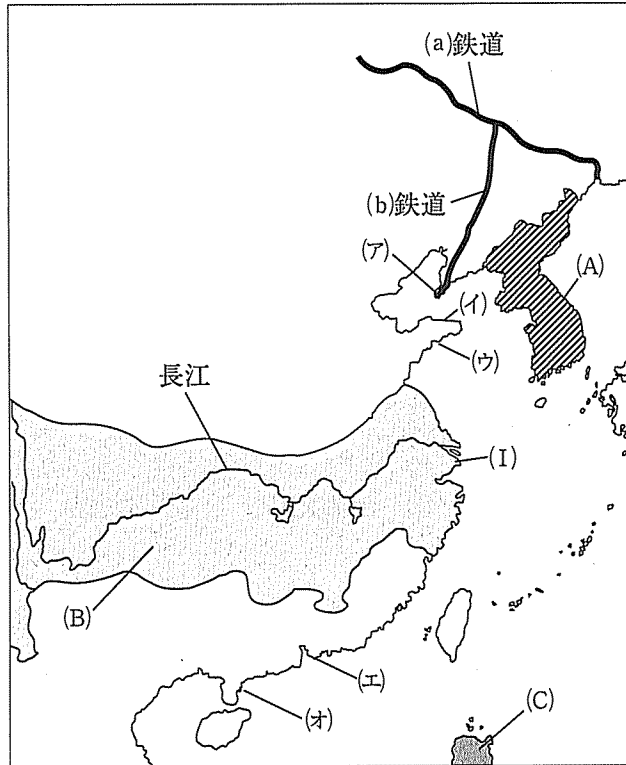
問14 空欄 は陰暦7月15日に祖先の霊を祀る供養のことだが、空欄 に入る語句として正しいものを一つ選んでマークしなさい。解答用紙(その1)を用いること(解答番号)。

- ① 彼岸会 ② 盂蘭盆会 ③ 中秋 ④ 端午

III


以下の地図ならびに史料について、それぞれ後の問に答えなさい。

【地図】 この地図は、日清戦争後の列強による中国分割が進行している頃の東アジアについて、一部の列強の勢力範囲などを簡略化してあらわしたものである。



問 1 地図中(a)鉄道の名称を記しなさい(漢字2文字)。解答用紙(その2)を用いること。

問 2 地図中(b)鉄道の名称を記しなさい(漢字3文字)。解答用紙(その2)を用いること。

問 3 地図中(A)  の国家が1897年に定めた国号を記しなさい(漢字4文字)。解答用紙(その2)を用いること。

問 4 ドイツが1898年に租借した地名を、次の選択肢の中から一つ選び、マークしなさい。解答用紙(その1)を用いること(解答番号 **25**)。

- ① 大連港 ② 威海衛 ③ 広州湾 ④ 上海 ⑤ 膠州湾

問 5 問4のドイツが租借した地域が地図中の記号(ア)~(オ)のどこにあたるかを選び、その記号を次の選択肢の中から一つ選びマークしなさい。解答用紙(その1)を用いること(解答番号 **26**)。


- ① (ア) ② (イ) ③ (ウ) ④ (エ) ⑤ (オ)

問 6 フランスが1899年に租借した地名を、次の選択肢の中から一つ選び、マークしなさい。解答用紙(その1)を用いること(解答番号 **27**)。


- ① 大連港 ② 威海衛 ③ 広州湾 ④ 上海 ⑤ 膠州湾

問 7 問6のフランスが租借した地域が地図中の記号(ア)~(オ)のどこにあたるかを選び、その記号を次の選択肢の中から一つ選びマークしなさい。解答用紙(その1)を用いること(解答番号 **28**)。

- ① (ア) ② (イ) ③ (ウ) ④ (エ) ⑤ (オ)

問 8 地図中、(B)  の地域を勢力範囲としている国家を次の選択肢の中から一つ選びその記号をマークしなさい。解答用紙(その1)を用いること(解答番号 **29**)。

- ① 日本 ② ロシア ③ フランス
④ アメリカ ⑤ イギリス

問 9 地図中(C)  の地域を領有した国家の國務長官は、中国に関して通商の自由などの提案をしたが、その人物を、次の選択肢の中から一つ選びその記号をマークしなさい。解答用紙(その1)を用いること(解答番号 **30**)。

- ① セオドア=ローズヴェルト ② ジョン=ヘイ
③ ウィットエ ④ ランシング

終りに あ ハ支那南北ノ注意ヲ喚起シタルモノノ如クナルヲ以テ此機ヲ利用シ各位帰任ノ上ハ文武各官協力以テ対支諸問題乃至懸案ノ解決ヲ促進スルコトトシ、本会議ヲシテ益々有意義ナラシムルニ努メラレタク、^{はなまた} 蔣又叙上我対支政策実施ノ具体的方法ニ関シテハ各位ニ対シ本大臣ニ於テ別ニ協議ヲ遂クル所アルヘシ

(『日本外交年表並主要文書』)

問11 空欄 あ には、この綱領を審議・決定した会議名があてはまる。その会議名を記しなさい。解答用紙(その2)を用いること。

問12 下線部 此間支那ノ政情不安 とは、中国の統一を目指して北方の諸軍閥を制圧しようとする民族運動の高まりをさすものであるが、この運動を推進した勢力を、次の選択肢の中から一つ選び、マークしなさい。解答用紙(その1)を用いること(解答番号 32)。

- ① 国民革命軍 ② 奉天軍閥 ③ 東路軍 ④ 抗日人民軍

問13 下線部 帝国政府 にあたる当時の内閣総理大臣を、次の選択肢の中から一つ選び、マークしなさい。解答用紙(その1)を用いること(解答番号 33)。

- ① 若槻礼次郎 ② 清浦奎吾 ③ 田中義一 ④ 浜口雄幸

問14 下線部 帝国政府 の内閣は、何を基盤とする内閣であるか、次の選択肢の中から一つ選び、マークしなさい。解答用紙(その1)を用いること(解答番号 34)。

- ① 貴族院 ② 立憲民政党 ③ 憲政会 ④ 立憲政友会

問15 下線部 断乎トシテ自衛ノ措置 に相当するこの時の内閣によって行われた軍事行動を、次の選択肢の中から一つ選び、マークしなさい。解答用紙(その1)を用いること(解答番号 35)。

- ① 山東出兵 ② 柳条湖事件
③ 上海事変 ④ シベリア出兵

問16 下線部東三省地方とは、「満州」とも呼ばれるが、「東三省」に含まれないものを、次の選択肢の中から一つ選び、マークしなさい。解答用紙(その1)を用いること(解答番号 36)。

- ① 黒龍江省 ② 吉林省 ③ 遼寧(奉天)省 ④ 浙江省

問17 この綱領は、満州・内蒙古を中国本土と切り離して日本の勢力下に置くことを記しているが、そうした考えをさらに謀略によって進めようとして関東軍が独断で暗殺した人物を、次の選択肢の中から一つ選び、マークしなさい。解答用紙(その1)を用いること(解答番号 37)。

- ① 蔣介石 ② 張作霖 ③ 袁世凱 ④ 段祺瑞

問18 謀略による暗殺事件の結果として正しいものを、次の選択肢の中から一つ選び、マークしなさい。解答用紙(その1)を用いること(解答番号 38)。

- ① 暗殺された人物の後継者は、勢力下にあった満州を国民政府の支配下にある土地と認めた。
- ② 暗殺された人物の後継者は、日本軍の支配下に入り、満州には傀儡国家がつくられた。
- ③ 暗殺された人物の後継者は、満州の支配を続け、国民政府と対立を続けた。
- ④ 暗殺された人物の後継者は決まらず、支配下にあった土地は諸外国に分割された。

