

I 日本史問題

注 意

1. 試験開始の指示があるまでこの問題冊子を開いてはいけません。
2. 解答用紙はすべてHBの黒鉛筆またはHBの黒のシャープペンシルで記入することになっています。HBの黒鉛筆・消しゴムを忘れた人は監督に申し出てください。(万年筆・ボールペン・サインペンなどを使用してはいけません。)
3. この問題冊子は16ページまでとなっています。試験開始後、ただちにページ数を確認してください。なお、問題番号はI・IIとなっています。
4. 解答用紙にはすでに受験番号が記入されていますので、出席票の受験番号が、あなたの受験票の番号であるかどうかを確認し、出席票の氏名欄に氏名のみを記入してください。なお、出席票は切り離さないでください。
5. 解答は解答用紙の指定された解答欄に記入し、その他の部分には何も書いてはいけません。
6. 解答用紙を折り曲げたり、破ったり、傷つけたりしないように注意してください。
7. この問題冊子は持ち帰ってください。

マーク・センス法についての注意

マーク・センス法とは、鉛筆でマークした部分を機械が直接よみとって採点する方法です。

1. マークは、下記の記入例のようにHBの黒鉛筆で枠の中をぬり残さず濃くぬりつぶしてください。
2. 1つのマーク欄には1つしかマークしてはいけません。
3. 訂正する場合は消しゴムでよく消し、消しくずはきれいに取り除いてください。

マーク記入例：

A	1	2	3	4	5
	○	○	●	○	○

(3と解答する場合)

I. 次の文1～8を読み、下記の設問A～Cに答えよ。解答は解答用紙の所定欄にしるせ。

1. 図1・2は、『梁職貢図』に描かれた百済使と倭国使である。『梁職貢図』の原図は、中国南朝梁（502～557年）の初代武帝即位40年を記念し梁に朝貢する使節像を描いたものとされ、図1・2は（イ）の熙寧10年、つまり西暦1077年に模写されたものの一部である。しかし、威儀を正した百済使（図1）と比較して倭国使（図2）の姿が極めて貧相であることには、疑問も湧こう。じつは倭が梁に朝貢した事実はなく、かつて讚・珍・< あ >・興・武のいわゆる倭の五王が中国に朝貢した際の使節の服飾の記憶も失われていて、図2はそれ以前の倭の記録をもとに描かれたと推測されている。

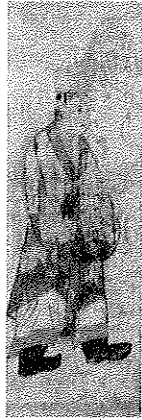


図1



図2

2. 『日本書紀』推古紀には男性の服飾に関する次のような記述がある。

「11年12月、始めて冠位を行う。大徳・小徳、大< い >・小< い >、大礼・小礼、大信・小信、大義・小義、大智・小智、あわせて12階。並びに当色のきぬの繩を以て縫えり」、
 「16年秋8月、唐客京に入る（中略）亦た衣服は皆、錦・
むらさき・ぬいもの・おりもの・あやうすはた及び5色の綾羅を用いる」。

しかし、女性の服飾についての記述はない。時代はやや下るが、古代日本の女性の服飾を示す



図3

ものとされたのが図3の女性群像であった。この女性の服飾は、夫であった厩戸王の死後の様子を知りたいという橘大郎女の願いによって制作されたという『（1）』の女性服飾と類似するともいわれるが、中国や朝鮮半島の古墳壁画に描かれた女性服飾の影響も指摘されていて、古代日本の女性服飾を正確に伝えているかについては議論が分

かれる。なお、図3の人物像は上着を左前に着ているが、元正天皇のとき、⁵⁾ 衿を右前に合わせるようにとの命令が下されている。

3. 図4・5は、『後鳥羽上皇像』などを描き似絵の名手とされたく う が描いたといわれる『三十六歌仙絵巻』から選んだ。「三十六歌仙」とは、藤原公任が和歌の名人を選んだ『三十六人撰』に載っている36人の総称である。図4は⁶⁾ 笏を手にした（ハ）姿の紀友則像、図5は唐衣に裳をつけたく え 姿の小野小町像で、ともに平安時代の貴族の正装である。小野小町が後向きに描かれているのは、絶世の美女とされたその容姿を鑑賞者の想像に委ねるためだという。



図4




図5

4. 図6は、後白河法皇が常盤光長に描かせたとされる『伴大納言絵巻』の一部である。⁷⁾ 丸衿で脇の下があき広い袖口をくくったく お を身に着けた男性の姿は、院政期の一般男性の姿を描いたものと考えられている。この『伴大納言絵巻』は応天門の変を描いた作品で、当初応天門放火の犯人と疑われた左大臣家の人々が嘆き悲しむ様子や、その後に子供の喧嘩から露見した放火の真犯人が検非違使によって捕捉される様子などが描かれている。



図6

律令には、司法を担当する役所、役人の監察を担当する（ニ）、都に関わる行政・治安・司法を統括する役所等の官庁が規定されていたが、検非違使はこれらの職掌を次第に吸収し、後白河法皇の時代には大きな権力を振るうようになっていた。しかし承久の乱後に鎌倉幕府がく か を設置すると弱体化し、室町時代には、管領の統轄下の役所であるく き が都の警備に関する権限を掌握した。

5. 図7は、織田信長の妹、市の肖像画である。

信長は1560年に桶狭間の戦いで今川氏を破って以来、(ホ)年の本能寺の変で落命するまで統一事業を進めたが、その過程で(ヘ)と⁹⁾市を結婚させ友好関係を結んだ。しかしやがて友好関係は断絶し、信長は1573年に小谷城を攻めさせて(ヘ)を自刃に追い込んだ。市は信長没後に柴田勝家と再婚するが、豊臣秀吉と対立した勝家が< >の戦いに敗れ、勝家



図7

とともに越前北庄城内で自害した。小袖を着たこの市の肖像画は、彼女の7回忌法要に際して描かれ、高野山持明院に奉納された。

6. 図8は菱川師宣の『見返り美人図』、図9は錦絵を創作した(ト)の『弾琴美人』である。『見返り美人図』には、紅地に菊と桜の刺繍^{しゅう}を施した小袖を着た女性が幅広の帯を後ろで片結びしている。この帯は、歌舞伎の女形である初代上村吉彌が舞台上で締めた「吉弥結び」をまねたもので、この頃大流行した¹⁰⁾という。これ以降、女性の帯は次第に幅広となり材質や結び方も種類が増して女装美の中心をなすようになり、また帯を後ろ結びにする風習が広まるなど、日本の女性服飾史にとって画期となった。『弾琴美人』では、細面の女性が打掛を着ている。打掛は、大奥に勤める高位の女性が身に着け、やがて上方や江戸等の富裕な町人女性も婚礼等に着用するようになった。



図8




図9

7. 図10は、歌川広重の『名所江戸百景』から「日本橋通一丁目略図」である。この図の手前右には「釜印」の白木屋呉服店が描かれている。時代は下って、(チ)は小説『浮雲』の冒頭で明治の人々のファッションを次のように揶揄している。「白木屋仕込みの黒物づくめには仏蘭西皮の靴の配偶はありうち、之を召す方様の鼻毛は延びて蜻蛉をも釣るべしといふ」。ここに出てくる白木屋はさきの白木屋呉服店のことで、『浮雲』第1篇出版の前年、1886年に洋服部を創設して男性洋装流行の最先端を行っていた。1932年12月、白木屋百貨店の4階から出火し、女性8人をふくむ14人が死亡、500人余りが重軽傷を負う惨事となった。日本初の高層建築物火災とされるこの火災を契機に、女性の洋装化が大きく進んだとされている。




図10

8. 1955年、分裂していた日本社会党は革新陣営の結束をめざして再統一し、(リ)を委員長に選んだ。これに対して<け>党と自由党も合同し、ここに二大政党体制が誕生した。1960年代の日本は、<こ>を首相とする内閣のもとで発表された所得倍増計画によって高度経済成長が続いた。こうしたなか、1966年のビートルズ、翌年のレズリー・ホーピン(愛称ツイギー、図11)の来日は、日本の服飾文化に大きな影響を与えた。とくにツイギーの来日を機に世代を超えてミニスカートが大ブームとなり、1969年に渡米した首相に同行した夫人がミニスカートを穿いて話題となった。ミニスカート¹²⁾を発表したマリー・クワントは、丈の短いパンツも考案し、これも世界的な流行を博した。図12は、ショートパンツを身に着けた韓国ポピュラー音楽(K-POP)のアイドル、「少女時代」で、日本でも人気が高い。現在の日本では、K-POP以外にも韓国の食事、化粧品などが注目されており、文化移入に関して明治維新以来、欧米一辺倒だった日本人の目がアジア、そして韓国に向けられているということもできるだろう。日本が犯した過去の過ちに起因する両国間の感情的なしこりや偏見は、1965年に(ヌ)大統領政権下の韓国と結ばれた日韓基本条約以降も根強く残ってはいるが、こうした文化理解は将来の日韓の友好親善に寄与するであろう。



図11



図12

A. 文中の空所(イ)～(ヌ)にあてはまる適切な語句または数字を，それぞれ対応する次の a～d から1つずつ選び，その記号をマークせよ。

- | | | | | |
|-----|--------------|------------|----------|----------|
| (イ) | a. 清 | b. 隋 | c. 宋 | d. 唐 |
| (ロ) | a. 正倉院鳥毛立女屏風 | b. 高松塚古墳壁画 | c. 玉虫厨子 | d. 天寿国繡帳 |
| (ハ) | a. 狩衣 | b. 束帯 | c. 直衣 | d. 直垂 |
| (ニ) | a. 京職 | b. 刑部省 | c. 弾正台 | d. 民部省 |
| (ホ) | a. 1576 | b. 1578 | c. 1580 | d. 1582 |
| (ヘ) | a. 浅井長政 | b. 朝倉義景 | c. 陶晴賢 | d. 北条氏康 |
| (ト) | a. 葛飾北斎 | b. 喜多川歌麿 | c. 鈴木春信 | d. 東洲斎写楽 |
| (チ) | a. 尾崎紅葉 | b. 仮名垣魯文 | c. 幸田露伴 | d. 二葉亭四迷 |
| (リ) | a. 浅沼稻次郎 | b. 片山哲 | c. 河上丈太郎 | d. 鈴木茂三郎 |
| (ヌ) | a. 李承晩 | b. 金日成 | c. 全斗煥 | d. 朴正熙 |

B. 文中の空所<あ>～<こ>それぞれにあてはまる適切な語句をしるせ。

C. 文中の下線部1)～12)にそれぞれ対応する次の問1～12に答えよ。

1. 『梁職貢図』の原図が描かれた頃の百済と倭国との関係について，正しいのはどれか。次の a～d から1つ選び，その記号をマークせよ。

- 加耶地域に対する百済の支配権を認めたことが失政とされ，大伴金村が失脚した
- 百済復興支援のため朝鮮半島へ大軍を派遣したが，大敗した

- c. 東漢氏の祖とされる王仁が百済から渡来し、『論語』『千字文』をつたえたという
- d. 倭が海を渡り高句麗に朝貢していた百済を臣民としたと、広開土王（好太王）碑にみられる
2. このとき在位していた天皇は誰か。次の a～d から 1 つ選び、その記号をマークせよ。
- a. 白河天皇 b. 崇徳天皇 c. 鳥羽天皇 d. 堀河天皇
3. これは誰か。その名をしるせ。
4. この説明として正しいのはどれか。次の a～d から 1 つ選び、その記号をマークせよ。
- a. 斑鳩宮を造営して移り住み、蘇我入鹿と議して『国記』『天皇記』などを編んだ
- b. 四天王寺を建立するなど仏教を篤く信仰し、『三経義疏』と総称される法華経・金光明最勝王経・勝鬘経の注釈書を作成した
- c. 蘇我稲目の娘の堅塩媛を母とする用明天皇の子として生まれ、高句麗僧の慧慈を師とした
- d. 蘇我馬子の物部守屋討伐軍に加わり、戦後は即位した崇峻天皇の皇太子となって馬子とともに政治を補佐した
5. この天皇の在位期間の説明として正しいのはどれか。次の a～d から 1 つ選び、その記号をマークせよ。
- a. 大宝律令を施行し、唐から帰国した吉備真備と玄昉を重用した
- b. 東大寺の盧舎那仏造像を発願するなど仏教に深く帰依し、鑑真から戒を受けた
- c. 長屋王を右大臣に任命し、田地の不足を解消するために三世一身法を制定した
- d. 平城京に遷都したが天然痘が大流行し、政情不安のなかで藤原広嗣が挙兵した
6. これが著した有職故実書はどれか。次の a～d から 1 つ選び、その記号をマークせよ。
- a. 公事根源 b. 江家次第 c. 西宮記 d. 北山抄
7. これに関する記述として正しいのはどれか。次の a～d から 1 つ選び、その記号をマークせよ。
- a. 今様と呼ばれた歌謡を好んで『梁塵秘抄』を編み、仏教に傾倒して巖島神社に納めた写経が現存する
- b. 藤原信頼・源義朝の急襲を受けたが、平清盛に命じてこれを追討させた
- c. 源義親や藤原頼長を召集し、平忠正や藤原忠通を召集した崇徳上皇と争った
- d. 源義経に源頼朝追討の院宣を発給したが、挙兵に失敗した義経は藤原清衡をたよって奥州平泉に逃亡した

8. これは誰か。次の a～d から 1 つ選び、その記号をマークせよ。
- a. 橘逸勢 b. 伴善男 c. 藤原仲麻呂 d. 源信
9. これに関わる出来事について、もっとも古いものから年代順に並んでいるのはどれか。次の a～d から 1 つ選び、その記号をマークせよ。
- a. 顕如と和睦 → 安土宗論 → 足利義昭を奉じて入京
b. 天下布武の印判を用いる → 長篠合戦 → 安土城完成
c. 室町幕府の滅亡 → 天目山の戦い → 延暦寺焼打ち
d. 楽市令を出す → 伊勢長島の一向一揆鎮圧 → 稲葉山城の戦い
10. この頃の説明として正しいのはどれか。次の a～d から 1 つ選び、その記号をマークせよ。
- a. 大塩平八郎が、浪人救済を目的に掲げて行動を開始するが、計画が露見して自決した
b. 田沼意次が側用人となり、株仲間の公認など重商主義的政策が進められた
c. 柳沢吉保が側用人となり、湯島聖堂が建立されて文治政治が進められた
d. 由井正雪が、米不足の大坂で「救民」の旗を掲げて決起した
11. このときの首相は誰か。次の a～d から 1 つ選び、その記号をマークせよ。
- a. 犬養毅 b. 岡田啓介 c. 斎藤実 d. 浜口雄幸
12. これに関する記述として正しいのはどれか。次の a～d から 1 つ選び、その記号をマークせよ。
- a. ジョンソン大統領と会談し、米国側は、太平洋における水爆実験により日本漁民が被爆した事件について遺憾の意を表明した
b. ジョンソン大統領と会談し、ソ連の軍事力増強並びにアフガニスタンへの軍事介入に対し憂慮の念を示した
c. ニクソン大統領と会談し、1972年中に沖縄の復帰を達成するよう協議を促進すべきことに合意した
d. ニクソン大統領と会談し、自由な貿易・投資をはばむ日本経済の構造障壁撤廃をめざすこととなった

Ⅱ. 次の文1～4を読み、下記の設問A～Cに答えよ。解答は解答用紙の所定欄にしるせ。

1. 国や地域の発展は、道路・鉄道・港湾など交通基盤施設の整備や交通手段の発展と大きく関わっている。

律令国家の成立とともに、陸上交通の本格的な整備が始まり、都から地方には七道が走り、一定の距離毎に駅家が設置された。鎌倉時代には、幕府があった鎌倉と京都との往来が盛んになり、その旅を描いた旅日記や紀行文などが書かれた。¹⁾

水上交通では、古代から瀬戸内海に大輪田泊など多くの港が設けられ、国内海運の要衝として発展した。また、これらを拠点として日宋貿易が行われ、平氏の経済力を高めることとなった。²⁾

江戸時代には、参勤交代が制度化され、大名行列が江戸を中心に往来するようになった。幕府は、東海道・中山道などの五街道を直轄にし、宿駅を整備した。街道や宿駅の取締りや整備にあたったのは、1659年に設置された（イ）奉行である。こうした交通の整備にともなって、庶民の旅も盛んになった。伊勢神宮や讃岐の（ロ）宮、信濃の善光寺などは、全国から多数の参拝客を集めた。³⁾富士山、御嶽、大山などの山岳信仰も盛んで、講が組織され集団で登山することも行われた。また、四国八十八ヵ所、西国三十三ヵ所などの巡礼も行われた。旅が盛んになった背景には、旅を主題とした滑稽本や紀行文の出版があった。⁴⁾この時期、国内の交通整備は進んだが、海外との交易・交流は中国、オランダ、朝鮮、琉球、蝦夷地に限定された。⁵⁾⁶⁾⁷⁾

2. 明治維新後、政府は富国強兵をめざして欧米の技術を導入し、近代産業の育成に努めた。⁸⁾交通については、関所や宿駅・助郷制度が廃止された。1870年に設置された（ハ）省が中心となって、御雇い外国人の鉄道技師モレルの指導の下に、1872年に新橋・横浜間、ついで神戸・大阪間、大阪・京都間にも鉄道を敷設し、開港場と大都市を結びつけた。そして、東海道線が全通したのは、1889年であった。民営鉄道では、1881年に華族を中心とする民間からの投資によって（ニ）がつくられた。その後、民営鉄道の建設ブームが起き、多くの鉄道が建設されたが、1906年から翌年にかけて、産業上・軍事上の理由から多くの鉄道が国有化された。⁹⁾

日清戦争後、¹⁰⁾繊維産業を中心として、資本主義が本格的に成立するにいたった。また、鉱業や重工業も政府の支援や国営事業により成長が促進された。

日露戦争以降、¹¹⁾満州進出が本格化し、1906年には、関東州を統治する（ホ）が置かれた。また、< あ >を総裁とする半官半民の南満州鉄道株式会社（満鉄）が遼東

半島に位置する（ヘ）に設立された。満鉄は、ロシアから譲り受けた＜イ＞間の旧東清鉄道に加えて、沿線の炭鉱なども経営した。

繊維産業の発達は、外国航路を開いていった。例えば、日本郵船会社によって主に綿花輸入のための＜ウ＞航路や主に生糸輸出のための＜エ＞航路が開かれた。このような産業の発達を背景に政府の政策もあって大型船舶の建造がすすんだ。日本を代表する三菱（ト）造船所が、わが国初の欧州航路常陸丸や太平洋航路の豪華船天洋丸を建造するなど、造船の技術は世界的水準に達した。

3. 第一次世界大戦は、主戦場となったヨーロッパから遠く離れた日本に大戦景気をもたらし、¹²⁾明治末期からの不況と財政危機を一挙に解決した。世界的な船舶の不足によって、海運業・造船業は空前の好況となり、日本は所有する船の総トン数において、世界＜お＞の海運国となった。その中で、海運業者である内田汽船の内田信也、山下汽船の山下亀三郎などのように一挙に巨利を得て¹³⁾富豪になった人がぞくぞくと誕生した。

1872年の開業以来、鉄道の高速化は絶え間なく進んできた。都市内では、市内電車・バスなど新しい交通手段が普及し、¹⁴⁾1927年には、上野・（チ）間に地下鉄が初めて開通した。都市の郊外では、私鉄電車の発達を背景に、都市で働く給与生活者を対象に応接間つきの和洋折衷の（リ）住宅がつくられた。また、休日にはデパートでの買い物や行楽地で遊ぶ風景もみられ、田谷力三などが活躍した（チ）オペラが大衆に親しまれるなど新しい生活文化が数多く登場した。

¹⁵⁾

4. 戦後の復興期を経て、1962年、政府は国土全体の均衡ある発展を図るための計画である（ヌ）を定め、石油化学コンビナート建設などにより地域開発をすすめた。交通網の整備も、おもに政府の手で推進された。1964年の東京オリンピック開催を前に、東海道新幹線や首都高速道路の建設などの公共投資がさかんに行われ、それが民間の設備投資を促進した。一方、自家用車が急速に普及してマイカー時代が到来し、一躍交通手段の主力となった。1965年に（ル）高速道路、1969年には東名高速道路がそれぞれ開通して、交通における自動車の役割が拡大するとともに、高速走行に耐えられるような国産自動車の質の向上がもたらされ、それは先進諸国への輸出拡大の背景ともなった。また、1988年には、青函トンネルと瀬戸大橋が完成して、北海道・本州・四国・九州が陸路で結ばれた。

A. 文中の空所(イ)～(ル)それぞれにあてはまる適当な語句をしるせ。

B. 文中の空所<あ>～<お>にあてはまる適当な語句を、それぞれ対応する次の a～d から 1つずつ選び、その記号をマークせよ。

- <あ> a. 桂太郎 b. 後藤新平 c. 渋沢栄一 d. 松方正義
<い> a. 長春・北京 b. 長春・旅順 c. ハルビン・奉天 d. 奉天・天津
<う> a. アメリカ b. インド c. 中国 d. フィリピン
<え> a. アメリカ b. インド c. オーストラリア d. 中国
<お> a. 第1位 b. 第2位 c. 第3位 d. 第4位

C. 文中の下線部 1)～15)にそれぞれ対応する次の問 1～15に答えよ。

- 鎌倉時代には、凶作・飢饉が頻発するなか、人々の救いを説いて仏教の新宗派があいついで登場した。新宗派に関する記述のうち正しくないのはどれか。次の a～d から 1つ選び、その記号をマークせよ。
a. 栄西は宋から臨済宗を伝え、京都に建仁寺を開いた
b. 親鸞の教えは農民や武士に広まり、浄土真宗と呼ばれた
c. 道元は曹洞宗を伝え、越前の永平寺で修行と弟子の育成をした
d. 日蓮は法華経を信仰し、「南無阿弥陀仏」と題目を唱えることで成仏できると説いた。
- 訴訟のために、京都から鎌倉までの旅を描いた阿仏尼の作品はどれか。次の a～d から 1つ選び、その記号をマークせよ。
a. 十六夜日記 b. 蜻蛉日記 c. 更級日記 d. 土佐日記
- これは現在のどの場所に位置するか。次の a～d から 1つ選び、その記号をマークせよ。
a. 明石 b. 大阪 c. 神戸 d. 堺
- この時の将軍は誰か。次の a～d から 1つ選び、その記号をマークせよ。
a. 徳川家光 b. 徳川家康 c. 徳川綱吉 d. 徳川吉宗
- 江戸時代には、これへの集団的な参拝現象が起こった。特に、18世紀後半からは、ほぼ60年毎に大規模なものが3度起きた。この現象を何と呼ぶか。その名をしるせ。

6. これに関する次の問 i・ii に答えよ。
- i. 旅を描いた滑稽本の代表作である『東海道中膝栗毛』の作者は誰か。次の a～d から1つ選び、その記号をマークせよ。
- a. 上田秋成 b. 式亭三馬 c. 十返舎一九 d. 為永春水
- ii. 『奥の細道』と同じ作者の作品はどれか。次の a～d から1つ選び、その記号をマークせよ。
- a. 鶉衣 b. 笈の小文 c. 玉勝間 d. 一話一言
7. この時期の朝鮮からの使節に関する記述として正しくないのはどれか。次の a～d から1つ選び、その記号をマークせよ。
- a. 江戸時代を通じて、15代続いた将軍の代替わりごとに訪れた
- b. 初期の目的の1つは、朝鮮人捕虜を連れ帰ることだった
- c. 日本の国情視察も重要視されていた
- d. 4回目からは日朝ともに通信使と呼んだ
8. このことは一般に何と呼ばれているか。漢字4字でしるせ。
9. 御雇い外国人に関する記述として正しくないのはどれか。次の a～d から1つ選び、その記号をマークせよ。
- a. イタリア人風景画家のフォンタネージは、工部美術学校で油絵を教えた
- b. ドイツ人海軍軍医のホフマンは、ドイツ医学を教え、はじめて病理解剖を行った
- c. ドイツ人地質学者のミルンは、東大で地質学を教え、フォッサ＝マグナを指摘した
- d. ドイツ人内科医のベルツは、東京医学校・東大で内科・産科を講義した
10. この時に国有化された鉄道は、後に日本国有鉄道となったが、それが分割民営化されたのはいつか。次の a～d から1つ選び、その記号をマークせよ。
- a. 1981年 b. 1983年 c. 1985年 d. 1987年
11. これを代表する官営八幡製鉄所に関する次の問 i・ii に答えよ。
- i. 1901年に官営八幡製鉄所が開業する前に、先駆的に洋式高炉が建設された都市はどれか。次の a～d から1つ選び、その記号をマークせよ。
- a. 大分 b. 釜石 c. 川崎 d. 神戸
- ii. 官営八幡製鉄所は、どこの国の技術を導入したか。次の a～d から1つ選び、その記号をマークせよ。
- a. アメリカ b. イギリス c. ドイツ d. フランス

12. これへの参戦と勝利によって日本がヴェルサイユ条約で権益を獲得した都市はどれか。次の a～d から 1 つ選び、その記号をマークせよ。
- a. 上海 b. 青島 c. 南京 d. ハルビン
13. 彼らを何と呼ぶか。漢字 3 字でしるせ。
14. 鉄道の高速化に関連する記述として正しくないのはどれか。次の a～d から 1 つ選び、その記号をマークせよ。
- a. 1889年に東海道線が開通したが、新橋・大阪間は約20時間かかった
b. 1896年、急行列車が登場し、新橋・神戸間は約17時間に短縮された
c. 1912年に設定された特急は、新橋・神戸間を約13時間で結んだ
d. 1930年、特急「燕」の登場により、東京・神戸間は約11時間に短縮された
15. この時代、新しい生活文化が数多く登場したが、大正時代の出来事でないのはどれか。次の a～d から 1 つ選び、その記号をマークせよ。
- a. 宝塚少女歌劇第 1 回公演 b. 東京駅前に丸ビル竣工
c. 東京・福岡間に旅客飛行開始 d. ラジオ放送開始

【以下余白】

