

A 日本史問題

注意

1. 試験開始の指示があるまでこの問題冊子を開いてはいけません。
2. 解答用紙はすべてHBの黒鉛筆またはHBの黒のシャープペンシルで記入することになっています。HBの黒鉛筆・消しゴムを忘れた人は監督に申し出てください。(万年筆・ボールペン・サインペンなどを使用してはいけません。)
3. この問題冊子は12ページまでとなっています。試験開始後、ただちにページ数を確認してください。なお、問題番号はI・IIとなっています。
4. 解答用紙にはすでに受験番号が記入されていますので、出席票の受験番号が、あなたの受験票の番号であるかどうかを確認し、出席票の氏名欄に氏名のみを記入してください。なお、出席票は切り離さないでください。
5. 解答は解答用紙の指定された解答欄に記入し、その他の部分には何も書いてはいけません。
6. 解答用紙を折り曲げたり、破ったり、傷つけたりしないように注意してください。
7. この問題冊子は持ち帰ってください。

マーク・センス法についての注意

マーク・センス法とは、鉛筆でマークした部分を機械が直接よみとって採点する方法です。

1. マークは、下記の記入例のようにHBの黒鉛筆で枠の中をぬり残さず濃くぬりつぶしてください。
2. 1つのマーク欄には1つしかマークしてはいけません。
3. 訂正する場合は消しゴムでよく消し、消しきらずはきれいに取り除いてください。

マーク記入例：

A	1	2	3	4	5
<input type="radio"/>	<input type="radio"/>	<input checked="" type="radio"/>	<input type="radio"/>	<input type="radio"/>	<input type="radio"/>

 (3と解答する場合)

I. 次の文1～5を読み、下記の設問A～Cに答えよ。解答は解答用紙の所定欄にしるせ。

1. 縄文時代になると狩猟で弓矢が用いられるようになった。捕獲効率の向上を図るために石^{ズク}鏃などが取り付けられた矢も発見されている。石鏃の素材としては、黒曜石やサヌカイト¹⁾、あるいは輝石属の一種であるヒスイ²⁾などが用いられた。この時代に遠距離間での交易が行われていた証として、石鏃に使用された石が原産地を離れた広範囲な地域で見つかっている。

2. 平城京は、(イ) 制によって整然と碁盤の目状に区画されていた。都を南北に走る朱雀大路で分けられた左京と右京には官営の市が設けられ、地方から運ばれた産物や官吏たちに現物支給された布や糸などがそこで交換された。朝廷はく あ >国から銅が献上されると和同開珎³⁾を鑄造したが、京・畿内を中心とした地域以外では稲や布などが現物貨幣として流通していた。

地方からの産物の輸送には、陸運のほか水運も使用された。平安時代に編纂された格式⁴⁾の1つである延喜式によると、北陸道諸国の雑物は敦賀から陸路を使って塩津⁴⁾に運ばれた後、琵琶湖の水運を利用して大津へ運び、そこから平安京へ運び入れることになっていた。

3. 鎌倉時代中期になると、農業の生産力は高まっていった。そのかたわらで営まれていた手工業が専門化し、金属鍛造の技術を持つ鍛冶や、銅や鉄を熱した液体を型に流し込んで生活用具を造る職人⁵⁾などが現れるようになった。農業や手工業の発達にともない、各地で定期市⁶⁾が開かれるようになった。

室町時代⁶⁾に入り、太平洋沿岸航路や日本海沿岸航路の発達によって水運がさかんになると、船着場や倉庫を備えた港町⁷⁾が形成された。そこで幕府や寺社などは主要な港に関所を設けてく い >を徴収した。また、港に陸揚げされた物資を運ぶための運送業者⁸⁾も現れた。人馬の往来がさかんになると、幕府や寺社、荘園領主などは関所で関銭を徴収した。これらは商人にとって交易の重荷であった。

産業の発達や商品の流通が活発になると、貨幣が広く流通するようになった。しかし、朝廷や室町幕府は貨幣を発行せず、もっぱら輸入銭を使用した。また、民間では輸入銭を模倣した私鑄銭が製造された。しかし、私鑄銭の中には粗悪なものも多く、(ロ) が流通を妨げる一因にもなったので、(ロ) 令が出された。

4. 戦国大名たちが商業の発展のための積極的な政策を展開したことにより、商人は力を⁹⁾つけていった。織田信長は安土の地で築城に着手すると、< う >年には13条からなる『安土山下町中掟書』において城下に楽市令を出した。これによると、第1条で山下町中を¹⁰⁾楽市と定め、第2条では「往還の商人、上海道（中山道）はこれを相留め、上下とも当町に至りく え >すべし」と示されていた。さらに、信長は商人の負担を軽減するために関所を撤廃して、関銭の徴収を廃止した。

近江国日野城主の長男として生まれた蒲生氏郷は、信長の政策にならって城下に掟を下し、商人を優遇した。そのため日野は安土と並んで商工業における近江の拠点となった。信長の死後、豊臣秀吉は氏郷を伊勢国松坂へ、その後陸奥国会津黒川へと領地替えを行った。日野の商人や職人らの中には松坂や会津へ移動した者がおり、また、氏郷はかれらの力を用いてそれぞれの地で産業の振興を図った。たとえば、会津漆器¹¹⁾は日野から呼び寄せた職人の力もあって発展した。¹²⁾

この頃、武士から商人へ転身し、後に財を築いた人たちもいる。1570年、戦国大名であった（ハ）氏と朝倉氏の連合軍が姉川の戦いで敗れると、琵琶湖西岸に拠点を構えていた村井氏と小野氏は京へ逃れて商人となった。両家は南部藩盛岡城下町の創建に関わり、この地で店を開いて一族を次々と呼び寄せた。江戸時代中期には南部藩の商権を一手に引き受けるほどとなった。藩は財政不足を補うため、臨時に賦課する< お >をかれらに負担させた。

5. 天候に左右される海運には様々な危険が伴うが、商人はその危険と引き替えに利益を求めて海運を利用し、商売の地域を拡大していった。

蝦夷地では15世紀頃から畿内や北陸の商人とアイヌとの間で交易が行われていた。慶長から寛永年間の頃には、近江国の商人も松前に進出するようになり、同地に出店を開いた。上方で仕入れた食料や酒、衣類、小間物、漁具などを北前船に積んで運んだ。北前船は河村瑞賢が開発した（ニ）航路上にある下関や敦賀、酒田などを通して松前へ向かった。近江国の商人は松前で取引で手に入れたニシンやサケを上方へ持ち帰って売りさばいた。

この地を管轄する松前氏は、アイヌを通じた蝦夷地での交易の独占を江戸幕府から認められ、アイヌとの交易の場を家臣に支配権として分与した。また、家臣はより多くの利益を得ようとして、アイヌの海産物との交換レートを変更し、安く買いたたいたため、1669年、アイヌは（ホ）に率いられて蜂起したが、松前藩が勝利し、アイヌは松前藩に服従させられた。18世紀に入ると、松前藩は財政難からアイヌとの交易を商人に委

ねる（へ）制を導入し、商人から運上金を納めさせるようになった。

A. 文中の空所(イ)～(ヘ)それぞれにあてはまる適当な語句をしるせ。


B. 文中の空所<あ>～<お>にあてはまる適当な語句または数字を、それぞれ対応する次の a～d から1つずつ選び、その記号をマークせよ。

- | | | | | |
|-----|---------|---------|---------|---------|
| <あ> | a. 因幡 | b. 撰津 | c. 長門 | d. 武蔵 |
| <い> | a. 段銭 | b. 津料 | c. 土倉役 | d. 棟別銭 |
| <う> | a. 1567 | b. 1573 | c. 1577 | d. 1582 |
| <え> | a. 寄宿 | b. 参詣 | c. 奉納 | d. 労役 |
| <お> | a. 国役 | b. 御用金 | c. 助郷役 | d. 高掛物 |

C. 文中の下線部 1)～12)にそれぞれ対応する次の問 1～12に答えよ。

1. これはどれか。次の a～d から1つ選び、その記号をマークせよ。


a.



b.



c.



d.



2. これの原産地である和田峠の位置はどれか。次の a～d から 1つ選び、その記号をマークせよ。



3. このあと、10世紀半ばまで皇朝十二銭と呼ばれる銅銭がつくられた。皇朝十二銭に含まれるものを、次の a～d から 1つ選び、その記号をマークせよ。
- a. 永樂通宝 b. 乾元大宝 c. 洪武通宝 d. 宣徳通宝
4. これに関する記述として正しくないのはどれか。次の a～d から 1つ選び、その記号をマークせよ。
- a. 延喜格式は醍醐天皇の命で編纂された
- b. 格は律令条文の補足や改正のために出された法令で、式は律、令、格の施行細則である
- c. 弘仁格式、貞観格式、延喜格式を合わせて三代格式という
- d. 弘仁格式は清和天皇の命で編纂された
5. この職人を何というか。その名をしるせ。
6. この説明として正しくないのはどれか。次の a～d から 1つ選び、その記号をマークせよ。
- a. 『一遍上人絵伝』には、備前国の福岡で市が開催されて賑わう様子が描かれている
- b. 三度の市とは、月に 3 回開かれる定期市のことであり、平安時代末期より見られた
- c. 伴野の市は、千曲川の川岸に開設された定期市であった
- d. 六斎市とは、月に 6 回開かれる定期市のことであり、鎌倉時代中期に一般化した

7. 広島県の芦田川の中洲で発見されたこれの遺跡はどれか。次の a～d から1つ選び、その記号をマークせよ。

- a. 大湊 b. 尾道 c. 小浜 d. 草戸千軒

8. 次の図には近江国の大津付近を通過する運送業者が描かれている。この運送業者を何と呼ぶか。その名をしるせ。



9. これらが領国経営の財源を確保するために開発し、管理した鉱山はどれか。次の a～d から1つ選び、その記号をマークせよ。

- a. 阿仁銅山 b. 甲斐黒川金山 c. 釜石鉄山 d. 別子銅山

10. 信長はこれ以外にも楽市令を発している。信長が楽市令を発した国と地域の組み合わせとして正しいのはどれか。次の a～d から1つ選び、その記号をマークせよ。

- a. 近江国一石寺新市
b. 駿河国一富士大宮
c. 三河国一小山新市
d. 美濃国一加納

11. この地の藩主となり、徳川家綱を補佐して幕政を安定させた人物の名をしるせ。

12. 江戸時代にこれの名産地でなかったところはどれか。次の a～d から1つ選び、その記号をマークせよ。

- a. 能代 b. 飛驒 c. 結城 d. 輪島

Ⅱ. 次の文1～5を読み、下記の設問A～Cに答えよ。解答は解答用紙の所定欄にしるせ。

1. 11世紀後半以降、日本と（イ）・宋との交易が盛んになり、鎌倉幕府が成立した後も、日宋間の通交はさかんにおこなわれた。

1)
13世紀初頭、チンギス＝ハーンに率いられて誕生した遊牧国家は、その後ユーラシア大陸の東西にまたがる大帝国となった。中国大陸では、チンギス＝ハーンの孫フビライ＝ハーンが、13世紀後半に国号を元と定め、ついで宋を滅ぼした。

日本は再三にわたって朝貢を求められていたが、鎌倉幕府執権である北条（ロ）はこれを拒否し、九州北部などの要地を守らせるくあを御家人に課した。これに対して元は、（イ）に命じて兵や船を動員し、1274年に対馬・壹岐を攻めた後、（ハ）湾岸に上陸した。幕府は、元の再度の襲来に備えて、く²⁾あを強化し、（ハ）湾岸に石造の防塁（石塁）を構築させた。その後元は1281年にも約14万の大軍で九州に迫ったが、暴風雨による大損害を受けたことが大きく影響して敗退した。これを（ニ）の役という。蒙古襲来を機に、幕府は西国一帯に勢力を強め、とくに九州地方の政務および裁判の判決や御家人の指揮にあたるくいを設置した。

2. 16世紀半ばにポルトガル人を乗せた倭寇の船が九州南方種子島に漂着した。島主の種子島時堯は、かれらから鉄砲を買い、³⁾家臣にその使用法と製造法を学ばせた。それ以後ポルトガル人は、九州の諸港に來航するようになった。また、1584年にはイスパニア（スペイン）人も肥前の平戸に來航して、日本との貿易をはじめた。これらポルトガル人やイスパニア人との貿易をくう貿易という。

このくう貿易とともに、キリスト教宣教師の布教活動も行われた。16世紀半ばには、イエズス会の宣教師フランシスコ＝ザビエルが鹿児島に到着し、大内義隆・（ホ）らに保護されて、布教を開始した。（ホ）・大村純忠らは、巡察師ヴァリニャーニの勧めで、少年使節をローマ教皇のもとに派遣した。

イスパニアとの通交は、1596年の26聖人が殉教したサン＝フェリペ号事件で一時途絶えた。しかし1609年（ヘ）の前総督ドン＝ロドリゴが上総に漂着し、翌年家康がかれらに船を与えてイスパニア領メキシコに送ってから再開した。このとき同行した（ト）らが、最初にアメリカ大陸に渡った日本人といわれている。

また、江戸幕府から海外渡航を許可された朱印船が、南洋各地を渡航した。16世紀末から17世紀前半にかけて多くの日本人が海を渡り、日本人の海外進出は、⁴⁾（ヘ）・⁵⁾カンボジア・タイなどに広がった。
⁶⁾

3. 18世紀後半から19世紀初頭にかけて、ロシア船やイギリス船が日本を訪れるようになった。1792年にロシア使節ラクスマンが（チ）に来航し、漂流民をとどけるとともに通商を要求した。また、1804年にはロシア使節レザノフが、ラクスマンの持ち帰った入港許可証を持って長崎に来航した。しかし、幕府が追い返したため、ロシア船は樺太や択捉島を攻撃した。

1808年には、イギリス軍艦のフェートン号が長崎に侵入し、このような事件に対応するため、対外防備が強化されていった。外国船員と住民とのトラブルなどを回避するため、1825年に幕府は異国船打払令を出し、外国船を撃退するように命じた。幕府は、長崎を窓口⁷⁾に海外の文物を入手していたが、アヘン戦争を契機として、それまで以上に海外の情報収集に力を入れ、17世紀からオランダ商館に提出させていた「オランダくえ」よりさらに詳しい「別段くえ」を新たに提出させた。

4. 1875年に日本の軍艦雲揚が、朝鮮の漢城（現ソウル）防衛の拠点となっていたくお島付近の領海に接近した。くお島から砲撃を受けると、これに応戦し、翌日永宗島に兵を上陸させて、要塞を占拠した。日本はこの事件を理由に艦隊を派遣して、日朝修好条規を結ばせ、釜山の他、くか・仁川を開港させた。

その後、日本と結んで朝鮮の近代化をはかろうとした（リ）らの独立党が、1884年に日本の駐留軍の援助を受けてクーデターを起こしたが事大党と清国軍に攻撃されて失敗し、（リ）らは日本に亡命した。この事件を甲申事変⁸⁾という。

5. 第一次世界大戦後の1919年にパリで開かれた講和会議で、日本は人種差別撤廃を主張したが、この案は採択されなかった。1921～22年に開かれたワシントン会議で、日本・アメリカ・イギリス・フランスが太平洋問題を原因とする紛争の話し合いによる解決などを決めた四カ国条約を締結した。これにより日英同盟が廃棄された。1922年には日本・アメリカ・イギリス・フランス・⁹⁾（ヌ）の5カ国で海軍軍縮条約も締結された。

第二次世界大戦直後、日本にマッカーサー元帥を最高司令官とする連合軍最高司令官総司令部（GHQ）がおかれた。また、ワシントン本部とする占領政策の最高決定機関で、当初11ヶ国で構成されたくきがおかれた。アメリカ合衆国による対日占領目標は、非軍事化と民主化であった。この頃から、アメリカを盟主とする西側（資本主義・自由主義陣営）とソ連を盟主とする東側（社会主義・共産主義陣営）とのあいだに「冷たい戦争」といわれる深刻な対立が生み出されていった。米ソ両首脳が「冷戦終結」を宣言したのは、くく年のことであった。

A. 文中の空所(イ)～(ヌ)にあてはまる適当な語句を、それぞれ対応する次の a～d から 1つずつ選び、その記号をマークせよ。

- | | | | | |
|-----|-----------|---------|-----------|----------|
| (イ) | a. 金 | b. 高麗 | c. 渤海 | d. 遼 |
| (ロ) | a. 貞時 | b. 時政 | c. 時宗 | d. 義時 |
| (ハ) | a. 天草 | b. 豊津 | c. 博多 | d. 坊津 |
| (ニ) | a. 永仁 | b. 弘安 | c. 弘長 | d. 文永 |
| (ホ) | a. 大友義鎮 | b. 斎藤竜興 | c. 長宗我部元親 | d. 細川忠興 |
| (ヘ) | a. アンナン | b. ジャワ | c. トンキン | d. ルソン |
| (ト) | a. 末吉孫左衛門 | b. 角倉了以 | c. 田中勝介 | d. 松浦鎮信 |
| (チ) | a. 釧路 | b. 酒田 | c. 根室 | d. 長崎 |
| (リ) | a. 金玉均 | b. 尚泰 | c. 陳和卿 | d. 李旦 |
| (ヌ) | a. イタリア | b. オランダ | c. ドイツ | d. ポルトガル |

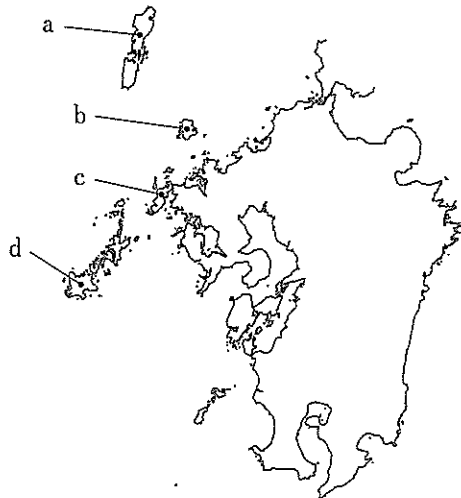
B. 文中の空所<あ>～<く>にそれぞれあてはまる適当な語句または数字をしるせ。

C. 文中の下線部 1)～9)にそれぞれ対応する次の問 1～9 に答えよ。

1. これに関する記述として正しくないのはどれか。次の a～d から 1つを選び、その記号をマークせよ。

- a. 平清盛は、宋商人を畿内に招来し貿易を促進するため大輪田泊を整備した
- b. 大陸からは、宋銭をはじめ陶磁器・書籍などを輸入した
- c. 日本からは、金・水銀の他、米・刀剣・扇などを輸出した
- d. 日本から蘭溪道隆らが宋に渡り仏教を学んだ

2. これはどこか。次の図中の a～d から 1つを選び、その記号をマークせよ。



3. これに関する記述として正しくないのはどれか。次の a～d から 1 つ選び、その記号をマークせよ。
- a. 14世紀中頃の倭寇は、朝鮮半島・中国大陸沿岸などに進出した武装集団で、官米や人民を略奪した
 - b. 15世紀末には、倭寇の討伐で名声をあげた李成桂が、朝鮮を建てた
 - c. 16世紀の倭寇の首領である王直は、日本の五島などを拠点とし、日本人を配下にして中国沿岸で活動した
 - d. 豊臣秀吉は、海外との貿易には積極的であり、倭寇などによる海賊行為を取り締まった
4. これに関する記述として正しくないのはどれか。次の a～d から 1 つ選び、その記号をマークせよ。
- a. 商人で朱印船の船主となった者には、三井高利らがいる
 - b. 大名で朱印船の船主となった者には、加藤清正らがいる
 - c. 日本からの輸出品として銀・銅・鉄などを運んだ
 - d. 日本への輸入品として生糸・絹織物・砂糖などを運んだ
5. この時期の対外関係に関する記述として、正しくないのはどれか。次の a～d から 1 つ選び、その記号をマークせよ。
- a. ウィリアム＝アダムズは、家康の外交顧問となり、朱印船貿易に関わった
 - b. オランダとイギリスは、幕府から貿易の許可を受け、平戸に商館を開いた
 - c. オランダの商船リーフデ号が、豊後国に漂着した
 - d. 支倉常長は、伊達政宗の命を受け、ポルトガルに派遣された
6. 17世紀前半にこの地の日本町の長となり、後にリゴール太守となった人物の名をしるせ。
7. これに関する記述として正しくないのはどれか。次の a～d から 1 つ選び、その記号をマークせよ。
- a. イギリスが強大な軍事力で南京条約を結び、上海など 5 港を開港させ、香港島を奪ったことを知った幕府は、この法令を緩和した
 - b. この法令が施行されたとき、中国・ロシア・オランダ船は幕府の撃退の対象から外れていた
 - c. この法令が出された契機となったのは、イギリス捕鯨船暴行事件などの外国との軋轢であった

- d. この法令により、日本の漂流民送還のために来航した外国船が砲撃されたこともあった
8. 甲申事変とその前後に起きた出来事が、もっとも古いものから年代順に並んでいる組み合わせはどれか。次の a～d から 1 つ選び、その記号をマークせよ。
- a. 壬午軍乱 → 甲申事変 → 甲午農民戦争 → 防穀令事件
- b. 壬午軍乱 → 甲申事変 → 防穀令事件 → 甲午農民戦争
- c. 防穀令事件 → 甲午農民戦争 → 甲申事変 → 壬午軍乱
- d. 防穀令事件 → 壬午軍乱 → 甲申事変 → 甲午農民戦争
9. 最初に日英同盟が締結された年はどれか。次の a～d から 1 つ選び、その記号をマークせよ。
- a. 1902年 b. 1905年 c. 1908年 d. 1913年

【以下余白】