

2019年度

## I 地理問題

### 注意

1. 試験開始の指示があるまでこの問題冊子を開いてはいけません。
2. 解答用紙はすべてHBの黒鉛筆またはHBの黒のシャープペンシルで記入することになっています。HBの黒鉛筆・消しゴムを忘れた人は監督に申し出てください。  
(万年筆・ボールペン・サインペンなどを使用してはいけません。)
3. この問題冊子は16ページまでとなっています。試験開始後、ただちにページ数を確認してください。なお、問題番号はI～IIIとなっています。
4. 解答用紙にはすでに受験番号が記入されていますので、出席票の受験番号が、あなたの受験票の番号であるかどうかを確認し、出席票の氏名欄に氏名のみを記入してください。なお、出席票は切り離さないでください。
5. 解答は解答用紙の指定された解答欄に記入し、その他の部分には何も書いてはいけません。
6. 解答用紙を折り曲げたり、破ったり、傷つけたりしないように注意してください。
7. この問題冊子は持ち帰ってください。

#### マーク・センス法についての注意

マーク・センス法とは、鉛筆でマークした部分を機械が直接よみとって採点する方法です。

1. マークは、下記の記入例のようにHBの黒鉛筆で枠の中をぬり残さず濃くぬりつぶしてください。
2. 1つのマーク欄には1つしかマークしてはいけません。
3. 訂正する場合は消しゴムでよく消し、消しきずはきれいに取り除いてください。

マーク記入例：

A	1	2	3	4	5
	○	○	●	○	○

(3と解答する場合)

I . 地勢図および地形図1・2 (5～7ページ参照) とこれに関連する次の文を読み、下記の設問A・Bに答えよ。解答は解答用紙の所定欄にしるせ。

R : 「今年の地理研究会の卒業旅行は、JR中央本線新宿駅を出発して塩尻駅を經由して、  
去年のテレビドラマで話題になった岐阜県東濃地方の<sup>えな</sup>恵那市周辺を訪問することに  
決まったよね。今日は地図や資料を見ながら行き先の候補を出してみよう。」

K : 「塩尻駅からは、中央本線は江戸時代の五街道の1つの ( イ ) に沿うように走って  
いて、恵那市の中心部は当時の宿場町だったんだね。」

Y : 「ロケ地になった岩村の商店街に行きたいな。恵<sup>えな</sup>那駅から明知鉄道で行けるよ。これは  
地方自治体と民間企業とが一体となって運営する第三セクター鉄道だね。山あいや田  
園地帯など変化に富んだ車窓風景を楽しめそうだね。」<sup>1)</sup>

R : 「恵那市街地の<sup>あぎがわ</sup>上流部の沿線近くには阿木川ダムがあるよ。用途を調べてみたいな。」

K : 「岩<sup>いわむら</sup>村駅から南東方向に城跡の記号があるね。ここは日本の<sup>2)</sup>三大山城の1つと言われて、  
山にそびえ立つ標高差と石垣の景観からペルーの世界遺産になぞらえて日本の  
( ロ ) とも呼ばれているそうだよ。」

Y : 「城跡につながる市街地の町並みは、江戸時代の建物が今も残る城下町だね。」

R : 「岩村の北東方向にある富田地区は、農村景観日本一に選定されたところなんだ。自然  
も豊かなようだよ。ここで<sup>3)</sup>ゆっくりと滞在して、農村地域の人々とふれあいながら生  
活や文化の体験を楽しむ観光もできるんだって。」<sup>4)</sup>

K : 「文化体験と言えば、テレビドラマではこの地方の郷土食の五平餅がおいしそうだった  
ね。ごはんを潰して形を作りタレをつけて串焼きにしたものなんだって。」

Y : 「ここを訪れる外国人にも人気があるね。和食は世界遺産の認定に携わる国連専門機関  
( ハ ) によって無形文化遺産として登録されて、注目されているんだよね。」

R : 「五平餅と言えば、地理学会で見た高校生の発表に蜂の子の五平餅が出ていたよ。蜂の  
子も郷土食だね。伝統的な食文化を絶やさないように地産地消を提案していたよ。」

K : 「蜂の子五平餅は串原地区で有名なんだって。終点の<sup>5)</sup>明智<sup>あけち</sup>駅からバスで行けるみたい。  
明智川の谷筋の道から上がったところにあるね。」

Y : 「<sup>6)</sup>明知鉄道沿線は寒天の産地としても知られているね。海から離れているのにどう  
してこんな山あいのところで加工されているんだろう。」<sup>7)</sup>

R : 「明智の市街地は『大正村』とも呼ばれているんだ。山間で大正時代に栄えた町があっ  
たんだね。」<sup>8)</sup>

K : 「沿線には地形、歴史、文化、産業など見どころがいっぱいあって楽しめそうだね。」

A. 文中の空所(イ)～(ハ)それぞれにあてはまるもっとも適当な語句をしるせ。

B. 文中の下線部1)～8)それぞれに対応する次の問1～8に答えよ。

1. この特徴として正しくないものを、次の a～d から 1 つ選び、その記号をマークせよ。

- a. 旧国鉄(現JR)での運行が経営的に難しくなり、沿線自治体と民間企業が出資して設立された
- b. コスト削減のため全国ネットワークを整備して運行システムを共通化している
- c. 生徒・学生や高齢者など、交通弱者の足を確保することも存続の理由である
- d. 鉄道を活性化させるためにイベント企画列車の運行など集客の工夫をしている

2. 地形図1を判読すると、阿木川湖の水面と恵那市役所との標高差はおよそ何mか、次の a～d から正しいものを 1 つ選び、その記号をマークせよ。

- a. 70m                      b. 120m                      c. 170m                      d. 220m

3. この特徴として正しくないものを、次の a～d から 1 つ選び、その記号をマークせよ。

- a. クランク状やT字路の街路が設けられている
- b. 寺町・商人町・職人町などの町割が取り入れられている
- c. 町の周囲が城壁で取り囲まれている
- d. 山・川・海などを背にした所や台地の端に位置する傾向にある

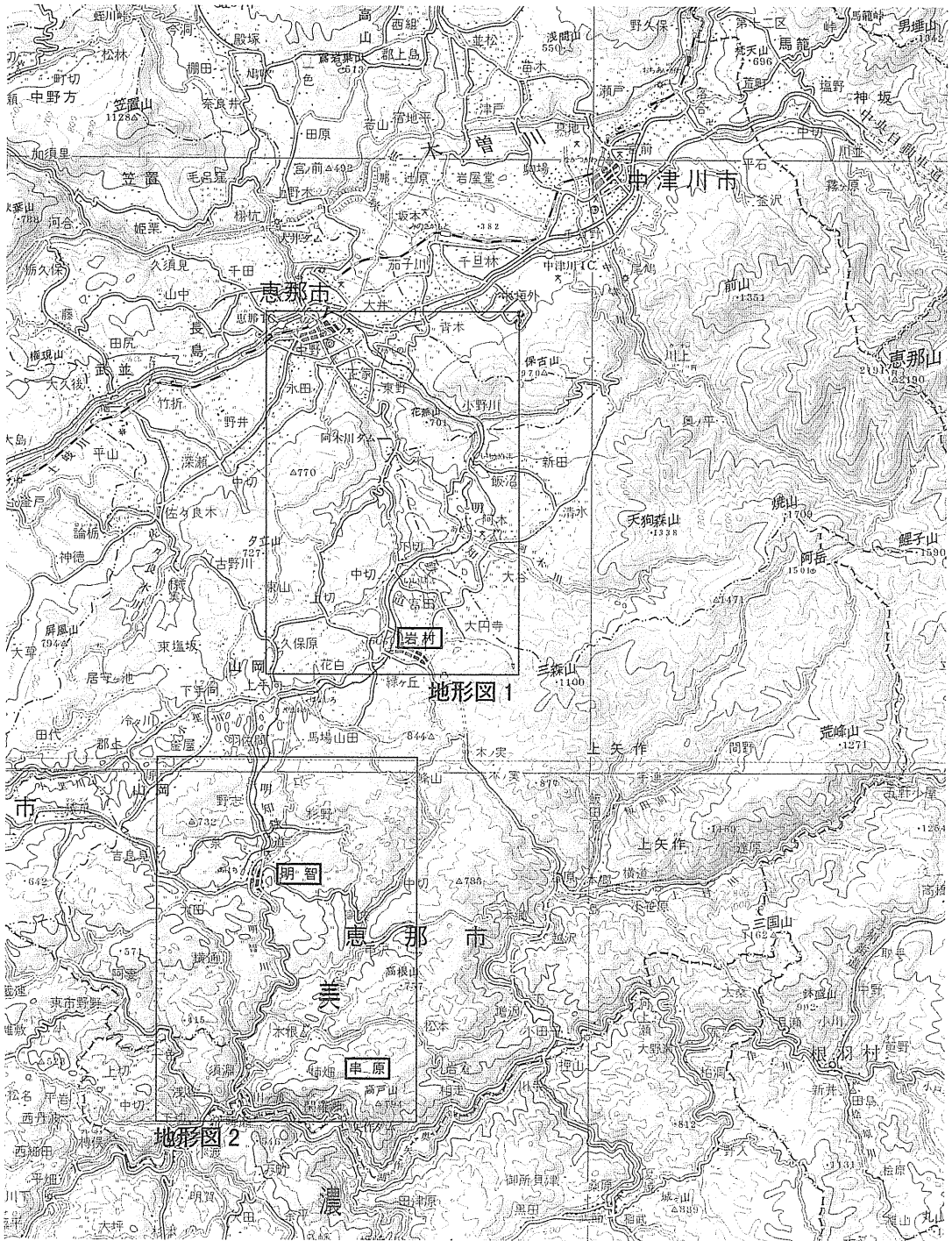
4. このような旅行のことを何というか、その名称をしるせ。

5. この用語の意味を 1 行でしるせ。

6. 地形図2を判読して、片平―川ヶ渡の流下方向を、次の a～d から 1 つ選び、その記号をマークせよ。

- a. 東                      b. 西                      c. 南                      d. 北

7. この地区では、寒天は海で採れたテングサを原料として、冬季に製造される。この理由としてもっとも適当なものを、次の a～d から 1 つ選び、その記号をマークせよ。
- a. 冬季の野菜不足を補う保存食として用いるため
  - b. 冬季の気温の日較差を生かして凍結乾燥させるため
  - c. 内陸部で不足するヨード分を摂取するため
  - d. 雪を被ることにより甘みが増すため
8. 地形図 2 中の明智町は、大正時代には、周辺で産出される農作物を利用して輸出向けに重要な生産物の製造により商工業も発達した。その農作物は、明智町から東へ約 2 km に位置する大久手や馬木集落などにもみられる。その農作物の名称とそれを利用した生産物の名称をそれぞれしるせ。



地勢図 20万分の1地勢図「飯田」(2012年発行) および「豊橋」(2012年発行)  
 (原寸, 原図はカラー, 図の真上が北)



地形図1 5万分の1地形図「恵那」(2002年発行)(原寸, 原図はカラー, 図の真上が北)



地形図 2 5万分の1地形図「明智」(2004年発行)(原寸, 原図はカラー, 図の真上が北)

II. 次の文を読み、下記の設問A～Cに答えよ。解答は解答用紙の所定欄にしるせ。

EU加盟国の多くは、1995年に発効した（イ）協定によって国境の管理を廃止し、人の往来が自由になった。国境を越えた買い物や通勤が増加し、たとえば重工業三角地帯<sup>1)</sup>の一角を占めるドイツのザールブリュッケンや、EU非加盟国ではあるものの（イ）協定に加盟しているスイスのバーゼル、ジュネーブではフランス側から多くの越境通勤者を受け入れている。フランス東端<sup>2)</sup>、アルザス地方（地域圏）<sup>3)</sup>の主要都市（ロ）とドイツのケールとの間には国境の（ハ）川に歩行者・自転車専用の橋が架けられ、両国の物価の違いから、たとえば食料品を求めてドイツ人がフランスへ、電化製品を購入するためにフランス人がドイツへと国境を日常的に行き来している。

ヨーロッパでは、夏季には多くの人々が長期休暇をとって余暇の時間を過ごす（ニ）の習慣があり、イギリスやドイツなど北部地域の人々が、温暖な気候に恵まれた地中海沿岸地域に移動する。そのためEU統合の進展にしたがって、航空路線の拡大とともに高速鉄道網の整備も進められてきた。たとえば、（ホ）トンネルを通してイギリスと大陸を結ぶユーロスターをはじめ、フランスの（ヘ）、ドイツのICEをはじめとする高速列車がEUの主要都市間を次々に直結しつつある。実際にEUの主要都市は近接して立地するため、高速鉄道網が整備されれば、航空路線よりも移動の利便性は高い。たとえばパリ東駅とフランクフルト中央駅の直線距離は約<あ>kmで、これは東京駅と岡山駅間の直線距離<sup>4)</sup>よりも短い。

アルプス山脈以北の平野部では河川交通が重要な役割を占め、河川や運河が国境を越える貨物輸送には欠かせない輸送路<sup>5)</sup>となっている。とくに（ハ）川とその支流は河川交通網の主軸であり、河口に位置するオランダの（ト）は、外洋と内陸を結ぶ交通結節点として発展し、ユーロポートを擁する港湾都市として知られる。

A. 文中の空所(イ)～(ト)それぞれにあてはまるもっとも適当な語句をしるせ。

B. 文中の空所<あ>にあてはまる数値としてもっとも近いものを、次のa～dから1つ選び、その記号をマークせよ。

a. 200

b. 500

c. 800

d. 1,100



C. 文中の下線部 1)～5) それぞれに対応する次の問 1～5 に答えよ。

1. 重工業三角地帯とは何か，2行でしるせ。
2. スイスの公用語をすべてしるせ。
3. 湖畔にジュネーブを擁するレマン湖は，フランスの四大河川の1つであるローヌ川の源流域となっている。ローヌ川とその流域に関連する地名や事項として適当でないものを，次の a～f から2つ選び，それらの記号を左欄に1つ，右欄に1つマークせよ。順序は問わない。  
a. 地中海                      b. フォス                      c. ブドウ栽培の北限  
d. プルターニュ半島          e. ミストラル                f. リヨン市
4. フランクフルトは，EU経済の中心地帯とされるブルーバナナの域内に位置している。ブルーバナナの域内に位置する都市として適当でないものを次の a～e から1つ選び，その記号をマークせよ。  
a. チューリヒ                  b. バーミンガム              c. パリ  
d. ブリュッセル                e. ミラノ
5. 次の図はヨーロッパと日本における河川の縦断（面）曲線を示したものである。ヨーロッパで大型の船舶による河川交通が発達している理由を，次の図に則して1行でしるせ。

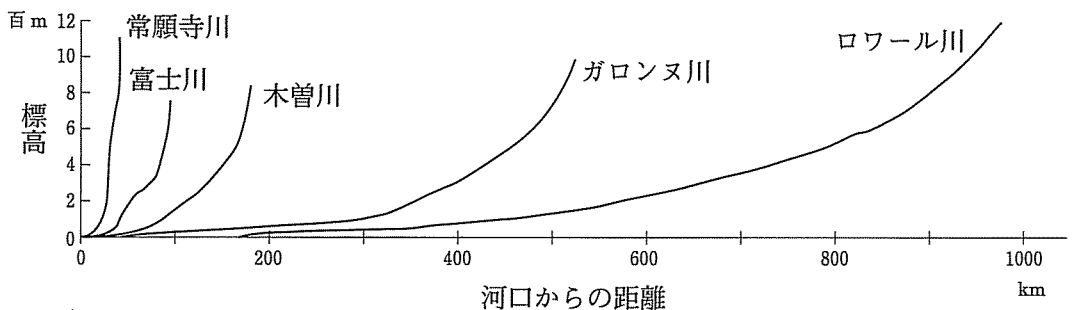


図 ヨーロッパと日本における河川の縦断面曲線

(『地理データファイル 2018年度版』により作成)

III. 次の文を読み、下記の設問 A・B に答えよ。解答は解答用紙の所定欄にしるせ。

東南アジアは北半球の大陸部と赤道直下から南半球にかけての島嶼部<sup>1)</sup>にまたがっており、その自然環境は降水量<sup>2)</sup>、気温<sup>1)</sup>、日射条件、土壌<sup>3)</sup>のどの要素をとってみても多様性に富んでいる。東南アジアには、火山活動が活発な地域があり、地下資源も豊富である。数多くの世界遺産<sup>4)</sup>を有しているため、今日、主要都市を重要な移動拠点として多くの観光客が東南アジアを訪れる。

東南アジアといえば、平地での稲作によるコメの生産が盛んな地域というイメージが強いが、熱帯林が多い山地では伝統的な小規模の焼畑農業<sup>5)</sup>が営まれてきた。東南アジアには、宗教の多様性<sup>5)</sup>があり、貿易や人の行き来が東南アジアの色彩を豊かにしてきた。15世紀前半、中国の鄭和は帆船を利用して中国から東南アジア、インド、アラビア半島、東アフリカ沿岸まで航海した。マレー半島とスマトラ島を分ける国際海峡の（イ）海峡は、古くから海上交通に利用され、現在も主要航路の1つとして利用されている。シンガポールやホンコン（香港）などの都市には大きな（ロ）貿易港があるため、コンテナの取扱量がとくに多く、貿易業者は倉庫料や手数料で利益をあげる。（ロ）貿易港は一般に海上交通の要地にあり、輸出入品に関税をかけない自由貿易港となる場合が多く、国際貿易を促す役割から国際貿易港と呼ばれることもある。国際貿易を促進するため、アジアではASEANを母体とする（ハ）が1993年に発足し、域内の市場の統合をめざして関税の撤廃を徐々に進めてきた。

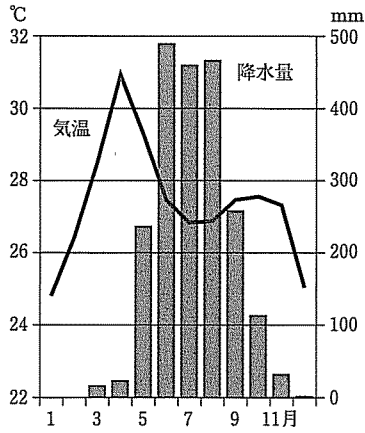
東南アジアは多民族の社会でもあり、民族間の良好な関係を維持することは政府の重要な課題である。マレーシア政府は独立後に生じた民族問題に対応するため、プミプトラ政策<sup>8)</sup>を実施した。

A. 文中の空所(イ)～(ハ)それぞれにあてはまるもっとも適当な語句をしるせ。

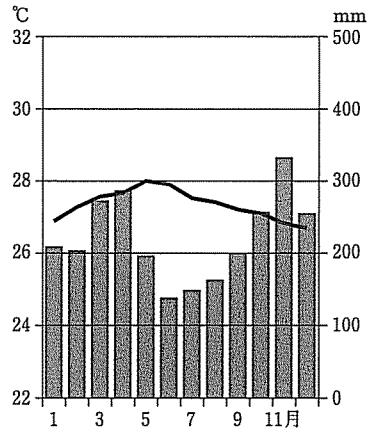
B. 文中の下線部1)～8)それぞれに対応する次の問1～8に答えよ。

1. スマトラ島からティモール島にかけての島々は、海側のプレートが陸側のプレートの下へ沈み込んで陸側のプレートのへりにできた地形である。このような弓なりに島々が連なる地形の名称をしるせ。

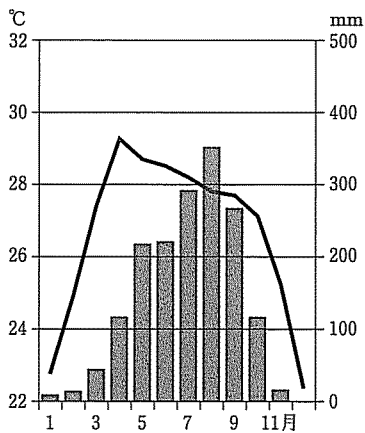
2. 次の雨温図①～③はクアラルンプール、ビエンチャン、ヤンゴンのいずれかのものである。雨温図①～③それぞれに該当する都市の組み合わせとして正しいものを、下の a～f から1つ選び、その記号をマークせよ。



①



②



③

(『理科年表 平成30年』より作成)

	①	②	③
a	クアラルンプール	ビエンチャン	ヤンゴン
b	クアラルンプール	ヤンゴン	ビエンチャン
c	ビエンチャン	クアラルンプール	ヤンゴン
d	ビエンチャン	ヤンゴン	クアラルンプール
e	ヤンゴン	クアラルンプール	ビエンチャン
f	ヤンゴン	ビエンチャン	クアラルンプール

3. 東南アジアに多く分布している赤色土（ラトソル）の性質に関する記述として正しいもの、次の a～d から 1 つ選び、その記号をマークせよ。

- a. 養分は高温により分解されやすい
- b. 鉄分が多い
- c. 肥沃度が高い
- d. 成帯土壌である

4. 下の図 1 は、東南アジアの火山、鉱山、世界遺産、都市のうち、主要なものを示している。これに関する次の問 i・ii に答えよ。

i. 火山の分布として正しいものを、図 1 中の a～d から 1 つ選び、その記号をマークせよ。

ii. 世界遺産の分布として正しいものを、図 1 中の a～d から 1 つ選び、その記号をマークせよ。

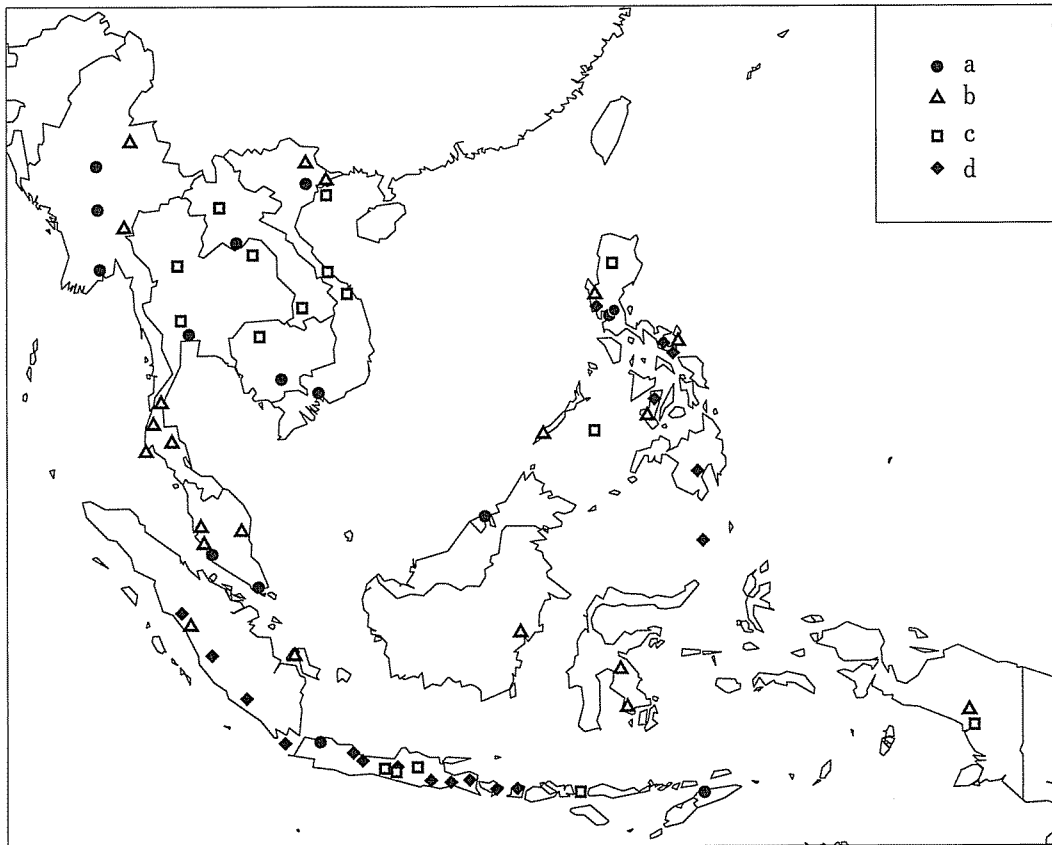


図 1

注) 鉱山には、石炭と鉛、亜鉛、すず、鉄、タングステン、ニッケル、金、銀、銅、クロムの鉱山が含まれる。都市とは首都および人口が首都を上回る都市を指し、都市人口は『データブック オブ・ザ・ワールド2018年版』に基づく。

5. 焼畑農業に関する次の問 i・ii に答えよ。

i. 焼畑農業とはどのような農業か、1行でしるせ。

ii. 焼畑農業などの伝統的な熱帯林の利用法にヒントを得て、樹木を育てながら、樹間で農作物の栽培や家畜の飼育を行う農法の名称をしるせ。

6. 次の図2は東南アジアの国々の宗教別人口構成を示すものである。図2中の①～③はカンボジア、シンガポール、マレーシアのいずれかの国である。図2中の①～③それぞれに該当する国の組み合わせとして正しいものを、下のa～fから1つ選び、その記号をマークせよ。

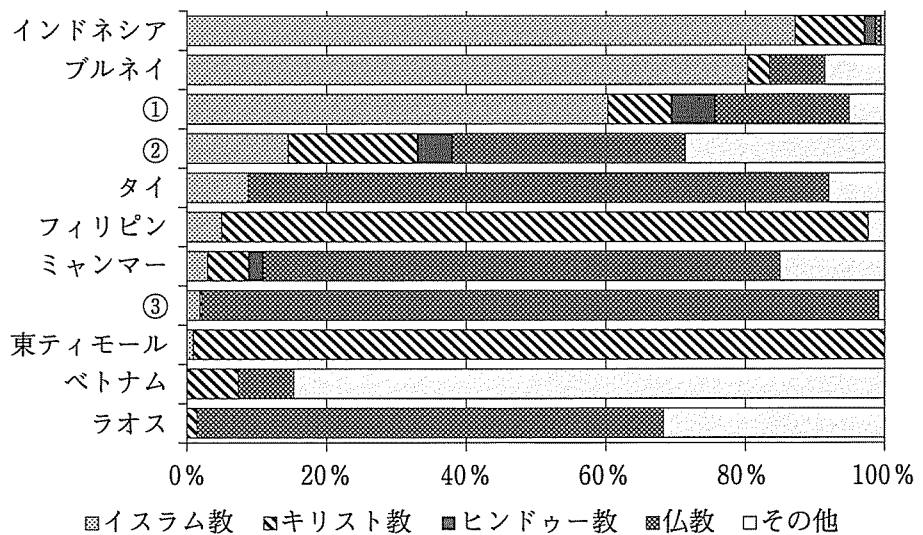


図2

(『データブック オブ・ザ・ワールド2018年版』より作成)

	①	②	③
a	カンボジア	シンガポール	マレーシア
b	カンボジア	マレーシア	シンガポール
c	シンガポール	カンボジア	マレーシア
d	シンガポール	マレーシア	カンボジア
e	マレーシア	カンボジア	シンガポール
f	マレーシア	シンガポール	カンボジア

7. この地域の風向きを考えて、鄭和の航海の往路、復路それぞれの季節（北半球における季節）として正しいものを、次の a～d から 1 つ選び、その記号をマークせよ。

- a. 往路は夏季，復路も夏季
- b. 往路は夏季，復路は冬季
- c. 往路は冬季，復路は夏季
- d. 往路は冬季，復路も冬季

8. ブミプトラの意味として正しいものを、次の a～d から 1 つ選び、その記号をマークせよ。

- a. 中国系マレーシア人
- b. インド系マレーシア人
- c. マレー半島の先住民
- d. 多民族共存

【以下余白】

