

E 地 理 問 題

注 意

1. 試験開始の指示があるまでこの問題冊子を開いてはいけません。
2. 解答用紙はすべてHBの黒鉛筆またはHBの黒のシャープペンシルで記入することになっています。HBの黒鉛筆・消しゴムを忘れた人は監督に申し出てください。
(万年筆・ボールペン・サインペンなどを使用してはいけません。)
3. この問題冊子は12ページまでとなっています。試験開始後、ただちにページ数を確認してください。なお、問題番号はⅠ～Ⅲとなっています。
4. 解答用紙にはすでに受験番号が記入されていますので、出席票の受験番号が、あなたの受験票の番号であるかどうかを確認し、出席票の氏名欄に氏名のみを記入してください。なお、出席票は切り離さないでください。
5. 解答は解答用紙の指定された解答欄に記入し、その他の部分には何も書いてはいけません。
6. 解答用紙を折り曲げたり、破ったり、傷つけたりしないように注意してください。
7. この問題冊子は持ち帰ってください。

マーク・センス法についての注意

マーク・センス法とは、鉛筆でマークした部分を機械が直接よみとって採点する方法です。

1. マークは、下記の記入例のようにHBの黒鉛筆で枠の中をぬり残さず濃くぬりつぶしてください。
2. 1つのマーク欄には1つしかマークしてはいけません。
3. 訂正する場合は消しゴムでよく消し、消しきずはきれいに取り除いてください。

マーク記入例：

A	1	2	3	4	5
	○	○	●	○	○

(3と解答する場合)

I. 近江八幡市付近の地形図（5ページ参照）と、これに関連する次の文を読み、下記の設問A・Bに答えよ。解答は解答用紙の所定欄にしるせ。

東京都板橋区に住むAさんは、週末を利用して滋賀県¹⁾近江八幡市を訪れた。東京駅から東海道新幹線に乗ること2時間余り、滋賀県内で唯一の新幹線停車駅（イ）駅で東海道本線（琵琶湖線）の下り新快速電車に乗り換えると、約20分で近江八幡駅に到着した。観光案内所に立ち寄った後、駅前の大型商業ビルを左手に見て、そこから²⁾鶴翼山（八幡山）麓の図書館へ至る街路を進んだ。緩やかな右カーブの後、鶴翼山が正面に見えてくると、右手奥に市役所が近づいてきた。市役所は近江八幡駅から直線で約（ロ）kmの距離に位置し、市役所に隣接して（ハ）と警察署が立ち並ぶほか、これらに近接して保健所²⁾など、いくつかの官公署・公共施設が置かれている。

この街路をさらに直進すると、やがて城下町を起源とする旧市街地にさしかかった。旧市街地の広がり、建物密集地と（ニ）状の規則的な街路網によって、地形図から明瞭に判読できる。今では、伝統的な商家を中心に近江商人の町並として観光化が進み、鶴翼山と城下町との境界を流れる八幡堀³⁾の水辺に沿った遊歩道は、多くの観光客で賑わいを見せていた。

八幡山ロープウェイで山麓駅から山頂駅に着くと、眼下に近江八幡の新旧市街地を一望⁴⁾することができた。旧市街地とそれに接続して形成された新市街地によって近江八幡の市街地が構成されていることは、地形図のみならず⁵⁾景観的にも明瞭に見てとれた。鶴翼山頂には271.7mを示す地図記号の（ホ）があり、その付近から東方向には、2006年に国内最初の重要文化的景観に選定された「近江八幡の水郷」の一部を見渡すことができた。水郷に暮らす人びとは、ヨシ（葦）の栽培・収穫と加工を生業とし、現在でもヨシ地の維持・整備や加工の作業には、伝統的な手法を用いているという。駅へ戻る途中、琵琶湖産の魚を用いて作られる郷土食を土産として購入した。この郷土食は、独特の匂いとその旨味⁷⁾で知られる発酵食品であり、かつてより滋賀県の多くの家庭⁷⁾で作られてきた。

近江八幡駅から私鉄を利用して1駅、旧中山道の宿場町である武佐⁸⁾へ向かうことにした。武佐宿は、Aさんが住む東京都板橋区と旧中山道によって結ばれていたのである。

A. 文中の空所(イ)～(ホ)それぞれにあてはまるもっとも適当な語句または数字をしるせ。

B. 文中の下線部1)～8)それぞれに対応する次の問1～8に答えよ。

1. 滋賀県の県庁所在地をしるせ。

2. 保健所を示す地図記号を，地形図から抜き出して描け。
3. 次の写真1は，八幡堀の写真（2015年撮影）である。この写真から，八幡堀は近江商人が活躍した江戸時代，どのような役割を果たしていたと考えられるか，その根拠とともに1行でしるせ。



写真1

4. 地形図を判読して，八幡山ロープウェイの山麓駅と山頂駅の標高差をしるせ。
5. 次の写真2は，八幡山ロープウェイ山頂駅から見た新旧市街地の写真（2015年撮影）である。新旧市街地の景観の違いは何か，1行でしるせ。



写真2

6. 次の写真3は、水郷地帯に位置する円山町付近の写真（2016年撮影）である。地形図（5ページ）を判読して、水郷の集落とそれを取り巻く土地利用の特徴を2行でしるせ。




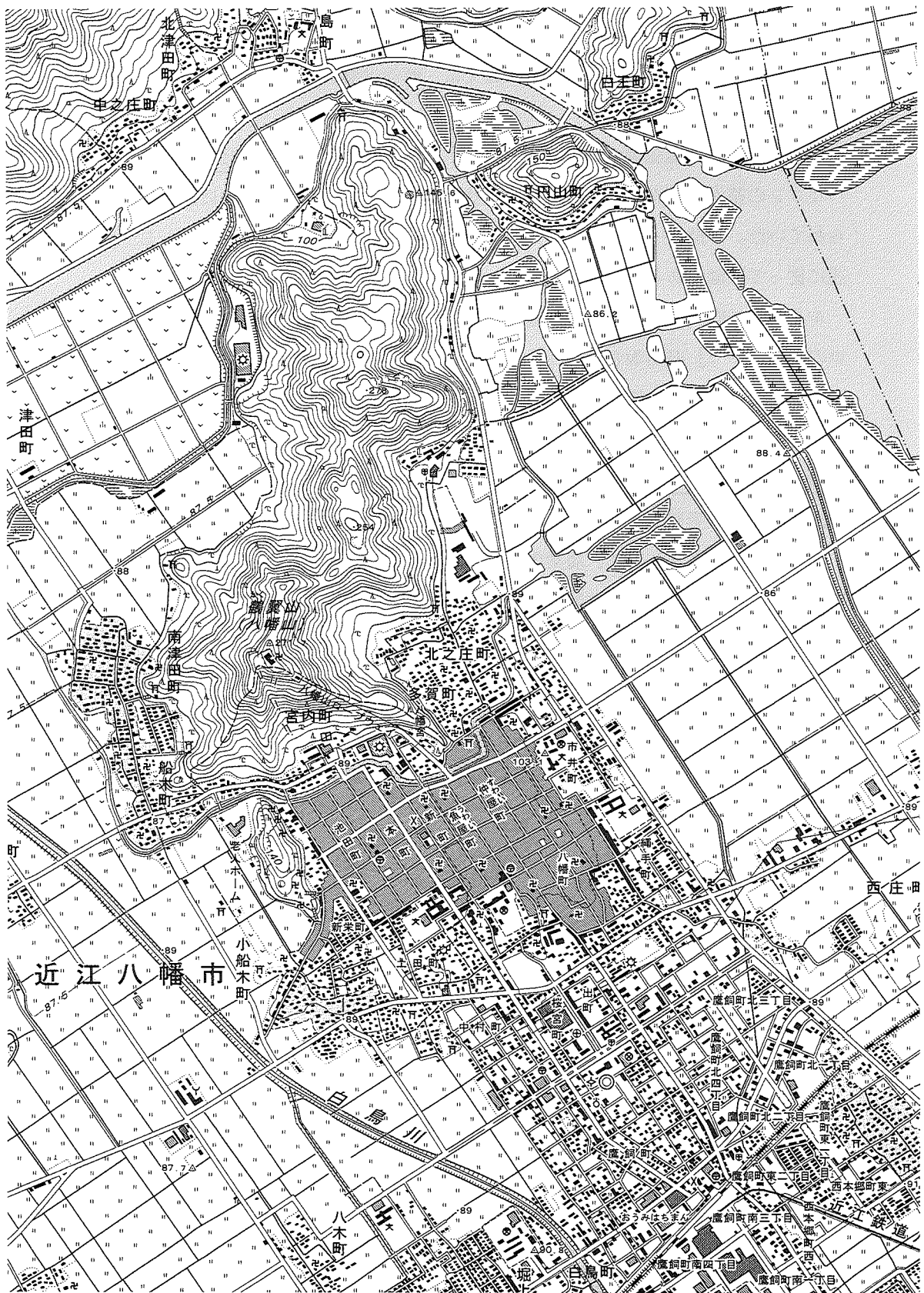
写真3

7. この郷土食としてもっとも適当なものを、次のa～eから1つ選び、その記号をマークせよ。

- a. くさや b. 鯉こいこく c. しょつつる
d. 鮎あなずし e. 松前漬け

8. 次の観光地のうち、中山道沿線にないものを、次のa～eから1つ選び、その記号をマークせよ。

- a. 安曇野 b. 軽井沢 c. 諏訪湖
d. 関ヶ原 e. 妻籠宿・馬籠宿



地形図 2万5千分の1地形図「近江八幡」(2005年発行)

(原寸, 原図はカラー, 図の真上が北)

Ⅱ. 次の文を読み、下記の設問A～Cに答えよ。解答は解答用紙の所定欄にしるせ。

地図は人々の環境認識の鏡である。メソポタミアで発見されたバビロニアの世界図は、バビロンの都が世界の中心であり、円盤状の大地がそれを取り巻く海に浮いていると考えられていた。中世ヨーロッパのTOマップは、(イ)という都市を中心とし、聖書の記述に従って楽園がある東が上になっている。

ルネサンス時代には印刷技術が進歩し、元(中国)を旅したイタリア人のマルコ＝ポーロの『(ロ)』が出版されたため、ヨーロッパにアジアの地理的知識がもたらされた。

アジアは地理的に多様で変化に富む。アジアの東部から南部にかけては降雨が多く、肥沃な土壌に恵まれていることから、その人口は古代より稠密である。稲作に向かない冷涼・乾燥地域では、アジア式畑作という農業形態がみられる。インドのデカン高原では綿花、中国北部では小麦やトウモロコシ、大豆、雑穀などの作物も栽培されている。

アジアでは時代とともに、農業生産活動が大きく変わってきた。インドでは、1970年代後半から、乳牛の品種改良や飼料の安定供給により、生乳生産量が急増した。

アジアの気候に大きな影響を与える自然現象として、台風とサイクロンがあげられる。また、エルニーニョ現象が発生すると、太平洋西部では海水温が<あ>するため、東南アジア方面で気圧が<い>なり、降水量が<う>する傾向がみられる。今日では人工衛星や航空機から電磁波や音波を用いて地球の情報をとらえる技術も開発され、気象状況および被災状況の把握に役立っている。

A. 文中の空所(イ)・(ロ)それぞれにあてはまるもっとも適当な語句をしるせ。

B. 文中の空所<あ>～<う>にあてはまる適当な語句を、それぞれに対応する次のa bから1つずつ選び、その記号をマークせよ。

<あ> a. 上昇 b. 低下

<い> a. 高く b. 低く

<う> a. 増加 b. 減少

C. 文中の下線部1)～6)それぞれに対応する次の問1～6に答えよ。

1. この世界図に示された河川の名称をしるせ。

2. 中国では北部の畑作地域と南部の稲作地域の境界線をチンリン（秦嶺）＝ホワイ川（淮河）線とよぶ。この境界線付近の1月平均気温と年降水量の組み合わせとして正しいものを、次のa～dから1つ選び、その記号をマークせよ。

	1月平均気温（℃）	年降水量（mm）
a	－5	500
b	0	1,000
c	5	1,500
d	10	2,000

3. 次の表は、間帯土壌の特徴を示すものである。表中の空所①～③それぞれにあてはまるもっとも適当な語句をしるせ。

表

土壌	分布地域	色	代表的な作物
テラローシャ	ブラジル高原南部	暗い赤紫	(①)
(②)	インドのデカン高原	黒	綿花・落花生
テラロッサ	地中海沿岸石灰岩地域	(③)	オリーブ

4. この変革は何と呼ばれるか、名称をしるせ。
5. サイクロンに関する記述として正しくないものを、次のa～dから1つ選び、その記号をマークせよ。
- サイクロンは熱帯または亜熱帯で発生する
 - サイクロンは北半球より南半球で多く発生する
 - サイクロンはインド洋と南西太平洋で発生する
 - サイクロンは緯度5度以内の赤道周辺で発生する
6. この技術は何か、その名称をしるせ。

Ⅲ. 次の文を読み、下記の設問 A・B に答えよ。解答は解答用紙の所定欄にしるせ。

国際的な人口移動は、その時代や地域のさまざまな状況を反映している。例えば20世紀後半には、工業化が遅れた国から進んだ国へと労働者の人口移動が増大した。その結果、ヨーロッパの先進国には、旧植民地を中心とするアジア・アフリカ諸国から仕事を求めて移住した人々が移民労働者として生活している。一方、地域紛争や飢餓、政治的意見や人種・国籍・宗教の違いなどを理由とする迫害から逃れるために移動する難民の数も急増している。²⁾

EU域内では、1960年代から関税を順次撤廃し、国境を越えた物資の移動が促進されてきた。また人々の移動については、1985年にフランス、西ドイツ、ベネルクス3国の間で、³⁾国境を越える人々の移動に関する自由化が模索された。その後、1995年には（イ）協定が発効して、加盟国間では国境管理が廃止された。

人の活発な移動⁴⁾によりEU諸国はますます多民族化しており、共生社会の実現に向けた課題も多い。ヨーロッパでは18世紀末頃から国民国家の理念が一般的となり、同一国家に所属する国民は文化を共有し、標準化された言語である（ロ）を使用することが望ましいとされた。しかし、国民が単一の民族からなる国家は例外的であり、同化主義による国民国家の文化的均質化に対して、各地で激しい異議申し立てがなされてきた。

国民国家内部の民族紛争は、言語や宗教の対立をきっかけとしていることが多い。例えば、複数の言語が使われる国では、（ロ）の決定や特定の言語集団の優遇政策などにより対立が起こりがちである。ゲルマン語派とラテン語派の言語境界に位置するベルギーでは、国土が（ハ）語地域とフランス語地域にほぼ二分され、首都ブリュッセルは両言語の併用地域、そして東部には（ニ）語地域が僅かに分布する複雑な言語環境下であり、言語戦争と呼ばれる対立が続いた。そのため、1993年から連邦制に移行して各地域に大幅な自治を認めている。

民族問題の解決には、それぞれの民族がもっている固有の文化や価値観を尊重する（ホ）主義の考え方が大切であり、それを具体的な政策に反映させる国々も増えている。多民族社会のオランダでは、1980年代には憲法が改正され、外国籍の人であっても一定の条件を満たせば地方参政権が得られるようになり、自分たちの宗教や価値観に従って子どもに教育を受けさせる権利も保障されている。また、この考え方は先住民族の権利回復にも大きく貢献してきた。⁵⁾異なる民族間の相互理解と不平等の解消による共生の努力が求められている。

A. 文中の空所(イ)～(ホ)それぞれにあてはまるもっとも適当な語句をしるせ。

B. 文中の下線部 1)～5)それぞれに対応する次の問 1～5 に答えよ。

1. 表 1 は、2008年における EU加盟国の中で外国籍市民が多い国々について、その国籍の上位 3つを示している。イギリス、ドイツ、フランスに該当するものを、表中の a～e から 1つずつ選び、その記号をそれぞれマークせよ。

表 1

	外国籍市民が人口に占める割合 (%)	外国籍市民の国籍		
		1位	2位	3位
a	5.8	ポルトガル	アルジェリア	モロッコ
b	8.8	トルコ	イタリア	ポーランド
c	11.6	ルーマニア	モロッコ	エクアドル
d	5.8	ルーマニア	アルバニア	モロッコ
e	6.6	ポーランド	アイルランド	インド

(EUROSTATnewsrelease 184/2009 をもとに作成)

2. 図 1 は、2011年のヨーロッパにおける総難民数に占める受け入れ国別の割合であり、図 1 中のア～ウはイギリス、スウェーデン、ドイツのいずれかである。ア～ウそれぞれに該当する国名の組み合わせとして正しいものを、下記の a～f から 1つ選び、その記号をマークせよ。

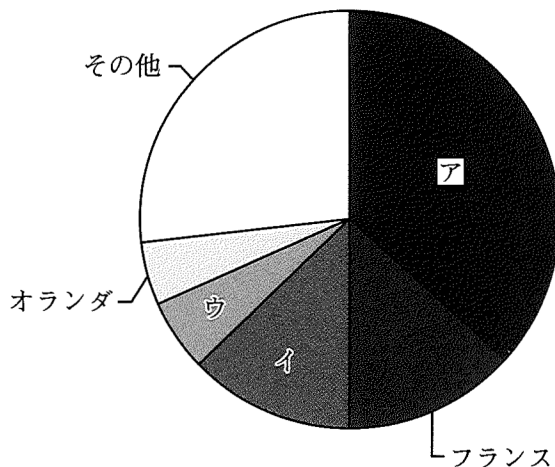


図 1

(『地理データファイル2015年度版』より作成)

	ア	イ	ウ
a	イギリス	スウェーデン	ドイツ
b	イギリス	ドイツ	スウェーデン
c	スウェーデン	ドイツ	イギリス
d	スウェーデン	イギリス	ドイツ
e	ドイツ	イギリス	スウェーデン
f	ドイツ	スウェーデン	イギリス

3. これに含まれる3ヵ国の国名をすべてしるせ。
4. この結果、国境に近い地域で起きた現象を1行でしるせ。
5. これに関する次の文中の空所(あ)～(う)それぞれにあてはまるもっとも適当な語句をしるせ。

カナダでは1999年に先住民である（あ）による自治州としてヌナブト準州が設立された。また、オーストラリアでは白豪主義政策を改め、（い）の先住権を認めて彼らの文化を尊重している。さらにニュージーランドでは、先住民である（う）の文化復興運動が進められ、国会に彼らの割り当て議席が設けられるなどの優遇措置も見られる。

【以下余白】

