

2019年度

A 日本史問題

注意

1. 試験開始の指示があるまでこの問題冊子を開いてはいけません。
2. 解答用紙はすべてHBの黒鉛筆またはHBの黒のシャープペンシルで記入することになっています。HBの黒鉛筆・消しゴムを忘れた人は監督に申し出てください。(万年筆・ボールペン・サインペンなどを使用してはいけません。)
3. この問題冊子は12ページまでとなっています。試験開始後、ただちにページ数を確認してください。なお、問題番号はI・IIとなっています。
4. 解答用紙にはすでに受験番号が記入されていますので、出席票の受験番号が、あなたの受験票の番号であるかどうかを確認し、出席票の氏名欄に氏名のみを記入してください。なお、出席票は切り離さないでください。
5. 解答は解答用紙の指定された解答欄に記入し、その他の部分には何も書いてはいけません。
6. 解答用紙を折り曲げたり、破ったり、傷つけたりしないように注意してください。
7. この問題冊子は持ち帰ってください。

マーク・センス法についての注意

マーク・センス法とは、鉛筆でマークした部分を機械が直接よみとって採点する方法です。

1. マークは、下記の記入例のようにHBの黒鉛筆で枠の中をぬり残さず濃くぬりつぶしてください。
2. 1つのマーク欄には1つしかマークしてはいけません。
3. 訂正する場合は消しゴムでよく消し、消しきずはきれいに取り除いてください。

マーク記入例：

A	1	2	3	4	5
	○	○	●	○	○

 (3と解答する場合)

I . 次の文1～5を読み、下記の設問A～Cに答えよ。解答は解答用紙の所定欄にしるせ。

1. 大海人皇子は、天智天皇の子である大友皇子が率いる近江朝廷側と戦い、勝利した。そして、(イ) 宮で即位して天武天皇となった。近江朝廷側について大豪族が没落したこともあり、天武天皇は強力な権力を握り、都城の計画や律令の編纂など、中央集権国家の建設を進めた。この中央集権国家体制を支えたのが、7世紀後半から8世紀にかけて形成された官僚制の仕組みである。律令国家の政治を統轄する機関としては < あ > が、神々の祭祀をつかさどる < い > とともに設置された。中央の機関には、八省が設けられ、各官職には、それに対応する位階が定められた。また、高い位階を与えられた者の子や孫には、父祖の位階に応じた一定の位階が自動的に与えられる < う > がとられた。

地方組織としては、全国が < え > に行政区分され、国・郡・里がおかれた。中央から派遣された国司は、国造など地方豪族の中から任命された郡司を指揮するなど、律令政治の基盤が確立された。

8世紀のはじめ、藤原不比等を中心に律令制度の確立がはかられた。彼の死後、その4人の子は、729年に左大臣(ロ) に謀叛の罪をきせて自殺させ、藤原不比等の娘の < お > を皇后に立てることに成功し、天皇家との結びつきを強めた。

2. 鎌倉幕府の根幹は、将軍と御家人との主従関係であった。源頼朝の死後、御家人中心の政治を求める動きが強まった。それとともに有力な御家人のあいだで政治の主導権をめぐる激しい争いが続き、その中で勢力をのばしたのが北条氏であった。北条義時の子の泰時は政子の後見で執権となり、合議制にもとづいて政治を行った。しかし、幕府の支配権が全国的に強化されていく中で、北条氏の権力はさらに拡大し、なかでも家督をつぐ当主である < か > の勢力が強大となった。

北条泰時は執権を中心に御家人たちが集団で幕府を運営してゆく体制をととのえ始めた。まず、執権を補佐する < き > が置かれ、有力御家人や実務官僚などから選ばれた評定衆も設置された。執権等が主導する評定を幕府の政策決定のための最高機関と位置づけたことで、将軍のもつ権限の多くは評定に移されることになった。また、武家独自の最初の法典である < く > も定められた。これは本来御家人が関係する裁判の基準として制定されたものであったが、次第に社会に広く流布するようになっていった。

3. 室町幕府は、従来朝廷がもっていた警察権をはじめとする京中の支配権も次第に掌握

し、土地に対する裁判を行い、京中の商売に税を課すようにもなった。さらに、幕府は、諸国に対して天皇の即位や内裏の造営などのために田地に（ハ）を賦課する権限をもつようになったほか、外交権なども吸収し、公武統一政権として全国的な支配権を獲得するに至った。⁵⁾

4. 徳川幕藩体制においては、その統治制度、官僚制を正当化する支配原理として儒学、とりわけ朱子学が広く受容された。朱子学は、家柄、出身という身分秩序を重視した。それは、将軍を頂点として、老中・若年寄・寺社奉行には譜代大名が、大目付・目付・奉行には旗本が、それぞれ就任する仕組みを作り上げるなど、徳川幕藩体制の支配原理ともうまく適合した。8代将軍徳川吉宗の時代になると、側近政治をやめ、将軍の意志を幕政に反映させるために、新たに〈ケ〉を設けて、将軍自ら先頭に立って改革に取り組んだ。さらに、儒学者の意見を政治の参考とするほか、より広く有能な人材を積極的に登用することで、徳川幕府成立から約100年を経て大きく⁷⁾変化しはじめた社会に対応するための制度改革を行った。また、吉宗は、儒学を民衆教化のために活用する政策を推し進めるとともに、キリスト教と関係のない漢訳洋書の輸入を許可し、オランダ語による西洋学術研究の礎も築いた。⁸⁾

5. 明治新政府は、五箇条の誓文を出した。それを受けて政体書を⁹⁾発表し、中央政府への権力集中と形式的な三権分立制などを取り入れた。しかし、この政府組織は有効に機能しなかったために、天皇の権威に依拠した中央集権的な統治構造改革が目指された。政府は1882年に、伊藤博文らをヨーロッパに派遣した。伊藤は、特にウィーン大学の（ニ）から大きな影響を受け、君主権力を憲法によって制限することや法律を理解した官吏を育成するための大学を作ることの重要さなどを学んで帰国した。その後、1885年に、内閣制度が創設され、実質的な最高責任者である内閣総理大臣のもとで、各省の任務について責任を持つ国务大臣から構成される内閣が形成された。ただ、〈コ〉省は、内閣の外におかれた。さらに、1886年に、〈サ〉令が公布され、その結果、〈サ〉が官吏を養成する役割を担うようになった。翌年には、文官高等試験の制を定めて官吏を登用する制度が形づくられた。これらを受けて、その後、国家運営の担い手は、薩長藩閥から、専門の教育を受けた官吏に移行することになる。他方で、政党などとの関係で官吏や軍のあり方も問題とされるようになった。¹⁰⁾

A. 文中の空所(イ)～(ニ)にあてはまる適当な語句を、それぞれ対応する次の a～d から 1つずつ選び、その記号をマークせよ。

- (イ) a. 飛鳥浄御原 b. 近江大津 c. 難波 d. 平城
(ロ) a. 吉備真備 b. 道鏡 c. 長屋王 d. 藤原百川
(ハ) a. 撰銭 b. 関銭 c. 段銭 d. 津料
(ニ) a. グリフィス b. シュタイン c. フルベッキ d. ロエスレル

B. 文中の空所<あ>～<さ>それぞれにあてはまる適当な語句をしるせ。

C. 文中の下線部 1)～10)にそれぞれ対応する次の問 1～10)に答えよ。

- この戦いを何と呼ぶか。その名をしるせ。
- 中国の都城を模した、この都を何と呼ぶか。その名をしるせ。
- これに関する記述として正しいのはどれか。次の a～d から 1つを選び、その記号をマークせよ。
 - 位階をもつ官人は、課役を免除された
 - 大宝律令のうち、律は行政法や民衆の統治について定めたものである
 - 大宝律令は、隋の永徽律令を手本にしたものである
 - 初めて戸籍が作成されたのは、天武天皇の時代である
- これに関する記述として正しくないのはどれか。次の a～d から 1つを選び、その記号をマークせよ。
 - 軍役や公事などは、惣領が一族を代表して引き受けた
 - 守護の基本的職務である大犯三ヵ条は、大番催促と謀叛人・殺害人の逮捕であった
 - 源頼朝が、征夷大將軍に就任した1192年に、守護・地頭の設置が認められた
 - 源頼朝は、軍功などに対して新たに領地を与える新恩給与を行った
- このことに関わって、瑞溪周鳳の編著で、外交文書が多数おさめられている書物の名をしるせ。

6. これに関する記述として、正しくないのはどれか。次の a～d から 1 つ選び、その記号をマークせよ。
- a. 新井白石は、江戸に私塾蕺園塾を開き、儒学の古典を原文で読むべきだとなえた
 - b. 宋の朱子学は、鎌倉幕府に対する後醍醐天皇を中心とした討幕運動の理論的なよりどころともなった
 - c. 南学（海南学派）の流れを受けた山崎闇斎は、朱子学と神道を融合させた垂加神道をとらえた
 - d. 藤原惺窩の門人の林羅山は、徳川家康の政治上の顧問となった
7. このことに関わって登用された人物はどれか。次の a～d から 1 つ選び、その記号をマークせよ。
- a. 木下順庵 b. 佐藤信淵 c. 高橋至時 d. 田中丘隅
8. このことに関わって蘭学研究を命じられた人物はどれか。次の a～d から 1 つ選び、その記号をマークせよ。
- a. 青木昆陽 b. 渋川春海 c. 山片蟠桃 d. 山脇東洋
9. これにより規定された立法機関を何と呼ぶか。その名をしるせ。
10. これに関する次の出来事 a～d のうち、もっとも古いものを解答欄の i に、次に古いものを ii に、以下同じように iv まで年代順にマークせよ。
- a. 内閣直属の総合国策立案機関としての企画院が発足した
 - b. 文官任用令を改正し、各省次官などの勅任官に政黨員が就くことを制限した
 - c. 文官任用令を改正し、政黨員が高級官吏になれる可能性を広げた
 - d. 陸・海軍大臣現役武官制を初めて定め、陸・海軍大臣の就任資格を制限した

Ⅱ. 次の文1～6を読み、下記の設問A・Bに答えよ。解答は解答用紙の所定欄にしるせ。

1. エマニュエル＝マクロン大統領は、2018年のフランス革命記念日（7月14日）にパリで行われた軍事パレードに、日本政府代表を特別招待した。日本からは河野太郎外務大臣が出席したほか、自衛隊員も行進に参加した。これは、日仏交流160周年を記念してのことである。

アロー戦争の際、清が1858年にイギリス・フランスなどと（イ）を結ぶと、下田に駐在していた初代アメリカ総領事は、イギリス・フランスの脅威を説いて貿易を始めるための条約に調印するよう徳川幕府に迫った。その結果大老井伊直弼は天皇の許しを得ないままに同年、日米修好通商条約に調印し、次いでオランダ・ロシア・イギリス・フランスとも同じような条約を締結した。これが、国家としての日仏外交関係の始まりである。

2. 近代以前、初めて日本人がフランスの地を踏んだのは、1613年に伊達政宗によってスペイン国王およびローマ教皇のもとに派遣された家臣（ロ）の一行だとされる。彼らはローマに向かう途中、嵐を避けてフランス南部のサン＝トロペに寄港した。この頃フランスではブルボン朝（ルイ王朝）の絶対王政の時代であったが、フランスのユグノー教徒を両親とするフランソワ＝カロンは、1619年にオランダ東インド会社の社員として平戸に赴任し、1639年には平戸商館長となった。¹⁾

この間幕府の鎖国方針が強められ、1636年に布教の目的で琉球に密入国したフランス人のドミニコ会神父ギョーム＝クールテは、直ちに捕えられて拷問された挙句、翌1637年に殉教した。以後日仏交流はしばらく途絶えることとなった。その後、ナポレオン1世がオランダを征服すると、オランダと敵国となったイギリス軍艦が1808年にオランダ船を拿捕しようと長崎に侵入し、長崎奉行はその責任をとって自殺した。²⁾³⁾

3. 日本がアメリカやフランスなどと修好通商条約を結んだ時期のフランスは、ナポレオン3世の第二帝政期であった。西洋諸国との貿易開始により、国内の産業は大きな影響を受けた。また、薩英戦争と四国艦隊下関砲撃事件の後、幕府は通商条約締結の際に定めた関税率を諸外国に有利なように引き下げ、貿易に対する各種の制限を撤廃する（ハ）を結んだが、これにより貿易上の不平等は拡大した。⁴⁾

イギリス公使は、天皇を中心とする雄藩連合政権の実現に期待して、薩英戦争以降薩摩藩を支持するようになったが、フランス公使（ニ）は幕府を支持し軍事的・財政

的支援を行った。幕府も国防を固めるべく、フランスの顧問団を招き、フランス人技師の指導を受けて造船のための施設を建設し、フランス式に陸軍を訓練した⁵⁾。徳川慶喜はパリ万国博覧会に弟の徳川昭武を派遣した。日本から出品・展示されその終了後に販売された陶器・仏像・根付・錦絵などは、フランスを中心に日本の美術などに対する強い関心をもたらした。特に、画家たちが浮世絵から大きな影響を受け⁷⁾、その後明治時代になると黒田清輝が今度はフランスで印象派の明るい画風を学び、それを日本に紹介することになる。また（ホ）は、彫刻「考える人」で有名なロダンに学び、帰国してブロンズ像「女」など西洋彫刻の代表作を残した。

4. 明治以降の日本が、経済・法律・政治においてフランスから受けた影響も大きい。「日本資本主義の父」と呼ばれる渋沢栄一は徳川慶喜に仕えていたが、徳川昭武に随行して第二帝政期のフランスで株式会社や銀行などの新たな制度を学び、多くの事業会社や鉄道会社などを創立した。全国から応募した士族の子女を工女として養成した富岡製糸場も、渋沢の企画によりフランス製の最新式機械を導入し、フランス人技師の指導の下に創業した。

一方、法律では、明治政府により1873年に招へいされたボアソナードが諸法典を起草すると共に、フランス法学と自然法学の教育を行った。彼は、台湾出兵の後始末のため北京に乗り込んだ大久保利通に随行したり、政府の法律顧問として条約改正案の外国人判事任用に反対意見書を出したりするなど、日本の外交・司法にもかかわった。

また、岩倉使節団に同行しフランスに留学した中江兆民は、自由民権運動に理論的基盤を提供し、フランスで学んだこともある福地源一郎は、民権派¹³⁾に対抗して政府系の立憲帝政党を結成した。兆民がフランスで知り合い帰国して共に『東洋自由新聞』を創刊した西園寺公望は、その後立憲政友会の総裁となり、明治末期に2度組閣した。また、パリ講和会議における全権委員となり、昭和期には唯一残った（ヘ）として非公式に天皇を補佐し後継首相を推薦した。最初の本格的政党内閣を組織したと言われる原敬も、フランス語を学び、パリの日本公使館で勤務した経験があり、それらの経験から得たものは大きかったと考えられる。日本の政党政治にフランスが影響を与えたことは、否定できないであろう。

5. 第二帝政期に経済発展を遂げ、イギリスと競って日本にも影響力を及ぼそうとしたフランスであったが、普仏戦争に敗北して第三共和政になって以降、フランスが再び日本の外交相手として本格的に登場するのは、三国干渉と言えよう。フランスは三国干渉で

日本の遼東半島領有を阻止し、日露戦争に際して参戦はしなかったがロシアに融資を行った。第一次世界大戦では、日本とフランスは同じ連合国側となった。

このような日本とフランスとの関係は、アジアにおけるそれぞれの植民地支配や勢力範囲の確保という背景とも密接にかかわるものであった。このため、第二次世界大戦が始まり、ドイツがフランスを降伏させると、日本軍はその植民地に進駐した。この進駐は、日本がアメリカ・イギリス・オランダとの戦争に踏み切る1つのきっかけともなった。

6. 第二次世界大戦後、両国は国際機関や国際組織で共に重要な役割を担うようになった。1975年に経済成長・貿易・通貨問題などを話し合うため米日独英仏伊6カ国の首脳により開催され、その後拡大された（ト）や、1985年にドル高是正のための介入を決めた取り決めである（チ）などが、その例である。

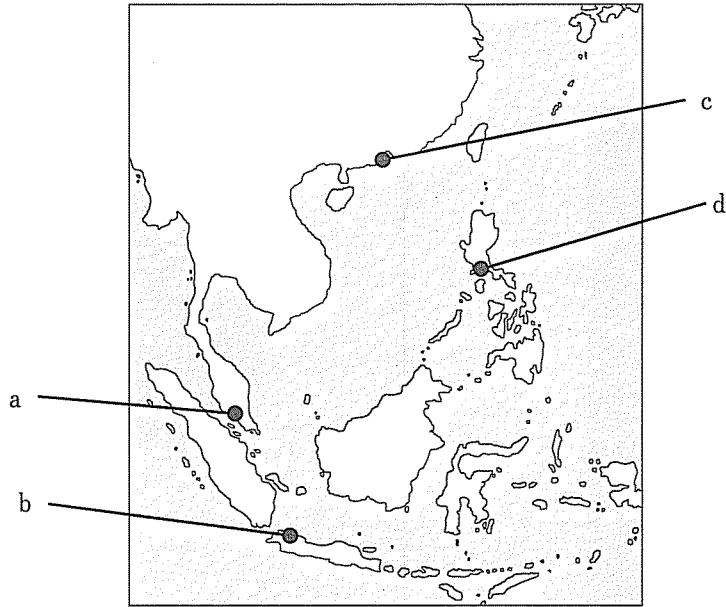
1960年代に米ソ両国は核兵器開発競争を展開し、フランスも1960年にドゴール大統領の下で核実験を成功させて、アメリカ・ソ連・イギリスに続く核保有国となった。一方で、フランスは日本と同様、動力資源に乏しく、世界一原子力発電の割合が高い原子力大国として知られている。日本も石油依存を減らすために原子力発電導入に舵をきったものの、東日本大震災で一時原発ゼロとなり、日仏両国は、電源確保、経済成長、環境対策において共通の課題を有している。

なお、「影武者」で黒澤明監督がカンヌ国際映画祭のパルム・ドール（最高賞）を受賞したことは有名であるが、日本とフランスは、漫画・アニメ・ゲーム・料理などの分野を始め、近年さらに文化面で交流を深めている。

A. 文中の空所(イ)～(チ)それぞれにあてはまる適当な語句をしるせ。

B. 文中の下線部1)～17)にそれぞれ対応する次の問1～17に答えよ。

1. この会社の総督が駐在する東アジア貿易の拠点として正しいのはどれか。次の地図中のa～dから1つ選び、その記号をマークせよ。



2. この200年以上後の1865年に落成したカトリック教会の建物を、隠れキリシタンらがフランス寺見物と称して訪れ、フランス人宣教師に「サンタマリアの御像はどこ」と尋ねて信仰を告白した。隠れキリシタンらが訪ねて来たこの建物の名をしるせ。
3. この時、長崎を警護する任務についていて責任を問われ処罰された藩はどれか。次のa～dから1つ選び、その記号をマークせよ。
- a. 会津藩 b. 佐賀藩 c. 薩摩藩 d. 水戸藩
4. この中で、当時の西洋諸国との貿易開始により、輸出の中心的産業となったものはどれか。次のa～dから1つ選び、その記号をマークせよ。
- a. 絹織物業 b. 製糸業 c. 製糖業 d. 綿織物業
5. この施設にあたるものはどれか。次のa～dから1つ選び、その記号をマークせよ。
- a. 石川島造船所 b. 長崎製鉄所
c. 兵庫造船所 d. 横須賀製鉄所
6. この時軍事教官団の一員だったジュ＝ブスケが、その後明治政府のお雇い外国人となり軍人教育にあたったことなどもあり、陸軍軍人の多くがフランスに留学した。その1人で、後に皇族内閣を組織した人物の名をしるせ。

7. これを何と呼ぶか。その名をカタカナ6字でしるせ。

8. このうち、歌川（安藤）広重の「名所江戸百景」の「大はしあたけの夕立」や「亀戸梅屋敷」などの絵を模写したことで有名な画家はどれか。次のa～dから1つ選び、その記号をマークせよ。

- a. ゴッホ b. マネ c. モネ d. ルノアール

9. この人物が描いたのはどれか。次のa～dから1つ選び、その記号をマークせよ。


a.




b.



c.



d.



10. この1つで、1883年に開業し、電灯を整備して昼夜二交代制を採用するとともに、イギリス製の最新式機械を導入して約1万錘の大規模操業を行った企業の名をしるせ。
11. この人物が起草した法律でないのはどれか。次のa～dから1つ選び、その記号をマークせよ。
- a. 刑法 b. 商法 c. 治罪法 d. 民法
12. これに反対して、農商務大臣谷干城が抗議辞任し、三大事件建白運動がおこった。このときの外務大臣はどれか。次のa～dから1つ選び、その記号をマークせよ。
- a. 青木周蔵 b. 井上馨 c. 大隈重信 d. 陸奥宗光
13. これに関する記述として正しくないのはどれか。次のa～dから1つ選び、その記号をマークせよ。
- a. 植木枝盛は立憲君主制をとりつつも一院制をとり、抵抗権・革命権を認める急進的な憲法草案を作成した
- b. 加藤弘之は社会進化論の立場から中江兆民ら民権派の天賦人権説を批判し、馬場辰猪や植木枝盛が加藤に反論した
- c. 中江兆民はルソーの社会契約論を『人権新説』として紹介し、「東洋のルソー」と呼ばれた
- d. 中江兆民も関わった自由党はフランス流の急進的な自由主義を唱え、イギリス流の議院内閣制を主張する立憲改進黨と対抗した
14. この流れに関する次の出来事a～dのうち、もっとも古いものを解答欄のiに、次に古いものをiiに、以下同じようにivまで年代順にマークせよ。
- a. 英領マレー半島上陸 b. 南部仏印進駐
- c. 北部仏印進駐 d. 蘭印占領
15. これに関する記述として正しくないのはどれか。次のa～dから1つ選び、その記号をマークせよ。
- a. 1949年に日本人で初めてノーベル賞を受賞した湯川秀樹は、二番目の受賞者となった朝永振一郎と共に核兵器廃絶を訴えた
- b. 1953年に第一回原水爆禁止世界大会が開催されたが、翌年アメリカがビキニ環礁で水爆実験を強行し、第五福竜丸が被爆した
- c. 1963年に地下核実験を除く部分的核実験禁止（停止）条約を米英ソ三国が結び、日本も調印した
- d. 1968年に核（兵器）拡散防止条約が調印されたが、この時核保有国ではフランスと中国が参加せず、日本は1970年に調印した

16. 高度経済成長期の日本において、主に石炭からこれへと動力源が転換したことは何と呼ばれるか。その名を7字でしるせ。
17. この人物が1951年のベネチア国際映画祭で金獅子賞（最高賞、グランプリ）を獲得した映画のタイトルをしるせ。