

法学部A方式Ⅰ日程・文学部A方式Ⅱ日程・経営学部A方式Ⅱ日程

3 限 選 択 科 目 (60分)

科 目	ページ	科 目	ページ
政治・経済	2～20	日 本 史	22～41
世 界 史	42～59	地 理	60～68
数 学	70～75		

〈注意事項〉

1. 試験開始の合図があるまで、問題冊子を開かないこと。
2. 解答はすべて解答用紙に記入しなさい。
3. 科目の選択は、受験しようとする科目の解答用紙を選択した時点で決定となる。一度選択した科目の変更は一切認めない。
4. 数学については、定規、コンパス、電卓の使用は認めないので注意すること。
5. マークシート解答方法については以下の注意事項を読みなさい。

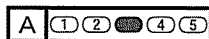
マークシート解答方法についての注意

マークシート解答では、鉛筆でマークしたものを機械が直接読みとって採点する。したがって解答はHBの黒鉛筆でマークすること(万年筆、ボールペン、シャープペンシルなどを使用しないこと)。

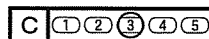
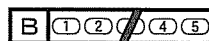
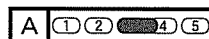
記入上の注意

1. 記入例 解答を3にマークする場合。

(1) 正しいマークの例



(2) 悪いマークの例



枠外にはみださないこと。

○でかこまないこと。

2. 解答を訂正する場合は、消しゴムでよく消してから、あらためてマークすること。
3. 解答用紙をよごしたり、折りまげたりしないこと。
4. 問題に指定された数よりも多くマークしないこと。

6. 問題冊子のページを切り離さないこと。

(日本史)

〔I〕 つぎの文章A～Dを読んで、下記の問いに答えよ。

A 蘇我氏は渡来人と結んで朝廷の財政権をにぎり、政治機構の整備や仏教の受容を積極的に進めた。蘇我馬子は政治の実権や崇仏をめぐって長らく対立関係にあった物部 ① を滅ぼし、592年には崇峻天皇を暗殺して政治権力を掌握した。新たに即位した推古天皇のもとで、馬子や厩戸王(聖徳太子)らが協力して国家組織の形成を進め、603年には冠位十二階、翌604年には憲法十七条が定められた。このうち憲法十七条は、豪族たちに官僚としての自覚を求めるとともに、仏教を新しい政治理念として重んじるものであった。

B 聖武天皇は仏教をあつく信仰し、鎮護国家の思想によって国家の安定をはかろうとした。天皇は741(天平13)年に国分寺建立の詔を出し、743年には大仏造立の詔を出した。聖武天皇の娘である孝謙天皇の時に、大仏の開眼供養の儀式がおこなわれた。大寺院では仏教理論の研究が進められ、南都六宗とよばれる学系が形成された。ただし、僧侶の活動は一般に寺院内に限定され、社会事業をおこなう僧のなかには国家から取締りを受ける例もあった。また、大仏造立などの事業は国家財政のなかで大きな負担ともなった。

C 8世紀末から9世紀末ころまでには、新たに伝えられた天台宗・真言宗が広まり、密教がさかんになった。桓武天皇や嵯峨天皇はこれらの新しい仏教を支持した。最澄は天台宗を開き、独自の大乘戒壇の創設をめざした。これは最澄の死後に実現し、比叡山延暦寺はやがて仏教教学の中心となって、後の鎌倉新仏教の開祖たちも多くここで学んだ。空海は長安で密教を学んで帰国し、高野山に金剛峰寺を建てて真言宗を開いた。天台宗・真言宗ではともに国家・社会の安泰を祈ったが、加持祈禱によって災いを避け、幸福を追求するという現世利益の側面からも皇室や貴族たちの支持を受けた。

D 摂関期においては神仏習合の思想も進み、本地垂迹説も生まれた。また、災厄から逃れようとする御霊信仰が広まり、御霊会が盛んになった。こうした風潮のなかで、来世において極楽浄土に往生し、悟りを得て苦がなくなることを願う浄土教も流行した。この信仰は末法思想によっていっそう強められ、社会に大きな影響を与えた。この時期には、往生をとげることができたと信じられた人びとの伝記を集めた往生伝が作られるなどしており、来世で救われたいという願望が高まっていったのである。

問1 A・B・C・Dの各時期を代表し現存する寺院建築としてもっとも適切な組み合わせを、以下のア～エのなかから一つ選び、その記号を解答欄にマークせよ。

- | | | |
|---|-----------|-----------|
| ア | A 法隆寺金堂 | B 唐招提寺金堂 |
| | C 室生寺金堂 | D 法界寺阿弥陀堂 |
| イ | A 唐招提寺金堂 | B 法隆寺金堂 |
| | C 法界寺阿弥陀堂 | D 室生寺金堂 |
| ウ | A 法隆寺金堂 | B 室生寺金堂 |
| | C 唐招提寺金堂 | D 法界寺阿弥陀堂 |
| エ | A 唐招提寺金堂 | B 法界寺阿弥陀堂 |
| | C 法隆寺金堂 | D 室生寺金堂 |

日本史

問2 下線部 a に関連して、仏教の伝来と受容に関しては諸説があるが、それらに関する記述として誤っているものを、以下のア～エのなかから一つ選び、その記号を解答欄にマークせよ。

ア 538年に百済国の王が仏像などを伝え、僧たちを送ってきたという記録が『上宮聖徳法王帝説』に残されている。

イ 552年に百済国の王が仏像などを送ってきたという記録が『日本書紀』に残されている。

ウ 『上宮聖徳法王帝説』によれば、蘇我馬子は諸国が礼拝しているので仏教を受容すべきであると主張した。

エ 『日本書紀』によれば、物部尾輿らは旧来の神祇に対する信仰を主張した。

問3 空欄①にはいるもっとも適切な人名を、解答欄に漢字2文字で記せ。

問4 下線部 b について、憲法十七条の内容のうち、仏教に関する記述としてもっとも適切なものを、以下のア～エのなかから一つ選び、その記号を解答欄にマークせよ。

ア 夫れ事は独り断むべからず。

イ 篤く三宝を敬へ。

ウ 詔を承りては必ず謹め。

エ 群卿百寮、礼をもって本とせよ。

問5 下線部 c について、国分寺の造営に関する記述として正しいものを、以下のア～エのなかから一つ選び、その記号を解答欄にマークせよ。

ア 諸国には国分寺とともに国分尼寺も造営され、二つの寺にはそれぞれ20名の僧がおかれた。

イ 国分寺は法華滅罪之寺とよばれた。

ウ 国分寺には必ず五重塔を置くよう命じられた。

エ 諸国には金光明最勝王経および妙法蓮華経を一部ずつ写させた。

問6 下線部 d について、取締りを受けながらも民衆からの支持をあつめ、大仏造営事業にも協力し、のちに大僧正に任ぜられた僧を、以下のア～エのなかから一人選び、その記号を解答欄にマークせよ。

ア 空也 イ 良弁 ウ 行基 エ 義淵

問7 下線部 e に関連して、密教との関係の深い絵画作品としてもっとも適切なものを、以下のア～エのなかから一つ選び、その記号を解答欄にマークせよ。

ア 過去現在絵因果経 イ 教王護国寺両界曼荼羅
ウ 薬師寺吉祥天像 エ 北野天神縁起絵巻

問8 下線部 f について、空海に関する記述として正しいものを、以下のア～エのなかから一つ選び、その記号を解答欄にマークせよ。

ア 『文鏡秘府論』を著し、儒教・仏教・道教のなかで仏教の優位を論じた。
イ 近江出身で上京して大学などで学んだ。
ウ 『凌雲集』『性靈集』など漢詩文とそれに関連する書籍を著した。
エ 嵯峨天皇から平安京に教王護国寺(東寺)を賜った。

問9 下線部 g について、本地垂迹説に関する記述として正しいものを、以下のア～エのなかから一つ選び、その記号を解答欄にマークせよ。

ア 本地垂迹説の起源は、古墳時代の岩(磐)座での祭祀にさかのぼる。
イ 本地垂迹説とは、神は仏が姿を変えてこの世に現れたものとする思想である。
ウ 本地垂迹説の影響の下で、平安京には神護寺などの寺院がつくられた。
エ 鎌倉時代には度会家行が本地垂迹説を唱え、伊勢神道が形成された。

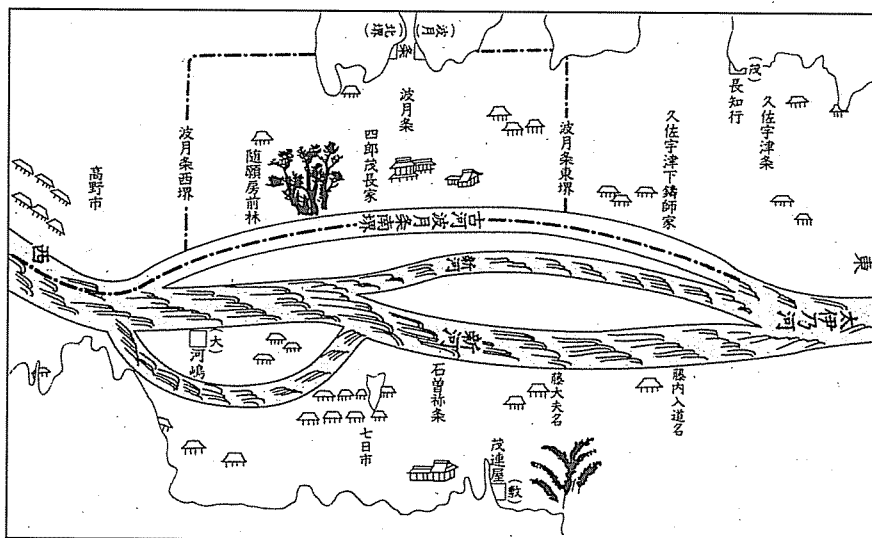
問10 下線部 h に関連して、極楽浄土に往生するための要点を記した書物を残し、惠心僧都として知られる僧は誰か。解答欄に漢字 2 文字で記述せよ。

日本史

問11 下線部 i について、『日本往生極楽記』の作者を、以下のア～エの中から一人選び、その記号を解答欄にマークせよ。

ア 藤原実資 イ 皇円 ウ 慶滋保胤 エ 慈円

- 〔Ⅱ〕 つぎの図は鎌倉時代の荘園村落の状態を示す絵図を模写したものである。この絵図を見、続く説明文を読んで、下記の問いに答えよ。



(『中世荘園絵図の世界』より)

この荘園の名は奥山荘といい、越後国蒲原郡にあった。もともとは越後城氏を開発領主として成立した撰閥家領である。源平争乱で城氏が没落したあと、その地頭職は木曾義仲を追討した恩賞として和田 (侍所別当)の弟義茂に与えられ、和田氏、三浦氏が和田合戦、 合戦で没落した後は、この荘園だけが、義茂の子孫三浦和田氏の「一所懸命」の地となった。

問1 空欄 に入るもっとも適切な人名(漢字2文字)を解答欄に記せ。

問2 空欄 に入るもっとも適切な語(漢字2文字)を解答欄に記せ。

問3 この絵図中に久佐宇津条・波月条とあるが、これらの「条」とはどのような意味であると考えられるか。下記の説明文(P.29 以下同)ア～スのなかからもっとも適切なものを一つ選び、その記号を解答欄にマークせよ。該当するものがない場合にはセをマークせよ。

日本史

- 問4 藤内入道名・藤大夫名というものがある。この場合の「名」とはどのようなものだと考えられるか。下記の説明文ア～スのなかからもっとも適切なものを一つ選び、その記号を解答欄にマークせよ。該当するものがない場合にはセをマークせよ。
- 問5 茂連屋敷・四郎茂長家と見えている茂連・茂長らは、この奥山荘において、どんな性格の人物と考えたらよいか。下記の説明文ア～スのなかからもっとも適切なものを一つ選び、その記号を解答欄にマークせよ。該当するものがない場合にはセをマークせよ。
- 問6 高野市・七日市とあるが、これらはどのようなものと考えられるか。下記の説明文ア～スのなかからもっとも適切なものを一つ選び、その記号を解答欄にマークせよ。該当するものがない場合にはセをマークせよ。

問7 久佐宇津下^{いもし}鑄師家の「鑄師」とはどのようなものであると考えられるか。下記の説明文ア～スのなかからもっとも適切なものを一つ選び、その記号を解答欄にマークせよ。該当するものがない場合にはセをマークせよ。

〔説明文〕

- ア 茂連・茂長らは奥山荘における普通の農民(作人)である。
- イ 名はその別名を条といい、今日の村という意味である。
- ウ 鑄師は鍛冶屋である。荘園内の農民に供給する鉄製農具などの手工業的生産者である。
- エ 茂連・茂長らは田堵として地子田経営を行っていた。
- オ 市場である。荘園内には町並もつくられて店舗商業が営まれ、常時商人がいて営業していた。
- カ 名田であることをあらわしている。
- キ 年貢・公事の総称として使用されている。
- ク 鑄師は製鉄業者である。鍛冶屋に供給する鉄素材を生産していた。
- ケ 条は、条里坪付によって所在地をあらわしたものの名残である。
- コ 茂連・茂長らは在地の地頭と考えられ、奥山荘を直接支配・管理する地位にあった。
- サ 条はその別名を名ともいい、負名という意味である。
- シ 荘園領主が徴税のために、人を単位として設定した田堵を意味している。
- ス 市場である。三度市とか三斎市などといわれていて、月次定期市の開かれていたところである。

日本史

問 8 この荘園の事例も踏まえながら、摂関家領荘園が没落していく過程を80字以内で論述せよ。なお歴史的事項については、漢字で答えること。また句読点は1字分とし、西暦などの算用数字は2桁を1字分として記入せよ。

下書き用(横書き, 20字×4行=80字)

〔Ⅲ〕 つぎの文章A～Cを読んで、下記の問いに答えよ。

A 18世紀末から19世紀前半にかけてロシア・イギリス・アメリカなどの外国船が日本各地の港や近海に現れた。このような情勢のなかで、幕府にとって海外情報を知る必要が高まった。幕府の では、天文方が中心となって、様々な洋書が翻訳された。天文方は最新の情報を利用した を作成した。洋学の研究は幕府の弾圧を受けたことにより、幕府批判には結びつかず実学として発展した。この時期には各地で藩校や私塾、^a 庶民の教育機関としての ^b 寺子屋も急増した。

問1 空欄 にあてはまる幕府の機関として正しいものを、以下のア～エのなかから一つ選び、その記号を解答欄にマークせよ。

- | | |
|----------|--------|
| ア 蛮書和解御用 | イ 洋学所 |
| ウ 開成所 | エ 蕃書調所 |

問2 空欄 は、幕府天文方がイギリスのアロースミスによる世界図をもとに編集した地図である。その地図を、以下のア～エのなかから一つ選び、その記号を解答欄にマークせよ。

- | | |
|--------------|---------------|
| ア 『南蛮人渡来図屏風』 | イ 『三国通覧図説』 |
| ウ 『新訂万国全図』 | エ 『大日本沿海輿地全図』 |

問3 下線部 a に関連して、シーボルトについての説明として誤っているものを、以下のア～エのなかから一つ選び、その記号を解答欄にマークせよ。

- ア シーボルトは、高橋景保から国外持ち出し禁止の日本地図を入手した。
- イ シーボルトは、国外追放となり、二度と日本の地を踏むことはなかった。
- ウ シーボルトに協力した高橋景保は、投獄され牢死した。
- エ シーボルトは、帰国後に『日本』を著した。

日本史

問4 下線部bに関して、江戸時代の寺子屋で用いられた道徳教科書の書名として正しいものを、以下のア～エのなかから一つ選び、その記号を解答欄にマークせよ。

ア 『節用集』 イ 『実語教』 ウ 『庶物類纂』 エ 『大学或問』

B 19世紀にはいると、国内的な危機に對外的な危機も加わり、幕藩体制がゆるぐなかで、とりわけ文化・文政年間には江戸を中心とした文化が隆盛した。庶民の風俗画として発達してきた浮世絵では風景画という新しいジャンルが人気を博した。この背景には、人々の名所・旧跡への関心が高まり、信仰と結びついた旅も盛んになったこともある。また、中央と地方の文化交流が活発化し、江戸をはじめとする三都だけでなく、地方文化も生み出された。

問5 下線部cについて、風景を描いている浮世絵版画の作品名として誤っているものを、以下のア～エのなかから一つ選び、その記号を解答欄にマークせよ。

ア 『富嶽三十六景』 イ 『東海道五十三次』
ウ 『公余探勝図』 エ 『名所江戸百景』

問6 下線部dに関して、江戸時代には日本各地で様々な『名所図会』が刊行された。各地の『名所図会』の説明として正しいものを、以下のア～エのなかから一つ選び、その記号を解答欄にマークせよ。

ア 『名所図会』を冠した出版物の最初は、1780(安永9)年刊行の秋里籬島著の『撰津名所図会』である。
イ 『浪花名所図会』の挿絵は、浮世絵師である葛飾北斎の彩色絵である。
ウ 『都名所図会』は、正長年間に刊行されたものである。
エ 『江戸名所図会』は、江戸神田の町名主である斎藤家によって編集された。

問7 下線部 e について、信仰と結びついた庶民の旅についての説明として誤っているものを、以下のア～エのなかから一つ選び、その記号を解答欄にマークせよ。

- ア 「御蔭参り」は、江戸時代に流行した伊勢神宮への集団参詣である。
 イ 「金毘羅参り」は、阿波国にある金毘羅宮への参詣である。
 ウ 江戸では「富士山参り」を目的とする富士山信仰が庶民の間で広まった。
 エ 「善光寺参り」は、信濃国にある善光寺への参詣である。

問8 下線部 f について、越後の商人で、山東京伝や曲亭馬琴らと交遊のあった文人の名前として正しいものを、以下のア～エのなかから一つ選び、その記号を解答欄にマークせよ。

- ア 大田南畝 イ 鈴木牧之 ウ 柳亭種彦 エ 菅江真澄

C 日本の開国を強く望んでいたアメリカは、1846(弘化3)年、 にピッドルを派遣して通商を要求したが、幕府は拒んだ。1853(嘉永6)年にはペリーがアメリカ大統領の国書を持って再び に現れた。同年にはロシアの使節プチャーチンも に来て、開国と国境の画定を要求した。1854(安政元)年に幕府は日米和親条約を結び、さらにイギリス・ロシア・オランダとも同様の和親条約を結んだ。駐日アメリカ総領事のハリスは、通商条約の締結を強く求めた。安政5年(1858年)、大老井伊直弼は日米修好通商条約の調印を行った。幕府は同様にイギリス・ロシア・オランダ・フランスとも条約を結んだ。

問9 空欄 と にあてはまる地名の組み合わせとして正しいものを、以下のア～エのなかから一つ選び、その記号を解答欄にマークせよ。

- ア 3 下田 4 神奈川 イ 3 箱館 4 下田
 ウ 3 浦賀 4 長崎 エ 3 長崎 4 根室

日本史

問10 下線部 g の内容として正しいものを，以下のア～エのなかから一つ選び，その記号を解答欄にマークせよ。

- ア 横浜と神戸の2港を開いて，領事をおくことにした。
- イ 通商は自由貿易とした。
- ウ 江戸・大坂に開市した。
- エ アメリカに一方向的な最恵国待遇を与えることになった。

問11 下線部 h の人物が著した書物として正しいものを，以下のア～エのなかから一つ選び，その記号をマークせよ。

- ア 『日本滞在記』
- イ 『日本後紀』
- ウ 『日本誌』
- エ 『日本人』

問12 下線部 i の後に起こった事件の説明として誤っているものを，以下のア～エのなかから一つ選び，その記号をマークせよ。

- ア 条約の調印により，尊王攘夷を唱える志士たちが井伊直弼を非難した。
- イ 井伊直弼は，条約に反対の立場をとる大名やその家臣を処罰の対象とした。
- ウ 長州藩の志士たちは，1860(万延元)年に江戸城桜田門外で井伊直弼を暗殺した。
- エ 井伊直弼の暗殺の後，幕府の老中安藤信正は，朝廷と幕府の融和をはかる政策をとった。

〔IV〕 つぎの文章A～Cを読んで、下記の問いに答えよ。

A 2011年3月に起きた東日本大震災と福島第一原子力発電所事故をうけて、同年春以降、日本ではさまざまな「反原発」デモが開催された。やがて毎週金曜日夜には国会周辺で反原発を訴えるデモが行われるようになった。

他方で、東京・新大久保駅周辺のコリアンタウンなどでは、在日外国人への差別発言を叫びながら練り歩く人々が現われた。さらに、貧困や経済格差への不満を訴える学生や失業者がニューヨーク市ではじめた「Occupy New York」(ニューヨークを占拠せよ)デモへの呼応をうながす「Occupy Tokyo」のメッセージがインターネット上に現われたのも記憶に新しい。

近年のデモ続発については、フェイスブック、ツイッターといったSNS(Social Networking Service)の活用が一因に挙げられる。しかし、SNSのない時代でも、人々はしばしば政治に対する不満や要求をデモ・暴動・騒擾^{そうじょう}などの直接行動で表わしてきた。

たとえば、近代日本の民衆運動が内閣を倒した初めての例として、1913年に起きた大正政変の際の暴動を挙げることができる。前年末に第2次西園寺公望内閣が総辞職すると、元老会議の推薦によって、第3次桂太郎内閣が成立する。

しかし、^a内大臣と侍従長を兼ねる人物が首相となるのは宮中と政府(府中)の別を乱すと非難の声があがった。そして、立憲政友会の尾崎行雄と立憲国民党の犬養毅をかつぐ野党勢力・言論人に、商工業者、都市民衆も合流して、「閥族打破・憲政擁護」を掲げる運動^bが広がった。

桂は非政友会系の新党結成により反対勢力の切り崩しをはかり、元老政治からの脱却を掲げて内閣を維持しようとはかるが、政友会と国民党は内閣不信任案を衆議院に提出する。内閣は議会の停会にうってでたが、反発した民衆が議会を包囲する。民衆と警官隊が激しく衝突し、暴動は始まった。民衆は運動に反対する議員に「官僚ノ犬」「閥族ノ走狗」などと怒号し、^c桂新党を擁護したり、新党結成に参画した新聞社には「官僚新聞ヤツツケロ」などと叫びながら投石・放火し、警察署や派出所をも襲った。この暴動により第3次桂内閣は50日あまりで総辞職する。

日本史

桂のあとは、山本権兵衛が内閣を組織した。山本内閣は、政黨員にも高級官僚への道を開き、軍部大臣の資格を予備・後備役の大將・中將にまで広げるなど、官僚・軍部に対する政党の影響力の拡大につとめたものの、外国製の軍艦や兵器の輸入をめぐる海軍高官の汚職事件の発覚によって海軍大將でもあった山本に非難が集中し、ふたたび都市民衆の抗議運動が高まると、山本内閣も総辞職のやむなきにいたった。

問1 下線部 a の事態は、陸軍大臣が天皇に単独で辞表を提出し、陸軍が後任を出さなかったために起きたが、この陸軍大臣として正しい人物を、以下のア～エのなかから一人選び、その記号を解答欄にマークせよ。

ア 寺内正毅 イ 荒木貞夫 ウ 上原勇作 エ 宇垣一成

問2 下線部 b は第一次護憲運動と呼ばれるが、では、第二次護憲運動(1924年)をになった3政党の組み合わせとして正しいものはどれか。以下のア～エのなかから一つ選び、その記号を解答欄にマークせよ。

ア 憲政本党・立憲自由党・大同倶楽部
イ 憲政会・立憲政友会・革新倶楽部
ウ 立憲国民党・立憲同志会・中央倶楽部
エ 立憲帝政党・政友本党・新自由クラブ

問3 下線部 c の政党は桂の死後に、ある人物を総裁として本格的に活動を始めるが、その人物として正しいものを、以下のア～エのなかから一人選び、その記号を解答欄にマークせよ。

ア 加藤高明 イ 床次竹二郎 ウ 高橋是清 エ 田中義一

問4 下線部dの名称として正しいものを、以下のア～エのなかから一つ選び、その記号を解答欄にマークせよ。

ア プロヒューモ事件

イ ウォーターゲート事件

ウ ロッキード事件

エ ジーメンズ事件

B 第二次大戦後に国会を囲んだ民衆運動として先ず想起されるのは、1958年の警察官職務執行法(警職法)改正反対運動と1960年に盛りあがった安保改定反対運動である。石橋湛山^e内閣のあと、1957年に成立した岸信介^f内閣は、革新勢力との対決姿勢を強めた。岸内閣は、教員の勤務評定を1958年から全国いっせいに実施したが、日本教職員組合による抵抗が起こった。さらに内閣は、安保改定にともなう混乱を予測して、警察官の権限強化をはかる警職法改正案を国会に提出したが、これも革新勢力の激しい反対運動にあい、改正を断念した。

岸首相は「日米新時代」をとなえ、安保条約を改定して日米関係をより対等にすることをめざした。米国側との交渉の結果、1960年1月には日米相互協力及び安全保障条約^gが調印される。革新勢力の側は、新条約によって米国の戦略に組み込まれる危険性が高まるとして、安保改定反対運動を組織する。1960年5月、政府・与党が衆議院で条約批准を強行採決すると、にわかに反対運動は高揚した。安保改定阻止国民会議を指導部として社会・共産両党に総評などの労働団体や、全日本学生自治会総連合、一般市民などからなるデモ隊が、「ワッショイ ワッショイ」という祭の掛け声のように、「アンポハantai アンポハantai」「キシラタオセ キシラタオセ」などと連呼しながら、連日国会を取り巻いた。

デモ隊と警官隊が揉みあうなかでデモ参加者の女子大生が死亡したことをきっかけに、予定されていた米国大統領の訪日が中止されたが、批准案は参議院の議決を経ないまま6月に自然成立する。そして7月、岸内閣は条約の発効を見届けて総辞職^hした。

日本史

問5 下線部 e が戦前におこなった、朝鮮や満州などの植民地放棄と平和的経済発展を内容とする主張は何と呼ばれるか。正しいものを、以下のア～エのなかから一つ選び、その記号を解答欄にマークせよ。

ア 中立主義 イ 民本主義 ウ 虚無主義 エ 小日本主義

問6 下線部 f に関する記述として正しいものを、以下のア～エのなかから一つ選び、その記号を解答欄にマークせよ。

- ア 東条英機内閣・小磯国昭内閣・東久邇宮稔彦内閣の外務大臣を務め、A級戦犯として服役するが、のちに政界復帰し改進黨総裁となった。
- イ 駐英大使などを歴任し、第二次大戦末期には終戦工作に参画し憲兵隊の拘束をうけるなどしたが、のち5次にわたり政権を担当した。
- ウ 犬養毅内閣などで文部大臣を務め、戦後は公職追放をうけるが、のち政界に復帰し自由民主党初代総裁に就任した。
- エ 東条内閣の商工大臣を務め、A級戦犯容疑者となるが、のちに政界復帰して日本民主党の創立や自由党との保守合同を推進した。

問7 下線部 g について誤っているものを、以下のア～エのなかから一つ選び、その記号を解答欄にマークせよ。

- ア 米国による日本防衛義務が定められた。
- イ 条約期限について、条約発効後10年(以後は一方の国が廃棄を通告しなければ自動延長)という内容に改められた。
- ウ 軍事条約なので経済協力の促進といった条項はない。
- エ 関連文書で、在日米軍の行動に関する事前協議が定められた。

問8 下線部hの次に成立した内閣の下でおこなわれたこととして誤っているものを、以下のア～エのなかから一つ選び、その記号を解答欄にマークせよ。

- ア LT 貿易
- イ 東京オリンピック
- ウ 日韓基本条約の締結
- エ 所得倍増政策

C 1952年に対日講和条約が発効して独立を回復した日本本土とは異なる地位に長く置かれていた沖繩では、群衆が米兵たちを囲んだ。

1965年以降、米国がベトナム戦争への介入を本格化させると、沖繩と日本本土は米軍の後方支援および出撃基地としてフル稼働した。強権的な基地用地の接収が繰り返され、米兵による犯罪も続発する「基地の島」沖繩では祖国復帰を求める住民の運動が続き、ベトナム戦争の激化とともに、その施政権返還問題があらためて浮上した。ときの佐藤栄作内閣は、核兵器を「もたず、つくらず、もち込ませず」の非核三原則を掲げ、まず1968年に小笠原諸島の返還を実現し、翌年の日米首脳会談では1972年の沖繩返還、返還は「核抜き」で行われることなどが合意された。

しかし、施政権返還が1972年と決まっても米兵らによる犯罪・事件・事故の嵐はやまなかった。1970年9月に糸満町(現糸満市)で発生した女性殛殺事件は、酒に酔って運転し、さらにスピード違反までした米兵の車が歩道に乗りあげて女性をひく痛ましい事件であった。のみならず、その米兵に軍法会議(軍による軍人に対する裁判)は無罪の審判をくださったのだった。それから3ヶ月ほどしか経たない12月20日未明、こんどはコザ市(現沖繩市)で酒気を帯びた米兵が交通事故を起こす。このとき、強権的な統治と人権侵害に対する積年の不満を爆発させた群衆は、通行しようとする米国人の車両の進路をふさぐなどした。「たっくるせー」という怒りの声もあがったと言う。出動したMP(米憲兵)が空にむけて発砲すると、さらに怒りを爆発させた群衆は米軍やMPの車両を車道の真ん中へ押しだし、それに火を放つなどした。「コザ騒動」である。

1971年に沖繩返還協定が調印され、翌年の協定発効をもって沖繩の日本復帰

日本史

は実現した。しかし、広大な米軍施設・区域(基地)のほとんどが復帰後も返還されず、2017年1月の時点でさえ、その面積は沖縄県総面積の約8パーセント、また全国の米軍専用施設面積の70.6パーセントに達する。

問9 下線部 i の発効によって、沖縄や小笠原と同様に、日本本土から実質的に切り離されることになった地域として正しいものを、以下のア～エのなかから一つ選び、その記号を解答欄にマークせよ。

ア 伊豆大島 イ 隠岐島 ウ 利尻島 エ 奄美大島

問10 下線部 j を象徴する当時の表現として正しいものを、以下のア～エのなかから一つ選び、その記号を解答欄にマークせよ。

ア ソテツ地獄
イ 沖縄県民スク戦ヘリ
ウ 銃剣とブルドーザー
エ なんくるないさ

問11 下線部 k に関して正しいものを、以下のア～エのなかから一つ選び、その記号を解答欄にマークせよ。

ア 米国は広島にプルトニウム型原子爆弾を、長崎にウラニウム型原子爆弾を、それぞれ投下した。
イ 1954年、太平洋ビキニ環礁で米国がおこなった水爆実験により第五福龍丸が被ばくしたことを契機に、原水爆禁止運動が高揚した。
ウ 1968年に62か国によって核拡散防止条約(NPT)が締結されたが、日本も翌年に調印した。
エ 核兵器を搭載した米国の艦船が日本の港湾に寄港しているのではないかと、という疑惑は生じたことがない。

問12 下線部 l となるまで、沖縄が置かれた国際法上の地位として正しいものを、以下のア～エのなかから一つ選び、その記号を解答欄にマークせよ。

- ア 米国を施政権者とする国際連盟の委任統治下にあった。
- イ 米国による占領下にあった。
- ウ 米国を唯一の施政権者とする国際連合の信託統治下にあった。
- エ 米国が主導する対日理事会の管理下にあった。

問13 下線部 m が成った日として正しいものを、以下のア～エのなかから一つ選び、その記号を解答欄にマークせよ。

- ア 4月28日
- イ 5月15日
- ウ 6月23日
- エ 9月8日