

文学部A方式 I 日程・経営学部A方式 I 日程・人間環境学部A方式

3 限 選択科目 (60分)

科目	ページ	科目	ページ	科目	ページ
政治・経済	2～24	日本史	26～44	世界史	46～59
地理	60～72	数学	74～79		

〈注意事項〉

1. 試験開始の合図があるまで、問題冊子を開かないこと。
2. 解答はすべて解答用紙に記入しなさい。
3. 科目の選択は、受験しようとする科目の解答用紙を選択した時点で決定となる。一度選択した科目の変更は一切認めない。
4. 数学については、定規、コンパス、電卓の使用は認めないので注意すること。
5. マークシート解答方法については、以下の注意事項を読みなさい。

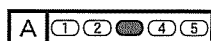
マークシート解答方法についての注意

マークシート解答では、鉛筆でマークしたものを機械が直接読みとって採点する。したがって解答はHBの黒鉛筆でマークすること(万年筆、ボールペン、シャープペンシルなどを使用しないこと)。

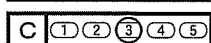
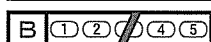
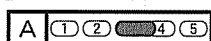
記入上の注意

1. 記入例 解答を3にマークする場合。

(1) 正しいマークの例



(2) 悪いマークの例



枠外にはみださないこと。

○でかこまないこと。

2. 解答を訂正する場合は、消しゴムでよく消してから、あらためてマークすること。
3. 解答用紙をよごしたり、折りまげたりしないこと。
4. 問題に指定された数よりも多くマークしないこと。

6. 問題冊子のページを切り離さないこと。

(地 理)

〔I〕 地形と土砂災害に関するつぎの文章を読み、以下の問いに答えよ。解答は解答欄に記せ。

はじめに、日本列島の地形的枠組みを概観する。

本州弧は、 (あるいはその西縁を限る糸魚川・静岡構造線)を境として、東北日本弧と西南日本弧に区分される。東北日本弧は、概ね南北方向～北北東-南南西方向の地形配列(山地や平野などの並び方)を示す。例えば、東北地方の北部をみると、東側より順に、 高地、 盆地、奥羽山脈、出羽山地がそれぞれ概ね南北方向にのびていることがわかる。東北日本弧の北東側は 弧に接している。

一方、西南日本弧は、概ね東北東-西南西方向の地形配列を示し、 構造線を境として、南側の外帯と北側の内帯に区分される。西南日本弧の南西側は琉球弧(南西諸島弧)に接している。

(1) このような地形的枠組みをもつ日本列島の全体を見渡すと、起伏が大きく急斜面が多い、また河床勾配が急であるなどの特徴に気づく。その要因には、土地が したり沈降したりする垂直方向の地殻変動が活発であること、そして火山活動が活発であることが挙げられる。そのため、斜面崩壊や地すべり、

(2) 流などの土砂移動が各地で発生し、土砂災害を引き起こしてきた。

(3) 土砂移動が発生する要因のひとつとして、豪雨が挙げられる。日本列島付近では、例年5～7月に停滞する梅雨前線や、9～10月に停滞する 前線、また発達した熱帯低気圧である などが豪雨をもたらすことがある。平成30年 月豪雨では、西日本を中心とする広い範囲で記録的な大雨となり、河川の氾濫に加え、多くの地点で土砂移動が発生した。

土砂移動が発生する要因には、地震動も挙げられる。平成30年北海道 地震に伴っては、勇払郡厚真町を中心とする地域で土砂移動が多く発

生した。

我が国では、急傾斜地付近、また溪流の出口付近など、土砂移動の影響を受けやすい場所にも居住域が拡大している。 流対策として溪流に ダム(堰堤)を設置するなど、土砂災害を防ぐさまざまな対策が進められている。その一方で、地形とその形成過程を知り、土砂移動の影響を受けやすい土地かどうかを理解することも重要である。

問1 文中の空欄 に入る地溝名(カタカナ)、 に入る地形名称、 に入る弧名、 に入る構造線名として、それぞれ最も適切なものを答えよ。同じ記号のところには同じ語が入る。

問2 文中の空欄 ~ に入る用語として最も適切なものを答えよ。同じ記号のところには同じ用語が入る。

問3 文中の空欄 に入る最も適切な数字を、つぎの選択肢①~⑤から一つ選び、番号で答えよ。

- ① 3 ② 5 ③ 7 ④ 9 ⑤ 11

問4 文中の空欄 に入る地域名として最も適切なものを、つぎの選択肢①~⑤から一つ選び、番号で答えよ。

- ① 石狩南部 ② 胆振東部 ③ 上川南部
④ 日高西部 ⑤ 南空知

問5 下線部(1)について、琉球弧(南西諸島弧)に属する島として適切でないものを、以下の①~⑥から二つ選び、番号で答えよ。解答順は問わない。

- ① 沖永良部島 ② 沖ノ島 ③ 喜界島
④ 南大東島 ⑤ 与那国島 ⑥ 与論島

地理

問6 下線部(2)について、日本列島に分布する活火山の数(気象庁・2019年現在)に最も近い数字を、つぎの選択肢①～⑤から一つ選び、番号で答えよ。

- ① 100 ② 200 ③ 500 ④ 1,000 ⑤ 2,000

問7 下線部(3)について、土砂移動の規模はさまざまであり、山体崩壊などの大規模な土砂移動が発生することもある。この点に関し、以下の文章の空欄 オ に入る地形名称、 カ に入る国名として、それぞれ最も適切なものを答えよ。同じ記号のところには同じ語が入る。

日本列島においては、1792年、 オ 半島に位置する雲仙岳において大規模な土砂移動が起き、有明海～ オ 湾に津波を発生させた。沿岸部や海底で大規模な土砂移動が発生すれば、この事例のように、津波が発生することがある。2018年に カ のクラカタウで発生した大規模な土砂移動も、津波の発生に関与したと考えられている。

〔Ⅱ〕 世界の人口問題に関する以下の問いに答えよ。解答は解答欄に記せ。

問1 2018年時点の世界の人口はおよそどれだけか。つぎの選択肢①～⑥から最も近い値を一つ選び、番号で答えよ。

- ① 50億人 ② 55億人 ③ 60億人
 ④ 65億人 ⑤ 70億人 ⑥ 75億人

問2 つぎの表1は人口の多い国上位10位までを示している。A・B・Cに当てはまる国の組み合わせとして適切なものを下の選択肢①～⑥から一つ選び、番号で答えよ。

表1

順位	国名	人口(100万人) 2018年	面積(万km ²) 2015年
1	中国	1,415	960.0
2	インド	1,354	328.7
3	アメリカ合衆国	327	983.4
4	A	267	191.1
5	ブラジル	211	851.6
6	B	201	79.6
7	C	196	92.4
8	バングラデシュ	166	14.8
9	ロシア	144	1,709.8
10	メキシコ	131	196.4

資料：『データブック オブ・ザ・ワールド2019年版』

	A	B	C
①	インドネシア	ナイジェリア	パキスタン
②	インドネシア	パキスタン	ナイジェリア
③	ナイジェリア	インドネシア	パキスタン
④	ナイジェリア	パキスタン	インドネシア
⑤	パキスタン	インドネシア	ナイジェリア
⑥	パキスタン	ナイジェリア	インドネシア

地理

問3 人口問題について述べたつぎの文章①～④から、説明が誤っているものを一つ選び、番号で答えよ。

- ① アメリカ合衆国では毎年大量の移民が流入することにより、先進国の中で人口増加率は高い方である。
- ② インドは近い将来、中国を抜いて世界一の人口大国になることが予想されている。
- ③ 中国では長年実施してきた一人っ子政策によって、人口増加に抑制がかかり、一人っ子政策は廃止された。
- ④ ドイツは長期にわたる子育て支援策が実を結び、出生率がスウェーデンを上回った。

問4 つぎの図1は人口転換モデルを描いたものである。図中のD・E・Fに該当する人口ピラミッドを下の図2の選択肢①～③から選んで番号で答えよ。
 また、図中のD・E・Fに該当する国(現在の状況において)を下の国の選択肢肢からそれぞれ二つ選んで国名を答えよ。

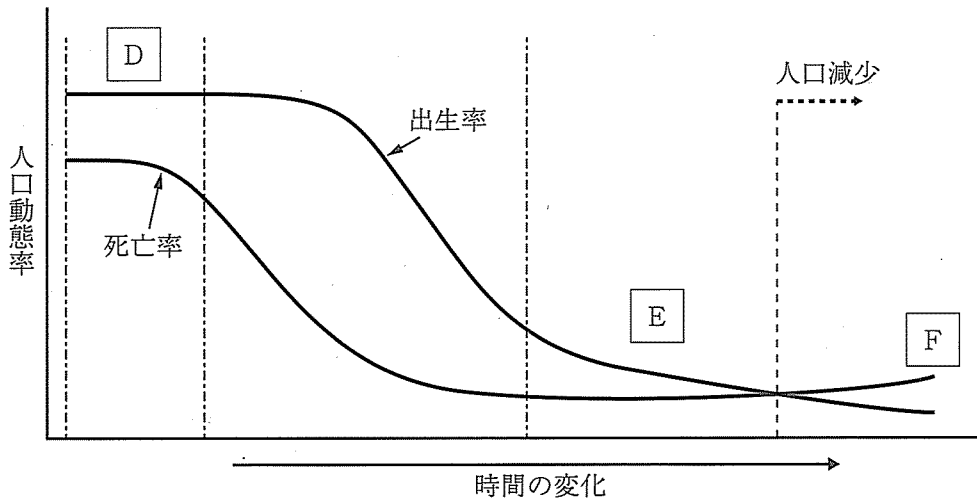


図1

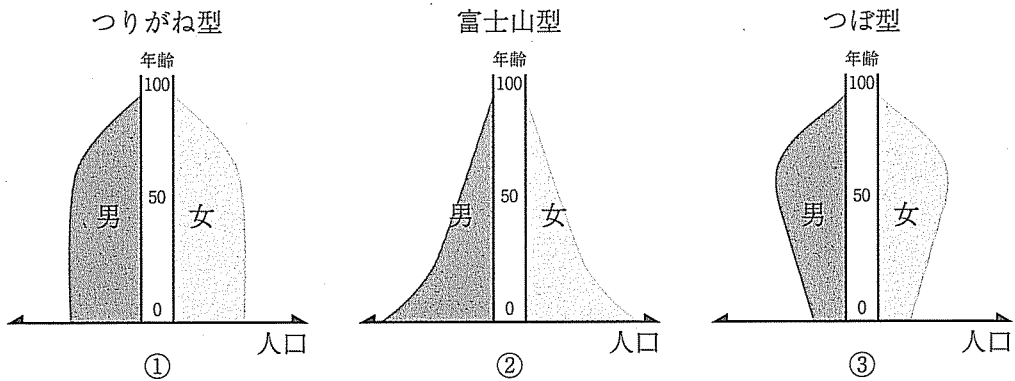


図2

国の選択肢肢

アメリカ合衆国, エチオピア, オーストラリア, 韓国, シンガポール, フィリピン

地理

問5 人口増加，人口減少には様々な要因が関連している。つぎの現象①～⑩は人口増加，人口減少のどちらにより関わっているか。より適切と思える方を選択し，番号で答えよ。

- | | |
|---------------------|---------------|
| ① 育児費用の上昇 | ② 医療技術の進歩 |
| ③ 子供を親の老後の生活保障とする考え | ④ 感染症の蔓延 |
| ⑤ 公衆衛生の改善 | ⑥ 子供を労働力とする考え |
| ⑦ 食生活の改善 | ⑧ 戦争 |
| ⑨ 中絶の禁止 | ⑩ 晩婚化 |

問6 つぎの図3は日本の人口ピラミッド(2018年)である。G・H・Iの人口減少の理由についてそれぞれ説明せよ。枠内であれば字数は問わない。

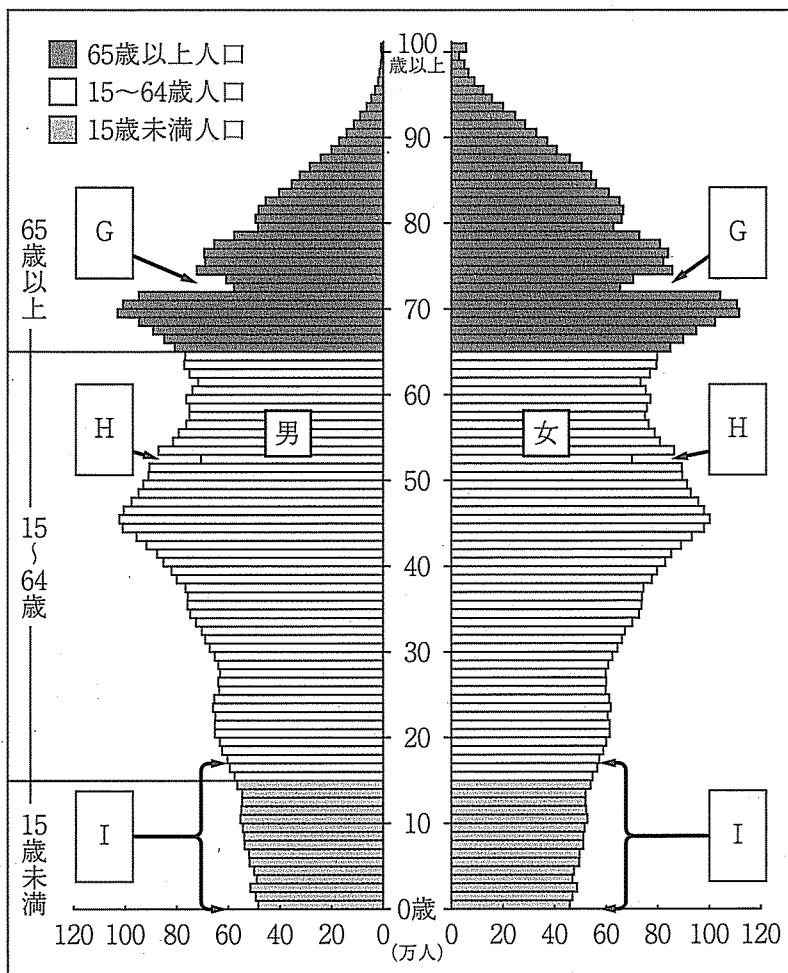


図3

資料：総務省統計局 HP(www.stat.go.jp/data/jinsui/2018np/index.html)より引用、一部修正(アクセス確認日2019年10月23日)

地理

〔Ⅲ〕 カリブ海島嶼地域と中央アメリカに関するつぎの文章を読み、以下の問いに答えよ。解答は解答欄に記せ。

西インド諸島とも呼ばれるカリブ海島嶼地域は、北からバハマ諸島、大 諸島、南アメリカの主要な産油国である の沖まで連なる小 諸島に3区分されることが多い。カリブ海島嶼国では1つの国家が1つの島、もしくはいくつかの島を統治しているのが一般的である。例外が同地域で 島に次ぐ面積を持つ大 諸島のイスパニョーラ島であり、同島にはドミニカ共和国とハイチが併存している。同島面積の約3分の2がドミニカ共和国であり、約3分の1がハイチである。カリブ海島嶼国は各国ともに領土も小さく人口も少ない上に、自然災害にも脆弱であること等によって持続可能な開発が困難であり、こうした島嶼国を小島嶼発展途上国と呼ぶこともある。

同地域は、かつてサトウキビ・プランテーションを中心とする 経済が支配的であった。サトウキビは未だに農業生産の中で重要であり、中央アメリカのカリブ海沿岸国や同島嶼国では世界のサトウキビ生産の上位国も多い。また19世紀末からアメリカ資本が中央アメリカのカリブ海沿岸地域を開発し、バナナ・プランテーションが形成されていった。それら資本は資金力を背景にしてバナナ生産地域が立地する国の内政に介入し、各国の政治に強い影響力を及ぼしたことから、それらの国を「バナナ共和国」と称することもある。バナナ生産量では が1位であるが、輸出はこれら諸国からが多い。

カリブ海島嶼国ではGDPに占めるサービス産業比率が近年高まり、中でも観光業が基幹産業として発展した。カリブ海島嶼地域の国際観光客到着数は2017年に約2,600万人、同年の国際観光収入は約317億ドルである。ヨーロッパ諸国やアメリカ合衆国で取得が認められた長期休暇(別名:)が観光旅行を一般化させたが、それらの国からの による来訪者がカリブ海島嶼国では多い。アメリカ合衆国の大型クルーズ船による短期訪問客が観光客到着数の約3分の1、残り3分の2はプライベートビーチを持つ大型ビーチリゾートに滞在する観光客といわれる。雇用機会の創出という点において観光業の役割は大きいが、観光業が地元経済に貢献しているとはいいいがたい側面もある。

(1)

セントクリストファー・ネイビスやドミニカ共和国では経済に占める工業部門の比率が高い。また の沖のトリニダード・トバゴはカリブ海島嶼国の中では石油・天然ガス生産が多く、1人当たり一次エネルギー供給量も多い。その一方で、カリブ海島嶼国や中央アメリカ諸国の経済に大きく貢献しているのは、出稼ぎや移民による海外送金であるといわれ、GDPに占めるその比率は高い。海外送金は多くの場合、旧宗主国や当該地域周辺の中でもっとも経済発展した国⁽²⁾への出稼ぎや、移民している人々によるものだといわれる。

しかし世界的にみれば北アメリカ、中央アメリカや南アメリカ諸国の経済水準は決して低いとはいえず、後発発展途上国⁽³⁾(略称：)はハイチ1か国のみである。とはいえ各国内の経済格差は大きく、出稼ぎや移民せざるを得ない社会階層も多い。

(国本伊代，丸谷雄一郎，杉谷篤の文章の一部を改変)

問1 文中の空欄 の国名をそれぞれ答えよ。国名は正式名称でなくてもよい。

問2 文中の空欄 に適する諸島名を以下の諸島名群①～⑤から一つ選び番号で答えよ。

[諸島名群]

- ① アンティル ② バレアレス ③ チャゴス
④ チャネル ⑤ フォークランド

問3 文中の空欄 ～ に当てはまる適切な用語を答えよ。なお、 にはアルファベットで答えよ。

問4 下線部(1)に関連して、観光業が地元経済に貢献しているとはいいいがたい側面としてどのような点が挙げられるか答えよ。解答欄の枠内であれば字数は問わない。

地理

問5 下線部(2)に関連して、中央アメリカのカリブ海沿岸国やカリブ海島嶼国の周辺地域の中でもっとも経済発展した国はどこか答えよ。国名は正式名称でなくてもよい。

問6 下線部(3)に関連して、2019年6月現在、後発発展途上国に該当する国は世界で何か国あるか、最も近似するものを以下から一つ選び①～⑤の番号で答えよ。

- ① 10か国 ② 30か国 ③ 50か国 ④ 70か国 ⑤ 90か国

問7 つぎの表1はサトウキビ砂糖の生産国を示したものである。Cの国名を答えよ。なお、本文中の

B

 と表1のBは一致する。

表1 世界のサトウキビ砂糖生産 (千トン)

国名	2015年	2016年
C	750,290	768,678
B	362,333	348,448
中国	116,968	122,664
タイ	94,138	87,468
パキスタン	65,482	65,451
メキシコ	55,396	56,447
世界計	1,886,875	1,890,662

資料：『世界国勢図会2018/19』

問8 つぎの表2はバナナ輸出国を示したものである。Dの国名を答えよ。

表2 世界のバナナ輸出 (千トン)

国名	2015年	2016年
D	6,070	5,974
コスタリカ	1,974	2,365
グアテマラ	2,152	2,147
コロンビア	1,589	1,842
フィリピン	1,223	1,397
世界計	19,868	20,643

資料：『世界国勢図会2018/19』

地理

問9 つぎの表3はカリブ海島嶼国3か国(ドミニカ共和国, ハイチ, ジャマイカ)と中央アメリカ2か国(ホンジュラス, メキシコ)の概況を示したものである。E～Iの国名を以下の国名群からそれぞれ一つ選び①～⑤の番号で答えよ。

[国名群]

- ① ドミニカ共和国 ② ハイチ ③ ホンジュラス
④ ジャマイカ ⑤ メキシコ

表3 カリブ海島嶼国3か国と中央アメリカ2か国の概況

国名	人口(万人)	面積(千km ²)	1人当たり GNI(ドル)	国際観光収入 (百万ドル)	乳児死亡率 (%)	識字率(%)		GDPに占める 海外送金 依存率(%)
						男	女	
E	290	11	4,630	2,539	13.2	83.9	93.0	15.9
F	1,088	49	6,390	7,178	25.5	92.0	93.0	8.4
G	1,111	28	780	504	50.9	64.4	57.2	30.7
H	942	112	2,150	715	16.0	88.3	88.5	19.9
I	13,076	1,964	9,040	21,333	12.6	95.6	93.5	3.0

注 1) 1人当たり GNI は2016年の数値である。

2) 国際観光収入は、E国とG国は2016年、その他の国は2017年の数値である。

3) 乳児死亡率は生存出生児1,000人のうち、満1歳未満で死亡する人数であり、2016年の数値である。

4) 男女別識字率は2015年の数値である。

5) GDPに占める海外送金依存率は2018年の数値である。

資料：『世界国勢図会2018/19』、『データブック オブ・ザ・ワールド2019年版』, UNWTO
“UNWTO Tourism Highlights 2018”, World Bank “Migration and Remittances”

(白 紙)