





地理歴史・公民(世界史B, 日本史B, 地理B, 政治・経済)問題

はじめに、これを読みなさい。

1. これは、世界史B, 日本史B, 地理B, 政治・経済の4科目の問題を綴じた冊子である。必要な科目を選択して解答しなさい。
2. 問題は全部で83ページある。ただし、ページ番号のない白紙はページ数に含まない。
3. 解答用紙に印刷されている受験番号が正しいかどうか、受験票と照合して確認すること。
4. 監督者の指示にしたがい、解答用紙の氏名欄に氏名を記入すること。
5. 監督者の指示にしたがい、解答用紙にある「解答科目マーク欄」に1つマークし、「解答科目名」記入欄に解答する科目名を記入しなさい。なお、マークしていない場合、または複数の科目にマークした場合は0点となる。
6. 解答は、すべて解答用紙の所定欄にマークするか、または記入すること。所定欄以外のところには何も記入しないこと。解答番号は各科目の最初に示してある。
7. 問題に指定された数より多くマークしないこと。
8. 解答は、必ず鉛筆またはシャープペンシル(いずれもHB・黒)で記入のこと。
9. 訂正する場合は、消しゴムできれいに消し、消しくずを残さないこと。
10. 解答用紙は、絶対に汚したり折り曲げたりしないこと。
11. 解答用紙はすべて回収する。持ち帰らず、必ず提出すること。
12. この問題冊子は必ず持ち帰ること。
13. マーク記入例

良い例	悪い例
	  

日 本 史 B

(解答番号 1～40, 101～110)

〔 I 〕 次の 1～2 の文章を読み、以下の設問に答えよ。(解答番号 1～8, 101～102)

- 1 縄文時代は、およそ 1 万 3000 年前に始まったとされる。狩猟、漁労など、^(ア)食料の獲得法が発達するにつれ、人々の生活は安定し、定住的な生活がはじまった。彼らは地面を掘りくぼめ、その上に屋根をかけた (1) を営んだ。集落は日当たりがよく、飲料水の確保にも便利な水辺に近い台地上に営まれ、^(イ)広場を囲んで数軒の環状に並ぶものが多かった。縄文時代の社会を構成する基本的な単位は、4～6 軒程度の世帯からなる 20～30 人ほどの集団であったと推定されている。こうした集団は近隣の集団と通婚し、情報交換していたとされる。黒曜石などの石器の原材料やひすい(硬玉)などの分布から、かなり遠方^(ウ)の集団との交易もおこなわれていたことが知られている。

問 1 空欄(1)に入る適切な用語を解答用紙裏面の解答欄に漢字で記入せよ。

(解答番号 101)

問 2 下線部(ア)に関連して、縄文時代または縄文文化について記述した文章として最も適切なものを一つ選んで、その記号を解答欄にマークせよ。

(解答番号 1)

- A 栽培技術がまったくなかったため、イノシシやシカなど、もっぱら動物性の食料に頼っていた。
- B 集落のまわりに深い濠や土塁をめぐらした環濠集落も数多く存在する。
- C 縄文時代は主として更新世にあたり、現在よりも気温が低かったとされている。
- D 死者は集落の近くの共同墓地に伸展葬の形で葬られることが多かった。
- E 縄文土器のうちの草創期のものは現在のところ、世界で最も古い土器の一つとされている。

問 3 下線部(イ)に関連して、縄文時代の集落の遺跡として代表的なものを下記から一つ選び、その記号を解答欄にマークせよ。(解答番号 2)

- A 佐賀県吉野ヶ里遺跡
- B 群馬県岩宿遺跡
- C 青森県三内丸山遺跡
- D 静岡県登呂遺跡
- E 島根県神庭荒神谷遺跡

問 4 下線部(ウ)に関連して、縄文時代にはまだ用いられていなかったとされる道具は何か。下記から最も適切なものを一つ選び、その記号を解答欄にマークせよ。(解答番号 3)

- A 石 鏃
- B 打製石斧
- C 磨製石斧
- D 鹿角の釣針
- E 石包丁

2 日本では7世紀以降、大陸のすぐれた文物や思想を積極的に吸収してきたが、9世紀後半から10世紀にかけて日本と大陸との関係が大きく変化すると、^(エ)それまでの大陸文化の消化のうえに立って、貴族社会を中心に、日本の風土や日本人の人情・嗜好にかなった優雅で洗練された文化が生まれてきた。このように10～11世紀の文化は、国風化という点に特色があるので、国風文化とよばれる。

文化の国風化を象徴するのは、かな文字の発達であった。かな文字の発達と普及により、日本人特有の感情や感覚を生き生きと伝えることが可能になり、国文学がおおいに発達した。

^(オ) 貴族は公式の場では従来通り漢字だけで文章をしるしたが、その文章は純粋な漢文とはかなりへだたった和風のものになった。

^(カ) 一方、かなは日常生活では広く用いられるようになり、それに応じてすぐれたかな文学の作品が次々に著された。かな物語では、伝説を題材にした や歌物語の などに続いて中宮彰子に仕えた紫式部の『源氏物語』が生まれた。これは宮廷貴族の生活を題材にした大作で、^(キ)皇后定子に仕えた清少納言が宮廷生活の体験を随筆風にしるした『枕草子』とともに、国文学で最高の傑作とされている。

問 5 空欄(2)および空欄(3)に入る適切な事項を下記の共通語群の中から一つずつ選び、その記号を解答欄にマークせよ。なお、空欄(2)の解答番号を4とし、以下番号順に解答欄にマークすること。(解答番号4～5)

[共通語群]

- | | | |
|----------|--------|--------|
| A 聊斎志異 | B 雨月物語 | C 伊勢物語 |
| D 宇治拾遺物語 | E 竹取物語 | F 曾我物語 |

問 6 下線部(エ)に関連して、9世紀後半から10世紀にかけての日本と大陸との関係について記述した文章として最も適切なものを一つ選んで、その記号を解答欄にマークせよ。(解答番号6)

- A 朝鮮半島では10世紀初めに高麗がおこったが、依然、新羅の勢力が強く、半島の統一までは至らなかった。
- B 僧を含め日本人の大陸への渡航は一切許されていなかった。
- C 菅原道真が遣唐使の廃止を建議したが、朝廷による派遣は続けられた。
- D 唐に代わって統一を果たした宋に対し、日本は正式な国交をひらくことになった。
- E 奈良時代以来、日本と親交のあった渤海が遼(契丹)に滅ぼされた。

問 7 下線部(オ)に関連して、わが国最初の勅撰和歌集の名称を選んで、その記号を解答欄にマークせよ。(解答番号7)

- A 菟玖波集 B 古今和歌集 C 和漢朗詠集
- D 金槐和歌集 E 山家集

問 8 下線部(カ)に関連して、漢詩文作成についての評論『文鏡秘府論』や詩文集『性靈集』は誰が著した文を集めたものか。その人物の名を解答用紙裏面の解答欄に漢字で記入せよ。(解答番号102)

問 9 下線部(キ)および下線部(ク)に関連して、藤原氏の摂関政治について記述した文章として最も適切なものを一つ選んで、その記号を解答欄にマークせよ。(解答番号 8)

- A 藤原道長は 4 人の娘を中宮(皇后)や皇太子妃としたが、その一人が中宮彰子である。
- B 藤原冬嗣は、幼少の清和天皇の摂政の任をつとめ、応天門の変で伴氏、紀氏を没落させた。
- C 当時の貴族社会では、結婚した男女は夫側の両親と同居するのが一般的であった。
- D 村上天皇の時、藤原氏は菅原道真を政界から追放した。
- E 摂関政治のもとで太政官は廃止されたものの、天皇が中央・地方の役人を指揮し、全国を統一的に支配することには変わりなかった。

〔Ⅱ〕 次の1～2の文章を読み、以下の設問に答えよ。(解答番号9～16, 103～104)

1 13世紀初め、モンゴル高原にチンギス=ハーンがあらわれ、モンゴル民族を統一して中央アジアから南ロシアまでを征服した。ついでその後継者はヨーロッパ遠征をおこない、また [(1)] を滅ぼして広大なユーラシア大陸の東西にまたがる大帝国を建設した。チンギス=ハーンの孫フビライ=ハーンは、中国を支配するため都を大都(北京)に移し、国号を元と定めた。フビライ=ハーンは高麗を全面的に服属させ、日本に対してたびたび朝貢を強要してきた。

しかし、幕府の執権 [(2)] がこれを拒否したので、元は高麗の軍勢も合わせた約3万の兵で、1274(文永11)年、対馬・壱岐を攻めた後、大挙して九州北部の博多湾に上陸した。かねてより警戒していた幕府は、九州地方に所領を持つ御家人を動員して、これをむかえ撃ったものの、元軍の集団戦やすぐれた兵器に対し、一騎打ち戦を主とする日本軍は苦戦した。だが、たまたまおこった暴風雨もあり、しりぞけることができた。

[(3)] を滅ぼした元は、1281(弘安4)年、約14万の大軍をもって再度、九州北部に迫った。しかし、またもや暴風雨がおこり大損害を受け、敗退した。この2回にわたる元軍の襲来を蒙古襲来(元寇)という。

問1 空欄(1)および空欄(3)に入る適切な用語を下記の共通語群の中から一つずつ選び、その記号を解答欄にマークせよ。なお、空欄(1)の解答番号を9、空欄(3)の解答番号を10とする。(解答番号9～10)

〔共通語群〕

- | | | | |
|------|------|--------|------|
| A 西夏 | B 契丹 | C ウィグル | D 北宋 |
| E 吐蕃 | F 金 | G 南宋 | H 突厥 |

問2 空欄(2)に入る適切な人名を解答用紙裏面の解答欄に漢字で記入せよ。
(解答番号103)

問 3 下線部(ア)に関連して、当時の中国と周辺諸国の関係について記述した文章として最も適切なものを一つ選んで、その記号を解答欄にマークせよ。

(解答番号 11)

- A 蘭溪道隆は中国から日本に渡ってきた禅僧の一人である。
- B 高麗は元に服属してからは抵抗を示さず、日本攻撃の際にもきわめて協力的だった。
- C 元の支配に対して大越(ベトナム)も抵抗しなかった。
- D 元の支配が約 2 世紀にわたって続いた後、漢民族の明による支配が回復した。
- E スペイン、ポルトガルなど当時のヨーロッパ諸国と元とは一切交流がなかった。

問 4 下線部(イ)に関連して、蒙古襲来前後の日本の政治や社会の情勢について記述した文章として間違っているものを一つ選んで、その記号を解答欄にマークせよ。(解答番号 12)

- A 二度の襲来後も幕府は警戒態勢をゆるめず、九州地方の御家人を引き続き異国警固番役に動員した。
- B 九州の博多には北条氏一門を鎮西探題としておくった。
- C 畿内や西日本一帯では麦を裏作とする二毛作が普及していった。
- D 蒙古襲来の犠牲になった御家人に対して幕府は十分な恩賞を与えなかったため、御家人たちの不満は募った。
- E 遠隔地を結ぶ商業取引がさかんになり、売買の手段として日本製の貨幣が多く用いられるようになった。

2 1543(天文12)年にポルトガル人を乗せた中国人倭寇^(ウ)の船が、九州南方の種子島に漂着した。これが日本にきた最初のヨーロッパ人である。これ以後、ポルトガル人は毎年のように九州の諸港に来航し、日本との貿易をおこなった。

また、人も、1584(天正12)年、肥前の平戸に来航し、日本との貿易を開始した。当時の日本ではポルトガル人や人を南蛮人とよんだので、この貿易を南蛮貿易^(エ)という。

南蛮貿易がさかんになり、宣教師の布教^(オ)が活発になるにつれて、庶民のなかにも南蛮風の衣服を身につけるものが出てきた。宣教師たちは天文学、医学などの学問に加え、油絵や銅版画の技法ももたらした。また、金属製の活字による活字印刷術も宣教師ヴァリニャーニによって伝えられ、ローマ字によるキリスト教文学・宗教書の翻訳、日本語辞書・日本古典の出版などもおこなわれた。

問5 空欄(4)に入る適切な国名を解答用紙裏面の解答欄に記入せよ。(解答番号104)

問6 下線部(ウ)に関連する記述として最も適切なものを下記から一つ選び、その記号を解答欄にマークせよ。(解答番号13)

- A 前期倭寇は対馬・壱岐・肥前松浦地方の住民を中心とした海賊集団である。
- B 朝鮮半島の沿岸を襲い食料を強奪するなどしたが、中国大陸には及ばなかった。
- C 度重なる倭寇の活動に対し高麗は軍による制圧を試みたが、成功しなかった。
- D 後期倭寇に対して、織田信長は海賊取締令を出して海上支配を強化した。

問 7 下線部(エ)に関連して、南蛮貿易と最も関連が深い事項を下記から一つ選び、その記号を解答欄にマークせよ。(解答番号 14)

- A ハルマ和解 B リーフデ号 C 東方見聞録
D 東インド会社 E 伊曾保物語

問 8 下線部(エ)に関連して、後に日本に進出し、貿易を行ったオランダ人、イギリス人は南蛮人に対して何とよばれたか。下記から一つ選び、その記号を解答欄にマークせよ。(解答番号 15)

- A 異人 B 西洋人 C バテレン
D 紅毛人 E 欧米人

問 9 下線部(オ)に関連する記述として最も適切なものを下記から一つ選び、その記号を解答欄にマークせよ。(解答番号 16)

- A キリシタン大名である大村純忠、有馬晴信、細川忠興は1582(天正10)年、少年使節をローマ教皇のもとに派遣した。
- B 1549(天文18)年、イエズス会の宣教師フランシスコ＝ザビエルが長崎に到着した。
- C ルイス＝フロイスはフランシスコ会の宣教師であったため、ヴァリニャーニらイエズス会宣教師とは敵対関係にあった。
- D 宣教師は南蛮寺、コレジオ、セミナリオなどを通じて各地で布教にとめたが、織田信長によって弾圧された。
- E 天正遣欧使節では、伊東マンショ、千々石ミゲル、中浦ジュリアン、原マルチノの4少年が派遣された。

〔Ⅲ〕 次の1～2の文章を読み、以下の設問に答えよ。(解答番号17～24, 105～106)

1 豊臣秀吉時代に引き続き、江戸時代の初期においては日本人の海外進出がさかんであった。ルソン・トンキン・アンナン・カンボジア・タイなどに渡航する商人たちの船も多かった。幕府は彼らに海外渡航を許可する朱印状をあたえたので、この船を朱印船という。

朱印船貿易がさかんになると、海外に移住する日本人もふえ、南方の各地に^(ア)自治制をしいた日本町がつけられた。渡航した日本人のなかには [(1)] のようにアユタヤ朝の王室に重用された者もいる。幕府の初期の外交は、キリスト教は禁じるが^(イ)平和的な貿易は奨励するという方針であった。

一方、当時、 [(2)] 商人はマカオを根拠地に中国産の生糸を長崎に運んで巨利を得ていたが、幕府は1604(慶長9)年、 [(3)] を設けて、特定の商人らに輸入生糸を一括購入させ、 [(2)] 商人らの利益独占を排除した。

問1 空欄(1)に入る適切な人名を下記から一つ選んで、その記号を解答欄にマークせよ。(解答番号17)

- A 小西行長 B 高山右近 C 山田長政
D 加藤清正 E 島津家久

問2 空欄(2)に入る適切な国名を下記から一つ選んで、その記号を解答欄にマークせよ。(解答番号18)

- A オランダ B ポルトガル C スペイン
D イギリス E イタリア

問3 空欄(3)に入る適切な用語を解答用紙裏面の解答欄に漢字で記入せよ。(解答番号105)

問 4 下線部(ア)に関連する記述として最も適切なものを下記から一つ選び、その記号を解答欄にマークせよ。(解答番号 19)

- A 朱印船を出した大名には島津義久、大友宗麟などがある。
- B 朱印船を出した商人には末次平蔵、紀伊国屋文左衛門などがある。
- C 輸入品はアジア産品に限定され、ヨーロッパ産品の輸入は禁止されていた。
- D 日本からは銀・銅・鉄などが輸出された。

問 5 下線部(イ)に関連して、キリスト教の禁教に関する事項①～⑤を正しい順番で並べたものを下記から一つ選び、その記号を解答欄にマークせよ。(解答番号 20)

- ① 寺請制度 ② 元和の大殉教 ③ 島原の乱
- ④ バテレン追放令 ⑤ 直轄領への禁教令

[選択肢]

- A ②④⑤①③ B ④②⑤①③ C ③②④①⑤
- D ③④②⑤① E ④⑤②③①

2 1856(安政3)年、下田に着任した初代アメリカ総領事ハリスは、通商条約の締結を要求した。老中堀田正睦は条約調印の勅許を朝廷に求めたが、攘夷を主張する公家らの反対によって失敗した。しかし、中国でアロー号事件をきっかけに戦争がおこり、欧米の外圧の脅威を感じた彦根藩主井伊直弼は、1858(安政5)年4月に大老となると、勅許を得ないまま、6月に日米修好通商条約に調印した。幕府は同じ年、他に4つの国ともほぼ同じ内容の条約を結んだ(安政の5か国条約)が、これらの条約は日本に不利な不平等条約であり、その後、大きな外交上の課題となっていた。

通商条約にもとづいて、1859(安政6)年6月から、とと横浜の3港で貿易が始まった。開港場には運上所がおかれ、またが設けられて外国商人と日本商人のあいだで貿易取引がおこなわれた。貿易の開始は、国内経済に大きな変動をまきおこした。主要輸出品の生糸は、輸出の増加に生産が追いつかず、国内消費用の生糸が欠乏した。また、生産地の商人は商品を開港場に直接送ったので、いままでの流通機構がくずれ、物価も騰貴した。1860(万延元)年、幕府は、江戸の特権商人を通じて貿易を統制しようとして、五品江戸廻送令を発したが、あまり効果はなかった。

問6 空欄(4)および空欄(5)に入る港の組み合わせとして正しいものを下記から一つ選び、その記号を解答欄にマークせよ。なお、空欄(4)および空欄(5)は順不同とする。(解答番号21)

- A 神戸・下田 B 神戸・新潟 C 下田・箱館
D 長崎・箱館 E 長崎・新潟

問7 空欄(6)に入る用語を解答用紙裏面の解答欄に漢字で答えなさい。(解答番号106)

問8 下線部(ウ)の4つの国に該当しない国名を下記から一つ選んで、その記号を解答欄にマークせよ。(解答番号22)

- A イギリス B オランダ C スペイン
D フランス E ロシア

問 9 下線部(エ)に関連して、明治政府が不平等条約の改正に取り組んだ事項の説明としてもっとも適切なものを下記から一つ選び、その記号を解答欄にマークせよ。(解答番号 23)

- A 1871(明治4)年、明治政府は右大臣岩倉具視を全権大使とする使節団を欧米に派遣したが、イギリスとの予備交渉で成果を得られずに帰国した。
- B 1878(明治11)年、外務卿寺島宗則はイギリスとの間で関税自主権の回復の合意を得たが、ドイツの反対によって条約改正は失敗した。
- C 1887(明治20)年、外務大臣井上馨は、列国を集めた条約改正会議で、条件付きながら領事裁判権を廃止する条約改正案の合意を得たが、欧化政策の反感もあって政府は交渉を無期延期とし、井上は外相を辞任した。
- D アメリカはロシアとの対立から日本に妥協的になり、これを好機に政府は交渉に入ったが、1891(明治24)年の大津事件で外務大臣青木周蔵が辞任し、改正交渉はまたも中断した。
- E 日清戦争を目前とした1894(明治27)年、外務大臣陸奥宗光が日米通商航海条約に調印して治外法権の回復が達成された。

問10 下線部(オ)に関連して、次の史料の空欄①～④に入る五品として間違っているものを下記から一つ選び、その記号を解答欄にマークせよ。(解答番号 24)

五品江戸廻送令

……当分の内左の通り仰せ出され候。

一、一、一、一、一、糸
右の品々に限り、貿易荷物の分は、都御府内より相廻し候筈に候間、在々より決して神奈川表へ積み出し申す間敷候。

(続徳川実紀)

〔選択肢〕

- A 雑 穀
- B 水 油
- C 蠟
- D 呉 服
- E 茶

〔IV〕 次の 1・2 の文章を読み、以下の設問に答えよ。(解答番号 25～32, 107～108)

1 明治政府は、1871(明治4)年に文部省を新設し、 の教育制度にならい、翌年実学教育と国民皆学を理念とする学制を公布し、全国を8つの大学区、各大学区に大学校1と中学校32、各中学区に210の小学校を設置しようとした。しかし、性急な教育制度は地方の実情にあわず、財政負担も大きかったため、1879(明治12)年には従来の学制を改め、 の教育制度を参考に地方ごとに教育内容を決めてよいとする教育令を公布した。翌1880(明治13)年、教育には国家が積極的に介入すべきとの意見が政府内に強まり、中央集権的な改正教育令が制定された。

さらに1886(明治19)年には、文部大臣 は学校令を公布して、帝国大学を頂点とする教育機関を整備し、同時に尋常小学校の4か年を義務教育とし、兵式体操や「忠君愛国」を絶対的な教えと説く修身を教えるようにした。この方針は、1890(明治23)年に が出されるといっそう徹底されるようになった。

問1 空欄(1)～(2)に入る国名は何か、下記の共通語群の中から最も適する国名をそれぞれ一つずつ選び、その記号を解答欄にマークせよ。なお、空欄(1)の解答番号を25とし、以下番号順に解答欄にマークすること。(解答番号25～26)

〔共通語群〕

- | | | |
|--------|--------|--------|
| A アメリカ | B イギリス | C オランダ |
| D ドイツ | E フランス | F ロシア |

問2 空欄(3)に入る適切な人物名を下記から一人選び、その記号を解答欄にマークせよ。(解答番号27)

- | | | |
|--------|---------|-------|
| A 大木喬任 | B 榎本武揚 | C 森有礼 |
| D 木戸孝允 | E 西園寺公望 | |

問 3 空欄(4)に入る用語を解答用紙裏面の解答欄に答えなさい。(解答番号 107)

問 4 下線部(ア)に関連して、明治時代の小学校教育に関する記述として適切でないものを下記から一つ選び、その記号を解答欄にマークせよ。(解答番号 28)

- A 明治 10 年代には、小学校が各地に建設されて初等教育が普及し、1891(明治 24)年には、就学率が 50 % をこえた。
- B 1907(明治 40)年、義務教育年限は 6 年に延長された。
- C 小学校の教科書は 1903(明治 36)年から検定制になった。
- D 学校行事では御真影への最敬礼が取り入れられ、兵士の訓練をまねた運動会や遠足も行われるようになった。
- E 西洋音階による『蝶々』や『蛍の光』などが唱歌となった。

2. 1929(昭和4)年に成立した立憲民政党的の (5) 内閣は、蔵相に井上準之助^(イ)を起用し、緊縮財政によって物価の安定をはかり、産業の合理化によって国際競争力を強めようとした。さらに翌1930(昭和5)年には、1917(大正6)年以来禁止していた金の輸出を認めて、外国為替相場の安定と日本経済の立て直しをはかった。しかし、1929(昭和4)年の秋にアメリカではじまり世界にひろまった世界恐慌にぶつかり、日本経済は金解禁による実質的な円切り上げとあいまって二重の打撃をうけ、深刻な恐慌におちいった(昭和恐慌)。

デフレ政策をとった民政党内閣にかわって、1931(昭和6)年12月に高橋是清^(ウ)を蔵相に入れて成立した (6) 内閣は金輸出を直ちに再禁止し、その結果、円相場は暴落した。前後して欧米諸国も金輸出を禁止して (7) 制度に移行し、国際金本位制は消滅した。また、財政支出の急激な拡大と低金利政策の組み合わせによって有効需要の拡大をはかる財政金融政策が本格的にとられ、金輸出禁止以後の円安を放置し、輸出産業を支援した。満州事変による軍需の増大とこれらの政策効果によって、1932(昭和7)年から景気は回復に転じたのである。

問 5 空欄(5)~(6)に入る人物は誰か、下記の共通語群の中から最も適する人物名をそれぞれ一人ずつ選び、その記号を解答欄にマークせよ。なお、空欄(5)の解答番号を29とし、以下番号順に解答欄にマークすること。(解答番号29~30)

[共通語群]

- | | | |
|--------|--------|---------|
| A 犬養毅 | B 岡田啓介 | C 斎藤実 |
| D 田中義一 | E 浜口雄幸 | F 若槻礼次郎 |

問 6 空欄(7)に入る適切な用語を解答用紙裏面の解答欄に答えなさい。(解答番号108)

問 7 下線部(イ)の人物は、1932(昭和7)年に暗殺されたが、この事件を何というか。下記の中から一つ選び、その記号を解答欄にマークせよ。(解答番号 31)

- A 血盟団事件 B 五・一五事件 C 三月事件
D 十月事件 E 滝川事件 F 二・二六事件

問 8 下線部(ウ)の人物に関する記述として適切ではないものを下記の中から一つ選び、その記号を解答欄にマークせよ。(解答番号 32)

- A 1921(大正10)年、原敬首相が暗殺された後、首相となったが、その内閣は政友会の内紛により、半年あまりで倒れた。
B 1927(昭和2)年、田中義一内閣の蔵相として、3週間のモラトリアムを発令し、全国的に広がった金融恐慌をようやくしずめた。
C 1931(昭和6)年、斎藤実内閣の蔵相として、重要産業統制法を制定し、主要産業にカルテルの結成を促した。
D 1936(昭和11)年、北一輝の影響を受けた皇道派の陸軍将校らによるクーデターで暗殺された。

[V] 次の1～5の文章を読み、以下の設問に答えよ。(解答番号33～40, 109～110)

1 連合国軍最高司令官総司令部(GHQ)は、占領政策の基本となる「五大改革指令」を^(ア)発し、(1)女性参政権の確立、(2)労働組合結成の奨励、(3)教育の民主化、(4)圧政機関の廃止、(5)経済機構の民主化を進めるよう、 内閣に要求した。

問1 空欄(1)に入る人物名として、もっとも適する人物名を下記の語群の中から一人選び、その記号を解答欄にマークせよ。(解答番号33)

- A 幣原喜重郎 B 鈴木貫太郎 C 鳩山一郎
D 東久邇宮稔彦 E 吉田茂

問2 下線部(ア)に関連して、戦後改革の内容に関する記述として適切でないものを一つ選び、その記号を解答欄にマークせよ。(解答番号34)

- A 2回にわたって実施された農地改革によって、地主制は解体されて、多くの小作人が自作農となり、小作地の割合は全農地の2割程度にまで減少した。
- B 1947(昭和22)年、財閥の復活を防止するための独占禁止法と、これまでの独占企業を分割するための過度経済力集中排除法が制定された。
- C 1947(昭和22)年、アメリカ教育使節団の勧告にもとづいて、教育基本法が制定され、義務教育が6年から9年に延長された。
- D 1945(昭和20)年から1947(昭和22)年にかけて、労働三法(労働組合法・労働関係調整法・労働基準法)が制定され、労働者の団結権・団体交渉権・争議権が認められた。
- E 1945(昭和20)年12月、衆議院議員選挙法が改正され、20歳以上の男女に選挙権が平等に与えられ、翌年4月、戦後最初の総選挙が行われ、有権者の7割近くが投票し、39名の女性代議士が当選した。

2. 1949(昭和 24)年 2 月, アメリカ政府の特別公使 (2) が GHQ の顧問として来日し, 日本経済の自立化を短期で達成して国際経済に結びつけるための施策を日本政府に実行させた。この施策は, 公務員の削減と企業の人員整理によって大量の失業者を生み出し, 公務員・民間労働者の労働条件を悪化させたので, 労働組合などが反対運動を展開した。
(イ)

問 3 空欄(2)に入る人物名を解答用紙裏面の解答欄に答えなさい。(解答番号 109)

問 4 下線部(イ)に関連して, 官公庁労働運動の主力であった国鉄労働組合(国労)が大きな打撃を受けることになった一連の怪事件のうち, 国鉄総裁が遺体で発見された事件は何というか。その事件名を下記の中から一つ選び, その記号を解答欄にマークせよ。(解答番号 35)

- A 下山事件 B 松川事件 C 三鷹事件

3. 1951(昭和 26)年 9 月, (3) で講和会議が開かれ, 日本はアメリカなど 48 か国とのあいだで (3) 平和条約を調印した。この条約は, 翌年 4 月に発効し, 日本は独立国としての主権を回復した。それとともに, 日本は朝鮮の独立を承認し, 台湾, 千島列島, 南樺太などの領有権を放棄し, 奄美諸島や沖繩諸島, 小笠原諸島^(ウ)をひきつづきアメリカの施政権下におくことを認めた。

問 5 空欄(3)に入る地名として最も適切なものを下記の中から一つ選び, その記号を解答欄にマークせよ。(解答番号 36)

- A サンフランシスコ B ジュネーブ C バンドン

問 6 下線部(ウ)に関する記述として適切でないものを一つ選び、その記号を解答欄にマークせよ。(解答番号 37)

- A 1875(明治 8)年、樺太・千島交換条約を結び、ロシアに樺太の領有を認め、千島全島を日本領とした。
- B 1895(明治 28)年、清国とのあいだで調印された下関条約で、清国は台湾を日本に譲り渡すことを認めた。
- C 1905(明治 38)年、ロシアとのあいだで結ばれたポーツマス条約で、ロシアは北緯 50 度以南の樺太を日本に与えることを認めた。
- D 1953(昭和 28)年に小笠原諸島が、1968(昭和 43 年)に奄美諸島が日本に返還された。
- E 1971(昭和 46)年、日米両政府は沖縄返還協定に調印し、翌年、27 年ぶりに沖縄の日本復帰が実現した。

4 高度経済成長とともに人々の生活様式や価値観も大きく変化した。合成繊維が普及し、乳製品や温室栽培野菜、冷凍食品などの消費が増加した。都市部の住宅環境はあまりよくなかったが、家庭電化製品を中心とする耐久消費財の普及はめざましく、1950 年代後半に「三種の神器」とよばれた家電品から、1960 年代後半には、 とよばれた新三種の神器が家庭の必需品となった。

問 7 空欄(4)に入る用語は何か。その用語を解答用紙裏面の解答欄に答えなさい。(解答番号 110)

問 8 下線部(エ)の三種の神器に該当しないものはどれか。最も適切なものを下記の中から一つ選び、その記号を解答欄にマークせよ。(解答番号 38)

- A 洗濯機
- B 掃除機
- C 電気冷蔵庫

5 日本の対米貿易黒字は、日本の自動車輸出自主規制などの措置にもかかわらず、円安・ドル高もあって拡大し、1985(昭和60)年には約395億ドルに達した。アメリカは、この年9月に開かれた先進5か国財務相・中央銀行総裁会議(G5)でドル安・円高へ転じることを要請し、為替市場への協調介入が決められた。この結果、1ドル240円であった為替レートは、2年後には123円台まで上昇した。

問9 下線部(オ)の5か国に該当しない国名はどれか。最も適切なものを下記の中から一つ選び、その記号を解答欄にマークせよ。(解答番号39)

- A イギリス B イタリア C 西ドイツ
D フランス E 日本

問10 下線部(カ)で決められたことは何と呼ばれているか。最も適切なものを下記の中から一つ選び、その記号を解答欄にマークせよ。(解答番号40)

- A GATT B スミソニアン協定 C WTO 協定
D プラザ合意 E ルーブル合意