





地理歴史・公民(世界史B, 日本史B, 地理B, 政治・経済)問題

はじめに、これを読みなさい。

1. これは、世界史B, 日本史B, 地理B, 政治・経済の4科目の問題を綴じた冊子である。必要な科目を選択して解答しなさい。
2. 問題は全部で86ページある。ただし、ページ番号のない白紙はページ数に含まない。
3. 解答用紙に印刷されている受験番号が正しいかどうか、受験票と照合して確認すること。
4. 監督者の指示にしたがい、解答用紙の氏名欄に氏名を記入すること。
5. 監督者の指示にしたがい、解答用紙にある「解答科目マーク欄」に1つマークし、「解答科目名」記入欄に解答する科目名を記入しなさい。なお、マークしていない場合、または複数の科目にマークした場合は0点となる。
6. 解答は、すべて解答用紙の所定欄にマークするか、または記入すること。所定欄以外のところには何も記入しないこと。解答番号は各科目の最初に示してある。
7. 問題に指定された数より多くマークしないこと。
8. 解答は、必ず鉛筆またはシャープペンシル(いずれもHB・黒)で記入のこと。
9. 訂正する場合は、消しゴムできれいに消し、消しくずを残さないこと。
10. 解答用紙は、絶対に汚したり折り曲げたりしないこと。
11. 解答用紙はすべて回収する。持ち帰らず、必ず提出すること。
12. この問題冊子は必ず持ち帰ること。
13. マーク記入例

良い例	悪い例
	  

政 治・経 済

(解答番号 1～38, 101～108)

〔 I 〕 日本の政治について、下記の設問に答えなさい。

問 1 日本国憲法には三つの基本原理があるとされる。次のうち該当しないものの記号を一つ選び、解答欄 1 にマークしなさい。

- A 国民福祉
- B 平和主義
- C 基本的人権の尊重
- D 国民主権

問 2 日本の政治機構に関する次の記述のうち、最も適切なものの記号を一つ選び、解答欄 2 にマークしなさい。

- A 国権の最高機関は立法府たる内閣である。
- B 国務大臣は国会議員の中から選ばなければならない。
- C 内閣総理大臣は裁判官を任命し又は罷免することができる。
- D 国会は弾劾裁判所で裁判官を罷免できる。

問 3 次は現在の日本の選挙制度について述べたものである。最も適切なものの記号を一つ選び、解答欄 3 にマークしなさい。

- A 衆議院議員の任期は 6 年、参議院議員の任期は 4 年である。
- B 衆議院では小選挙区制度はあるが比例代表制度はなく、参議院はその逆である。
- C 議員定数は、一票の価値がすべて等しくなるように各選挙区に割り当てられる。
- D その主な特徴として、普通選挙、平等選挙、秘密選挙(投票)などがあげられる。

問 4 次の中から日本の内閣制度の記述として最も適切でないものの記号を一つ選び、解答欄 4 にマークしなさい。

- A 内閣は衆議院を解散して国民の意思を問うことができる。
- B 衆議院は内閣不信任により内閣を倒すことができるが、参議院はできない。
- C 国務大臣の過半数は文民でなければならない。
- D 行政委員会のように、ある程度内閣から独立した行政機関もある。

問 5 日本の裁判所は法律等が憲法に違反していないかを判断する「権限」を与えられている。次の判決のうち最高裁で違憲とされなかったものの記号を一つ選び、解答欄 5 にマークしなさい。

- A 婚外子相続格差規定判決
- B 砂川事件判決
- C 薬事法距離制限判決
- D 尊属殺人重罰規定判決

問 6 問 5 の問題文中の「権限」のことを何というか。解答欄 101 に漢字で記入しなさい。

問 7 日本の国と地方の政治の仕組みの違いを述べた次の記述のうち、最も適切でないものの記号を一つ選び、解答欄 6 にマークしなさい。

- A 国の議会は二院制だが、地方議会は一院制である。
- B 行政の長は、国では議員による間接選挙で選ばれ、普通地方公共団体では住民の直接選挙で選ばれる。
- C 国の予算は議会の議決を必要とするが、普通地方公共団体の予算は原則として議会の議決がなくてもその長が独自に決定できる。
- D 国政と違い、普通地方公共団体では条例の制定・改廃や議会の解散などに住民の直接請求権が認められている。

問 8 日本の政党政治に関する次の記述のうち、最も適切なものの記号を一つ選び、解答欄 7 にマークしなさい。

- A 自由民主党と日本社会党を中心とした 55 年体制は、政権交代を伴いながら 2 大政党制としてその後 50 年近く続いた。
- B 政党は特定の業界や団体の圧力を受けて利益誘導に走りやすく、腐敗政治の温床になりやすい。
- C 1993 年の非自民連立政権は短命に終わり、その後は自由民主党による単独政権が続いている。
- D 政治資金規正法の下で政党への団体政治献金は厳しく制限され、個人による献金は認められていない。

政治・経済 問題は次ページに続いています。

〔Ⅱ〕 政治や経済について、下記の設問に答えなさい。

問 9 政治思想家についての記述のなかで最も適切でないものの記号を一つ選び、解答欄 8 にマークしなさい。

- A ホッブズは著書『リヴァイアサン』のなかで絶対王政を擁護した。
- B ルソーは『社会契約論』のなかで人民主権の直接民主制を主張した。
- C ロックは『統治二論(市民政府二論)』のなかで代議政治による民主制を説いた。
- D モンテスキューは『法の精神』のなかで三権分立を説くと同時に地方政治の自治権も主張した。

問10 アメリカの大統領制についての記述のなかで最も適切でないものの記号を一つ選び、解答欄 9 にマークしなさい。

- A 大統領の任期は 4 年で、再選は禁止されている。
- B 大統領は法案拒否権をもっている。
- C 大統領は選挙人による間接選挙で選ばれる。
- D 大統領の属した政党は共和党と民主党に限られているわけではない。

問11 国際連合に関する記述のなかで最も適切でないものの記号を一つ選び、解答欄 10 にマークしなさい。

- A 安全保障理事会は常任理事国 5 か国と非常任理事国 10 か国で構成される。
- B 安全保障理事会における常任理事国は拒否権を行使できる。
- C 国連軍は加盟国との特別協定に基づき世界各地に展開している。
- D 国連の平和維持活動(PKO)は、国連憲章のなかには明文の規定がない。

問12 次の文章の空欄にあてはまる適切な用語を解答欄 102 にカタカナで記入しなさい。

1980 年代に旧ソ連の最後の大統領であったゴルバチョフは、グラスノスチ(情報公開)と (改革)を取り入れたが、同国は 1991 年に解体、崩壊した。

問13 EU(欧州連合)に関する記述の中で最も適切でないものの記号を一つ選び、解答欄 11 にマークしなさい。 ※正解が複数存在します。

- A EU の歴史は 1950 年代の ECSC(欧州石炭鉄鋼共同体), EURATOM(欧州原子力共同体), EEC(欧州経済共同体)の創設にさかのぼる。
- B EU は 1993 年に発足し、2016 年の時点で加盟国は 28 か国に及んでいる。
- C EU は経済統合であって、政治統合の推進を目指すものではない。
- D ユーロ(EURO)は EU 加盟国すべてで共通通貨となっている。

問14 地域的経済統合の呼称に対する日本語名として適切でないものの記号を一つ選び、解答欄 12 にマークしなさい。

- A NAFTA — 北米自由貿易協定
- B APEC — アジア太平洋経済協力
- C ASEAN — アジア・オセアニア諸国連合
- D TPP — 環太平洋経済連携協定

問15 国際分業と貿易に関する記述で最も適切でないものの記号を一つ選び、解答欄 13 にマークしなさい。

- A 19 世紀にイギリスのリカードは比較生産費説に基づいた自由貿易論を唱えた。
- B 20 世紀にフランスのリストは経済発展段階説に基づいた保護貿易論を唱えた。
- C 国際分業のなかで、先進国の高度な工業製品と発展途上国の第一次産品や労働集約的な製品との分業を垂直的分業という。
- D 国際分業のなかで、先進国間などにみられる同一産業間の分業を水平的分業という。

問16 外国為替に関する記述で最も適切でないものの記号を一つ選び、解答欄 14 にマークしなさい。

- A 日本の金利が上昇すると外国からの日本への投資が増加して、円高傾向になる。
- B 一般に、円高になると日本からの製品の輸出は減少する。
- C 円安になると、日本人の外国旅行は有利になる。
- D 現在の外国為替市場では、主に各国通貨の需要と供給の関係で為替レートが決定される。

政治・経済 問題は次ページに続いています。

〔Ⅲ〕 社会保障制度に関する次の文章を読んで、下記の設問に答えなさい。なお、文中には空欄 が2か所ある。

世界の社会保障制度の歴史的歩みで、代表的なものとしては次のものがある。一つ目は1601年のイギリスのエリザベス救貧法であり、二つ目は1883年ドイツの宰相 によってつくられた疾病保険制度であり、三つ目は1935年にアメリカでニューディール政策の一環として制定された連邦社会保障法である。^(ア)日本では、最初の公的扶助制度といわれる1874年(明治7年)の恤救(じゅっきゅう)規則からであるが、その本格的展開は第二次世界大戦後の日本国憲法第25条で国民の生存権と国家の社会保障の責務が明記されてからである。

社会保障制度は国民の生存権を実現するための手段であり、国民の生涯設計における重要な である。この制度は四つの柱から構成されている。一つ目は公衆衛生で、伝染病の予防や生活環境保全等の活動で公立病院や保健所などが担当している。二つ目は公的扶助であり、国民の最低限度の生活を保障し、その自立を助けるために公費を支出すると定めた が根幹になっている。三つ目は社会福祉と呼ばれる分野で、児童や高齢者、障害者など社会的に弱い立場にある人々に対して国が施設やリハビリテーション、在宅ケアなどのサービスを提供する制度である。四つ目は 制度であり、医療・年金・雇用・労災・介護の5部門からなっている。この制度の特徴は上の三つとは異なり、財源の一部を保険料として利用者から徴収することである。被用者保険の場合、保険料は、被保険者、事業主、国の三者によって分担される。わが国では、この制度は職域ごとに格差があったが、1958年の国民健康保険法の改正や翌年の国民年金法の制定によって、1961年には国民皆保険・皆年金制が実現した。そして、1985年には国民共通の制度として基礎年金制度が導入された。

しかし、その後急速な少子高齢化の進展によって高齢者の介護が大きな社会問題となり、それを社会全体が担う新たな介護保険法が1997年に成立した。また、2008年には後期高齢者医療制度が実施された。今後、超高齢社会を迎えているわが国では、さらなる を構築して、国民のニーズに応えていかなければならない。

問17 空欄 に入るべき人名として適切なものの記号を一つ選び、解答欄 15 にマークしなさい。

- A ビスマルク
- B ヒトラー
- C ウィルヘルム 1 世
- D フリードリヒ 2 世
- E メッテルニヒ

問18 空欄 は、市場メカニズムを補完するものとして、リスクを社会全体で分かち合うルールや仕組みを指している。そこに入るべき適切な用語を解答欄 103 にカタカナで記入しなさい。

問19 下線部(ア)に関連したアメリカの社会保障制度の説明として最も適切でないものの記号を一つ選び、解答欄 16 にマークしなさい。

- A アメリカ型社会保障制度を高福祉高負担の北欧型と比較するならば、概して低福祉低負担といわれる。
- B オバマ政権は 2010 年医療保険制度改革法を成立させ、同国で初めて公的機関による国民皆保険が実現した。
- C アメリカの社会保障制度では、市場原理主義や自己責任が重視されてきた。
- D この法律は社会保障 (social security) という言葉を使った世界最初のものである。
- E アメリカでは公的医療保険制度の対象者は一部の国民に限定されている。

問20 空欄 に入るべき用語として適切なものの記号を一つ選び、解答欄 17 にマークしなさい。

- A 児童福祉法
- B 社会福祉法
- C 身体障害者福祉法
- D 老人福祉法
- E 生活保護法

問21 空欄 に入るべき用語を解答欄 104 に漢字 4 文字で記入しなさい。

問22 下線部(イ)に関連した説明として最も適切でないものの記号を一つ選び、解答欄 18 にマークしなさい。

- A 国民健康保険は、農業、自営業などの従事者を対象としている。
- B 年金部門には、国民年金、共済年金、労働年金がある。
- C わが国の公的年金は、事実上賦課方式で運用されている。
- D 労働者災害補償保険の保険料は、使用者(事業主)が全額負担する。
- E 雇用保険は雇用保険法に基づき政府が管掌する保険制度である。

問23 下線部(ウ)基礎年金制度に関連した説明で最も適切でないものの記号を一つ選び、解答欄 19 にマークしなさい。

- A わが国の公的年金制度は、全国民共通の基礎年金と、厚生年金などの報酬比例の年金からなっている。
- B この制度によって、満 18 歳以上の現役世代(被扶養配偶者も含まれる)すべてが国民年金の被保険者になった。
- C 年金を受けるためには、自ら手続き(年金請求)を行う必要がある。
- D 外国人であっても定められた条件を満たせば国民年金の被保険者になることができる。
- E 国民年金の被保険者は第 1 号、第 2 号、第 3 号被保険者に分かれ、その中で第 2 号被保険者数が最も多い。

〔Ⅳ〕 資源・環境問題について、下記の設問に答えなさい。

問27 日本の公害について述べた次の記述のうち、最も適切なものの記号を一つ選び、解答欄 23 にマークしなさい。

- A 公害は、「政府の失敗」の一つで、環境汚染を引き起こす企業の生産活動や家計の消費活動に対して政府が社会的費用を負担しないために起こる。
- B 環境基本法は、大気汚染、水質汚濁、土壌汚染、騒音、振動、地盤沈下、悪臭によって人の健康や生活環境にかかわる被害が起きることを公害と規定している。
- C 足尾銅山の鉱毒流出など、戦後の高度成長期に大規模で深刻な公害が発生していたが十分な対策がとられなかった。
- D 1960年代末の四大公害訴訟は、いずれも工場廃液中のメチル水銀による深刻な健康被害に対して起こされたものである。
- E 公害の深刻化を受けて、1967年には環境対策基本法が制定されるとともに、それを主管する官庁として環境省が発足した。

問28 四大公害裁判などを通して確立した被害救済の原則に最も当てはまらないものの記号を一つ選び、解答欄 24 にマークしなさい。

- A 被害の救済は被害者参加制度のもとでおこなう。
- B 因果関係がないことの実証は被害者でなく企業の責任でおこなう。
- C 企業に過失がなくても企業活動と被害との間に因果関係があれば、企業は損害賠償責任を負う。
- D 裁判を待たなくても被害者は療養費、障害補償金などの給付を受けることができる。
- E 被害者の原状回復が第一で、金銭的補償はあくまで次善の手段である。

問29 問28の問題文中にある「被害救済の原則」は、1972年にOECDで義務付けられた原則と同じ考えに立っている。この原則を何というか。解答欄105に、「原則」という文字を含めて記入しなさい。

問30 日本における公害を防ぐための規制について述べた次の記述のうち、最も適切なものの記号を一つ選び、解答欄25にマークしなさい。

- A 当初導入された総量規制では個別の企業を規制できないため、濃度規制がのちに導入された。
- B 大気汚染防止法や水質汚濁防止法などでは、総量規制のみを原則としている。
- C 企業の集中による環境汚染を防止するため、都市計画法は公害発生企業の立地を制限している。
- D 事業者に対し、開発が環境に与える影響を事前に調査・評価させる条例や法律が制定された。
- E 地方公共団体に代わって公害企業の監視・告発をおこなうオンブズマン制度が導入された。

問31 現代の都市型公害解決のために提唱されているのが4Rである。次のうち該当しないものの記号を一つ選び、解答欄26にマークしなさい。

- A ごみの分別収集などによる資源の再生利用(リサイクル)
- B 無駄をなくすための市民への呼びかけ(リマインド)
- C 捨てられたものの再利用(リユース)
- D 無駄に捨てられるものの削減(リデュース)
- E 過剰な包装など無駄なものを断る(リフューズ)

問32 次のうち再生可能エネルギーによる発電方式と言えないものはどれか。最も適切なものの記号を一つ選び、解答欄 27 にマークしなさい。

- A 波力発電
- B 原子力発電
- C 地熱発電
- D 太陽光発電
- E バイオマス発電

問33 再生可能エネルギーの燃料として、主にトウモロコシやサトウキビから作られるものがある。それを何というか。解答欄 106 にカタカナで記入しなさい。

問34 人類が現在直面している地球規模の資源・環境問題について述べた次の記述のうち、最も適切でないものの記号を一つ選び、解答欄 28 にマークしなさい。

- A オゾン層の破壊によって、皮膚がんなどが多発化している。
- B 酸性雨が湖沼の魚を住めなくしたり森林破壊を助長したりしている。
- C 森林の伐採や生息地の汚染・破壊によって、絶滅する種が増えている。
- D 温暖化によって、中高緯度地域では食料生産が減少し始めている。
- E 過剰な家畜の放牧や森林伐採、熱帯林の破壊が砂漠化を進行させている。

問35 次のうちで 1992 年に開催された地球サミットで採択されたものはどれか。適切なものの記号を一つ選び、解答欄 29 にマークしなさい。

- A 京都議定書
- B IPCC 第 3 回報告
- C モントリオール議定書
- D アジェンダ 21
- E 人間環境宣言

問36 次は地球的環境問題とその対策のための条約の組み合わせを示したものである。適切でない組み合わせのもの記号を一つ選び、解答欄 30 にマークしなさい。

- A 絶滅の恐れのある野生動植物とワシントン条約
- B 有害廃棄物の越境移動とバーゼル条約
- C オゾン層保護とハーグ条約
- D 湿地の保護とラムサール条約
- E 地球温暖化と気候変動枠組み条約

[V] 次の文章は、2015年3月に決定された「食料・農業・農村基本計画」にかかわる農林水産大臣の声明文(抜粋)である。この文章を読んで、下記の設問に答えなさい。

本日、新たな食料・農業・農村基本計画が で決定されました。

新たな基本計画は、我が国の農業・農村が、経済社会の構造変化等に的確に対応し、その潜在力を最大限発揮しながら、将来にわたってその役割を適切に担っていけるよう、施策の改革や国民全体による取組を進めるための指針となるものです。

現在、農業・農村は、農業就業者の高齢化や農地の荒廃^(ア)など、極めて厳しい状況にあります。 や6次産業化へのチャレンジ、100 haを超える大規模経営の出現、若者を中心とした「田園回帰」といった新たな動きも広がっています。

今後、こうした「芽」を大きく育て、農業・農村の明るい展望を切り拓くとともに、農地・農業用水などの地域資源を確実に次の世代へと継承していく必要があり^(イ)ます。

このため、新たな基本計画では、農業の構造改革、国内外の新たな需要の取り込み等を通じて農業や の成長産業化を進める産業政策と、構造改革を後押ししつつ、農業・農村の多面的機能の発揮を進める地域政策を車の両輪^(ウ)として、施策を展開していくこととしています。

また、新たな基本計画の下で、実現可能性を重視して食料自給率目標を設定^(エ)し、その実現に向けた課題の克服に着実に取り組んでいきます。あわせて、新たに我が国の食料の潜在生産能力を評価した食料自給力指標をお示しし、我が国の食料自給力の現状や過去からの動向についての認識を共有することにより、 に関する国民的な議論を深めていきます。

出所：農林水産省ホームページ(一部改変)

問37 食料・農業・農村基本計画は食料・農業・農村基本法に規定されたものである。この法律では、四つの目標を掲げている。それに該当しないものの記号を一つ選び、解答欄 31 にマークしなさい。

- A 農業の多面的機能の発揮
- B 強靱な農業生産構造の構築
- C 農業の持続的発展
- D 農村の振興
- E 食料の安定供給の確保

問38 食料・農業・農村基本計画は、おおむね 5 年ごとに見直され、今回で 4 回目の計画となる。初回の計画策定時の内閣として、適切なものの記号を一つ選び、解答欄 32 にマークしなさい。

- A 細川内閣
- B 福田(康夫)内閣
- C 小渕内閣
- D 田中内閣
- E 安倍内閣

問39 空欄 には、総理大臣が主宰し、すべての国務大臣が参加する会議の名称が入る。解答欄 107 に漢字 2 文字で記入しなさい。

問40 下線部(ア)農地の荒廃にかかわり、最も適切でないものの記号を一つ選び、解答欄 33 にマークしなさい。

- A 農地の荒廃は、中山間地域で発生しやすい。
- B 農地の荒廃を抑制するためには、農業の担い手を確保することが重要である。
- C 農地の荒廃は、特に農業就業者が高齢化した地域で発生しやすい。
- D 農地の荒廃は、都市化が進むと抑制される傾向がある。
- E 農地の荒廃により、中山間地域では生活環境が悪化しがちである。

問41 空欄 に入る最も適切な内容の記号を一つ選び、解答欄 34 にマークしなさい。

- A 海外との事業提携
- B 海外への直接投資
- C 海外からの農産物輸入
- D 海外への食料支援
- E 海外への農産物輸出

問42 下線部(イ)農地に関連して、第2次世界大戦後に我が国で行われた農地改革をめぐり、最も適切でないものの記号を一つ選び、解答欄 35 にマークしなさい。

- A 農地改革により、大規模農業経営が形成された。
- B 第1次農地改革が行われ、その後すぐに第2次改革も実施された。
- C 農地改革は、GHQの経済民主化策の一環として実施された。
- D 農地改革は、前近代的な地主・小作関係の解消を目的として行われた。
- E 農地改革により、農民たちの生産意欲は高まり、農業生産力は向上した。

問43 空欄 に入る最も適切な語句の記号を一つ選び、解答欄 36 にマークしなさい。

- A 流通産業
- B 観光産業
- C 資材産業
- D 建設産業
- E 食品産業

問44 下線部(ウ)農業・農村の多面的機能に関する説明として、最も適切でないものの記号を一つ選び、解答欄 37 にマークしなさい。

- A 農業生産が継続されることにより、農村の美しい景観が維持されている。
- B 農業の生命産業の側面は、教育の場としての効果が期待できる。
- C 水田は保水機能を持ち、都市部の洪水の発生を防止している。
- D 農業生産の大規模化により、農産物のコスト低減を実現している。
- E 農業・農村が持つ外部経済効果は貨幣評価されることがある。

問45 下線部(エ)食料自給率にかかわり、すべての品目別の自給率(2014 年度)が 50 %以下となる組み合わせとして、適切なものの記号を一つ選び、解答欄 38 にマークしなさい。

- A 野菜・大豆・小麦
- B 小麦・油脂類・大豆
- C 大豆・ばれいしょ・牛肉
- D 小麦・野菜・鶏卵
- E 油脂類・小麦・ばれいしょ

問46 空欄

4

 には、食料自給率をめぐる議論において、しばしば論点となる用語が入る。解答欄 108 に、「食料」または「食糧」という 2 文字を含めて漢字 6 文字で記入しなさい。

