

地理歴史・公民(世界史B, 日本史B,
地理B, 政治・経済)問題

はじめに、これを読みなさい。

1. これは、世界史B, 日本史B, 地理B, 政治・経済の4科目の問題を綴じた冊子である。必要な科目を選択して解答しなさい。
2. 問題は全部で80ページある。ただし、ページ番号のない白紙はページ数に含まない。
3. 解答用紙に印刷されている受験番号が正しいかどうか、受験票と照合して確認すること。
4. 監督者の指示にしたがい、解答用紙の氏名欄に氏名を記入すること。
5. 監督者の指示にしたがい、解答用紙にある「解答科目マーク欄」に1つマークし、「解答科目名」記入欄に解答する科目名を記入しなさい。なお、マークしていない場合、または複数の科目にマークした場合は0点となる。
6. 解答は、すべて解答用紙の所定欄にマークするか、または記入すること。所定欄以外のところには何も記入しないこと。解答番号は各科目の最初に示してある。
7. 問題に指定された数より多くマークしないこと。
8. 解答は、必ず鉛筆またはシャープペンシル(いずれもHB・黒)で記入のこと。
9. 訂正する場合は、消しゴムできれいに消し、消しくずを残さないこと。
10. 解答用紙は、絶対に汚したり折り曲げたりしないこと。
11. 解答用紙はすべて回収する。持ち帰らず、必ず提出すること。
12. この問題冊子は必ず持ち帰ること。
13. マーク記入例

良い例	悪い例
	  

100
100
100
100

地 理 B

(解答番号 1～43, 101～107)

〔 I 〕 次の地図を参照して、アフリカに関連する下記の設問に答えよ。



問 1 地図中の経線アの経度として、適切なものを一つ選び、記号をマークせよ。(解答番号 1)

- A 東経 0 度 B 東経 10 度 C 東経 20 度
D 東経 30 度 E 東経 40 度

問 2 地図中の経線イに沿って北上したときに通らない国はどれか、適切なものを一つ選び、記号をマークせよ。(解答番号 2)

- A イタリア B デンマーク C ドイツ
D ノルウェー E フィンランド

問 3 アフリカ大陸西岸の南回帰線付近では、寒流の影響で海岸砂漠が形成されている。この海岸砂漠の名称として、適切なものを一つ選び、記号をマークせよ。(解答番号 3)

- A イギディ B カラハリ C ナミブ
D ヌビア E リビア

問 4 アフリカの国では、植民地時代における宗主国との経済関係に由来し、特定の一次産品の生産と輸出に依存する 経済が見られる。アフリカにおける 経済の代表的な例として、ザンビアの , コートジボワールの を挙げることができる。

(1) 空欄 に当てはまる語句を カタカナ で解答番号 101 に記入せよ。

(2) 空欄 , 空欄 に当てはまる語句として、最も適切なものを一つずつ選び、記号をマークせよ。(②: 解答番号 4, ③: 解答番号 5)

- A 原油 B 鉄鉱石 C 銅
D カカオ豆 E 砂糖 F バナナ

問 5 ある川の河口付近にはデルタが形成され、巨大な油田地帯となっている。
この地域はかつて分離独立を宣言し、内戦となったことでも知られる。該当する河口地域として適切なものを、地図中のA～Eから一つ選び、記号をマークせよ。(解答番号6)

問 6 表1は、エジプト、エチオピア、南アフリカ共和国の主要農作物の生産量を示したものである。①～③に該当する国名の組み合わせとして、適切なものを一つ選び、記号をマークせよ。(解答番号7)

表1

	①	②	③
穀物	25,385	24,214	10,167
小麦	4,538	9,000	1,910
米	136	6,300	3
トウモロコシ	7,847	8,001	7,779
大豆	81	35	742
いも類	8,477	5,510	2,212

統計年次：2016年。単位：千トン。

資料：『世界国勢図会 2018/19』より作成。

	①	②	③
A エジプト	エチオピア	南アフリカ共和国	
B エジプト	南アフリカ共和国	エチオピア	
C エチオピア	エジプト	南アフリカ共和国	
D エチオピア	南アフリカ共和国	エジプト	
E 南アフリカ共和国	エジプト	エチオピア	
F 南アフリカ共和国	エチオピア	エジプト	

問 7 表 2 は、地図中の a 国、b 国、c 国の、産業活動別国内総生産を示したものである。①～③に該当する国の組み合わせとして、適切なものを一つ選び、記号をマークせよ。(解答番号 8)

表 2

①		②		③	
農林水産業	31,807	農林水産業	19,556	農林水産業	12,459
鉱・工業	73,205	鉱・工業	37,284	鉱・工業	21,053
(うち製造業)	45,514	(うち製造業)	7,012	(うち製造業)	16,358
建設業	14,508	建設業	18,183	建設業	5,939
卸売・小売業	42,209	卸売・小売業	23,589	卸売・小売業	10,505
運輸・通信業	22,783	運輸・通信業	16,419	運輸・通信業	5,949
サービス業	82,140	サービス業	38,484	サービス業	35,452
国内総生産	270,144	国内総生産	159,049	国内総生産	103,607

統計年次：2016 年。単位：百万米ドル。

資料：『世界国勢図会 2018/19』より作成。

	①	②	③
A	a 国	b 国	c 国
B	a 国	c 国	b 国
C	b 国	a 国	c 国
D	b 国	c 国	a 国
E	c 国	a 国	b 国
F	c 国	b 国	a 国

問 8 次の文章中の空欄 ① に当てはまる名称をカタカナで解答番号 102 に、空欄 ② に当てはまる語句を漢字 4 文字で解答番号 103 に記入せよ。

赤道上を西から東にたどっていくと、大西洋岸の d 国、ついで ① 川西岸に e 国があり、f 国には ① 盆地および ① 川流域の大半がある。流域には熱帯雨林が広がっている。盆地から標高が上がり、g 国との国境付近で、南北に走る大規模陥没地のアフリカ ② と交差する。② にはいくつかの断層湖がある。ついで、アフリカ最大の淡水湖であるヴィクトリア湖を通り h 国に入る。標高 5000 m 級のキリニャガ山および周辺高地を通り、i 国を経てインド洋に至る。

問 9 地図中の e 国、f 国、g 国の旧宗主国の組み合わせとして、適切なものを一つ選び、記号をマークせよ。(解答番号 9)

	e 国	f 国	g 国
A	イギリス	フランス	ベルギー
B	イギリス	ベルギー	フランス
C	フランス	イギリス	ベルギー
D	フランス	ベルギー	イギリス
E	ベルギー	イギリス	フランス
F	ベルギー	フランス	イギリス

問10 表3は、地図中のh国、j国、k国の輸出額上位6品目を示したものである。①～③に該当する国の組み合わせとして、適切なものを一つ選び、記号をマークせよ。(解答番号10)

表3

①		②		③	
金(非貨幣用)	1,431	茶	1,218	コーヒー豆	1,019
野菜・果実	738	装飾用切花等	480	野菜・果実	915
貴金属鉱	469	野菜・果実	418	石油製品	693
機械類	397	衣類	283	装飾用切花等	662
繊維品	265	石油製品	211	ごま	474
魚介類	237	コーヒー豆	190	生きた動物	332
総計	5,854	総計	5,537	総計	5,028

統計年次：①、③は2015年、②は2013年。単位：百万米ドル。

資料：『世界国勢図会 2017/18』より作成。

	①	②	③
A	h国	j国	k国
B	h国	k国	j国
C	j国	h国	k国
D	j国	k国	h国
E	k国	h国	j国
F	k国	j国	h国

問11 地図中のi国は、1991年以降内戦状態となり、大量の難民や国内避難民が発生した。また、干ばつなどにより大規模な飢餓問題も生じ、重大な人道上の問題ともなった。2012年に新政府が樹立されたが、不安定な政情は続いている。i国の国名として、適切なものを一つ選び、記号をマークせよ。(解答番号11)

- | | | |
|---------|----------|--------|
| A エリトリア | B ジブチ | C ソマリア |
| D 南スーダン | E モザンビーク | |

〔Ⅱ〕 次の地図を参照して、ラテンアメリカに関連する下記の設問に答えよ。



問 1 南回帰線が通る南アメリカの国名として、適切でないものを一つ選び、記号をマークせよ。(解答番号 12)

- A アルゼンチン B ウルグアイ C チリ
D パラグアイ E ブラジル

問 2 地図中の都市リマ(西経 77 度, 南緯 12 度)の対蹠点(地球の中心をはさんだ正反対の地点)を含む国の名前として、適切なものを一つ選び、記号をマークせよ。(解答番号 13)

- A インドネシア B オーストラリア C カンボジア
D 日本 E バングラデシュ

問 3 リマとほぼ同じ経度にあるアメリカ合衆国の都市の名前として、適切なものを一つ選び、記号をマークせよ。(解答番号 14)

- A シカゴ B ダラス C ヒューストン
D ロサンゼルス E ワシントン D.C.

問 4 図1の①～③は、地図中のサルヴァドル、ブラジリア、リマのいずれかにおける、月平均気温と月降水量を示したものである。①～③に該当する都市名の組み合わせとして、適切なものを一つ選び、記号をマークせよ。(解答番号 15)

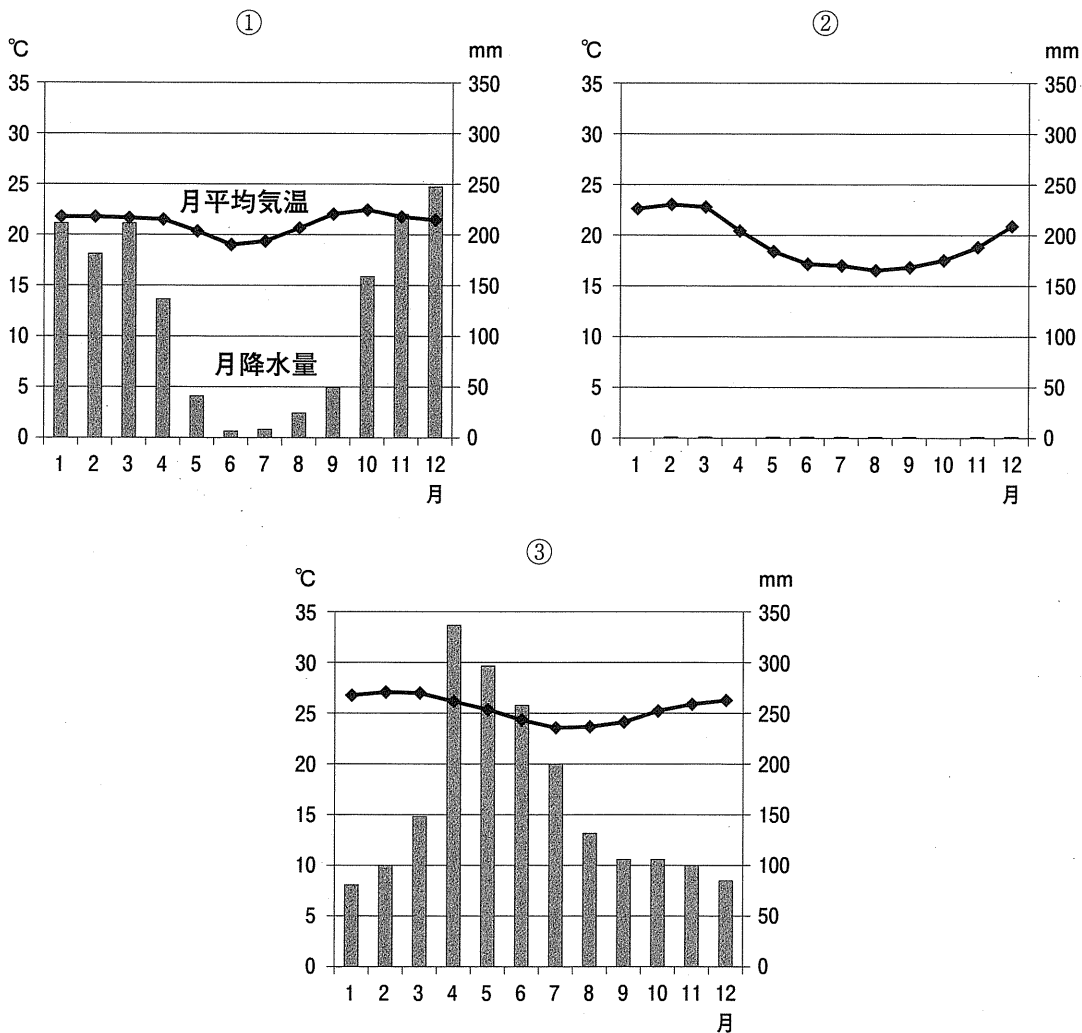


図 1

統計年次：1981-2010年の平均、ただし①の月平均気温および②の月降水量は1982-2010年の平均。

資料：『理科年表』より作成。

	①	②	③
A	サルヴァドル	ブラジリア	リ マ
B	サルヴァドル	リ マ	ブラジリア
C	ブラジリア	サルヴァドル	リ マ
D	ブラジリア	リ マ	サルヴァドル
E	リ マ	サルヴァドル	ブラジリア
F	リ マ	ブラジリア	サルヴァドル

問 5 南アメリカ大陸北部を流れる 川は, 山脈の東斜面に源を発して大西洋に注ぐ。 盆地最大の都市である は, 川の河口から約 1500 km 上流に位置する水陸交通の要衝で, 農産物の集散地として発展した。

空欄 ~ に当てはまる名称を, 解答番号 104 ~ 106 に記入せよ。

問 6 地図中の X ~ Z は, エクアドル, コロンビア, ベネズエラのいずれかである。(1)~(3)の文を参考にして, X ~ Z に該当する国名の組み合わせとして, 適切なものを一つ選び, 記号をマークせよ。(解答番号 16)

- (1) エクアドルは, スペイン語で赤道の意味である。
- (2) コロンビア東部のオリノコ川上流域には, サバナ型草原が広がっている。
- (3) ベネズエラ南東部の高原地帯は, ギアナ高地の一部を構成する。

	X	Y	Z
A	エクアドル	コロンビア	ベネズエラ
B	エクアドル	ベネズエラ	コロンビア
C	コロンビア	エクアドル	ベネズエラ
D	コロンビア	ベネズエラ	エクアドル
E	ベネズエラ	エクアドル	コロンビア
F	ベネズエラ	コロンビア	エクアドル

問 7 ラテンアメリカの人種・民族構成は国によって大きく異なる。かつてイン
カ帝国の都のあった や、マヤ文明やアステカ文明の中心地のあつ
た では、先住民や、先住民とヨーロッパ系との混血である
 の割合が高い。

(1) 空欄 , 空欄 に当てはまる国名として、適切なもの
を一つずつ選び、記号をマークせよ。(①：解答番号 17, ②：解答番号
18)

- | | | |
|----------|--------|--------|
| A アルゼンチン | B チリ | C ブラジル |
| D ペルー | E ボリビア | F メキシコ |

(2) 空欄 に当てはまる語句として、適切なものを一つ選び、記号
をマークせよ。(解答番号 19)

- | | | |
|------------|---------|----------|
| A アングロサクソン | B インディオ | C ヒスパニック |
| D ムラート | E メスチーソ | |

問 8 図2は、ブラジルにおける米、大豆、トウモロコシの生産量の推移を示したものである。①～③に該当する農作物の組み合わせとして、適切なものを一つ選び、記号をマークせよ。(解答番号 20)

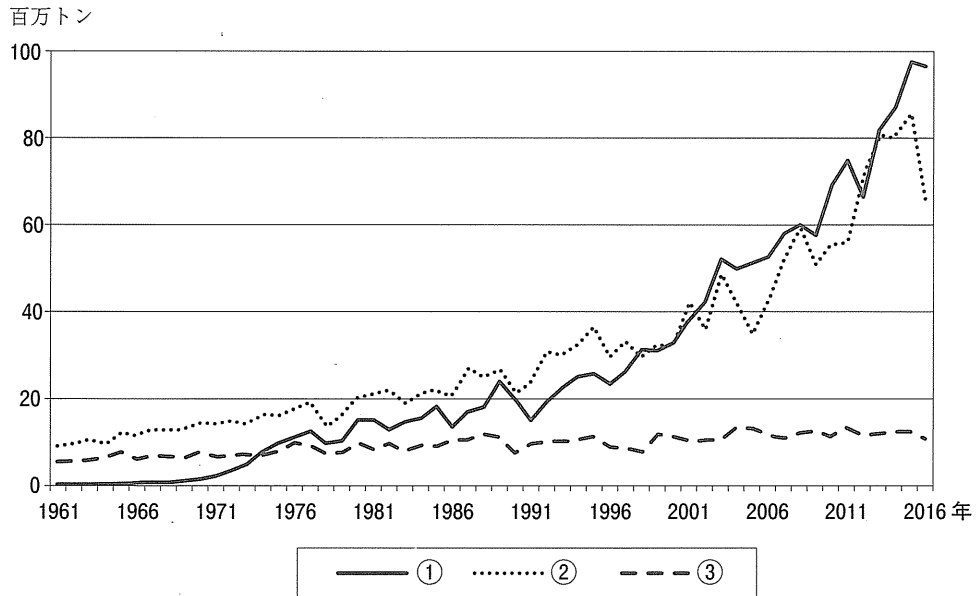


図 2

資料：FAOSTAT より作成。

- | | ① | ② | ③ |
|---|--------|--------|--------|
| A | 米 | 大豆 | トウモロコシ |
| B | 米 | トウモロコシ | 大豆 |
| C | 大豆 | 米 | トウモロコシ |
| D | 大豆 | トウモロコシ | 米 |
| E | トウモロコシ | 米 | 大豆 |
| F | トウモロコシ | 大豆 | 米 |

問 9 ブラジルは、中国、アメリカ合衆国と並ぶ肉類生産大国である。表 1 は、世界の牛肉、鶏肉、豚肉の総生産量および生産量上位 6 か国を示したものである。①～③に該当する肉類の組み合わせとして、適切なものを一つ選び、記号をマークせよ。(解答番号21)

表 1

	①	②	③
総生産量	118,169	107,143	65,974
1 位	中国	アメリカ合衆国	アメリカ合衆国
2 位	アメリカ合衆国	ブラジル	ブラジル
3 位	ドイツ	中国	中国
4 位	スペイン	ロシア	アルゼンチン
5 位	ベトナム	インド	オーストラリア
6 位	ブラジル	メキシコ	メキシコ

統計年次：2016 年。単位：千トン。

資料：FAOSTAT より作成。

	①	②	③
A	牛肉	鶏肉	豚肉
B	牛肉	豚肉	鶏肉
C	鶏肉	牛肉	豚肉
D	鶏肉	豚肉	牛肉
E	豚肉	牛肉	鶏肉
F	豚肉	鶏肉	牛肉

問10 ブラジルは、アメリカ合衆国に次ぐバイオエタノール生産大国である。ブラジルおよびアメリカ合衆国における、主要なバイオエタノール原料作物の名称として、適切なものを一つずつ選び、記号をマークせよ。(ブラジル：解答番号 22, アメリカ合衆国：解答番号 23)

A 米	B サトウキビ	C ジャガイモ
D 大豆	E トウモロコシ	F ナタネ

問11 表2は、日本のチリ、ブラジル、メキシコからの輸入総額および輸入額上位5品目とその割合(%)を示したものである。①～③に該当する国名の組み合わせとして、適切なものを一つ選び、記号をマークせよ。(解答番号24)

表2

	①	②	③
輸入総額	804,112	734,410	648,831
1位	鉄鉱石 (39.4)	銅 鉱 (48.8)	機械類 (28.0)
2位	肉 類 (13.1)	魚介類 (20.1)	原 油 (13.5)
3位	コーヒー (6.4)	ウッドチップ (5.6)	自動車部品 (8.9)
4位	トウモロコシ (6.1)	モリブデン鉱 (4.5)	肉 類 (8.4)
5位	アルミニウム (4.5)	ブドウ酒 (3.3)	科学光学機器 (5.8)

統計年次：2017年。単位：百万円。

資料：『日本国勢図会 2018/19』より作成。

	①	②	③
A	チ リ	ブラジル	メキシコ
B	チ リ	メキシコ	ブラジル
C	ブラジル	チ リ	メキシコ
D	ブラジル	メキシコ	チ リ
E	メキシコ	チ リ	ブラジル
F	メキシコ	ブラジル	チ リ

問12 ブラジル，アルゼンチン，ウルグアイ，パラグアイ，ベネズエラ，ボリビアの6か国は，域内の関税撤廃等を目的とする経済同盟であるメルコスール(MERCOSUR)に加盟している(2018年9月現在)。表3は，ブラジルを除くメルコスール加盟国の人口，人口1人あたり名目国内総生産，輸出総額，輸出額1位品目とその割合を示したものである。アルゼンチン，ウルグアイ，ベネズエラに該当する国を，表中のA～Eから一つずつ選び，記号をマークせよ。(アルゼンチン：解答番号25，ウルグアイ：解答番号26，ベネズエラ：解答番号27)

表3

国	人口 (千人)	人口1人あたり 名目国内総生産 (米ドル)	輸出総額 (百万米ドル)	輸出額1位品目 (%)
A	44,689	12,449	57,733	植物性油かす(17.5)
B	32,381	9,230	87,961	原油(85.1)
C	11,216	3,105	7,082	天然ガス(28.9)
D	6,897	4,039	8,501	電力(25.1)
E	3,470	15,221	6,964	肉類(23.5)

統計年次：人口は2018年，人口1人あたり名目国内総生産は2016年，輸出総額および輸出額1位品目とその割合は2016年(ただしベネズエラのみ2013年)。

資料：『世界国勢図会 2018/19』より作成。

問13 メキシコは、アメリカ合衆国およびカナダとの間に、北米自由貿易協定 (NAFTA) を結んでいる(2018年9月現在)。表4は、メキシコ、アメリカ合衆国、カナダの相手先別輸出額および輸入額の上位3か国とその割合(%)を示したものである。①~③に該当する国名の組み合わせとして、適切なものを一つ選び、記号をマークせよ。(解答番号28)

表4

	①		②		③	
	輸出先	輸入先	輸出先	輸入先	輸出先	輸入先
1位	③ (81.3)	③ (46.5)	③ (76.4)	③ (52.2)	② (18.3)	中国 (21.1)
2位	② (2.8)	中国 (18.0)	中国 (4.1)	中国 (12.1)	① (15.9)	① (13.4)
3位	中国 (1.5)	日本 (4.6)	英国 (3.3)	① (6.2)	中国 (8.0)	② (12.7)

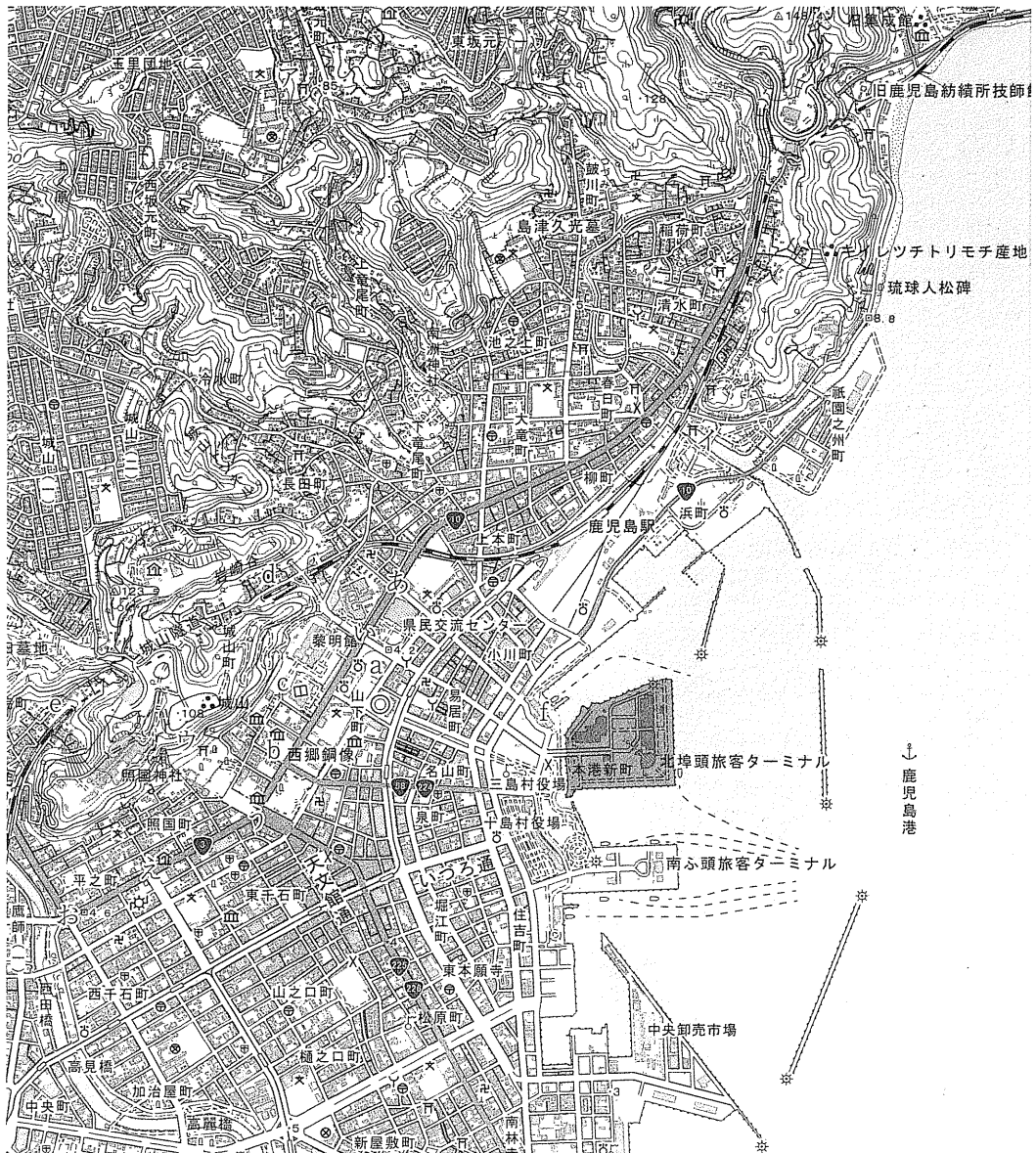
注：英国はイギリスを指す。

統計年次：2016年。

資料：『世界国勢図会 2018/19』より作成。

	①	②	③
A	アメリカ合衆国	カナダ	メキシコ
B	アメリカ合衆国	メキシコ	カナダ
C	カナダ	アメリカ合衆国	メキシコ
D	カナダ	メキシコ	アメリカ合衆国
E	メキシコ	アメリカ合衆国	カナダ
F	メキシコ	カナダ	アメリカ合衆国

〔Ⅲ〕 次の地形図を参照して、下記の設問に答えよ。



資料：国土地理院発行の2万5千分の1地形図「鹿児島島北部」(2016年8月1日発行)
の一部を原寸で表示(一部加工)。

問 1 鹿児島市の緯度は、およそ北緯 31 度 30 分である。この緯度に最も近い中国の都市として、適切なものを一つ選び、記号をマークせよ。(解答番号 29)

- | | |
|--------------|-------------|
| A コワンチョウ(広州) | B シャンハイ(上海) |
| C ハルビン(哈爾濱) | D ペキン(北京) |
| E ホンコン(香港) | |

問 2 緯度が南緯 31 度 30 分に最も近い南半球の都市として、適切なものを一つ選び、記号をマークせよ。(解答番号 30)

- A インドネシアのバンドン
- B オーストラリアのパーズ
- C ケニアのモンバサ
- D ニュージーランドのクライストチャーチ
- E ボリビアのサンタクルス

問 3 地図記号に関する下記の設問に答えよ。

(1) 地形図上の地点 a には鹿児島地方裁判所がある。裁判所を示す地図記号として、適切なものを以下の選択肢の中から一つ選び、記号をマークせよ。(解答番号 31)

(2) 地形図上の地点 b には「西郷銅像」がある。立像を含む記念碑を示す地図記号として、適切なものを以下の選択肢の中から一つ選び、記号をマークせよ。(解答番号 32)

[選択肢]

- | | | | |
|---|---|---|---|
| A  | B  | C  | D  |
| E  | F  | G  | H  |

問 4 地形図上の地点 c に存在する地図記号□であらわされる施設の名称として、適切なものを一つ選び、記号をマークせよ。(解答番号 33)

- A いおワールドかごしま水族館 B 鹿児島県立図書館
C 鹿児島県立博物館 D 鹿児島市平川動物公園
E 鹿児島市立美術館

問 5 地形図上の鉄道の「城山隧道」(地点 d と e の間)の実際の長さとして、最も近いものを一つ選び、記号をマークせよ。(解答番号 34)

- A 250 m B 500 m C 750 m
D 1000 m E 1250 m

問 6 地形図上の「北埠頭旅客ターミナル」がある埋立地(色塗りの部分)の実際の面積として、最も近いものを一つ選び、記号をマークせよ。(解答番号 35)

- A 1 ha B 5 ha C 10 ha
D 25 ha E 50 ha

問 7 地形図上のア～ウの3つの神社の標高を低い順に並べた組み合わせとして、適切なものを一つ選び、記号をマークせよ。(解答番号 36)

←低い 高い→

- A ア イ ウ
B ア ウ イ
C イ ア ウ
D イ ウ ア
E ウ ア イ
F ウ イ ア

問11 地形図上では、「国道 58 号」と「国道 224 号」が並んで表記されているが、これは国道の重複区間を示すものである。このうち国道 58 号は、海上国道とも呼ばれ、海を越えて同じ番号の国道が幾つかの島々に存在している。国道 58 号の終点がある南西諸島最大の島として、適切なものを一つ選び、記号をマークせよ。(解答番号 39)

- A 石垣島 B ^{いりおもて}西表島 C 沖縄島
D 宮古島 E ^{よなくに}与那国島

問12 地形図上の「鹿児島港」から複数の航路が出ているが、これらの多くは鹿児島県内の離島と結ぶものである。鹿児島港からの定期旅客航路がない島として、適切なものを一つ選び、記号をマークせよ。(解答番号 40)

- A ^{あまみ}奄美群島の大島(奄美大島) B ^{たねがしま}大隅諸島の種子島
C 大隅諸島の屋久島 D ^{こしきしま}甑島列島の上甑島
E ^{とから}吐噶喇列島の口之島

問13 鹿児島県には多くの離島が存在しているが、同県における有人離島の人口および面積の割合の組み合わせとして、適切なものを一つ選び、記号をマークせよ(データは『2016 離島統計年報』による)。(解答番号 41)

- | | 人口 | 面積 |
|---|--------|--------|
| A | 約 2 % | 約 10 % |
| B | 約 10 % | 約 2 % |
| C | 約 10 % | 約 27 % |
| D | 約 27 % | 約 10 % |
| E | 約 27 % | 約 52 % |
| F | 約 52 % | 約 27 % |

問14 地形図の右上部の「旧集成館」付近は、霧島錦江湾国立公園に指定されている。霧島錦江湾国立公園内にある活火山として、適切なものを一つ選び、記号をマークせよ。(解答番号 42)

A 阿蘇山

B 雲仙岳

C 開聞岳

D 大山

E 由布岳

問15 表1は、九州・沖縄8県の製造品出荷額等総額および出荷額等上位3部門とその割合(%)を示したものである。①～③に該当する県名の組み合わせとして、適切なものを一つ選び、記号をマークせよ。(解答番号43)

表1

	総額(百万円)	1位	2位	3位
福岡県	8,433,642	輸送 (28.7)	鉄鋼 (10.7)	食料 (10.7)
①	4,558,947	石油 (16.5)	化学 (13.9)	鉄鋼 (12.6)
熊本県	2,474,035	輸送 (15.7)	食料 (13.3)	電子 (13.3)
②	1,912,793	食料 (34.4)	飲料 (20.9)	電子 (13.0)
佐賀県	1,735,655	食料 (18.7)	輸送 (11.6)	化学 (9.8)
③	1,562,494	輸送 (23.5)	電子 (19.0)	食料 (16.0)
宮崎県	1,527,585	食料 (20.8)	電子 (10.6)	飲料 (10.4)
沖縄県	633,591	石油 (34.5)	食料 (23.9)	飲料 (10.8)

統計年次：2014年。

注：従業者4人以上の事業所に関する統計数値である。「食料」は「食料品製造業」,「飲料」は「飲料・たばこ・飼料製造業」,「化学」は「化学工業」,「石油」は「石油製品・石炭製品製造業」,「鉄鋼」は「鉄鋼業」,「電子」は「電子部品・デバイス・電子回路製造業」,「輸送」は「輸送用機械器具製造業」のことである。

資料：「平成26年工業統計調査」データより作成。

- | | ① | ② | ③ |
|---|------|------|------|
| A | 大分県 | 鹿児島県 | 長崎県 |
| B | 大分県 | 長崎県 | 鹿児島県 |
| C | 鹿児島県 | 大分県 | 長崎県 |
| D | 鹿児島県 | 長崎県 | 大分県 |
| E | 長崎県 | 大分県 | 鹿児島県 |
| F | 長崎県 | 鹿児島県 | 大分県 |