



地理歴史・公民(世界史B, 日本史B, 地理B, 政治・経済)問題

はじめに、これを読みなさい。

1. これは、世界史B, 日本史B, 地理B, 政治・経済の4科目の問題を綴じた冊子である。必要な科目を選択して解答しなさい。
2. 問題は全部で81ページある。ただし、ページ番号のない白紙はページ数に含まない。
3. 解答用紙に印刷されている受験番号が正しいかどうか、受験票と照合して確認すること。
4. 監督者の指示にしたがい、解答用紙の氏名欄に氏名を記入すること。
5. 監督者の指示にしたがい、解答用紙にある「解答科目マーク欄」に1つマークし、「解答科目名」記入欄に解答する科目名を記入しなさい。なお、マークしていない場合、または複数の科目にマークした場合は0点となる。
6. 解答は、すべて解答用紙の所定欄にマークするか、または記入すること。所定欄以外のところには何も記入しないこと。解答番号は各科目の最初に示してある。
7. 問題に指定された数より多くマークしないこと。
8. 解答は、必ず鉛筆またはシャープペンシル(いずれもHB・黒)で記入のこと。
9. 訂正する場合は、消しゴムできれいに消し、消しくずを残さないこと。
10. 解答用紙は、絶対に汚したり折り曲げたりしないこと。
11. 解答用紙はすべて回収する。持ち帰らず、必ず提出すること。
12. この問題冊子は必ず持ち帰ること。
13. マーク記入例

良い例	悪い例
	

地 理 B

(解答番号 1～37, 101～108)

〔 I 〕 世界の生活文化、民族・宗教、領土問題などに関する、下記の設問に答えよ。

問 1 以下の世界の住居についての記述の中から、適切なものを一つ選びマークせよ。(解答番号1)

- A 韓国の伝統的家屋には、かまどの熱を利用した床暖房であるイグルーがみられる。
- B ゲル(パオ)はモンゴル遊牧民の移動式住居で、ドーム型の天井と石積み壁が特徴である。
- C 高床式住居は湿気や動物からの被害を防ぐ効果があり、特に中国北部に集中的にみられる。
- D 南米の熱帯雨林における家屋に用いられ、スペイン語でアドベと呼ばれる日干しれんがは高い耐水性がある。
- E 西アジアのように高温で乾燥している地域の家屋は、壁が厚く窓は小さくなっているものが多い。

問 2 以下の世界の様々な食文化についての記述の中から、適切なものを一つ選びマークせよ。(解答番号 2)

- A アイルランドの代表的料理であるカーシャは、肉や野菜を煮込んだものである。
- B ウクライナには、あさりと玉ねぎを煮込んだボルシチという代表的料理がある。
- C ナンは米粉の生地をタンドールで焼き上げたもので、インドなどでよくみられる。
- D パエリアは米を使ったスペイン・バレンシア地方の料理で、一般にサフランを用いる。
- E フォーは小麦粉でつくった平麺に牛肉スープなどをかけた、ベトナムの代表的料理である。

問 3 以下の文章の空欄①～④に当てはまる語句の組み合わせとして、適切なものを一つ選びマークせよ。(解答番号 3)

主食は地域の自然環境の影響を強く受けている。例えば、モンスーンアジアの多くの地域では ① が、欧米諸国や西アジアの多くの地域では ② が主食となる。一般に、① を主食とする地域では ③ が副食となることが多く、② を主食とする地域では ④ をタンパク質の補給源とすることが多い。

- | | ① | ② | ③ | ④ |
|---|---|---|-----|-----|
| A | 米 | 麦 | 海藻類 | 豆類 |
| B | 米 | 麦 | 肉類 | 魚介類 |
| C | 米 | 麦 | 野菜類 | 肉類 |
| D | 麦 | 米 | 海藻類 | 豆類 |
| E | 麦 | 米 | 肉類 | 魚介類 |
| F | 麦 | 米 | 野菜類 | 肉類 |

問 4 以下の民族についての記述の中から、適切なものを一つ選びマークせよ。

(解答番号 4)

- A イ族は中国・福建省の高地にのみ居住する少数民族で、イ語、イ文字を使用する。
- B ウイグル族は中国の人口の約 12 %を占め、同国の少数民族の中で最も人口が多い。
- C ホイ(回)族はカスピ海西岸のカフカス地方を原住地とする人種で、カザフスタン周辺の北方系とモンゴル以南アジアの南方系に大別される。
- D チョワン(壮)族は中国とモンゴルとの国境付近に住む農耕民で、サトウキビなどを生産している。
- E ミャオ(苗)族は主に中国南部および東南アジア大陸部に居住し、ケシの栽培もしている。

問 5 以下の文章の空欄に当てはまる語句として、適切なものを一つ選びマークせよ。(解答番号 5)

民族を巡る問題は、政治的問題と強く関係することがある。例えばイラクの人口の 2 割強を占める の問題は、キルクーク油田の利権問題などと関わっている。

- A アルメニア人 B クルド人 C タタール人
- D チェチェン人 E ペルシャ人

問 6 以下の文章の空欄に当てはまる語句として、適切なものを一つ選びマークせよ。(解答番号6)

多民族国家においてそれぞれの民族意識が高まった結果、紛争が生じる場合がある。ボスニア・ヘルツェゴビナにおける , ムスリム人(ボシュニャク人)の対立がその例である。

- A アルバニア人, クロアチア人 B アルバニア人, セルビア人
C アルバニア人, マケドニア人 D クロアチア人, セルビア人
E クロアチア人, マケドニア人 F セルビア人, マケドニア人

問 7 以下の紛争が生じた時期を古い順にならべたものとして、適切なものを一つ選びマークせよ。(解答番号7)

- A カシミール紛争 → キプロス紛争 → クロアチア紛争
B カシミール紛争 → クロアチア紛争 → キプロス紛争
C キプロス紛争 → カシミール紛争 → クロアチア紛争
D キプロス紛争 → クロアチア紛争 → カシミール紛争
E クロアチア紛争 → カシミール紛争 → キプロス紛争
F クロアチア紛争 → キプロス紛争 → カシミール紛争

問 8 以下の言語についての記述の中から、適切なものを一つ選びマークせよ。(解答番号8)

- A デンマーク語は、インド・ヨーロッパ語族のスラブ語派に属する。
B ドイツ語は、インド・ヨーロッパ語族のラテン語派に属する。
C ヒンディー語は、インド・ヨーロッパ語族のラテン語派に属する。
D フィンランド語は、インド・ヨーロッパ語族のゲルマン語派に属する。
E フランス語は、インド・ヨーロッパ語族のゲルマン語派に属する。
F ポーランド語は、インド・ヨーロッパ語族のスラブ語派に属する。

問 9 以下の文の空欄に当てはまる宗教名として、適切なものを一つ選びマークせよ。(解答番号 9)

世界の言語分布と宗教分布を地図上でみると、アフリカ・アジア語族の分布領域のほとんどが、の分布領域に含まれていることがわかる。

- A イスラム教 B キリスト教 C ヒンドゥー教
D 仏教 E ユダヤ教

問10 以下の文章の空欄①～③に当てはまる数値と語句の組み合わせとして、適切なものを一つ選びマークせよ。(解答番号 10)

イスラム教は ① 世紀に誕生し、 ② と ③ が2大宗派である。現在は ② が多数派、 ③ が少数派である。

- | | ① | ② | ③ |
|---|---|------|------|
| A | 3 | シーア派 | スンナ派 |
| B | 3 | スンナ派 | シーア派 |
| C | 5 | シーア派 | スンナ派 |
| D | 5 | スンナ派 | シーア派 |
| E | 7 | シーア派 | スンナ派 |
| F | 7 | スンナ派 | シーア派 |

問11 以下のパレスチナ問題に関わる記述の中から、適切なものを一つ選びマークせよ。(解答番号 11)

- A 4回の中東戦争ののち、1987年にガザ地区でインティファダが起こった。
- B 7回の中東戦争ののち、1997年にゴラン高原でインティファダが起こった。
- C 17世紀前半からシオニズム運動が活発化し、ヨルダン川西岸にイスラエルが建国された。
- D 19世紀後半からシオニズム運動が活発化し、ヨルダン川東岸にイスラエルが建国された。
- E イギリスが1917年にバルフォア宣言を出し、1938年にイスラエルの建国が宣言された。
- F ドイツが1947年にバルフォア宣言を出し、1948年にイスラエルの建国が宣言された。

問12 ヒンドゥー教徒が^{もくよく}沐浴などのために訪れる川で、巡礼地ヴァラナシを流れる河川の名称を解答欄 101 に記せ。

問13 以下の文の空欄①～③に当てはまる語句の組み合わせとして、適切なものを一つ選びマークせよ。(解答番号 12)

日本の最東端に位置するのは で、最西端に位置するのは ，最南端に位置するのが である。

- | | ① | ② | ③ |
|---|------|------|------|
| A | 沖ノ鳥島 | 南鳥島 | 与那国島 |
| B | 沖ノ鳥島 | 与那国島 | 南鳥島 |
| C | 南鳥島 | 沖ノ鳥島 | 与那国島 |
| D | 南鳥島 | 与那国島 | 沖ノ鳥島 |
| E | 与那国島 | 沖ノ鳥島 | 南鳥島 |
| F | 与那国島 | 南鳥島 | 沖ノ鳥島 |

問14 北緯 10 度，東経 115 度付近の南沙群島とその近海の領有を主張する国・地域として，中国，マレーシア，ブルネイ，台湾がある。これら以外で領有権を主張する 2 か国の国名を解答欄 102 に記せ(2 か国の順番は，いずれでもよい)。

問15 以下の文の空欄に当てはまる適切な語句を解答欄 103 に記せ。

条約は 1959 年に日本を含めた 12 か国により採択され，2013 年 2 月現在で 50 か国が締結しており，この条約で定めた地域の非軍事化や領土権主張の凍結，科学的調査の自由などを定めている。

〔Ⅱ〕 次の文章を読み、下記の設問に答えよ。

2015年5月7日、イギリスにおいて総選挙(定数650議席)が行われた。キャメロン首相が率いる与党保守党は選挙前の302議席を上回る331議席を獲得し、過半数を占めるに至った。一方、野党労働党は256議席から232議席に議席を減少させ、党首は辞任した。保守党単独政権になったことで、今後、保守党が公約している、イギリスが欧州連合(EU)から離脱すること(Brexit)の是非を問う国民投票の実施が注目されることになった。また、スコットランドの地域政党であるスコットランド国民党(民族党)は6議席から56議席に大幅に議席数を伸ばし、第3党となった。スコットランド独立を公約に掲げる同党が、2011年5月のスコットランド議会選挙で単独過半数を獲得したことで、2014年9月18日にイギリスからの独立の是非を問う住民投票がスコットランドで実施されたが、反対票が55.3%を占め、独立は否定された。

問1 下線部(ア)に関し、以下の文章の空欄に当てはまる国名を、一つ選びマークせよ。(解答番号13)

イギリスは1973年にEU(当時はEC)に加盟した。同年、、アイルランドも加盟した。は、イギリスと共にEFTAから脱退し、イギリスと同じくユーロを導入していない。

- A ギリシャ B スウェーデン C スペイン
D デンマーク E ポーランド

問 2 以下の①～③の表は、イギリス、フランス、オランダのいずれかの国の貿易額と相手先別シェアを示したものである。①～③の国名の組み合わせとして、適切なものを一つ選びマークせよ。(解答番号 14)

①				②			
輸出(%)		輸入(%)		輸出(%)		輸入(%)	
ドイツ	26.5	ドイツ	13.8	ドイツ	16.7	ドイツ	19.5
ベルギー	13.7	中国	12.0	ベルギー	7.5	ベルギー	11.3
②	8.8	ベルギー	8.4	イタリア	7.5	イタリア	7.6
③	8.0	③	6.7	スペイン	6.9	①	7.4
イタリア	4.5	ロシア	6.4	③	6.9	スペイン	6.6
(EU	77.5)	(EU	45.5)	(EU	60.1)	(EU	68.6)
金額計	639,159	金額計	585,532	金額計	557,021	金額計	660,560

③			
輸出(%)		輸入(%)	
ドイツ	11.3	ドイツ	12.6
アメリカ合衆国	10.5	中国	8.0
①	8.8	①	7.5
②	7.4	アメリカ合衆国	6.7
アイルランド	6.2	②	5.4
(EU	53.4)	(EU	49.3)
金額計	431,150	金額計	655,757

統計年次：2012年。

注：金額の単位は百万米ドル。EUの値は再掲値。

資料：『世界国勢図会 2014/15』より作成。

	①	②	③
A	イギリス	オランダ	フランス
B	イギリス	フランス	オランダ
C	オランダ	イギリス	フランス
D	オランダ	フランス	イギリス
E	フランス	イギリス	オランダ
F	フランス	オランダ	イギリス

問 3 以下の表は、イギリス、オランダ、スペイン、ドイツ、フランスの品目別食料自給率を示したものである。イギリス、オランダ、フランスはA～Eのどれに当てはまるか、適切なものをそれぞれ一つずつ選びマークせよ。(イギリスは解答番号 15, オランダは解答番号 16, フランスは解答番号 17)

単位：%

	穀類	いも類	野菜類	果実類	肉類
A	176	127	78	62	102
B	103	124	41	28	113
C	101	87	40	5	69
D	73	61	175	135	128
E	14	200	290	28	207

統計年次：2011年。

資料：農林水産省『食料需給表』より作成。

問 4 下線部(イ)に関して、スコットランドの西海岸に多くみられる地形を何と呼ぶか、適切なものを以下から一つ選びマークせよ。(解答番号 18)

- A エスチュアリ B 環礁 C 砂州
D フィヨルド E リアス式海岸

問 5 スコットランドに関する以下の記述の中から、適切なものを一つ選びマークせよ。(解答番号 19)

- A スコットランド特産の主要な輸出品は、小麦から造られるビールである。
B スコットランドには、アイルランドと同じケルト語派を話す地域がある。
C スコットランドの首都は、最大の人口をもつグラスゴーである。
D スコットランドの地形は平坦であり、高地や山脈はない。
E スコットランドでは、北海油田が発見されるまで鉱物資源はなかった。

問 6 下線部(ウ)に関して、スコットランド独立の動きには、北海油田の権益も関係している。北海油田に関する以下の記述の中から、適切なものを一つ選びマークせよ。(解答番号 20)

- A 北海油田が集中するところは、ドッガーバンクと呼ばれる海域である。
- B 北海油田開発後、イギリスは石油の純輸出国になり現在に至っている。
- C 北海油田の主要産油国である、イギリス、ノルウェーは OPEC に加盟している。
- D スコットランドの、シェトランド諸島、オークニー諸島にも石油基地がある。
- E スコットランドに位置するミドルズブラは石油基地で、石油化学工業が発達している。

問 7 以下の文章の空欄①、②に当てはまる適切な語句を、解答欄 104、105 にそれぞれ記せ。(①が解答番号 104, ②が解答番号 105)

ヨーロッパの国ではイギリス以外でも、独立を模索する動きや自治権の拡大を求める動きがある。例えば、スペインの地中海に面しフランスと国境を接する ① 地方、ベルギーの ② 語を話す北海に面する地方などである。

〔Ⅲ〕 次の文章を読み、下記の設問に答えよ。

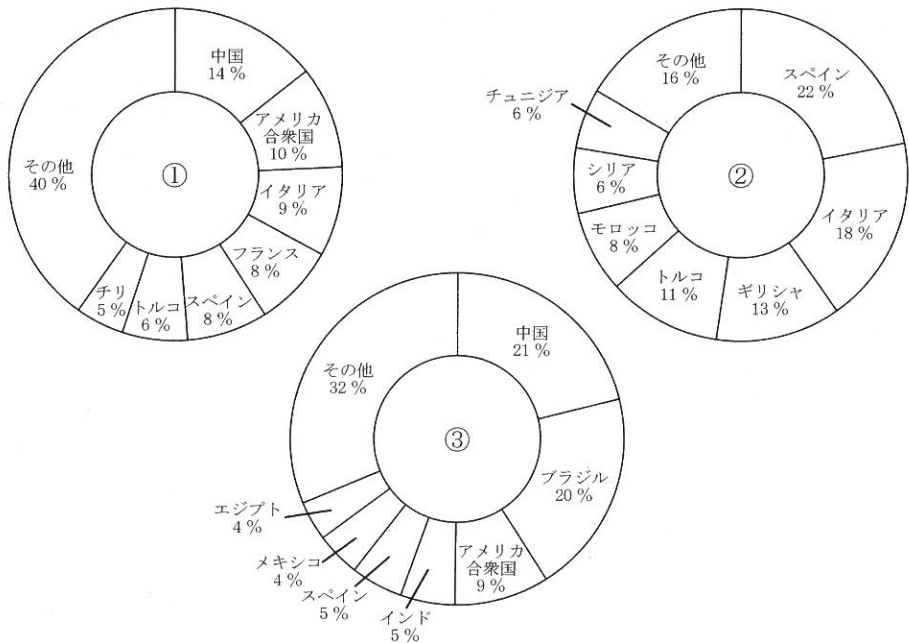
UNHCR(国連難民高等弁務官事務所)によれば、2015年上半期、地中海を渡ってEU加盟国のギリシャ、イタリア、マルタ、スペインに到着した難民・移民の数は約13万7,000人に上り、前年の同期間に比べて84%増加した。その多くは深刻さを増すシリアの出身者である。増え続ける難民・移民に対し、受け入れ国の対応は資金不足や経済の低迷によって困難性を増しており、難民・移民は、経済状況がよいEU北部の国を目指している。そこに至るルートとして、ギリシャから陸路 , を経由して、EU加盟国 に向かうものがある。しかし、 は との国境を閉鎖したため、難民・移民は隣国クロアチアに流入するようになった。

問1 下線部(ア)に関して、地中海沿岸にみられる石灰岩が風化した赤褐色土を何と呼ぶか、適切なものを一つ選びマークせよ。(解答番号21)

- A テラローシャ B テラロッサ C ポドゾル
D レグール E レス

問 2 地中海周辺地域は地中海性気候によって特徴付けられる。夏は乾燥し高温であり、冬は降水量が多い。営まれる農業は地中海式農業と呼ばれ、オリーブ、オレンジ類やブドウの栽培が盛んである。以下の①～③はオリーブ、オレンジ類、ブドウのいずれかの作物の国別生産量の割合を示したものである。①～③の作物の組み合わせとして、適切なものを一つ選びマークせよ。

(解答番号 22)



統計年次：2012年。

資料：『世界国勢図会 2014/2015』より作成。

- | | ① | ② | ③ |
|---|-------|-------|-------|
| A | オリーブ | オレンジ類 | ブドウ |
| B | オリーブ | ブドウ | オレンジ類 |
| C | オレンジ類 | オリーブ | ブドウ |
| D | オレンジ類 | ブドウ | オリーブ |
| E | ブドウ | オリーブ | オレンジ類 |
| F | ブドウ | オレンジ類 | オリーブ |

問 3 以下の文の空欄に当てはまる適切な語句を、解答欄 106 に記せ。

Z国はヨーロッパの国々が結んでいる 協定に加盟しており、協定国間では国境における出入国審査が必要ない。

問 4 文章中の空欄 X , Y , Z に当てはまる国名を、それぞれ一つずつ選びマークせよ。Z国には、ギリシャからX国、Y国の2か国のみを順に経由することによって到達することが可能である。(Xは解答番号 23, Yは解答番号 24, Zは解答番号 25)

- | | | |
|-----------------|----------|-------|
| A アルバニア | B オーストリア | C コソボ |
| D スロバキア | E セルビア | F チェコ |
| G ハンガリー | H ポーランド | |
| I マケドニア旧ユーゴスラビア | | |

〔Ⅳ〕 2015年6月～7月にFIFA(国際サッカー連盟)女子ワールドカップ・カナダ大会が開催された。表1は、その開催都市について整理したものである。表1およびカナダの国土(島嶼の一部を除く)とその周辺を示した図1を参照して、下記の設問に答えなさい。

表1

開催都市	開催都市がある州	州都
ウィニペグ	マニトバ州	ウィニペグ
ヴァンクーヴァー	ブリティッシュコロンビア州	ヴィクトリア
エドモントン	アルバータ州	エドモントン
オタワ	オンタリオ州	トロント
モンクトン	ニューブランズウィック州	フレデリクトン
モントリオール	ケベック州	ケベック

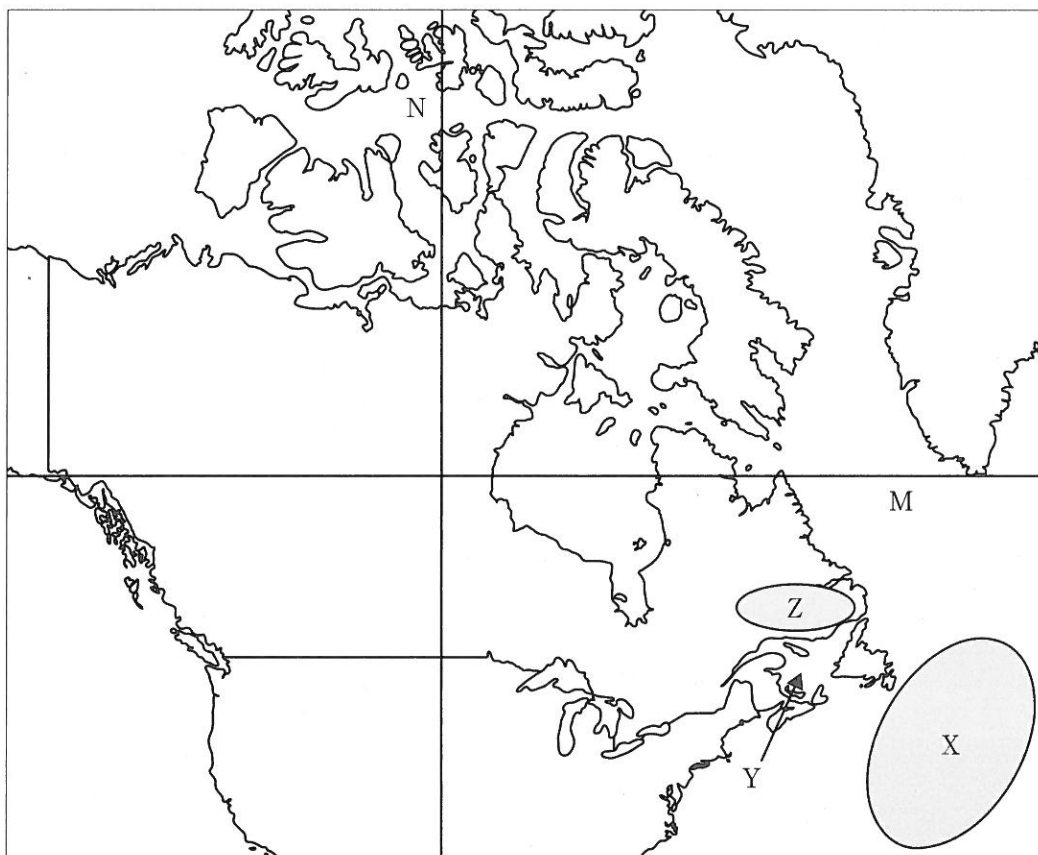
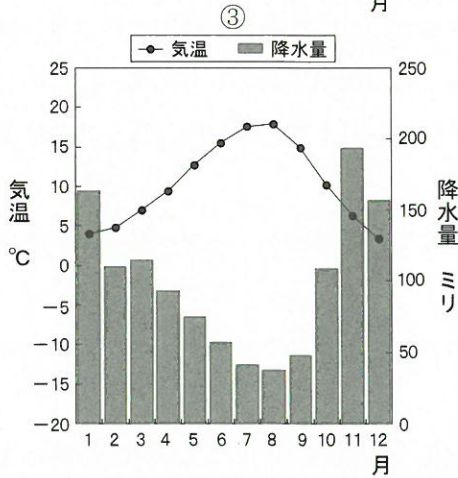
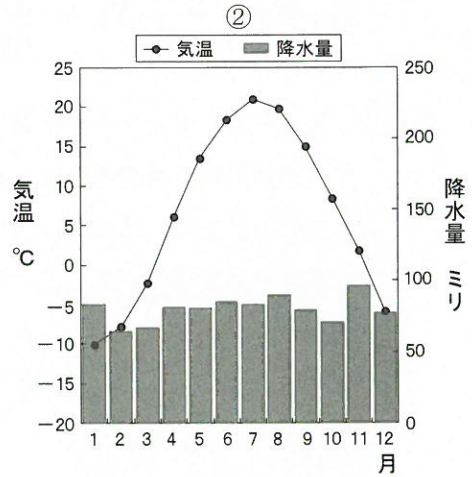
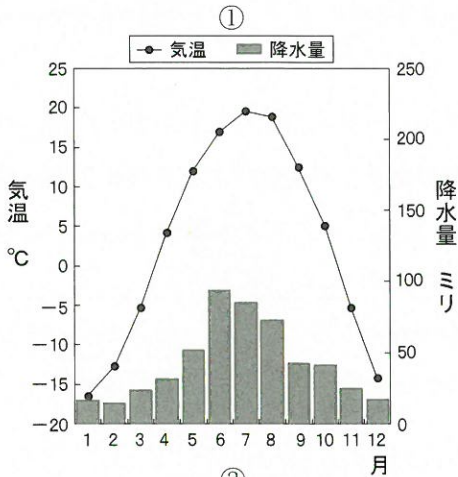


図1

問 1 以下の①～③の雨温図は、表 1 中のウィニペグ、ヴァンクーヴァー、モントリオールいずれかの都市のものである。雨温図と都市名の組み合わせとして、適切なものを一つ選びマークせよ。(解答番号 26)



資料：『理科年表 平成 27 年』より作成。

- | | ① | ② | ③ |
|---|----------|----------|----------|
| A | ウィニペグ | ヴァンクーヴァー | モントリオール |
| B | ウィニペグ | モントリオール | ヴァンクーヴァー |
| C | ヴァンクーヴァー | ウィニペグ | モントリオール |
| D | ヴァンクーヴァー | モントリオール | ウィニペグ |
| E | モントリオール | ウィニペグ | ヴァンクーヴァー |
| F | モントリオール | ヴァンクーヴァー | ウィニペグ |

問 2 表 1 中のワールドカップ開催都市の中で、アメリカ合衆国との国境から最も離れているものを一つ選びマークせよ。(解答番号 27)

- A ウィニペグ B ヴァンクーヴァー C エドモントン
D オタワ E モンクトン F モントリオール

問 3 表 1 中のエドモントンが属するアルバータ州で最も人口が多いのは、ロッキー山脈東側の高原地帯にある都市であり、石油化学工業や食品工業が展開している。また、1988 年には冬季オリンピック大会も開催された。この都市名を一つ選びマークせよ。(解答番号 28)

- A イエローナイフ B カルガリー C サスカトーン
D セントジョンズ E ハリファクス F リジャイナ

問 4 表 1 中のウィニペグは、小麦の集散地として知られ、鉄道でハドソン湾に面したチャーチル港に輸送され、そこから輸出されるものも多い。このことに関する以下の文の中で、適切なものを一つ選びマークせよ。(解答番号 29)

- A ウィニペグは主に冬小麦の集散地で、夏季にチャーチル港から輸出される。
B ウィニペグは主に春小麦の集散地で、夏季にチャーチル港から輸出される。
C ウィニペグは主に夏小麦の集散地で、夏季にチャーチル港から輸出される。
D ウィニペグは主に冬小麦の集散地で、冬季にチャーチル港から輸出される。
E ウィニペグは主に春小麦の集散地で、冬季にチャーチル港から輸出される。
F ウィニペグは主に夏小麦の集散地で、冬季にチャーチル港から輸出される。

問 5 以下の表 2 は、世界の小麦生産量上位 8 か国の生産量と小麦の自給率を示したものである。カナダは A～E のどれに当てはまるか、適切なものを一つ選びマークせよ。(解答番号 30)

表 2

国名	生産量(千 t)	自給率(%)
A	117,410	94.7
B	86,874	106.0
ロシア	56,240	137.2
アメリカ合衆国	54,413	170.7
C	35,994	178.8
オーストラリア	27,410	460.1
D	25,261	505.3
E	25,214	105.7

統計年次：2011 年。

資料：『世界の統計 2015』より作成。

問 6 表 1 中のケベック州の公用語として、適切なものを一つ選びマークせよ。

(解答番号 31)

A 英語

B ドイツ語

C フランス語

D 英語とドイツ語

E 英語とフランス語

F ドイツ語とフランス語

問 7 以下の表 3 は、ワールドカップの 3 つの開催都市で行われた試合の開始日時について整理したものである。これら 3 つの都市の位置を東から順に並べたものとして、適切なものを一つ選びマークせよ。(解答番号 32)

表 3

開催都市	試合開始日時		対 戦
	現地時間	日本時間	
モントリオール	6 月 13 日午後 4 時	6 月 14 日午前 5 時	ブラジル—スペイン
エドモントン	6 月 16 日午後 3 時	6 月 17 日午前 6 時	スイス—カメルーン
モンクトン	6 月 17 日午後 8 時	6 月 18 日午前 8 時	コスタリカ—ブラジル

- A エドモントン → モンクトン → モントリオール
 B エドモントン → モントリオール → モンクトン
 C モンクトン → エドモントン → モントリオール
 D モンクトン → モントリオール → エドモントン
 E モントリオール → エドモントン → モンクトン
 F モントリオール → モンクトン → エドモントン

問 8 図 1 中の緯線 M と経線 N の組み合わせとして適切なものを一つ選びマークせよ。(解答番号 33)

- | M | N |
|-----------|----------|
| A 北緯 50 度 | 西経 60 度 |
| B 北緯 50 度 | 西経 80 度 |
| C 北緯 50 度 | 西経 100 度 |
| D 北緯 60 度 | 西経 60 度 |
| E 北緯 60 度 | 西経 80 度 |
| F 北緯 60 度 | 西経 100 度 |

問 9 図 1 中の緯線 M に最も近いヨーロッパの都市と、経線 N に最も近いラテンアメリカの都市の組み合わせとして適切なものを一つ選びマークせよ。(解答番号 34)

	M	N
A	アテネ	サンパウロ
B	アテネ	メキシコシティ
C	アテネ	リマ
D	オスロ	サンパウロ
E	オスロ	メキシコシティ
F	オスロ	リマ
G	パリ	サンパウロ
H	パリ	メキシコシティ
I	パリ	リマ

問10 図 1 中の X 付近の北西大西洋海域は、世界有数の好漁場として知られている。この好漁場の形成に深く関与する暖流を何と呼ぶか、適切な名称を解答番号 107 に記せ。

問11 図 1 中の Y の海域に流れ込む主要河川に沿って、カナダの入植の歴史が始まった。オンタリオ湖を源とする、この主要河川の名称として適切なものを一つ選びマークせよ。(解答番号 35)

A セントローレンス川	B チャーチル川
C ネルソン川	D ハドソン川
E フレーザー川	F マッケンジー川

問12 図 1 中の Z 付近の高原は、安定陸塊であるカナダ楕状地の一部を占める。この高原を何と呼ぶか、適切な名称を解答番号 108 に記せ。

問13 以下の表4は、カナダの貿易相手国(輸出入金額の上位5か国)の一覧である。①に該当する国として、適切なものを一つ選びマークせよ。(解答番号36)

表4

輸出相手国	金額 (百万米ドル)	輸入相手国	金額 (百万米ドル)
アメリカ合衆国	339,021	アメリカ合衆国	234,005
中国	19,373	中国	50,761
イギリス	18,783	①	25,539
日本	10,378	日本	15,042
①	5,396	ドイツ	14,311

統計年次：2012年。

資料：『世界国勢図会 2014/15』より作成。

- A 韓国 B サウジアラビア C フランス
D ブラジル E メキシコ F ロシア

問14 カナダの憲法では、3つの先住民族のグループが認定されている。このうち最も少数でヌナブト準州などの北極海沿岸に住む人々を、何と呼ぶか。その名称として適切なものを一つ選びマークせよ。(解答番号37)

- A アイヌ B アーミッシュ C イヌイット
D サーミ E ブリヤート F メティス