



## 地理歴史・公民(世界史B, 日本史B, 地理B, 政治・経済)問題

はじめに、これを読みなさい。

1. これは、世界史B, 日本史B, 地理B, 政治・経済の4科目の問題を綴じた冊子である。必要な科目を選択して解答しなさい。
2. 問題は全部で83ページある。ただし、ページ番号のない白紙はページ数に含まない。
3. 解答用紙に印刷されている受験番号が正しいかどうか、受験票と照合して確認すること。
4. 監督者の指示にしたがい、解答用紙の氏名欄に氏名を記入すること。
5. 監督者の指示にしたがい、解答用紙にある「解答科目マーク欄」に1つマークし、「解答科目名」記入欄に解答する科目名を記入しなさい。なお、マークしていない場合、または複数の科目にマークした場合は0点となる。
6. 解答は、すべて解答用紙の所定欄にマークするか、または記入すること。所定欄以外のところには何も記入しないこと。解答番号は各科目の最初に示してある。
7. 問題に指定された数より多くマークしないこと。
8. 解答は、必ず鉛筆またはシャープペンシル(いずれもHB・黒)で記入のこと。
9. 訂正する場合は、消しゴムできれいに消し、消しくずを残さないこと。
10. 解答用紙は、絶対に汚したり折り曲げたりしないこと。
11. 解答用紙はすべて回収する。持ち帰らず、必ず提出すること。
12. この問題冊子は必ず持ち帰ること。
13. マーク記入例

良い例	悪い例
	

## 地 理 B

(解答番号 1～35, 101～110)

〔 I 〕 次の文章を読み、下記の設問に答えよ。

1. 2012年、イギリスの女王は即位 60 年を迎えた。60 周年記念祝賀行事のセントラルウィークエンドが6月2日から5日にかけて開催された。3日は、350年ぶりといわれる水上パレードがテムズ川を下り、多数の市民から祝福を受けた。女王はイギリス連邦の元首でもあるため、祝賀イベントは連邦諸国などでも開催された。また、行事の一環として、女王は、連合王国を構成するイングランド・  ・  ・北アイルランドの各地域を訪問した。
2. ギリシャの債務危機は同国の国債価格の下落をもたらし、欧州各国経済に波及した。通貨ユーロは外国為替市場において全面的にユーロ安となり、欧州経済は危機を迎えることになった。ギリシャは、IMF、EU等から経済支援を受けることになったが、緊縮財政を求められ、経済情勢は低迷したままである。そのため、主要産業である観光にも影響が出てきている。また、EU内の経済状況がよりよい国に職を求め出国する人もいる。

問 1 下線部(ア)に関して、正式名称は  ・北アイルランド連合王国である。 に該当する適切な語句を解答番号 101 に記入せよ。

問 2 空欄X、空欄Yに、該当する地域名を以下から一つずつ選び、マークせよ。なお、Xはイングランドの北に位置する。(Xは解答番号1、Yは解答番号2)

- |          |          |           |
|----------|----------|-----------|
| A ノーフォーク | B エディンバラ | C スコットランド |
| D ウェールズ  | E コーンウォル |           |

問 3 下線部(イ)に関して、テムズ川の河口部は、沈水して生じた (2) を形成している。空欄(2)に該当する適切な語句を以下から1つ選び、マークせよ。(解答番号3)

- A フィヨルド                      B トンボロ                      C ラグーン  
D 干 潟                              E エスチュアリー

問 4 下線部(ウ)に関して、イギリスを旧宗主国としない国を以下から一つ選び、マークせよ。(解答番号4)

- A エチオピア                      B ケニア                              C エジプト  
D スーダン                              E ナイジェリア

問 5 下線部(エ)に関して、以下の記述で、不適切なものを一つ選び、マークせよ。(解答番号5)

- A バルカン半島南東端に位置し、東はエーゲ海、西はイオニア海に面している。
- B 多くの島が点在し、最大の島、ロードス島はアドリア海に位置している。
- C ギリシャ系住民が南部に多数いるキプロスの問題で、トルコと対立している。
- D 地中海性気候であり、農業生産ではオリーブの栽培が盛んで、世界有数の生産国である。
- E 海運業が盛んであり、2010年末において、商船舶腹量はEU諸国で最も多い。

問 6 ギリシャは、(3) 旧ユーゴスラビア共和国と国境を接し、この国が旧ユーゴスラビア連邦から分離独立するときに (3) という呼称について反発をした。空欄(3)に該当する適切な名称を解答番号102に記入せよ。

問 7 下線部(オ)に関して、EU の国のうち、財政状態が悪い国は南欧に多い。表 1 はイタリア、ギリシャ、スペインに関する経済指標を示している。①～③ に該当する国名の組み合わせとして適切なものを以下から一つ選び、マークせよ。(解答番号 6)

表 1

	①	②	③
一人当たり GDP (米ドル)	33,877	26,504	30,543
実質経済成長率 (%)	1.3	-3.5	-0.1
農林水産業従事者割合 (%)	3.4	12.5	4.7
輸出額 1 位相手国	ドイツ	ドイツ	フランス

統計年次：農林水産業従事者割合は 2009 年、その他は 2010 年。

『世界の統計 2012』より作成。

	①	②	③
A	ギリシャ	イタリア	スペイン
B	ギリシャ	スペイン	イタリア
C	イタリア	スペイン	ギリシャ
D	イタリア	ギリシャ	スペイン
E	スペイン	イタリア	ギリシャ
F	スペイン	ギリシャ	イタリア

問 8 下線部(カ)に関して、ユーロ相場は貿易に影響する。表2は、日本のイギリス、イタリア、フランスからの輸入品について、品目別輸入額割合を示した。①～③に該当する国名の組み合わせとして適切なものを以下から一つ選び、マークせよ。(解答番号7)

表2

①		②		③	
品目	割合(%)	品目	割合(%)	品目	割合(%)
機械類	24.7	機械類	14.9	医薬品	19.5
医薬品	18.6	医薬品	14.7	機械類	12.9
自動車	7.0	有機化合物	12.2	バッグ類	10.5
放射性元素	4.4	ぶどう酒	6.3	衣類	10.4
有機化合物	4.3	バッグ類	4.2	有機化合物	5.8
科学光学機器	3.2	航空機類	2.5	はきもの	3.8
無機化合物	3.0	放射性元素	2.3	自動車	3.8
ウイスキー	2.8	自動車	2.2	ぶどう酒	2.0
プラスチック	1.8	科学光学機器	1.6	科学光学機器	2.0
合計額	578,622	合計額	943,602	合計額	691,420

単位：百万円

統計年次：2011年。

『日本国勢図会 2012/13』より作成。

	①	②	③
A	イタリア	フランス	イギリス
B	イタリア	イギリス	フランス
C	フランス	イタリア	イギリス
D	フランス	イギリス	イタリア
E	イギリス	イタリア	フランス
F	イギリス	フランス	イタリア

問 9 下線部(キ)に関して、表 3 は、イギリス、イタリア、ギリシャ、デンマークの旅行収支を示している。ギリシャに該当するものを一つ選び、マークせよ。(解答番号 8)

表 3

単位：100 万米ドル

国	旅行収入	旅行支出
A	45,345	84,218
B	6,686	9,678
C	17,586	3,946
D	48,793	37,728

統計年次：2008 年。

『世界の統計 2012』より作成。

問10 下線部(ク)に関して、表4に、イギリス、ドイツ、フランスの外国人労働力人口の内訳を示した。①～③に該当する国名の組み合わせとして適切なものを以下から一つ選びマークせよ。(解答番号9)

表4

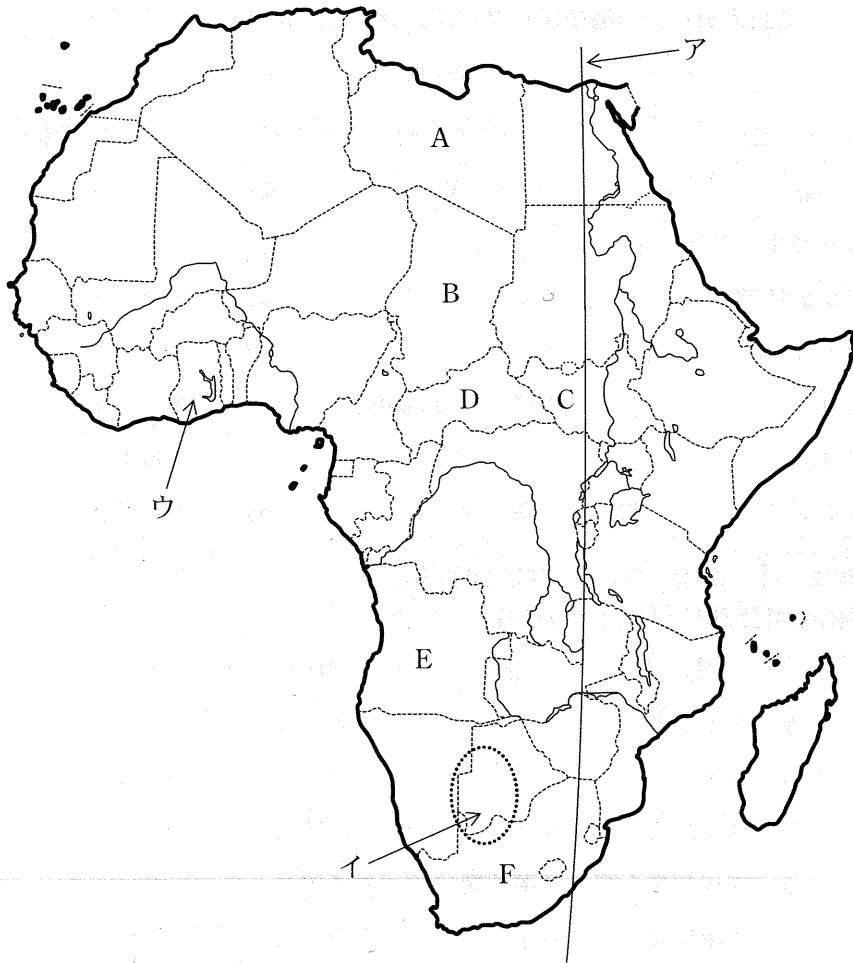
①		②		③	
国	(千人)	国	(千人)	国	(千人)
ポルトガル	299	ポーランド	371	トルコ	852
アルジェリア	169	アイルランド	163	イタリア	395
モロッコ	168	インド	152	ポーランド	207
トルコ	69	南アフリカ共和国	85	ギリシャ	200
イタリア	67	①	79	クロアチア	179
チュニジア	62	パキスタン	66	セルビア	155

統計年次：①、②は2009年、③は2008年。

『世界国勢図会 2011/2012』より作成。

	①	②	③
A	ドイツ	フランス	イギリス
B	ドイツ	イギリス	フランス
C	フランス	ドイツ	イギリス
D	フランス	イギリス	ドイツ
E	イギリス	ドイツ	フランス
F	イギリス	フランス	ドイツ

〔Ⅱ〕 次の地図を参照して下記の設問に答えよ。



問 1 地図中アの経線は東経何度か、適切なものを以下から一つ選び、マークせよ。(解答番号 10)

A 0°      B 10°      C 20°      D 30°      E 40°

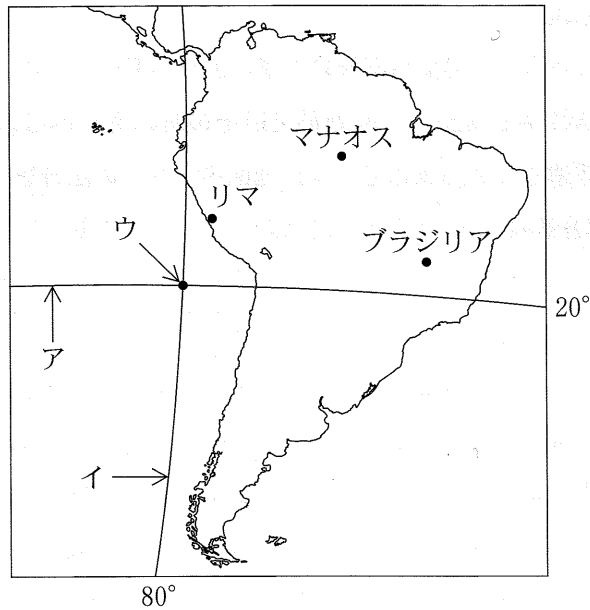
問 2 地図中イに位置する砂漠は南回帰線上の回帰線砂漠である。名称を解答番号 103 に記入せよ。



問 3 地図中ウの国ではカカオの生産が盛んである。熱帯・亜熱帯に見られる大規模な商業的農園農業を何というか、適切な語句をカタカナで解答番号 104 に記入せよ。

問 4 2012 年 7 月に独立 1 周年を迎え、その時期も日本は国連の要請により自衛隊を派遣している国はどこか、地図中 A ~ F の記号を一つ選び、マークせよ。(解答番号 11)

〔Ⅲ〕 南北アメリカに関する、下記の設問に答えよ。



問 1 上の地図中の緯線アが通る国名として不適切なものを以下から一つ選び、マークせよ。(解答番号 12)

- A チリ                      B パラグアイ                      C ブラジル  
D ベネズエラ・ボリバル                      E ボリビア

問 2 地図中の経線イからの距離が最も短い都市の名前として適切なものを以下から一つ選び、マークせよ。(解答番号 13)

- A シアトル                      B ボストン                      C マイアミ  
D メキシコシティ                      E ロサンゼルス

問 3 地図中の点ウの対蹠点<sup>たいせき</sup>(地球の中心をはさんだ正反対の地点)を含む国の名前として適切なものを以下から一つ選び、マークせよ。(解答番号 14)

- A インドネシア                      B キューバ                      C スーダン  
D タイ                      E ドミニカ共和国

問 4 南アメリカ大陸の太平洋岸を南北に流れる寒流の名前を何というか，解答番号 105 に記入せよ。

問 5 問 4 の寒流と中緯度高圧帯の影響によって形成された，アンデス山脈西側の砂漠の名前を何というか，解答番号 106 に記入せよ。

問 6 ラプラタ川流域に広がる肥沃な温帯草原の名前を何というか，解答番号 107 に記入せよ。

問 7 次の図1の①～③は、地図中のブラジリア、マナオス、リマのいずれかにおける、月平均気温と月降水量を示したものである。①～③に該当する都市名の組み合わせとして適切なものを以下から一つ選び、マークせよ。(解答番号 15)

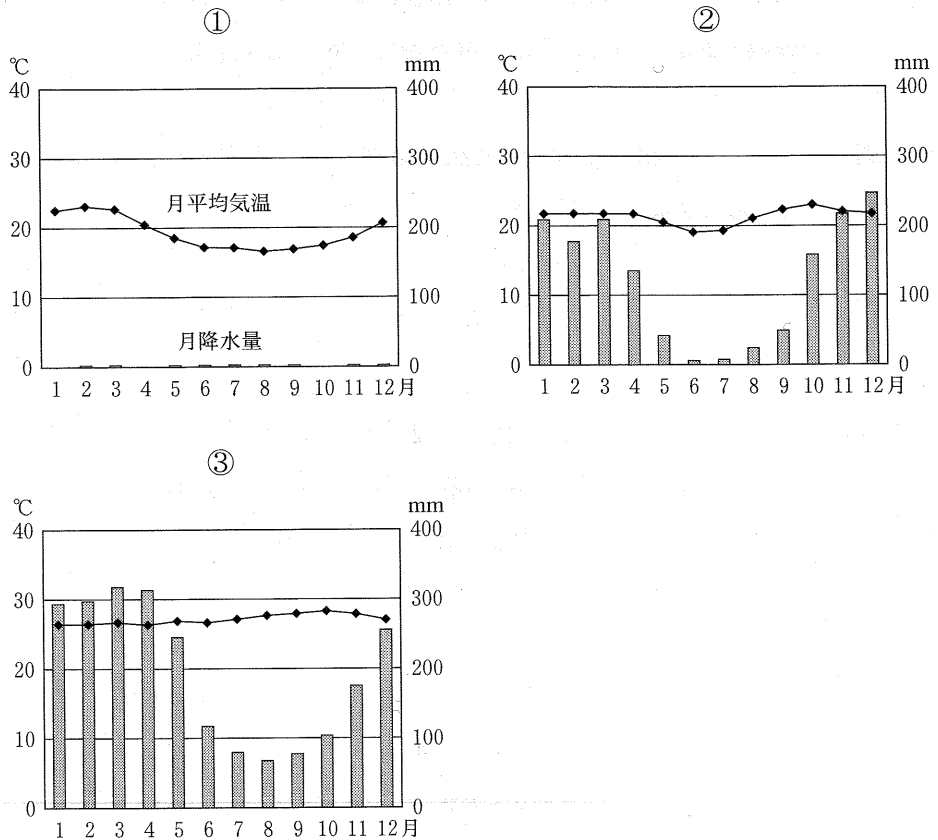


図 1

統計年次：1981—2010年の平均。ただし、①の雨量および②の気温は1982—2010年の平均。

『理科年表』より作成。

- |   | ①     | ②     | ③     |
|---|-------|-------|-------|
| A | ブラジリア | マナオス  | リマ    |
| B | ブラジリア | リマ    | マナオス  |
| C | マナオス  | ブラジリア | リマ    |
| D | マナオス  | リマ    | ブラジリア |
| E | リマ    | ブラジリア | マナオス  |
| F | リマ    | マナオス  | ブラジリア |

問 8 次の表1は、アルゼンチン、ブラジル、ペルーの人種別人口構成を示したものである。①～③に該当する国名の組み合わせとして適切なものを以下から一つ選び、マークせよ。(解答番号 16)

表 1

単位：％

	①	②	③
ヨーロッパ系	54	15	97
混 血	39	37	} 3
先住民	0	45	
アフリカ系	6	} 3	
その他	1		

『世界年鑑 2012』より作成。

- |   | ①      | ②      | ③      |
|---|--------|--------|--------|
| A | アルゼンチン | ブラジル   | ペルー    |
| B | アルゼンチン | ペルー    | ブラジル   |
| C | ブラジル   | アルゼンチン | ペルー    |
| D | ブラジル   | ペルー    | アルゼンチン |
| E | ペルー    | アルゼンチン | ブラジル   |
| F | ペルー    | ブラジル   | アルゼンチン |

問 9 次の表2は、砂糖、大豆、トウモロコシについて、世界の輸出量と輸入量  
 の上位3カ国とその割合(%)を示したものである。この表を参照して、下記  
 の設問に答えよ。

表2

単位：%

	①		②		③	
	輸 出	輸 入	輸 出	輸 入	輸 出	輸 入
1位	X (53.0)	日 本 (15.9)	X (43.0)	中 国 (50.2)	Z (41.6)	X (5.7)
2位	Y (15.1)	メキシコ (8.8)	Z (31.0)	オランダ (5.1)	タ イ (10.8)	ロシア (5.3)
3位	Z (6.3)	韓 国 (8.7)	Y (14.8)	日 本 (4.7)	インド (7.3)	韓 国 (3.5)

注) 中国は台湾を含む。

統計年次：2008年。『世界国勢図会 2011/12』より作成。

- (1) 表中の①～③に該当する農産物の組み合わせとして適切なものを以下から  
 一つ選び、マークせよ。(解答番号 17)

	①	②	③
A	砂 糖	大 豆	トウモロコシ
B	砂 糖	トウモロコシ	大 豆
C	大 豆	砂 糖	トウモロコシ
D	大 豆	トウモロコシ	砂 糖
E	トウモロコシ	砂 糖	大 豆
F	トウモロコシ	大 豆	砂 糖

- (2) 表中のX～Zに該当する国名の組み合わせとして適切なものを以下から  
 一つ選び、マークせよ。(解答番号 18)

	X	Y	Z
A	アメリカ合衆国	アルゼンチン	ブラジル
B	アメリカ合衆国	ブラジル	アルゼンチン
C	アルゼンチン	アメリカ合衆国	ブラジル
D	アルゼンチン	ブラジル	アメリカ合衆国
E	ブラジル	アメリカ合衆国	アルゼンチン
F	ブラジル	アルゼンチン	アメリカ合衆国

問10 次の表3は、アルゼンチン、ブラジル、ベネズエラ・ボリバルの輸出総額、および輸出額上位5品目とその割合(%)を示したものである。①～③に該当する国名の組み合わせとして適切なものを以下から一つ選び、マークせよ。(解答番号19)

表3

単位：百万米ドル，%

	①	②	③
総額	152,995	56,583	55,669
1位	機械類 (9.0)	原油 (63.3)	植物性油かす(14.7)
2位	鉄鉱石 (8.7)	石油製品 (32.4)	自動車 (9.6)
3位	肉類 (7.5)	鉄鋼 (1.6)	大豆油 (5.9)
4位	大豆 (7.5)	アルミニウム (0.8)	原油 (4.4)
5位	原油 (6.1)	鉄鉱石 (0.3)	野菜・果実 (4.3)

統計年次：2009年。『世界国勢図会 2011/12』より作成。

- |   | ①          | ②          | ③          |
|---|------------|------------|------------|
| A | アルゼンチン     | ブラジル       | ベネズエラ・ボリバル |
| B | アルゼンチン     | ベネズエラ・ボリバル | ブラジル       |
| C | ブラジル       | アルゼンチン     | ベネズエラ・ボリバル |
| D | ブラジル       | ベネズエラ・ボリバル | アルゼンチン     |
| E | ベネズエラ・ボリバル | アルゼンチン     | ブラジル       |
| F | ベネズエラ・ボリバル | ブラジル       | アルゼンチン     |

問11 アメリカ合衆国、カナダ、メキシコの3カ国は、ある協定を結んでおり、相互の貿易上の関係が深い。この協定の略称として適切なものを以下から一つ選び、マークせよ。(解答番号20)

- A AFTA    B APEC    C CAFTA    D FTAA    E NAFTA

問12 次の表4は、アメリカ合衆国、カナダ、メキシコの輸出および輸入相手先上位5カ国とその割合(%)を示したものである。①～③に該当する国名の組み合わせとして適切なものを以下から一つ選び、マークせよ。(解答番号21)

表4

単位：%

	①		②		③	
	輸出	輸入	輸出	輸入	輸出	輸入
1位	② (80.6)	② (48.0)	③ (19.4)	中国 (19.3)	② (75.1)	② (51.1)
2位	③ (3.6)	中国 (13.9)	① (12.2)	③ (14.2)	イギリス (3.4)	中国 (10.9)
3位	ドイツ (1.4)	日本 (4.9)	中国 (6.6)	① (11.1)	中国 (3.3)	① (4.6)
4位	スペイン (1.1)	韓国 (4.7)	日本 (4.8)	日本 (6.1)	日本 (2.4)	日本 (3.4)
5位	コロンビア(1.1)	ドイツ (4.2)	イギリス(4.3)	ドイツ (4.5)	① (1.2)	ドイツ (2.9)

統計年次：2009年。『世界国勢図会 2011/12』より作成。

- |   | ①       | ②       | ③       |
|---|---------|---------|---------|
| A | アメリカ合衆国 | カナダ     | メキシコ    |
| B | アメリカ合衆国 | メキシコ    | カナダ     |
| C | カナダ     | アメリカ合衆国 | メキシコ    |
| D | カナダ     | メキシコ    | アメリカ合衆国 |
| E | メキシコ    | アメリカ合衆国 | カナダ     |
| F | メキシコ    | カナダ     | アメリカ合衆国 |



問13 ラテンアメリカの農業に関する記述として適切なものを以下から一つ選び、マークせよ。(解答番号 22)

- A イモ類のうち、ジャガイモ、サツマイモ、サトイモ、キャッサバは、すべてラテンアメリカが原産地である。
- B ラテンアメリカを原産地とする唐辛子は、大航海時代以降ヨーロッパを経て、アジアに伝えられた。
- C ブラジル高原に広く分布するレグールと呼ばれる土壌は、肥沃で綿花や小麦の栽培に適している。
- D ブラジルでは、近年アマゾン川流域に広がる熱帯雨林であるセラードの開発により、トウモロコシや大豆の栽培が増えている。
- E 南アメリカ大陸南端のパタゴニア地方には、リャノと呼ばれる草原が広がっており、牧畜業が盛んである。

問14 アングロアメリカの農業に関する記述として不適切なものを以下から一つ選び、マークせよ。(解答番号 23)

- A ミシシッピ川以西からロッキー山脈東麓に広がるプレーリーは、世界有数の穀倉地帯であり、小麦、トウモロコシ、大豆などの栽培が盛んである。
- B ミシシッピ州やジョージア州を中心に広がるコットンベルトでは、近年綿花の栽培のほかに、大豆、トウモロコシの栽培や牧畜業も発達している。
- C カリフォルニア州のセントラルヴァレーでは、灌漑を利用した柑橘類やブドウなどの果樹、野菜、米などの栽培が盛んである。
- D テキサス州などメキシコ湾岸地域では、近年牛の放牧が盛んであり、アメリカ合衆国を代表する酪農地帯となっている。
- E カナダ南部からアメリカ合衆国北部にかけての平原地帯では、春小麦の栽培が盛んであり、良質の硬質小麦が生産される。

〔IV〕 次の文章を読み、下記の設問に答えよ。

人類は古くから、身の周りにある小規模なエネルギー資源を活用してきたが、現代日本における我々の暮らしは、海外からの大量のエネルギー資源によって支えられている。エネルギーは、<sup>(ア)</sup> 、原油、天然ガス、石炭などの一次エネルギーと、一次エネルギーからつくられる  のような二次エネルギーに分けられる。そして、制御のしやすさから、特に家庭では、もっぱら  エネルギーが使用されている。

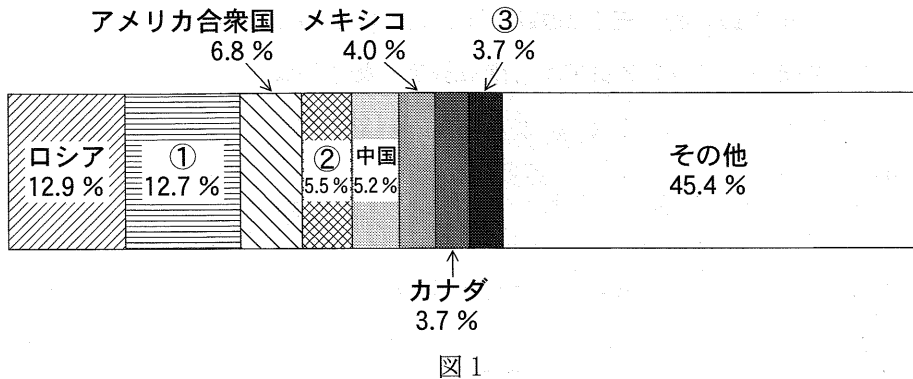
しかし、2011年3月の東日本大震災と、東京電力福島第一原子力発電所の事故をきっかけに、日本国内においても、今後のエネルギー政策に関する議論が盛んになってきている。その際、注目されているのが、再生可能なエネルギーである。<sup>(イ)</sup>

また、エネルギー資源の将来とともに、我々の大きな関心事であるのが、鉱産資源の問題である。鉱産資源は、金属資源と非金属資源に分けられるが、金属資源には、鉄鉱石や銅鉱石などがあり、非金属資源としては、石灰石、硫黄などが挙げられる。<sup>(ウ)</sup> クロム、コバルト、タングステン、ニッケル、マンガンなどの希少金属<sup>(キ)</sup> (レアメタル)は、エレクトロニクスなどの先端産業に欠かせないが、埋蔵量が少なく、その確保が課題とされている。

問 1 下線部(ア)に関して、日本の2008年現在のエネルギー自給率(原子力を除く)として、最も近いものを以下から一つ選び、マークせよ。(解答番号 24)

- A 4%      B 14%      C 24%      D 34%      E 44%

問 2 下線部(イ)に関して、以下の図1は、原油の世界各国の生産量割合を示したものである。①に該当する国の名称を、解答番号 108 に記入せよ。



統計年次：2008年。

2009 Energy Statistics Yearbook より作成。

問 3 下線部(イ)に関して、石油輸出国機構(OPEC)の加盟国を、以下から一つ選びマークせよ。(解答番号 25)

- |              |        |
|--------------|--------|
| A イギリス       | B エジプト |
| C ベネズエラ・ボリバル | D メキシコ |
| E ロシア        |        |

問 4 下線部(ウ)に関して、以下の表1は、天然ガスと石炭の世界各国の生産量割合を示したものである。①～③に該当する国名の組み合わせとして、適切なものを以下から一つ選び、マークせよ。(解答番号 26)

表1

天然ガス		石 炭	
国 名	割 合 (%)	国 名	割 合 (%)
①	20.6	③	52.5
②	18.4	②	9.7
カナダ	5.5	インド	9.2
イラン	3.8	オーストラリア	5.4
ノルウェー	3.4	南アフリカ共和国	4.7
アルジェリア	2.8	インドネシア	4.5
カタール	2.7	①	4.2
③	2.5	カザフスタン	2.1
その他	40.4	その他	7.8
計	100.0	計	100.0

統計年次：2008年。

2009 Energy Statistics Yearbook より作成。

- | ①         | ②       | ③       |
|-----------|---------|---------|
| A アメリカ合衆国 | 中 国     | ロシア     |
| B アメリカ合衆国 | ロシア     | 中 国     |
| C 中 国     | アメリカ合衆国 | ロシア     |
| D 中 国     | ロシア     | アメリカ合衆国 |
| E ロシア     | アメリカ合衆国 | 中 国     |
| F ロシア     | 中 国     | アメリカ合衆国 |

問 5 空欄 (1) , (2) , (3) に入る言葉の組み合わせとして、適切なものを以下から一つ選び、マークせよ。(解答番号 27)

(1) (2) (3)

- A 水 力 電 力 一 次
- B 電 力 水 力 一 次
- C 水 力 電 力 二 次
- D 電 力 水 力 二 次
- E 水 力 電 力 三 次
- F 電 力 水 力 三 次

問 6 下線部(エ)に関して、以下の図 2 は、ある発電方式による発電量に占める世界各国の割合を示したものである。この発電方式として適切なものを、以下から一つ選びマークせよ。(解答番号 28)




図 2

統計年次：2008 年。『世界国勢図会 2011/12』より作成。

- A 太陽光
- B 水 力
- C 地 熱
- D 潮 力
- E 風 力

問 7 下線部(カ)に関して、以下の表 2 は、鉄鉱石と粗鋼の世界各国の生産量割合を示したものである。①～③に該当する国名の組み合わせとして、適切なものを以下から一つ選び、マークせよ。(解答番号 29)

表 2

鉄 鉱 石		粗 鋼	
国 名	割 合 (%)	国 名	割 合 (%)
①	25.2	①	47.3
オーストラリア	20.5	日 本	7.2
ブ ラ ジ ル	17.9	②	5.2
②	14.1	③	5.0
③	4.8	アメリカ合衆国	4.8
そ の 他	17.5	そ の 他	30.5
計	100.0	計	100.0

統計年次：2009 年。

資料：『世界国勢図会 2011/12』より作成。

	①	②	③
A	インド	中国	ロシア
B	インド	ロシア	中国
C	中国	インド	ロシア
D	中国	ロシア	インド
E	ロシア	インド	中国
F	ロシア	中国	インド

問 8 下線部(カ)に関して、世界の主要な銅鉱生産国と、その国にある銅鉱山(銅鉱産地)の組み合わせとして、適切なものを以下から一つ選び、マークせよ。(解答番号 30)

- A ザンビア—ビンガム
- B ザンビア—チュキカマタ
- C チ リー—ビンガム
- D チ リー—チュキカマタ
- E ペルー—ビンガム
- F ペルー—チュキカマタ

問 9 下線部(キ)に関して、日本では法律によって7種のレアメタルの備蓄が定められている。下線部の5種以外に備蓄が定められている2種のレアメタルの組み合わせとして、適切なものを以下から一つ選び、マークせよ。(解答番号 31)

- A 金, バナジウム
- B 金, プラチナ
- C 金, モリブデン
- D バナジウム, プラチナ
- E バナジウム, モリブデン
- F プラチナ, モリブデン







問 1 地形図の「ア」の港に面して、2つの学校がある。この2つの学校の直線距離として、最も近いものを以下から一つ選び、マークせよ。(解答番号 32)

- A 100 m    B 500 m    C 1,000 m    D 2,500 m    E 5,000 m

問 2 地形図にある「須口池」の面積として、最も近いものを以下から一つ選び、マークせよ。(解答番号 33)

- A 1万 m<sup>2</sup>    B 5万 m<sup>2</sup>    C 10万 m<sup>2</sup>    D 25万 m<sup>2</sup>    E 50万 m<sup>2</sup>

問 3 「須口池」は、沿岸流などで運ばれて堆積した砂によって、湾が外海から隔てられ湖沼化した地形である。このような湖沼を何と称するか。適切な名称を解答番号 109 に記入せよ。

問 4 「須口池」の周囲の  と、「ア」の地点の  の記号が表すものの組み合わせとして、適切なものを以下から一つ選び、マークせよ。(解答番号 34)



- |   |    |     |
|---|----|-----|
| A | 笹地 | 漁港  |
| B | 笹地 | 重要港 |
| C | 笹地 | 地方港 |
| D | 荒地 | 漁港  |
| E | 荒地 | 重要港 |
| F | 荒地 | 地方港 |

問 5 地形図の中の住宅が密集している「菌上」「菌中」「菌下」の付近の地形は、沿岸流などで運ばれた砂が堆積して成長したもので、その結果、北にある島が陸続きとなった。このような島を何と称するか。適切な名称を、解答番号 110 に記入せよ。

問 6 地形図の「イ」の地点の「遠見の段」および「ウ」の地点の「牧の辻段」は、いずれも峠に位置している。それぞれの峠の標高の組み合わせとして、適切なものを以下から一つ選び、マークせよ。(解答番号 35)

- |   | 遠見の段    | 牧の辻段    |
|---|---------|---------|
| A | 約 105 m | 約 130 m |
| B | 約 130 m | 約 105 m |
| C | 約 105 m | 約 155 m |
| D | 約 155 m | 約 105 m |
| E | 約 130 m | 約 155 m |
| F | 約 155 m | 約 130 m |