

地理歴史・公民(世界史B, 日本史B, 地理B, 政治・経済)問題

はじめに、これを読みなさい。

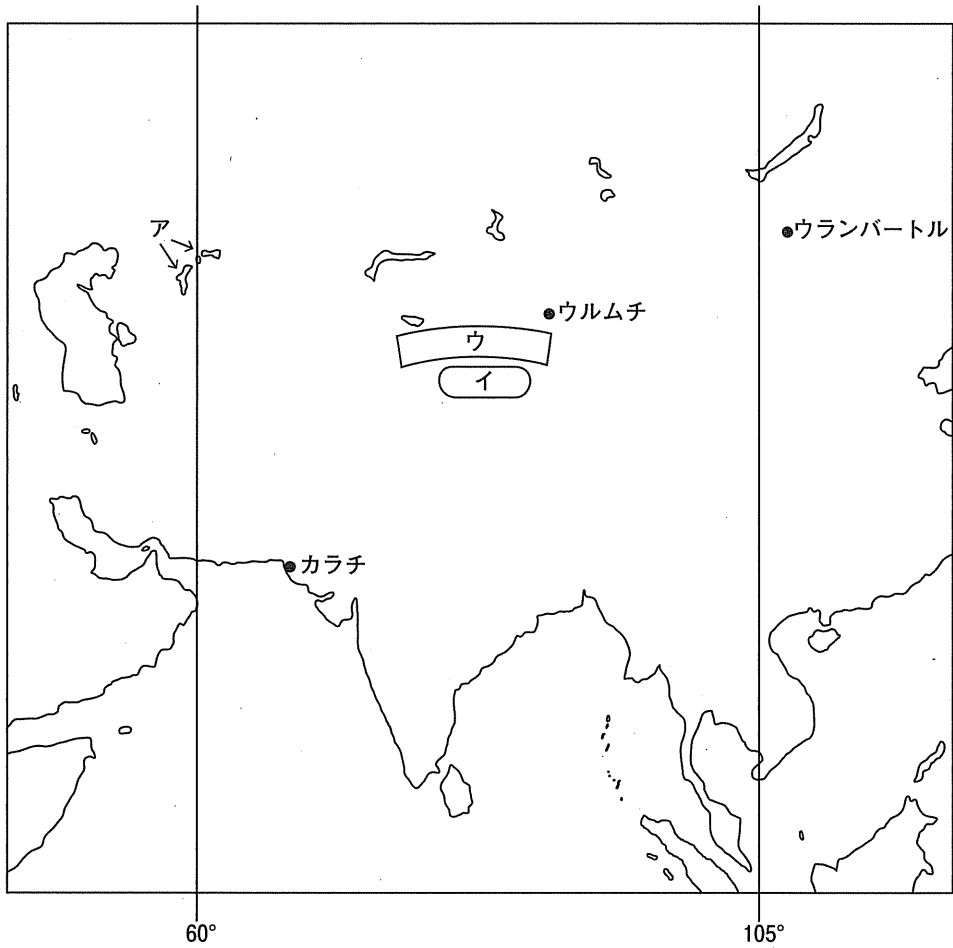
1. これは、世界史B, 日本史B, 地理B, 政治・経済の4科目の問題を綴じた冊子である。必要な科目を選択して解答しなさい。
2. 問題は全部で86ページある。ただし、ページ番号のない白紙はページ数に含まない。
3. 解答用紙に印刷されている受験番号が正しいかどうか、**受験票と照合して確認**すること。
4. 監督者の指示にしたがい、解答用紙の氏名欄に**氏名**を記入すること。
5. 監督者の指示にしたがい、解答用紙にある「**解答科目マーク欄**」に1つマークし、「**解答科目名**」記入欄に解答する**科目名**を記入しなさい。なお、マークしていない場合、または複数の科目にマークした場合は0点となる。
6. 解答は、すべて解答用紙の所定欄にマークするか、または記入すること。所定欄以外のところには何も記入しないこと。解答番号は各科目の最初に示してある。
7. 問題に指定された数より多くマークしないこと。
8. 解答は、必ず鉛筆またはシャープペンシル(いずれもHB・黒)で記入のこと。
9. 訂正する場合は、消しゴムできれいに消し、消しくずを残さないこと。
10. 解答用紙は、絶対に汚したり折り曲げたりしないこと。
11. **解答用紙はすべて回収する**。持ち帰らず、必ず提出すること。
12. この問題冊子は必ず持ち帰ること。
13. マーク記入例

良い例	悪い例
	

地 理 B

(解答番号 1～38, 101～110)

〔I〕 次の地図を参照して、アジアに関する下記の設問に答えよ。



問 1 地図中の東経 60 度線が通る国の名前として、適切でないものを一つ選び、記号をマークせよ。(解答番号 1)

- | | | |
|------------|-----------|----------|
| A イラン | B ウズベキスタン | C カザフスタン |
| D トルクメニスタン | E パキスタン | |

問 2 地図中の湖アは、1960年代までは世界第4位の面積を有していたが、旧ソ連時代の過度な灌漑開発により河川流入量が減り、面積が大幅に縮小してしまった。この湖の名称を何というか、解答番号101に記入せよ。

問 3 地図中の砂漠イの名称を何というか、解答番号102に記入せよ。

問 4 砂漠イの北側に位置する山脈ウの名称を何というか、解答番号103に記入せよ。

問 5 地図中のウルムチは、中国の新疆(シンチヤン)ウイグル自治区に属する。表1は、中国全国と新疆ウイグル自治区の農作物総作付面積に占める主要作物の作付面積の割合を示したものである。①～③は、小麦、米、綿花のいずれかである。①～③の農作物の組み合わせとして、適切なものを一つ選び、記号をマークせよ。(解答番号2)

表1

(単位：%)

	トウモロコシ	①	②	③	その他
全 国	25.5	18.5	14.7	1.9	39.4
新疆ウイグル自治区	17.3	1.3	19.1	37.7	24.6

注：作付面積には果樹や茶などの永年作物は含まない。

統計年次：2017年。

資料：『中国統計年鑑2018』より作成。

	①	②	③
A	小麦	米	綿花
B	小麦	綿花	米
C	米	小麦	綿花
D	米	綿花	小麦
E	綿花	小麦	米
F	綿花	米	小麦

問 6 図1の①～③は、地図中のウランバートル、ウルムチ、カラチのいずれかにおける、月平均気温と月降水量を示したものである。①～③に該当する都市名の組み合わせとして、適切なものを一つ選び、記号をマークせよ。(解答番号3)

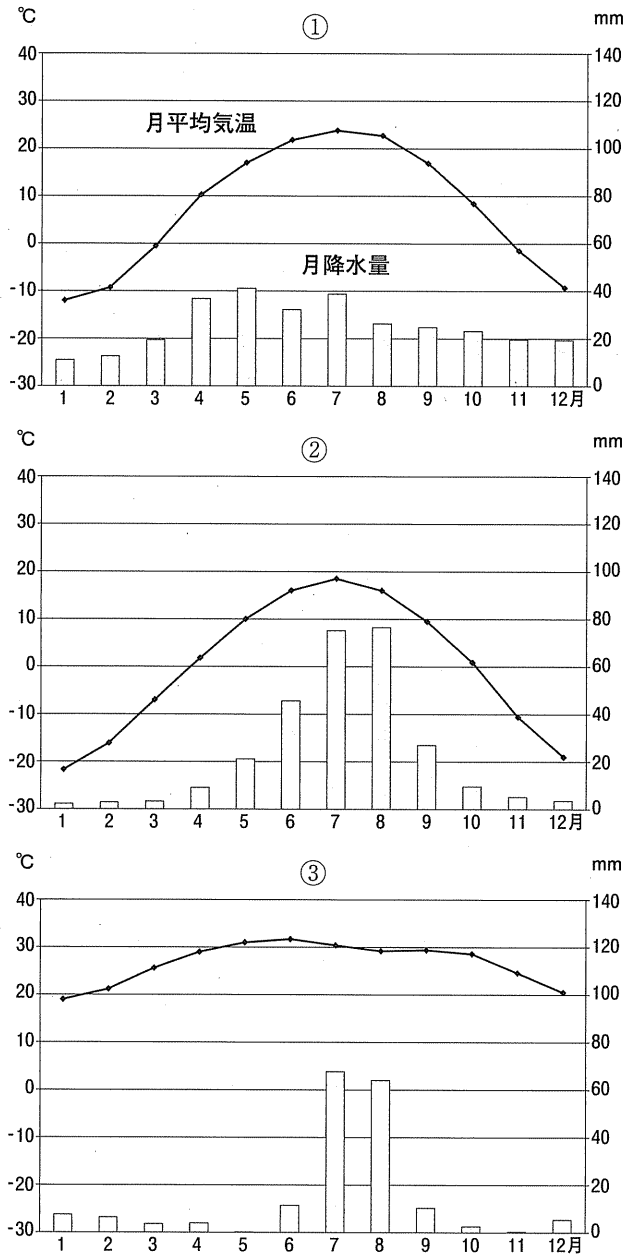


図1

統計年次：①の気温は1981-2010年の平均，降水量は1982-2010年の平均，②は1983-2010年の平均，③は1982-2010年の平均。

資料：『理科年表』より作成。

	①	②	③
A	ウランバートル	ウルムチ	カラチ
B	ウランバートル	カラチ	ウルムチ
C	ウルムチ	ウランバートル	カラチ
D	ウルムチ	カラチ	ウランバートル
E	カラチ	ウランバートル	ウルムチ
F	カラチ	ウルムチ	ウランバートル

問 7 地図中の都市ウランバートルの対蹠点(地球の中心をはさんだ正反対の地点)を含む国の名前として，適切なものを一つ選び，記号をマークせよ。(解答番号 4)

- A オーストラリア B カナダ C チリ
D ニュージーランド E ペルー

問 8 地図の範囲に含まれる3つの河川を，河口が西に位置する順に並べた組み合わせとして，適切なものを一つ選び，記号をマークせよ。(解答番号 5)

	西←		→東
A	インダス川	ガンジス川	メコン川
B	インダス川	メコン川	ガンジス川
C	ガンジス川	インダス川	メコン川
D	ガンジス川	メコン川	インダス川
E	メコン川	インダス川	ガンジス川
F	メコン川	ガンジス川	インダス川

問 9 図2は、シンガポールとマレーシアの人口に占める、各宗教の信仰者の割合を示したものである。A～Dはイスラム教、キリスト教、ヒンドゥー教、仏教のいずれかである。仏教に該当するものをA～Dから一つ選び、記号をマークせよ。(解答番号6)

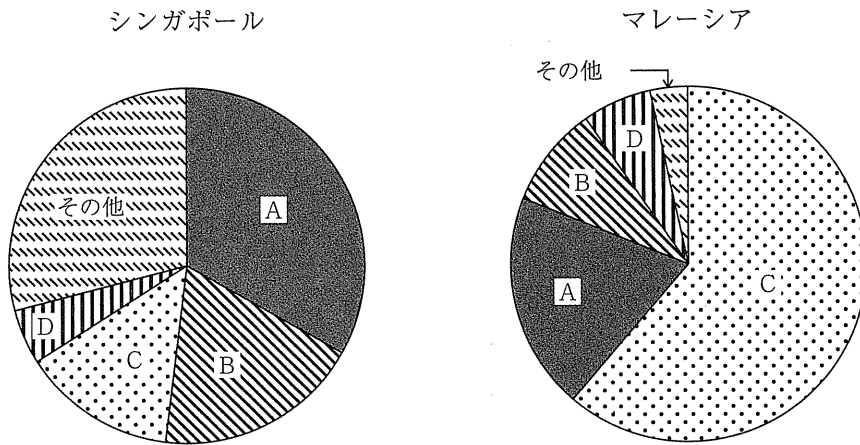


図 2

統計年次：シンガポールは 2015 年推計，マレーシアは 2010 年推計。

資料：The World Factbook より作成。

問10 表2は、インド、中国、ベトナムの年少人口、生産年齢人口、老年人口の構成を示したものである。①～③の国名の組み合わせとして、適切なものを一つ選び、記号をマークせよ。(解答番号7)

表2 (単位：%)

	①	②	③
年少人口	30.9	23.8	16.8
生産年齢人口	63.6	68.2	71.8
老年人口	5.5	8.0	11.4

統計年次：①は2011年，②は2016年，③は2017年。

資料：『世界国勢図会 2019/20』より作成。

- | | ① | ② | ③ |
|---|------|------|------|
| A | インド | 中国 | ベトナム |
| B | インド | ベトナム | 中国 |
| C | 中国 | インド | ベトナム |
| D | 中国 | ベトナム | インド |
| E | ベトナム | インド | 中国 |
| F | ベトナム | 中国 | インド |

問11 地図中の東経105度線が通る国の名前として、適切でないものを一つ選び、記号をマークせよ。(解答番号8)

- | | | | | | |
|---|-------|---|-----|---|------|
| A | カンボジア | B | タイ | C | ベトナム |
| D | ミャンマー | E | ラオス | | |

問12 表3は、カンボジア、ベトナム、ミャンマーの国内総生産(GDP)、1人当たり国内総生産および輸出額を示したものである。①～③の国名の組み合わせとして、適切なものを一つ選び、記号をマークせよ。(解答番号9)

表3

	①	②	③
国内総生産 (百万米ドル)	223,780	67,102	22,121
1人当たり国内総生産 (米ドル)	2,342	1,257	1,382
輸出額 (百万米ドル)	176,635	11,820	9,226

統計年次：国内総生産および1人当たり国内総生産は2017年，輸出額は2016年。

資料：『世界国勢図会 2019/20』より作成。

- | | ① | ② | ③ |
|---|-------|-------|-------|
| A | カンボジア | ベトナム | ミャンマー |
| B | カンボジア | ミャンマー | ベトナム |
| C | ベトナム | カンボジア | ミャンマー |
| D | ベトナム | ミャンマー | カンボジア |
| E | ミャンマー | カンボジア | ベトナム |
| F | ミャンマー | ベトナム | カンボジア |

問13 表4は、インド、タイ、中国の主要農産物の自給率(重量ベース)を示したものである。①～③の国名の組み合わせとして、適切なものを一つ選び、記号をマークせよ。(解答番号10)

表4

(単位：%)

	①	②	③
小麦	108	97	0
米	112	102	177
トウモロコシ	128	103	108
いも類	100	86	440
大豆	107	16	10
肉類	134	99	136

統計年次：2013年。

資料：『世界国勢図会 2019/20』より作成。

- | | ① | ② | ③ |
|---|-----|-----|-----|
| A | インド | 中国 | タイ |
| B | インド | タイ | 中国 |
| C | 中国 | インド | タイ |
| D | 中国 | タイ | インド |
| E | タイ | インド | 中国 |
| F | タイ | 中国 | インド |

〔Ⅱ〕 次の文章を読み、下記の設問に答えよ

2019年6月28日、29日に、主要20カ国・地域首脳会議(G20)が大阪で開かれた。EU(欧州連合)からの出席者は、イギリス、イタリア、ドイツ、フランスの首脳に加えて、欧州理事会常任議長および欧州委員会委員長であった。EUからの離脱(Brexit)交渉を巡る政治的混乱から7月末に辞任したイギリスのメイ首相、2019年中に任期を終えたトゥスク欧州理事会常任議長、ユンケル欧州委員会委員長は最後のG20出席となった。米中の首脳会談に注目が集まるG20であったが、29日午後に「大阪首脳宣言」を採択して閉幕した。宣言の主な内容を抜粋すると、前文では、「人口動態の変化によるものを含め課題に対処できる社会の構築」。^(ア)貿易と投資では、「自由、公正、無差別で透明性があり予測可能な安定した貿易及び投資環境を実現し、開かれた市場を維持し、の機能を改善するため、必要な改革への支持」。農業では、「農業生産性を高め、^(イ)食料の損失・廃棄の削減を含め、流通を効率的に行う必要」。^(ウ)気候変動では、「協定の不可逆性を確認し、同協定の署名国は、完全な実行へのコミットメントを再確認、米国は、協定から脱退するとの決定を再確認」である。(出典：抜粋部分は外務省ウェブサイトによる。)

問1 下線部(ア)に関して、EUは、加盟国の国家主権を共有する連合体であって、加盟国の代表が構成委員となる共通機関を設立している。以下の記述で適切でないものを一つ選び、記号をマークせよ。(解答番号11)

- A 欧州委員会はEU行政の執行機関であり、加盟国から任命された委員によって構成される。
- B 欧州議会はEUの立法機関であり、議員は加盟国の国会議員による投票によって選ばれる。
- C 欧州理事会は加盟国の首脳と欧州委員会委員長によって構成され、EUにおける政治決定の最高機関である。常任議長はEUの大統領とも呼ばれる。
- D 欧州司法裁判所はEU法体系の解釈等を行う裁判所である。判事は加盟国から選出される。

問 2 欧州議会が開催される場所は主に であるが、ブリュッセルでも開催される。空欄 に当てはまる地名として、適切なものを一つ選び、記号をマークせよ。(解答番号 12)

- A ストラスブール B ルクセンブルク C マーストリヒト
D フランクフルト E ハーグ

問 3 下線部(i)に関して、イギリスは4つの地域で構成されている。イギリスのEUからの離脱は単一市場、関税同盟からの離脱を意味するために、EUとの間での物品の自由な移動ができなくなる。このことは、4つの地域のうち陸上に国境がある で、大きな問題となっており、国境問題解決の交渉が難航したこともメイ首相退任の一因となった。空欄 に該当するイギリスの地域名を解答番号 104 に記入せよ。

問 4 表1は、イギリス、オランダ、ドイツの相手国別輸出額および輸入額の上
位5位までとEU 28カ国の割合を示したものである。①～③に該当する国
の組み合わせとして、適切なものを一つ選び、記号をマークせよ。(解答番
号13)

表1

①				②			
輸出	%	輸入	%	輸出	%	輸入	%
アメリカ合衆国	13.3	③	13.7	③	24.2	中国	16.4
③	10.6	アメリカ合衆国	9.4	ベルギー	10.7	③	15.3
フランス	6.9	中国	9.2	①	8.8	ベルギー	8.5
②	6.2	②	8.1	フランス	8.8	アメリカ合衆国	6.9
アイルランド	5.7	フランス	5.4	イタリア	4.2	①	5.1
(EU	47.4)	(EU	51.5)	(EU	74.9)	(EU	46.2)

③			
輸出	%	輸入	%
アメリカ合衆国	8.8	②	13.8
フランス	8.2	中国	7.0
中国	6.8	フランス	6.7
①	6.7	ベルギー	5.9
②	6.6	イタリア	5.4
(EU	58.5)	(EU	66.3)

統計年次：2017年。

資料：『日本国勢図会 2019/20』より作成。

	①	②	③
A	ドイツ	イギリス	オランダ
B	ドイツ	オランダ	イギリス
C	オランダ	イギリス	ドイツ
D	オランダ	ドイツ	イギリス
E	イギリス	ドイツ	オランダ
F	イギリス	オランダ	ドイツ

問 5 下線部(ウ)に関して、表 2 は、スペイン、ドイツ、フランスの国際移住者率、老年人口比率、失業率、合計特殊出生率を示したものである。①～③に該当する国の組み合わせとして、適切なものを一つ選び、記号をマークせよ。(解答番号 14)

表 2

	①	②	③
国際移住者率(%)	14.8	12.2	12.8
老年人口比率(%)	21.2	19.6	19.1
失業率(%)	3.8	9.4	17.2
合計特殊出生率	1.5	2.0	1.3

注：国際移住者率は全人口に占める外国生まれの人口の割合、老年人口比率は全人口に占める 65 歳以上人口の割合。

統計年次：国際移住者率、老年人口比率、失業率は 2017 年、
合計特殊出生率は 2016 年。

資料：『世界国勢図会 2018/19』、『世界国勢図会 2019/20』より作成。

- | | ① | ② | ③ |
|---|------|------|------|
| A | フランス | スペイン | ドイツ |
| B | フランス | ドイツ | スペイン |
| C | スペイン | フランス | ドイツ |
| D | スペイン | ドイツ | フランス |
| E | ドイツ | スペイン | フランス |
| F | ドイツ | フランス | スペイン |

問 6 下線部(ニ)に関して、世界貿易で多くを占めるのは経済力のあるアメリカ合衆国、EU、中国である。表3は、日本とアメリカ合衆国、EU、中国との輸出額および輸入額の品目別割合を上位6位まで示したものである。①～③に該当する国、地域の組み合わせとして、適切なものを一つ選び、記号をマークせよ。(解答番号 15)

表 3

①				②			
①への輸出	%	①からの輸入	%	②への輸出	%	②からの輸入	%
機械類	45.8	機械類	46.3	機械類	36.3	機械類	28.1
自動車部品	5.5	衣類	10.1	自動車	29.2	航空機類	5.3
科学光学機器	5.2	金属製品	3.5	自動車部品	6.0	医薬品	5.1
プラスチック	5.2	家具	2.4	航空機部品	2.4	科学光学機器	5.1
有機化合物	4.9	がん具	2.2	科学光学機器	2.2	液化石油ガス	4.8
自動車	4.0	有機化合物	2.0	金属製品	1.5	肉類	4.7

③			
③への輸出	%	③からの輸入	%
機械類	41.6	機械類	20.8
自動車	15.0	医薬品	16.7
自動車部品	5.8	自動車	12.0
科学光学機器	3.1	有機化合物	5.2
有機化合物	2.8	科学光学機器	4.4
プラスチック	2.0	バッグ類	2.3

統計年次：2018年。

資料：『日本国勢図会 2019/20』より作成。

①	②	③
A アメリカ合衆国	E U	中国
B アメリカ合衆国	中国	E U
C 中国	E U	アメリカ合衆国
D 中国	アメリカ合衆国	E U
E E U	中国	アメリカ合衆国
F E U	アメリカ合衆国	中国

問 7 文中の空欄 は 1995 年に設立された国際機関である。貿易に関するさまざまな国際ルールを定め、その実施と運用を行っている。空欄 に適切な英語略称を解答番号 105 に記入せよ。

問 8 下線部(オ)に関して、EU では共通農業政策(CAP)の改革が進んでいる。表 4 は、イギリス、オランダ、フランスの農林水産業に関する指標を示したものである。①～③に該当する国の組み合わせとして、適切なものを一つ選び、記号をマークせよ。(解答番号 16)

表 4

(単位：%)

	①	②	③
総就業人口に占める農林水産業就業人口の割合	1.2	2.3	2.6
国土面積に占める農地の割合	71.2	43.2	52.3
付加価値総額に占める農林水産業の割合	0.7	2.1	1.7

統計年次：2017 年、国土面積に占める農地の割合は 2016 年。

資料：『世界国勢図会 2019/20』より作成。

- | | ① | ② | ③ |
|---|------|------|------|
| A | イギリス | オランダ | フランス |
| B | イギリス | フランス | オランダ |
| C | オランダ | イギリス | フランス |
| D | オランダ | フランス | イギリス |
| E | フランス | イギリス | オランダ |
| F | フランス | オランダ | イギリス |

問 9 下線部(カ)に関して、2019 年 6 月末、欧州は熱波に見舞われ、記録的な暑さとなった。近年の異常気象の原因の一つとして の蛇行が挙げられる。空欄 に当てはまる語句として、適切なものを一つ選び、記号をマークせよ。(解答番号 17)

- A 北東貿易風 B 南東貿易風 C 偏西風 D 偏東風

問10 地球温暖化の影響によって氷河が縮小していることが話題となっている。

ゆっくりと動く山岳氷河によって作られるくぼ地を何というか、カタカナで
解答番号 106 に記入せよ。

問11 文中の空欄

Y

 にあてはまる適切な都市名を一つ選び、記号をマ
ークせよ。(解答番号 18)

A 京 都

B カンクン

C ボ ン

D パ リ

E コペンハーゲン

〔Ⅲ〕 2019年9～11月に、日本各地においてラグビーワールドカップの試合が行われた。表1は、出場国(地域)を予選プール(総当たり戦を行うグループ)別に整理したものである。また、表2は日本各地の開催地を整理したものである。これらの2つの表を参照して、下記の設問に答えよ。

表1

プールA	プールB	プールC	プールD
W 国	ニュージーランド	イングランド	オーストラリア
スコットランド	南アフリカ共和国	フランス	ウェールズ
日 本	イタリア	アルゼンチン	Z 国
ロシア	X 国	アメリカ合衆国	フィジー
サモア	カナダ	Y 国	ウルグアイ

注：各プールの国順は、公式ウェブサイトの一覧表による。

表2

都道府県名	都市名
東京都	調布市
北海道	札幌市
神奈川県	横浜市
大阪府	東大阪市
愛知県	X 市
埼玉県	熊谷市
岩手県	Y 市
福岡県	福岡市
兵庫県	神戸市
静岡県	袋井市
大分県	大分市
熊本県	熊本市

注：順序は、各地で開催される最初の試合日時の早い順。

問 1 表1のW国は、国土が西半球に位置し、EU(欧州連合)の加盟国であるが、シェンゲン協定には加盟していない。W国として適切なものを一つ選び、記号をマークせよ。(解答番号 19)

- A アイスランド B アイルランド C スイス
D ノルウェー E ポルトガル

問 2 表1のX国は、国土が東半球かつ南半球に位置し、同じプールBに属する南アフリカ共和国の統治時代には、人種隔離政策が行われた。X国として適切なものを一つ選び、記号をマークせよ。(解答番号 20)

- A アンゴラ B エチオピア C ガーナ
D ソマリア E ナミビア

問 3 表1のY国は、南太平洋にある島国で、輸出金額が最も多い農産物はカボチャであり、日本にも輸出している。Y国として適切なものを一つ選び、記号をマークせよ。(解答番号 21)

- A トンガ B ナウル C パラオ
D マダガスカル E モルディブ

問 4 表1のZ国は、旧ソ連に属していた国で、カフカス山脈の南に位置する。かつてはグルジアと呼ばれていたが、近年、日本政府も公式に呼称を変更した。Z国の現在の呼称を、カタカナで解答番号 107 に記入せよ。

問 5 表1の国(地域)をヨーロッパ, 南北アメリカ, アフリカ, オセアニア, アジアの5つに分けた場合, 南北アメリカ, アフリカ, オセアニアに位置する国(地域)の数の組み合わせとして, 適切なものを一つ選び, 記号をマークせよ。(解答番号 22)

	南北アメリカ	アフリカ	オセアニア
A	2	4	5
B	2	5	4
C	4	2	5
D	4	5	2
E	5	2	4
F	5	4	2

問 6 表1の国(地域)のうち, 公用語(事実上の公用語を含む)として英語, スペイン語, イタリア語が用いられている国(地域)の数の組み合わせとして, 適切なものを一つ選び, 記号をマークせよ。(解答番号 23)

	英語	スペイン語	イタリア語
A	5	1	2
B	5	2	1
C	9	1	2
D	9	2	1
E	13	1	2
F	13	2	1

問 7 表1のオーストラリアは, 1970年代前半まで白人中心の人種差別政策を行っていた。このことを何というか, 適切な用語を漢字4文字で解答番号108に記入せよ。

問 8 表1の国のうち、Y国を除いて最も人口が少ないサモアの人口は約19万人(2015年現在)である。一方、最も人口が多い国はアメリカ合衆国である。2015年現在のアメリカ合衆国の人口は、サモアの人口の何倍に相当するか。最も近いものを一つ選び、記号をマークせよ。(解答番号24)

- A 70倍 B 700倍 C 1,700倍
D 2,700倍 E 3,700倍

問 9 ラグビーワールドカップ日本大会の開会式は2019年9月20日の午後6時半から東京都調布市の東京スタジアムで開催された。表1の出場国を、この時の首都の現地時刻が進んでいる順に左から並べた組み合わせとして、適切なものを一つ選び、記号をマークせよ。(解答番号25)

- A アルゼンチン → オーストラリア → フランス
B アルゼンチン → フランス → オーストラリア
C オーストラリア → アルゼンチン → フランス
D オーストラリア → フランス → アルゼンチン
E フランス → アルゼンチン → オーストラリア
F フランス → オーストラリア → アルゼンチン

問10 表1の国のうち、首都の緯度が札幌市の緯度に最も近い国として適切なものを一つ選び、記号をマークせよ。(解答番号26)

- A イタリア B ウルグアイ C サモア
D フランス E ロシア

問11 表2のX市は、かつて^{ころも}挙母市と称していたが、日本有数の自動車会社の企業城下町であり、この会社の名前にちなんで名称を変えた。X市の名称を漢字で解答番号109に記入せよ。

問12 表2のY市は、日本有数の製鉄会社の企業城下町であったことで知られている。Y市として適切なものを一つ選び、記号をマークせよ。(解答番号 27)

- A いわき市 B 大船渡市 C 石巻市
D 釜石市 E 八戸市

問13 表2の都市のうち、最も人口が少ないY市の人口は約3万7千人(2015年現在)である。一方、最も人口が多い都市は横浜市である。2015年現在の横浜市の人口は、Y市の人口の何倍に相当するか。最も近いものを一つ選び、記号をマークせよ。(解答番号 28)

- A 5倍 B 10倍 C 50倍
D 100倍 E 500倍

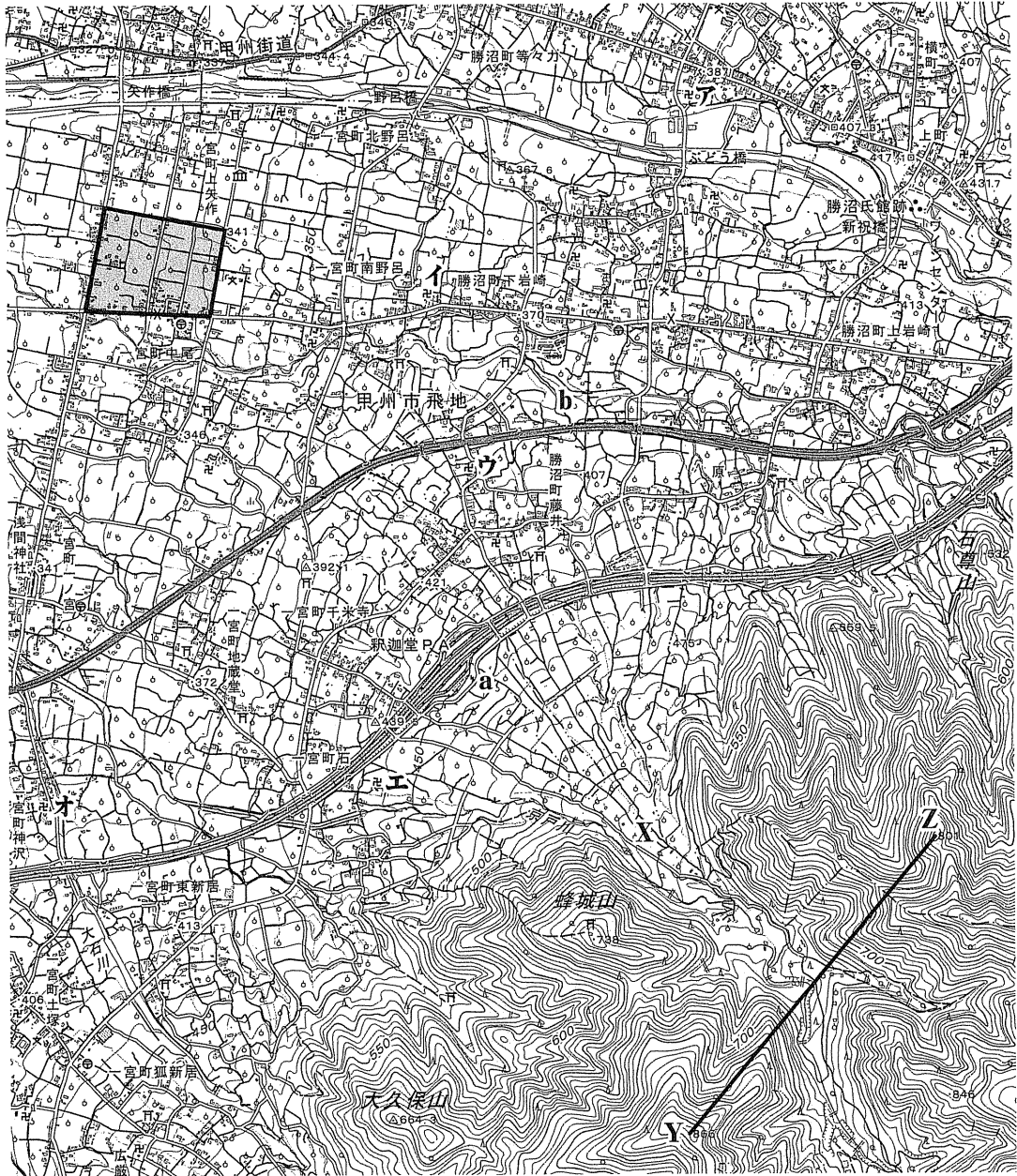
問14 次のA~Eは、表2の開催地(会場のある都市)について述べたものである。適切でないものを一つ選び、記号をマークせよ。(解答番号 29)

- A 四国にある都市は1つもない。
B 3つの都市が九州にある。
C 6つの都市が都道府県庁所在地である。
D 7つの都市が海に面している。
E 新幹線の停車駅があるのは10の都市である。

問15 表2の開催地(会場のある都市)を、緯度の高い順に左から並べた組み合わせとして、適切なものを一つ選び、記号をマークせよ。(解答番号 30)

- A 大分市 → 熊谷市 → 東大阪市
B 大分市 → 東大阪市 → 熊谷市
C 熊谷市 → 大分市 → 東大阪市
D 熊谷市 → 東大阪市 → 大分市
E 東大阪市 → 大分市 → 熊谷市
F 東大阪市 → 熊谷市 → 大分市

〔Ⅳ〕 次の地形図を参照して、下記の設問に答えよ。



資料：国土地理院発行 2万5千分の1地形図「石和」(平成28年1月1日発行)を原寸で表示(一部加工)。

問 1 地形図中の「釈迦堂 PA」(PA は、パーキングエリアのこと)は、ある卓越した地形の上に存在する。その地形を表す適切な用語を、漢字で解答番号 110 に記入せよ。

問 2 地図記号に関する下記の設問に答えよ。

(1) 地形図中の a の場所には、釈迦堂遺跡博物館がある。博物館を表す地図記号として、適切なものを以下の選択肢の中から一つ選び、記号をマークせよ。(解答番号 31)

(2) 地形図中の b の場所には、特別養護老人ホーム・ヒルズ勝沼がある。老人ホームを表す地図記号として、適切なものを以下の選択肢の中から一つ選び、記号をマークせよ。(解答番号 32)

[選択肢]

A 

B 

C 


D 

E 

F 

G 

H 

問 3 地形図の左上部の「一宮町中尾」の近くにある地図記号「」が表すものを、一つ選び、記号をマークせよ。(解答番号 33)

A 荒地

B 笹地

C 竹林

D 茶畑

E ハイマツ地

問 4 地形図中の「大久保山」の頂上付近の三角点と、「蜂城山」の頂上付近の神社の間の実際の水平距離に最も近いものを一つ選び、記号をマークせよ。(解答番号 34)

A 250 m

B 500 m

C 1,000 m

D 1,500 m

E 2,000 m

問 5 地形図の左上部の「一宮町上矢作」付近の色塗りの部分の実際の面積に最も近いものを一つ選び、記号をマークせよ。(解答番号 35)

A 1 ha

B 5 ha

C 15 ha

D 30 ha

E 50 ha

問 6 地形図中のア～オの寺院のうち、標高約 440 m の地点にあるものを一つ選び、記号をマークせよ。(解答番号 36)

A ア B イ C ウ D エ E オ

問 7 地形図から読みとれることとして、適切でないものを一つ選び、記号をマークせよ。(解答番号 37)

- A 地形図中で最も高い地点の標高は 1,000 m 未満である。
- B 地形図中の X の地点から「大久保山」の頂上を見ることはできない。
- C 「蜂城山」の頂上に向かって、ほぼ尾根伝いに徒歩道がある。
- D 「矢作橋」や「野呂橋」などが架かる河川は、東から西に流れている。
- E 地形図の左下部の「大石川」の流域には、水田が広がっている。

問 8 地形図中の Y, Z の 2 つの地点を結んだ地形断面図として最も適切なものを、図 1 の A～E から一つ選び、記号をマークせよ。(解答番号 38)

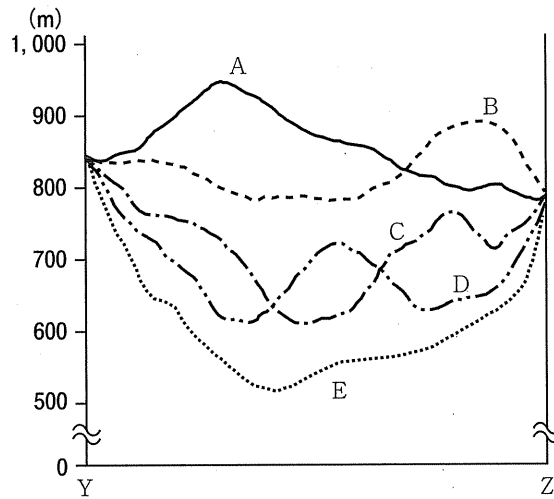


図 1

