





## 日本史 B 問題

はじめに、これを読みなさい。

1. この問題冊子は 15 ページある。ただし、ページ番号のない白紙はページ数に含まない。
2. 解答用紙に印刷されている受験番号が正しいかどうか、受験票と照合して確認すること。
3. 監督者の指示にしたがい、解答用紙の氏名欄に氏名を記入すること。
4. 解答は、すべて解答用紙の所定欄にマークするか、または記入すること。所定欄以外のところには何も記入しないこと。解答欄は裏面にもある。
5. 問題に指定された数より多くマークしないこと。
6. 解答は、必ず鉛筆またはシャープペンシル(いずれも HB・黒)で記入のこと。
7. 訂正する場合は、消しゴムできれいに消し、消しくずを残さないこと。
8. 解答用紙は、絶対に汚したり折り曲げたりしないこと。
9. 解答用紙はすべて回収する。持ち帰らず、必ず提出すること。ただし、この問題冊子は、必ず持ち帰ること。
10. 試験時間は 60 分である。
11. マーク記入例

良い例	悪い例
	  

〔 I 〕 次の文章を読み、問 1 ～問 16 の設問に答えなさい。

田沼意次失脚の翌年、江戸や大坂など全国 30 余りの都市で大規模な打ちこわし(ア)があいついで起こった。こうしたなかで、老中に就任したのが(イ)藩の藩主松平定信である。定信は祖父の改革政治を理想とし、田沼時代の政策を改め、(ウ)緊縮財政と農村の復興策を中心とした改革を進めた。旗本・御家人には、札差(キ)からの借金の返済を免除する(ク)を出すことで救済を試みるとともに、徹底した儉約を求めた。また定信は、武士には学問と武芸を奨励し、風紀の引き締めをはかった。思想面では、朱子学を正学とし、(コ)の学問所で朱子学以外の講義と研究を禁止する寛政異学の禁を出した。一方、民間に対しては厳しい出版統制を出し、洒落本や黄表紙の出版を禁止し、その作者を処罰の対象とした。このよう(ケ)なきびしい統制は民衆の反発を招くこととなった。朝廷問題への対処をめぐる将軍との対立もあり、定信は老中在職 6 年余りで退陣に追い込まれることとなった。

18 世紀末から 19 世紀にかけて世界情勢は大きく揺れ動いていた。そのような中で、国内では列強諸国の接近がたびたび見られるようになった。田沼時代においては、『赤蝦夷風説考』の著者である医師(ス)の意見が取り入れられ、蝦夷地の開発計画が進められた。この計画は意次の失脚により進展を絶たれることとなる。しかし、その後のロシア船来航などを契機として、幕府は蝦夷地政策を本格化させていった。その後も外国船の日本近海への出沒が相次いで起こり、政府は異国船打払令を出し、外国船を撃退することを命じるに至った。このため 1837 年にはアメリカ船を撃退させる事件が生じ、これを批判したとして、渡辺(イ)崙山や高野長英は厳しい処罰を受けた。高野長英は、18 世紀後半から盛んになった(ク)蘭学を学んだ学者としても知られている。(キ)

問 1 下線部(ア)の出来事が生じた西暦と元号の組み合わせの中で、正しいものを 1 つ選び、その記号をマークしなさい。

- A 1772 年・安永      B 1772 年・天明      C 1787 年・天明  
D 1787 年・寛政      E 1790 年・寛政

問 2 空欄(イ)にあてはまる藩を1つ選び、その記号をマークしなさい。

- A 会津                      B 越前                      C 白河  
D 松前                      E 米沢

問 3 下線部(ウ)の人物に関する説明文の中で、正しいものを1つ選び、その記号をマークしなさい。

- A 10代将軍家治の補佐として老中に就任した。  
B 10代将軍家重の補佐として老中に就任した。  
C 10代将軍家斉の補佐として老中に就任した。  
D 11代将軍家重の補佐として老中に就任した。  
E 11代将軍家斉の補佐として老中に就任した。

問 4 下線部(エ)の人物に関する説明文の中で、正しいものを1つ選び、その記号をマークしなさい。

- A 水戸藩主を務め、7代将軍家継に継いで8代将軍となった。  
B 水戸藩主を務め、7代将軍家宣に継いで8代将軍となった。  
C 尾張藩主を務め、7代将軍家継に継いで8代将軍となった。  
D 尾張藩主を務め、7代将軍家宣に継いで8代将軍となった。  
E 紀伊藩主を務め、7代将軍家継に継いで8代将軍となった。

問 5 下線部(オ)の改革政治に関する説明文の中で、誤っているものを1つ選び、その記号をマークしなさい。

- A 儉約令を出して質素な生活を求めた。  
B 町人の出資による新田開発を奨励した。  
C 定免法を改めて検見法を実施した。  
D 大坂堂島の米市場を公認した。  
E 商人や職人が株仲間をつくることを認めた。

問 6 下線部(カ)に関する説明文の中で、誤っているものを1つ選び、その記号をマークしなさい。

- A 運上や冥加などの営業税を徴収した。
- B 印旛沼・手賀沼の干拓事業をはじめた。
- C 銅座・人参座などの座を設けた。
- D 公事方御定書を制定した。
- E 南鐮式朱銀の鑄造を行った。

問 7 下線部(キ)の定信の進めた改革に関する説明文の中で、正しいものを1つ選び、その記号をマークしなさい。

- A 七分積金の制度を設けた。
- B 上げ米により1万石につき100石の割合で米を上納させた。
- C 小石川養生所を設けた。
- D 江戸に流入した貧民の帰郷を強制する人返しの法を発した。
- E 上知令を出し、50万石の地を直轄地にしようとした。

問 8 空欄(ク)にあてはまる法令の名称を、マークシート裏面の該当する解答欄に、漢字3文字の楷書で正しく記入しなさい。

問 9 下線部(ケ)に関する説明文の中で、正しいものを1つ選び、その記号をマークしなさい。

- A 明の時代に王陽明をはじめた学派である。
- B 鎌倉時代に藤原惺窩によって日本へと伝えられた。
- C 朱子学の教えを受けた山鹿素行は考証学派をはじめた。
- D 朱子学の一派である南学を学んだ中江藤樹は垂加神道を説いた。
- E 新井白石は木下順庵に朱子学を学んだ。

問10 空欄(コ)にあてはまる名称を1つ選び、その記号をマークしなさい。

- A 懐徳堂                      B 講習堂                      C 古義堂  
D 湯島聖堂                    E 明倫堂

問11 下線部(カ)に関する作者と作品の組み合わせの中で、正しいものを1つ選び、その記号をマークしなさい。

- A 式亭三馬・仕懸文庫                      B 十返舎一九・浮世風呂  
C 恋川春町・金々先生栄花夢              D 山東京伝・浮世床  
E 柳亭種彦・春色梅児誉美

問12 下線部(ク)に関する出来事とそれが生じた場所の組み合わせの中で、正しいものを1つ選び、その記号をマークしなさい。

- A ラクスマン来航・長崎                      B ラクスマン来航・根室  
C レザノフ来航・根室                      D レザノフ来航・国後島  
E フェートン号事件・国後島

問13 空欄(ス)にあてはまる人物は誰ですか。その名前を1つ選び、その記号をマークしなさい。

- A 安藤昌益                      B 海保青陵                      C 工藤平助  
D 林子平                      E 三浦梅園

問14 下線部(セ)に関する説明文の中で、正しいものを1つ選び、その記号をマークしなさい。

- A 1798年に幕府は伊能忠敬に択捉島を探索させた。  
B 1799年に幕府は西蝦夷地を直轄地とした。  
C 1807年に幕府は蝦夷地を松前奉行の支配下においた。  
D 1808年に幕府は最上徳内に樺太を探索させた。  
E 1811年に幕府は蝦夷地を松前藩に還付した。

問15 下線部(ㄨ)(ㄨ)による著書の組み合わせの中で、正しいものを1つ選び、その記号をマークしなさい。

- A (ㄨ)『海国兵談』・(ㄨ)『慎機論』                      B (ㄨ)『慎機論』・(ㄨ)『戊戌夢物語』  
C (ㄨ)『戊戌夢物語』・(ㄨ)『西洋紀聞』                  D (ㄨ)『西洋紀聞』・(ㄨ)『華夷通商考』  
E (ㄨ)『華夷通商考』・(ㄨ)『海国兵談』

問16 下線部(ㄨ)に関する著書とその作者の組み合わせの中で、正しいものを1つ選び、その記号をマークしなさい。

- A 稲村三伯・蘭学階梯                                      B 宇田川榕庵・舎密開宗  
C 志筑忠雄・阿蘭陀地球図説                              D 杉田玄白・西説内科撰要  
E 本木良永・暦象新書

〔Ⅱ〕 次の【1】と【2】の文章を読み、問1～問16の設問に答えなさい。

【1】 1880年代前半にいわゆる松方財政が展開され、一時はデフレと不況が深刻となった。しかしその後、産業界は活気づき、1880年代後半には鉄道や紡績を中心に最初の企業勃興が起こった。この会社設立ブームは、株式への払い込みの集中、金融機関の資金不足、凶作や生糸輸出の半減などによって挫折し、1890年の恐慌をもたらした。

日清戦争後、戦後経営に取り組んだ政府は、金融・貿易の制度面の整備をはかった。(オ)年に貨幣法を制定し、欧米諸国にならって金本位制を採用し、貨幣価値の安定と貿易の振興を行った。また、特定の分野に資金を供給する特殊銀行の設立も進めた。その甲斐あって、鉄道や紡績などでふたたび会社設立ブームが起こったが、繊維産業を中心とする過剰生産により、1900年に恐慌がおこった。

問1 下線部(ア)を展開した松方正義が、大蔵卿に就任した年に起こった出来事として、誤っているものを下記の中から1つ選び、その記号をマークしなさい。

- A 明治十四年の政変
- B 自由党結成
- C 明治法律学校創立
- D 交詢社の「私擬憲法案」発表
- E 壬午軍乱

問2 下線部(イ)に関連して、1880年代後半に創業し、1906年に合資会社となったものを下記の中から1つ選び、その記号をマークしなさい。

- A 大阪紡績会社
- B 八幡製鉄所
- C 日本鉄道会社
- D 池貝鉄工所
- E 日本郵船会社

問 3 下線部(ウ)に関する記述として、適切なものを下記の中から1つ選び、その記号をマークしなさい。

- A 日本で最初に起こったインフレによる恐慌であった。
- B 紡績連合会が第一回操業短縮を実施した。
- C 政府が重要産業統制法を制定した。
- D 鉄工組合や日本鉄道矯正会などの労働組合が組織された。
- E 困民党を称する農民が秩父事件をおこした。

問 4 下線部(エ)に関連して、自由党と連携して戦後経営を行った内閣を下記の中から1つ選び、その記号をマークしなさい。

- A 第1次大隈重信内閣
- B 第2次山県有朋内閣
- C 第2次松方正義内閣
- D 第2次伊藤博文内閣
- E 第1次桂太郎内閣

問 5 空欄(オ)にあてはまる年を下記の中から1つ選び、その記号をマークしなさい。

- A 1895
- B 1896
- C 1897
- D 1898
- E 1899

問 6 下線部(カ)に関連して、日本経済が最終的に金本位制を離れたのは何年か。その年を下記の中から1つ選び、その記号をマークしなさい。

- A 1915年
- B 1917年
- C 1919年
- D 1931年
- E 1933年

問 7 下線部(キ)に関連して、特殊銀行として適切でないものを下記の中から1つ選び、その記号をマークしなさい。

- A 第一銀行
- B 日本勧業銀行
- C 日本興業銀行
- D 横浜正金銀行
- E 台湾銀行



問 8 下線部(ク)に関連して、この年に『思出の記』や『自然と人生』を発表した人道主義に立つ小説家は誰か。その人物を下記の中から1人選び、その記号をマークしなさい。

- A 島崎藤村                      B 徳富蘆花                      C 泉鏡花  
D 国木田独歩                    E 夏目漱石

【2】 第一次世界大戦後、ヨーロッパ諸国の復興が進むと、日本経済は、開戦以来の好景気とは違ってかわり、1920年以降、一時期をのぞいて、長期の不況に苦しむことになった。

1920年には、大戦景気の反動による戦後恐慌がおこり、実力以上に経営を拵げた中小の企業や銀行の倒産があいついだ。その一方、大企業は、カルテルの結成により利益をあげて経営基盤を強化し、さらに、大銀行との結合により融資を通じて多くの企業を支配するようになった。

1923年には、関東大震災による震災恐慌がおこり、その後1927年には、震災手形の処理法案を審議する過程で一部の銀行の経営悪化が明らかにされ、取付け騒ぎへと発展し、金融恐慌がおこった。田中義一内閣は、(ソ)を発し、日本銀行から巨額の救済融資を行って、全国的に広がったこの金融恐慌をようやくしずめた。

問 9 下線部(ケ)に関連して、この大戦景気の時期に日本の経済や産業はどのように発展したか。誤っているものを下記の中から1つ選び、その記号をマークしなさい。

- A 工業の躍進により、工業生産額が農業生産額を追い越した。  
B 世界第3位の海運国になり、多くの船成金が生まれた。  
C 重化学工業の発展により、男性工場労働者の数が女性工場労働者の数に迫った。  
D 綿織物や生糸などの輸出が激増し、債権国になった。  
E 猪苗代・東京間の長距離送電が成功し、火力発電量が水力発電量を上回った。

問10 下線部(コ)に関連して、この年に国際連盟が設立された。その常任理事国として、あてはまらない国を下記の中から1つ選び、その記号をマークしなさい。

- A アメリカ                      B イギリス                      C フランス  
D イタリア                      E 日本

問11 下線部(ケ)に関連して、支配的な地位を占めるようになった大企業には、四大財閥などの既成財閥のほか、政府の保護のもと軍需・重化学工業を中心に急成長した新興財閥があった。新興財閥であった日産コンツェルンの創始者を下記の中から1人選び、その記号をマークしなさい。

- A 野口遵                      B 大河内正敏                      C 鮎川義介  
D 中野友礼                      E 森蘆昶

問12 下線部(ク)に関連して、このとき東京渡辺銀行の経営悪化に関する失言をした大蔵大臣は誰か。その人物を下記の中から1人選び、その記号をマークしなさい。

- A 浜口雄幸                      B 若槻礼次郎                      C 高橋是清  
D 片岡直温                      E 井上準之助

問13 下線部(ク)に関連して、台湾での事業で急成長し、金融恐慌で経営破綻した総合商社の名称を、マークシート裏面の該当する解答欄に漢字4文字の楷書で正しく記入しなさい。

問14 下線部(セ)に関連して、田中義一内閣が天皇の不興をかい、総辞職する原因となった事件は何か。その事件を下記の中から1つ選び、その記号をマークしなさい。

- A 三・一五事件                      B 張作霖爆殺事件                      C 四・一六事件  
D 濟南事件                      E 四・一二クーデタ

問15 空欄( ソ )にあてはまる法令を下記の中から1つ選び、その記号をマークしなさい。

- A 治安維持法                      B 支払猶予令                      C 工業組合法  
D 日銀非常貸出法                  E 震災手形割引損失補償令

問16 大正から昭和初期にかけては恐慌の時代であったが、その一方で大衆文化が花開いた。当時の世相をあらわす出来事として、適切なものを下記の中から1つ選び、その記号をマークしなさい。

- A 歌舞伎座が落成し、団・菊・左時代を迎えた。  
B 『太陽』や『中央公論』などの総合雑誌があいついで創刊された。  
C ラジオ放送が開始され、東京六大学野球などの実況放送が人気を集めた。  
D 報道・娯楽中心の大衆紙として、『読売新聞』などの小新聞が創刊された。  
E 活動写真とよばれる無声映画が日本で初めて制作され公開された。

〔Ⅲ〕 次の文章を読み、問 1～問 16 の設問に答えなさい。

第二次世界大戦は日本の敗戦で終結し、国際社会はその後、資本主義と社会主義という 2 つの政治経済体制をめぐって展開し、その情勢が様々な形で日本の戦後の体制に影響を与えていくことになった。連合国は連合国軍最高司令官総司令部 (GHQ/SCAP) を設置したが、実質的にはアメリカ政府の主導のもとで日本に新しい政治・経済体制が構築されていった。敗戦直後の占領政策は、日本の非軍事化と民主化を基本としていたが、米ソ対立と朝鮮戦争勃発によりアメリカは占領政策を転換し、サンフランシスコ講和条約によって日本は独立した。独立後、日本はアメリカと強い結びつきを維持し、政治的には二大政党が対抗しながら自由民主党が長期に政権を担う政治体制をつくりあげた。さらに経済面では、政府の経済活動に対する積極的な関与、都市銀行を中心とした企業集団、独特の労使関係制度などを特徴とする独自の資本主義体制を形成しながら、経済成長を実現していった。

問 1 下線部(ア)に関連して、1946 年に極東委員会に参加していた国はどこか。

正しいものを 1 つ選び、その記号をマークしなさい。

- |              |         |
|--------------|---------|
| A オランダ       | B パキスタン |
| C ビルマ(ミャンマー) | D スペイン  |
| E ベルギー       |         |

問 2 下線部(ア)に関連して、対日理事会が設置された都市はどれか。正しいものを 1 つ選び、その記号をマークしなさい。

- |        |          |            |
|--------|----------|------------|
| A 東京   | B ワシントン  | C サンフランシスコ |
| D ロンドン | E ニューヨーク |            |

問 3 下線部(イ)に関連して、いわゆる労働三法とこの時期の労働行政の説明として誤っているものはどれか。次の中から1つ選び、その記号をマークしなさい。

- A 1945年にGHQの指令で労働省が設置された。
- B 1945年に労働者の団結権と団体交渉権、争議権を保障する労働組合法が制定された。
- C 1946年に労働関係調整法が制定された。
- D 1947年に8時間労働制など労働条件の最低基準を定めた労働基準法が制定された。
- E 労働組合法により労働委員会が設置された。

問 4 下線部(イ)に関連して、日本開発銀行が設立されたのはいつか。正しいものを1つ選び、その記号をマークしなさい。

- A 1951年
- B 1952年
- C 1953年
- D 1954年
- E 1955年

問 5 下線部(イ)に関連して、暴力主義的な破壊活動に対する取り締まりを名目とした破壊活動防止法が制定されるきっかけとなった1952年の事件はどれか。正しいものを1つ選び、その記号をマークしなさい。

- A 下山事件
- B 赤旗事件
- C 三鷹事件
- D 松川事件
- E 血のメーデー事件

問 6 下線部(イ)に関連して、日本が世界銀行に加盟したのはいつか。正しいものを1つ選び、その記号をマークしなさい。

- A 1949年
- B 1950年
- C 1951年
- D 1952年
- E 1953年

問 7 下線部(ウ)に関連して、この時期におきた事柄の説明として誤っているものはどれか。次の中から1つ選び、その記号をマークしなさい。

- A 朝鮮戦争は1950年に勃発した。
- B 朝鮮戦争はアメリカ軍による「特需」をうみだした。
- C 朝鮮戦争の結果、日本経済が好況に転じた。
- D 1951年に警察予備隊が発足した。
- E 1952年に警察予備隊が保安隊に改編された。

問 8 下線部(エ)に関連して、日本が「関税および貿易に関する一般協定(GATT)」に正式に加盟した年におきたことはどれか。正しいものを1つ選び、その記号をマークしなさい。

- A 第五福竜丸事件
- B アジア・アフリカ会議の開催
- C 第一次岸信介内閣の組閣
- D 核兵器不拡散条約(核拡散防止条約)に日本が調印
- E MSA協定の調印

問 9 下線部(エ)に関連して、日本はこのあと国際経済に統合されていくが、日本が国際通貨基金(IMF)の8条国に移行したのはいつか。正しいものを1つ選び、その記号をマークしなさい。

- A 1956年
- B 1958年
- C 1960年
- D 1962年
- E 1964年

問10 下線部(エ)に関連して、第五次吉田内閣の時期に起きた事柄はどれか。正しいものを1つ選び、その記号をマークしなさい。

- A 造船疑獄事件
- B 昭和電工事件
- C ロッキード事件
- D 日ソ共同宣言の発効
- E 日本の国際連合への加盟

問11 下線部(エ)に関連して、サンフランシスコ講和会議に招請国であったものの不参加だった国はどこか。正しいものを1つ選び、その記号をマークしなさい。

- A ソ連                      B インド                      C ポーランド  
D チェコスロバキア      E 中国

問12 下線部(オ)に関連して、池田勇人内閣の時期に起きた事柄として誤っているものはどれか。次の中から1つ選び、その記号をマークしなさい。

- A 1960年に所得倍増計画が閣議決定された。  
B 1961年に国民皆保険制度が実現した。  
C 1962年に新産業都市建設促進法が施行された。  
D 1963年に公害対策基本法が施行された。  
E 1964年に東京オリンピックが開催された。

問13 下線部(カ)に関連して、日韓基本条約を国会で採決し、批准した時の内閣はどれか。正しいものを1つ選び、その記号をマークしなさい。

- A 池田勇人内閣              B 岸信介内閣              C 佐藤栄作内閣  
D 鳩山一郎内閣              E 吉田茂内閣

問14 下線部(キ)に関連して、農業基本法が公布されたのはどの内閣の時か。正しいものを1つ選び、その記号をマークしなさい。

- A 第一次岸内閣              B 第二次岸内閣              C 第一次池田内閣  
D 第二次池田内閣              E 第三次池田内閣

問15 下線部(キ)に関連して、高度経済成長を支えた日本の労使関係の説明として誤っているものはどれか。次の中から1つ選び、その記号をマークしなさい。

- A 春闘は1950年代後半に賃上げ交渉の手段として広まっていった。
- B 1960年に三井三池炭鉱争議は終結した。
- C 1960年に全日本労働総同盟が発足した。
- D 1964年に池田首相と太田総評議長との間で公務員給与を民間の引き上げに準拠する事が合意された。
- E 1964年に国際金属労連日本協議会(IMF-JC)が発足した。

問16 下線部(ク)に関連して、1960年代後半にはじまる好景気を何と呼ぶか。正しいものを1つ選び、その記号をマークしなさい。

- A いざなぎ景気
- B 岩戸景気
- C オリンピック景気
- D 神武景気
- E 特需景気