



地 理 B 問 題

はじめに、これを読みなさい。

1. この問題用紙は 23 ページある。ただし、ページ番号のない白紙はページ数に含まない。
2. 解答用紙に印刷されている受験番号が正しいかどうか、受験票と照合して確認すること。
3. 監督者の指示にしたがい、解答用紙の氏名欄に氏名を記入すること。
4. 解答は全て解答用紙の所定欄にマークするか、または記入すること。所定欄以外のところには何も記入しないこと。
5. 問題に指定された数より多くマークしないこと。
6. 解答は、必ず鉛筆またはシャープペンシル(いずれも HB・黒)で記入のこと。
7. 訂正する場合は、消しゴムできれいに消し、消しくずを残さないこと。
8. 解答用紙は、絶対に汚したり折り曲げたりしないこと。
9. 解答用紙は持ち帰らず、必ず提出すること。
10. 問題用紙は必ず持ち帰ること。
11. マークシート記入例

良い例	悪い例
	

〔 I 〕 ヨーロッパに関する次の問題に答えよ。

問 1 以下の表はイギリス，イタリア，スペイン，ドイツ，フランス，ポーランド，ルーマニアの7つのEU加盟国の人口（2017年）と，農産物および農業加工品の生産量（2014年）を示したものである。(1)と(2)の問いに答えよ。

	人口 (万人)	家畜頭数 (万頭)			牛乳 (万 t)	ビール (万 kl)	ワイン (万 t)
		牛	豚	羊			
A	8,211	1,274	2,834	160	3,230	953	92
B	6,618	984	482	3,374	1,505	443	-
C	6,498	1,910	1,349	724	2,533	205	429
D	5,936	576	868	717	1,104	-	480
E	4,635	608	2,657	1,543	679	335	461
F	3,817	592	1,172	22	1,299	395	-
G	1,968	202	518	914	453	-	38

	穀物生産量 (万 t)							いも類 (万 t)
	合計	小麦	ア	イ	ウ	エ	オ	
A	5,201	2,779	-	514	1,156	63	385	1,161
B	2,447	1,660	-	-	691	82	6	591
C	7,333	3,895	83	1,834	1,173	44	13	809
D	1,937	714	138	924	85	24	1	137
E	2,060	647	86	478	698	65	29	257
F	3,195	1,163	-	447	327	146	279	769
G	2,207	759	4	1,199	171	38	2	352

(『世界国勢図会』による。「-」は生産が少量であることを示す)

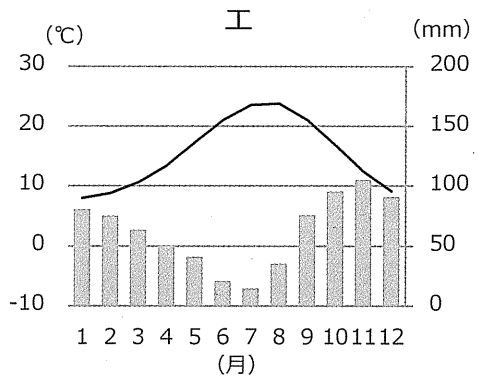
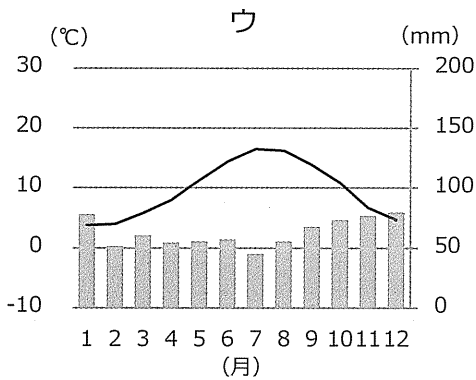
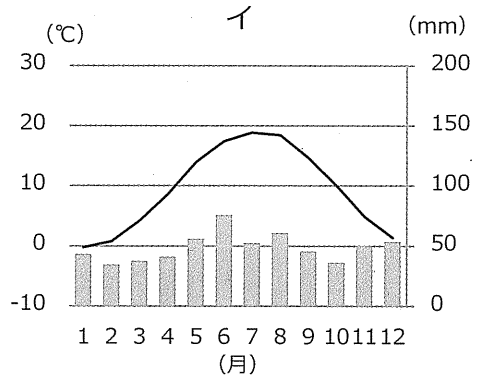
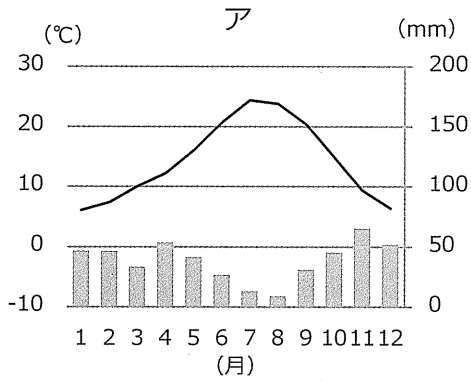
- (1) CとFに該当する国名を、解答用紙裏面の解答欄に記せ。
- (2) 表の穀物生産量のうち、イに該当する穀物を、次の選択肢から1つ選び、その記号を解答欄にマークせよ。
- ① オーツ麦 ② 大麦 ③ 米
④ とうもろこし ⑤ ライ麦

問 2 EUにおける人の動きについて述べた次の文章から、最も適切なものを1つ選び、その記号を解答欄にマークせよ。

- ① 第二次世界大戦以降、ヨーロッパに旧植民地諸国などからイスラム教徒の労働者や家族が移り住んだが、近年は関連する社会問題が表面化することはない。
- ② 国際観光客到着数が世界1位のフランスにおいて、最も多いのはスペインからの訪問者である。
- ③ シェンゲン協定による国境管理の廃止と労働移動の自由化を利用し、EU諸国では国境を越えて通勤をする人々が増えている。
- ④ 近年、中東情勢の不安定化から100万人規模の難民がヨーロッパに到着したが、トルコとの協定によりほとんどの人々が中東に戻った。
- ⑤ EU全体としては、少子高齢化が進んでいるために、人口は減少の一途をたどっている。

問 3 EUの共通農業政策の目的について述べた次の文章のうち、**不適切なもの**を1つ選び、その記号を解答欄にマークせよ。

- ① 消費者に安定した価格で食料を供給する。
- ② EUの農業者が仕事に見合った生活を送れるようにする。
- ③ 気候変動に対応し、天然資源の持続可能な管理をする。
- ④ 農業地域や景観を維持する。
- ⑤ 農村経済を維持し、関連業界に利益を誘導する。



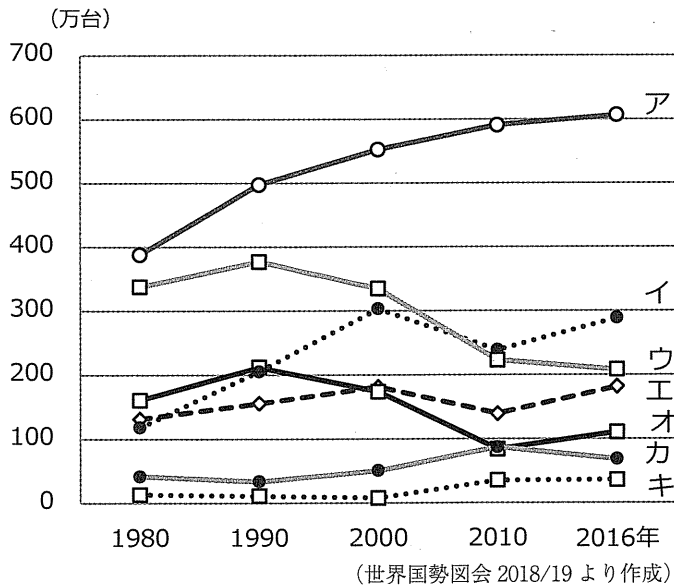
(気象庁世界気候表をもとに作成)

問 6 フランスのストラスブールやドイツのフライブルクでは、パーク・アンド・ライドというシステムが採用されている。そのシステムの内容と目的を解答用紙裏面の解答欄の枠内に記せ。

問 7 ヨーロッパの工業について述べた以下の文章から、最も適切なものを1つ選び、その記号を解答欄にマークせよ。

- ① いち早く産業革命を経験したイギリスであるが、サービス経済化の進展によって、イングランド南東部の衰退が著しい。
- ② ドイツは第二次世界大戦後、工業化の背後で衰退する農業を支えるために、トルコや旧ユーゴスラビアから多くの労働者を受け入れた。
- ③ イギリス南部からフランスのパリ周辺部を経てイタリア北部につながるEUの工業地域は、EUの色にちなんでブルーバナナと呼ばれる。
- ④ イタリア南部のサードイタリーと呼ばれる地域では、国際競争力を持つ伝統工芸品の生産に特色を持っている。
- ⑤ 農業国としての性格が強いポーランドにおいても、人件費などの生産コストの低さから、近年は国外から製造業への資本投資が進んでいる。

問 8 以下のグラフは、問1のA～G国の自動車生産台数の変化を表している。ウ、オ、カに当てはまる国の組み合わせとして、最も適切なものを選択肢から1つ選び、その記号を解答欄にマークせよ。



	ウ	オ	カ
①	ドイツ	フランス	ルーマニア
②	ドイツ	イタリア	ポーランド
③	フランス	スペイン	ルーマニア
④	フランス	イタリア	ポーランド
⑤	イギリス	フランス	ルーマニア
⑥	イギリス	スペイン	ポーランド

問 9 以下の表は、問 1 の A～G 国の貿易品目上位 3 位（2016 年）までを示している。アとウに該当する国名を、解答用紙裏面の解答欄に記せ。

	輸出				輸入			
	総額 (億ドル)	1 位	2 位	3 位	総額 (億ドル)	1 位	2 位	3 位
A 国	13,359	機械類 26.6%	自動車 17.8%	医薬品 5.7%	10,563	機械類 24.2%	自動車 9.9%	医薬品 4.7%
ア	4,888	機械類 20.0%	航空機 10.9%	自動車 9.0%	5,608	機械類 21.6%	自動車 10.3%	航空機 6.0%
イ	4,558	機械類 26.2%	自動車 8.1%	医薬品 4.9%	4,016	機械類 17.7%	自動車 10.6%	医薬品 6.0%
B 国	4,073	機械類 21.5%	自動車 12.2%	医薬品 8.1%	5,885	機械類 20.7%	自動車 11.6%	金 9.2%
ウ	2,868	自動車 19.1%	機械類 13.4%	野菜と 果実 6.6%	3,103	機械類 18.2%	自動車 13.3%	原油 6.2%
F 国	2,026	機械類 23.9%	自動車 12.1%	家具 5.3%	1,974	機械類 24.6%	自動車 9.7%	鉄鋼 4.0%
エ	636	機械類 29.0%	自動車 15.1%	衣類 4.7%	746	機械類 27.2%	自動車 8.7%	繊維と 織物 4.4%

(資料：データブック オブ ザ ワールド)

問題不備により問10は削除

〔Ⅱ〕 島に関する問題(A)～(C)に答えよ。

(A) 以下の文章をよく読んで問1～5に答えよ。

世界には多くの島々があるが、どのような陸地が「島」なのかは必ずしも明確ではない。そこでまず一般に島とみなされている陸地の成因に注目すると、大陸の一部が何らかの理由により自然に分断されて島になったものと、既存の大陸とは関係なく海底に生じた隆起が海面に出て島となった海洋島（洋島ともいう）に大別できる。さらに海洋島はその地学的な分布位置から「プレート境界の島」と「プレート内部の島」に区別することができる。多くの地図帳に掲載されている「世界の地形」の解説地図などで確認すると、プレート境界の島の大半は、基本的には3種類あるとされているプレート境界の中の2種類に、またプレート内部の島は、その配列により「線状の列島」「まとまって散らばる群島」「ほぼ単独の孤島」の3種類に分けることができる。

一方、日本も批准している『海洋法に関する国際連合条約』では、島について「島とは満潮時の水域に囲まれる自然に形成された陸地である」と定義している。これには面積に関する記述が含まれていないが、一般にオーストラリア大陸よりも面積が小さい陸地を島とするようである。これにしたがうと世界最大の島はグリーンランドであり、本州は第7位、ニュージーランドの南島が第10位となる。下の地名①～⑩は、本州をはじめとする日本を構成する島々を面積20位まで五十音順に並べたものである（面積の順位は国土地理院の『平成29年度全国都道府県市区町村別面積調』による）。なおこの問題においては、20島のうち都道府県庁があるものを「本土」、それ以外を「離島」と表記して便宜的に区別することにする。

- ① 天草上島 ② 天草下島 ③ 奄美大島 ④ 淡路島 ⑤ 西表島
⑥ 択捉島 ⑦ 沖縄島 ⑧ 九州 ⑨ 国後島 ⑩ 佐渡島
⑪ 四国 ⑫ 色丹島 ⑬ 種子島 ⑭ 対馬 ⑮ 島後
⑯ 徳之島 ⑰ 福江島 ⑱ 北海道 ⑲ 本州 ⑳ 屋久島

問 1 プレート境界付近に分布する(イ)アイスランドと(ロ)アリューシャン列島について、それぞれもっとも適する説明文を下の①～⑥からそれぞれ1つ選び、その記号を解答欄にマークせよ。

- ① 狭まるプレート境界の海底地形である海溝付近の島である。
- ② 狭まるプレート境界の海底地形である海嶺付近の島である。
- ③ ずれるプレート境界の海底地形である海溝付近の島である。
- ④ ずれるプレート境界の海底地形である海嶺付近の島である。
- ⑤ 広がるプレート境界の海底地形である海溝付近の島である。
- ⑥ 広がるプレート境界の海底地形である海嶺付近の島である。

問 2 ハワイ諸島はホットスポットの活動による典型的なプレート内部の列島である。ハワイ諸島を構成する島々はどのようにして線状に並ぶ陸地になったのか、解答用紙裏面の解答欄に収まる程度で簡潔に説明せよ。

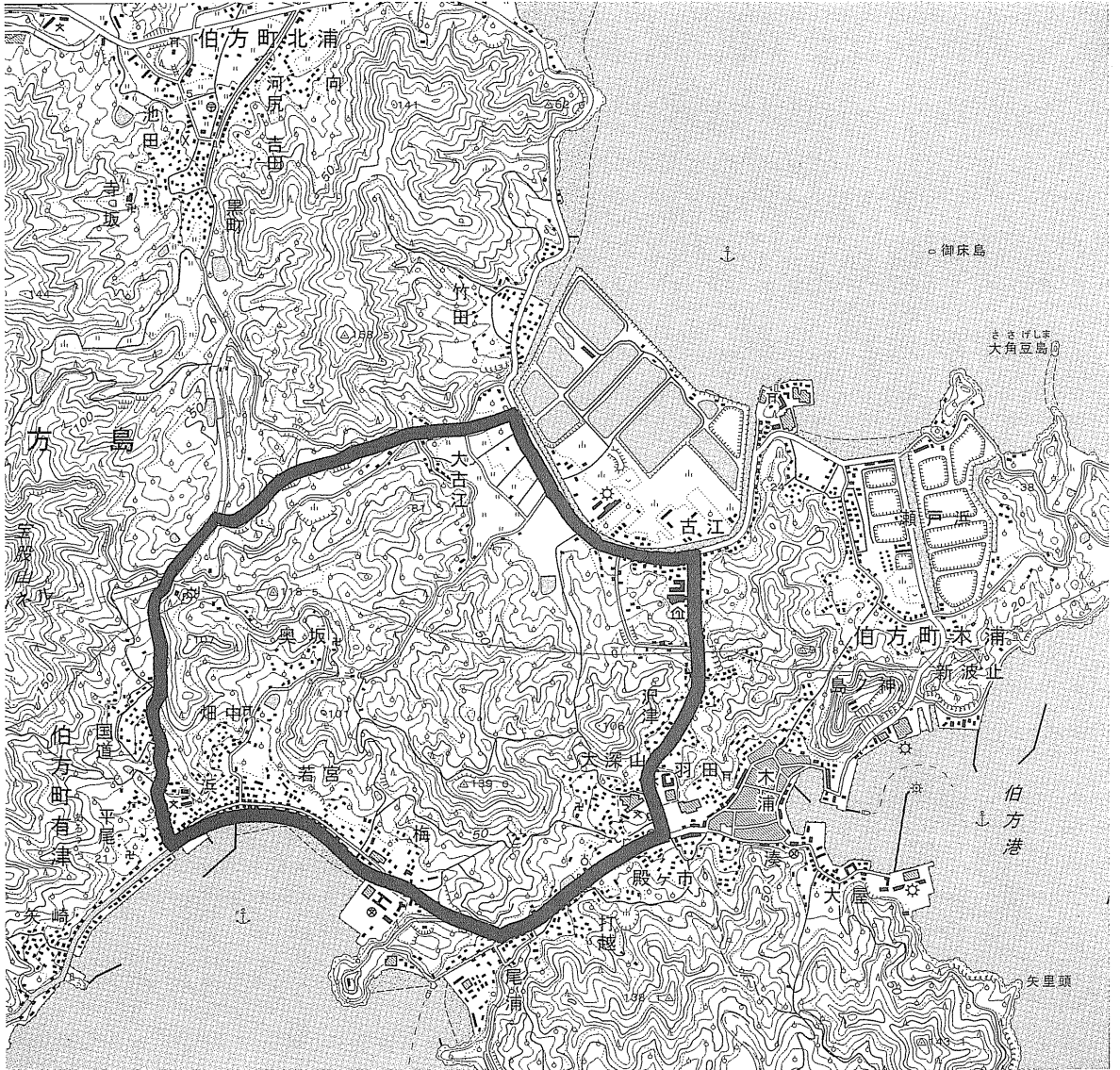
問 3 世界の大きな島の上位 10 島は、その半数にいずれかの国の首都が置かれている。この首都のなかでもっとも北に位置するものがある島と、もっとも南に位置するものがある島の名前をそれぞれ解答用紙裏面の解答欄に記せ。

問 4 日本には、多くの離島の集合体（諸島、列島）があるが、上記（㉠～㉤）の 20 島のなかの「離島」を 1 つも含まない諸島・列島を以下の選択肢から 1 つ選び、その記号を解答欄にマークせよ。

- ① 伊豆諸島 ② 隠岐諸島 ③ 五島列島
- ④ 薩南諸島 ⑤ 琉球諸島

問 5 日本国政府はいわゆる北方領土を、より具体的に「北方四島」と表現している。上記（㉠～㉤）20 島のうちの 3 つがこれに該当するが、そのなかで面積最小の「離島」名の記号を解答用紙裏面の解答欄に記せ。

(B) 下の地形図は、瀬戸内海の伯方島の2万5千分の1地形図（平成18年国土地理院発行）の一部を原寸大で示したものである。なお図中の太線は加筆したものである。これをよく見て以下の問6～9に答えよ。



問 6 以下の施設のうち、この地形図の範囲にはない施設を1つ選び、その記号を解答欄にマークせよ。

- ① 警察署 ② 煙突 ③ 墓地
④ 高等学校 ⑤ 灯台 ⑥ 病院

問 7 伯方港の北岸と南岸には、ともに工場の地図記号が記載されているが、この2つの工場は同じ種類の製品を扱っている。これらの工場の種別としてもっとも適当なものを以下の選択肢から1つ選び、その記号を解答欄にマークせよ。

- ① 造船所 ② 水産加工場 ③ 石油化学工場
④ 農産品加工場 ⑤ 酒類醸造所 ⑥ 製紙工場

問 8 図の東部北岸の古江と瀬戸浜には、埋立地または干拓地のように見える、かつての入江がある。これは1960年代頃まで日本各地の海岸で行われていた伝統的産業の跡地である。その産業としてもっとも適当なものを以下の選択肢から1つ選び、その記号を解答欄にマークせよ。

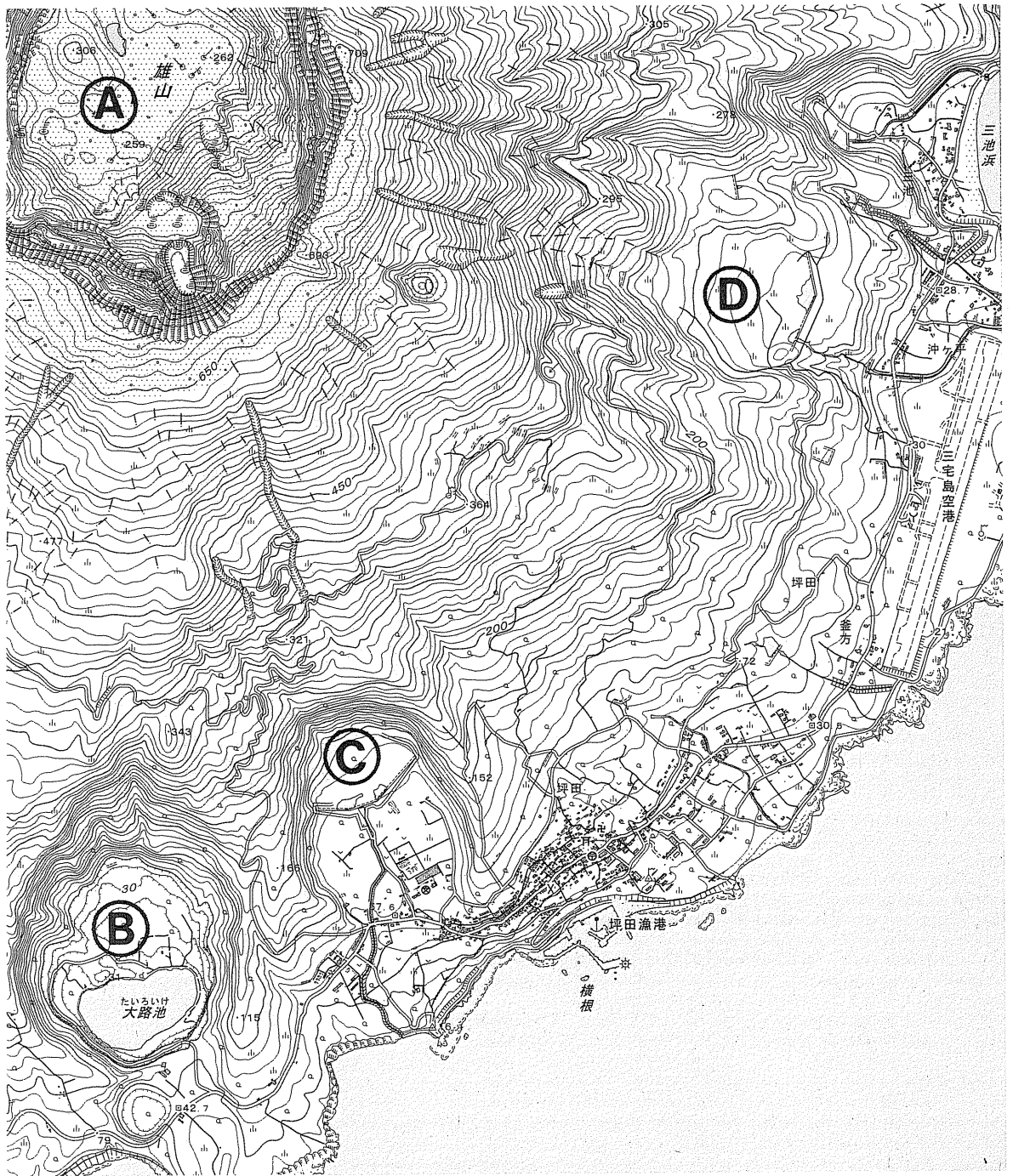
- ① 製塩（塩田） ② 海藻（のり）生産 ③ 木場（貯木場）
④ 干物（魚介類）生産 ⑤ いぐさ（畳用）生産 ⑥ 織物（染色）生産

問 9 図中の太枠で囲った大古江、若宮、大深山などを囲む領域は、海面が100 m上昇した場合にいくつの島になるか、その数を解答用紙裏面の解答欄に記せ。

(C) 次ページの地形図は、2000年に全島民が避難するような大規模な火山噴火が発生した三宅島の2万5千分の1地形図（平成28年国土地理院発行）の南東部を原寸大で示したものである。三宅島は火山活動が非常に活発な島で、ほぼ全域が火山活動にともなう地形で覆われている。地方自治体としての三宅村は2種類のハザードマップを作成しているが（この図は掲載していない）、その凡例の多くは火山関連のものである。この地形図をよく見て以下の問10～13に答えよ。

問10 図中の①、②、③はいずれも大きな窪地である。これらの成因に関する説明としてもっとも適切なものを選択肢から1つ選び、その記号を解答欄にマークせよ。

- ① ①は大規模な噴火にともなう陥没によって生じたカルデラであり、②と③は島全体が隆起したために離水した浅い湾の名残である。
- ② ①は大規模な噴火にともなう陥没によって生じたカルデラであり、②と③はマグマ水蒸気爆発によって生じた爆裂火口である。
- ③ ①は大規模な噴火にともなう陥没によって生じたカルデラであり、②と③は噴火に伴う2本の溶岩流が隣り合う湾を埋め立てたものである。
- ④ ①は雄山北部の崩壊によって生じた窪地であり、②と③は島全体が隆起したために離水した浅い湾の名残である。
- ⑤ ①は雄山北部の崩壊によって生じた窪地であり、②と③はマグマ水蒸気爆発によって生じた爆裂火口である。
- ⑥ ①は雄山北部の崩壊によって生じた窪地であり、②と③は噴火に伴う2本の溶岩流が隣り合う湾を埋め立てたものである。



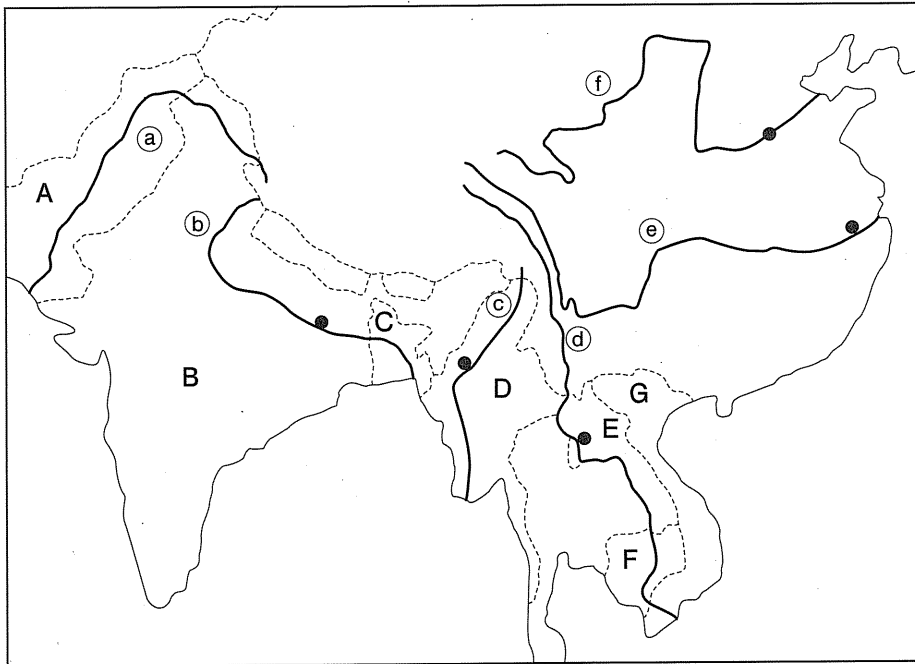
問11 山地斜面の谷地形の部分は沢となっていて、この沢沿いには多数の「せき（堰）」記号が沢を横切るように記入されているが、これらは一般に砂防ダムと呼ばれている構築物である。いっぽう図中の㉔と㉕の窪地にも同じく「せき」記号で示される長大な構築物が等高線とほぼ平行に設置されている。これは何に対する防御策と考えられるか、もっとも適切な説明を以下の選択肢から1つ選んで解答欄にマークせよ。

- ① 火山噴火によって斜面上部から流下してくる溶岩流を一時的に停止させ、学校などからの避難経路を確保するため。
- ② 窪地下部には水が溜まりやすく大雨のときには浸水の危険性が高いため、上部で一時的に水を貯めて排水路から海に流すため。
- ③ 斜面に広く厚く堆積している火山灰などの細かい未固結噴出物が、大雨によって泥流となって斜面を流下するのを防ぐため。
- ④ 窪地の山頂側は急斜面となっていて火山性地震によって崩壊を繰り返しているが、その崩壊した岩屑が転がり落ちるのを防ぐため。
- ⑤ 通常は水が流れていない谷の土砂を固定し、大雨により水が集中しても土石流が起きにくくするため。

問12 三宅村のハザードマップによれば、図の㉖を中心とする「三宅島空港の滑走路中央付近から三池浜の北方までの、海岸から標高約300m付近の、島を環状に取り巻く道路までの山腹斜面」は、島内で唯一の火山ガス「高濃度地区」に指定されている。この領域において火山ガスが高濃度となりやすいのはなぜか、地形条件と気候条件に着目して、解答用紙裏面の解答欄に収まる程度で簡潔に説明せよ。なお、火山ガスの主な噴出源は図の㉗付近の噴気孔群とする。

問13 この地図の領域で、三池の集落のみがとくに注意しなければならない自然災害は津波である。その理由を、解答欄に収まる程度で具体的に説明せよ。

〔Ⅲ〕 下記の図は、チベット高原およびその周辺に水源をもつ6つの大河川①～⑥と、その流域の国を示したものである。以下の設問に答えよ。



問 1 以下の文章ア)～カ)は、地図中の6つの河川①～⑥について簡単に説明したものである。この説明文を読んで下記の設問(1)～(5)に答えよ。

ア) この川は、険しい山脈に囲まれた峡谷を抜けると、広大な平原部をゆっくりと流れ、河口部のデルタを経て に注ぐ。上流域ほど降水量が多く、平原部の乾燥地帯を貫流する外来河川である。中流域は灌漑施設の整備により穀倉地帯になったが、近年では塩害の被害が著しい。

イ) この川は、複数の国を経て に抜ける典型的な国際河川の一つである。下流部は、分岐を繰り返して農業生産、特にコメの生産に欠かせない肥沃なデルタを形成する。この川は物資輸送の貴重な交通路であり、また、豊富な水産資源は河岸に住む人々の食料を支えているが、近年は上流部にある国の水資源開発に伴う流量減少が危惧されている。

ウ) この川の上流部は、山脈に囲まれた険しい峡谷の間を縫って急流をなすが、に入ると流れも穏やかになり、河口部のデルタを経てに注ぐ。豊富な流量に恵まれ、中流部までは大型船舶の航行も可能であり、古来より中心的な交通路として利用されてきた。デルタ地帯はこの国最大の商業・工業地帯であるが、近年は水質の悪化が深刻になっている。

エ) この川は、チベット高原を流れた後に入り、乾燥した気候の下で大地を切り裂くような険しい谷を流れるため、水流には大量の土砂が含まれている。したがって峡谷を抜けてに至り、そこから河口のに至る間は、堆積した土砂が天井川をつくり、流域は常に洪水の被害に晒されてきた。

オ) この川は、山脈を下ると国内を貫流し、河口部に広大なデルタをつくりに流れ込む。鉄道や道路が未発達時代には、この国の貴重な交通路だった。水量が豊かな大河川だが、外国資本によるダム開発をめぐって反対運動が続発している。

カ) この川は、勾配の著しく急な峡谷を下るとに出る。ここでは運河が各地に発達して灌漑に利用され、肥沃な穀倉地帯となっている。下流域ではいくつかの大河川と合流するとともに多くの分流を作り、巨大なデルタを形成してへ流れ込む。デルタの末端には世界最大級のマングローブが広がっている。

(1) 文中の空欄にあてはまる語句を以下の選択肢から1つ選び、その記号を解答欄にマークせよ。

- | | | |
|---------|----------|--------|
| ① アラビア海 | ② アンダマン海 | ③ 東シナ海 |
| ④ ベンガル湾 | ⑤ 渤海 | ⑥ 南シナ海 |

(2) 文中の空欄 **お** にあてはまる語句を以下の選択肢から1つ選び、その記号を解答欄にマークせよ。

- ① 雲貴高原 ② オルドス高原 ③ 黄土高原
④ コラート台地 ⑤ 四川盆地 ⑥ デカン高原

(3) 文中の空欄 **け** にあてはまる語句を以下の選択肢から1つ選び、その記号を解答欄にマークせよ。

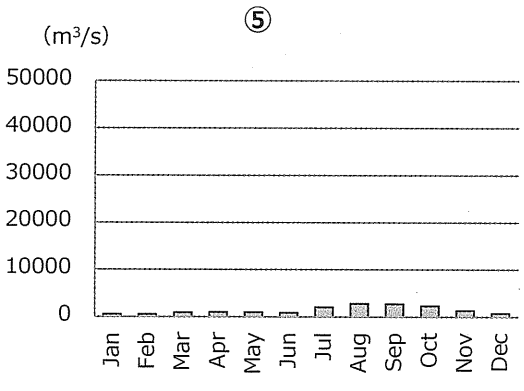
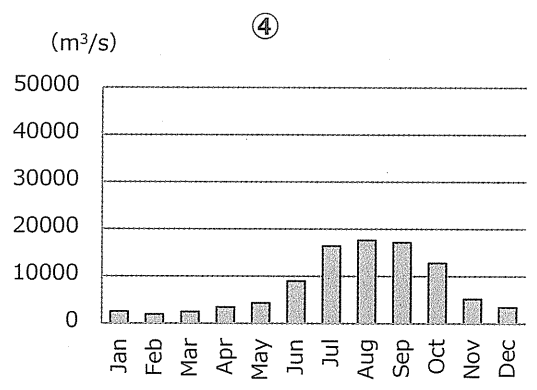
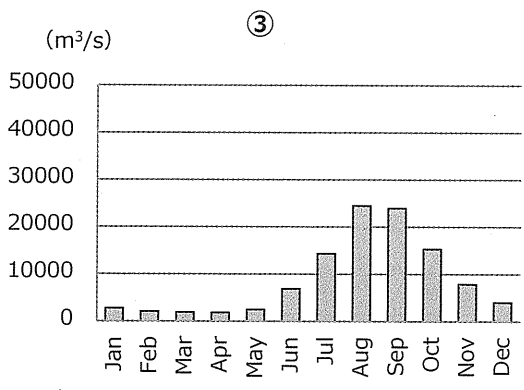
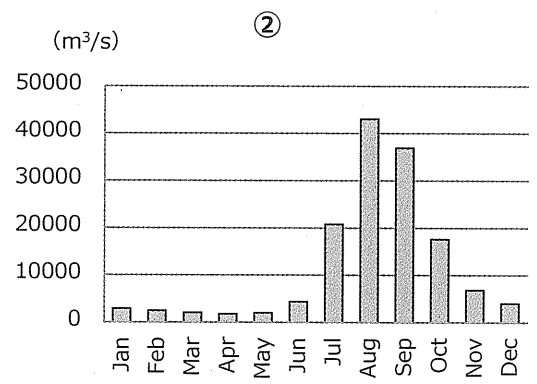
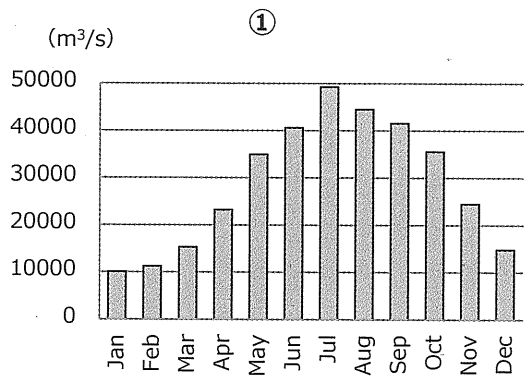
- ① パンジャブ平原 ② ヒンドスタン平原 ③ メソポタミア平原
④ 華北平原 ⑤ 華中平原 ⑥ 華南平原

(4) イ)が説明する河川が通過する国をすべて、解答用紙裏面の解答欄に記せ。

(5) オ)の説明文に相当する河川を④～⑥の中から1つ選び、その記号と河川名を解答用紙裏面の解答欄に記せ。

問 2 地図中のA～Gの7か国について、①第二次世界大戦前の旧宗主国、②国民の大多数を占める語族（インド＝ヨーロッパ語族、シナ＝チベット語族、オーストロ＝アジア語族）、および③国民の多くが信仰する宗教（イスラム教、ヒンドゥー教、仏教）の3つの指標で分類したとき、3指標とも共通する国の組み合わせは2組ある。その2組の組み合わせを、「アメリカー日本」のように、国名を連記して、解答用紙裏面の解答欄に記せ。

問 3 次ページの5つのグラフは、④を除く⑤～⑥の河川のそれぞれ中流域にある観測点（地図中の黒丸で示した地点）の平均流量の月別推移を示したものである。このうち⑥の河川の観測点に相当するグラフを1つ選び、その記号を解答欄にマークせよ。



(Global Runoff Data Centre のデータから作成)

問 4 次ページの表は、A～Gの7か国について、輸出総額、輸出額からみた輸出上位5品目、および輸出先上位5か国を示したものである。表を参照して以下の設問(1)～(3)に答えよ。

	あ 2,646億ドル (2016)	い 1,766億ドル (2016)	う 360億ドル (2016)	え 205億ドル (2016)
輸出品目	石油製品 10.4	ア 35.5	衣類 84.2	イ 37.4
	ダイヤモンド 9.2	衣類 13.5	イ 5.1	衣類 24.9
	ア 8.8	履物 7.7	履物 2.2	米 8.3
	衣類 6.9	魚介類 4.0	えび 1.2	野菜・果実 3.2
	イ 6.2	イ 3.5	革 0.9	ア 1.8
輸出先	ウ 16.1	ウ 20.7	ウ 19.3	ウ 16.7
	アラブ首長国 11.5	エ 11.1	ドイツ 14.7	エ 7.7
	香港 5.1	日本 8.7	イギリス 11.0	イギリス 7.6
	エ 3.4	韓国 5.5	スペイン 5.8	アフガニスタン 6.7
	イギリス 3.3	香港 4.3	フランス 5.5	ドイツ 5.8
	お 120億ドル (2016)	か 114億ドル (2015)	き 23億ドル (2015)	
輸出品目	衣類 66.1	液化天然ガス 39.2	銅 41.0	
	履物 7.8	インゲン豆 8.7	電力 21.8	
	ア 4.8	衣類 8.0	衣類 7.7	
	自動車 3.5	ひすい等 5.5	農産物 6.2	
	米 3.0	米 5.2	金 5.4	
輸出先	ウ 21.3	エ 39.6	エ 40.1	
	イギリス 9.5	タイ 27.5	タイ 29.3	
	ドイツ 9.0	インド 8.3	ベトナム 16.1	
	日本 8.2	シンガポール 5.5	インド 2.8	
	カナダ 6.5	日本 4.0	日本 1.8	

(単位は%。資料『データブック・オブ・ザ・ワールド』より)

問題不備のため問4(1)は削除

(2) 表中の空欄 , には、それぞれ同じ国が入る。空欄 に該当する国名を下記から選べ。

- ① アメリカ ② オーストラリア ③ サウジアラビア
④ 中国 ⑤ ロシア

(3) 表中の「う」と「お」の国の輸出は、品目、相手国とも共通点が多い。どのような点が似ているのか明らかにし、そうした輸出構造をもたらす要因について、解答用紙裏面の枠内に記せ。

問 5 以下の文章は、インドシナ各国の第二次世界大戦後の歴史を述べたものである。地図中のDとEの国について記した文章をそれぞれ1つ選び、その記号を解答欄にマークせよ。

- ① この国は、王国として独立したものの、左派・中立派・右派の間で内戦が繰り返され、1975年に和平協定の成立を経て、社会主義国家となった。
- ② この国は、資本主義陣営に支援された南部と、社会主義陣営に支援された北部との間で一種の代理戦争が行われ、多くの人々が犠牲になったが、1976年に統一されて社会主義国家となった。
- ③ この国は、独立後、共和制に移行したものの、国王支持勢力と社会主義陣営の支援を受けた勢力、独自の共産主義路線を主張する勢力の間で内戦が激化した。1991年に和平協定が結ばれて制憲議会選挙が行われ、立憲君主制になった。
- ④ この国は、独立後、独自の社会主義路線を進めたが、一種の鎖国状態が長く続いた。1988年にクーデターで軍が実権を掌握したものの、欧米諸国の批判を受け、2011年に民政移管がなされた。
- ⑤ この国は、立憲君主制国家として第二次世界大戦中も独立を維持したものの、軍部によるクーデターが相次ぎ、その都度、軍政による暫定政権と総選挙による民主政権が誕生している。

問 6 以下の文章は、㉔と㉕の河川流域について述べたものである。下記の設問

(1)～(4)に答えよ。

㉔の河川は、険しい山岳地域を抜けて盆地に入ると流れが緩やかになり、そこには肥沃な平地が広がる。そこには、政府直轄市のひとつである河港都市の 市がある。 市を過ぎると両側には再び山岳が迫り、峡谷が続くが、その終点付近には2012年に完成した ダムがある。そこから下流に行くと、西から流れてきた漢水と合流する。この合流地点は水陸交通の交わる要衝であり、この川中流域最大の都市 市がある。さらに下ると、古来よりこの国南部の政治的中心の役割を幾度となく担ってきた 市に至り、そして河口デルタの河川水運と海運の結節点には、この国最大の経済都市 市がある。

一方、㉕の河川の上流部、山岳を抜けたところにある盆地の中心 市は、この河川で最も上流に位置する大都市である。この盆地を抜けると北流して、 自治区や内モンゴル自治区に入る。古くからオアシスが発達してきたが、今日では流域に築かれたダムから灌漑用水が供給され、一大灌漑地域となっている。この先南流して再び河谷を抜けると、西からきた渭水と合流して東へと向かう。このあたりは古代文明発祥の地であり、またその後の文明の中核地域として過去に歴代王朝の都が置かれた。さらに下ると、川に沿って東西に走る幹線と、この川を越えて南北に走る幹線の結節点であり、中国大陸の交通の要所として栄える に至る。

(1) 文中の空欄 にあてはまる語句を以下の選択肢から1つ選び、その記号を解答欄にマークせよ。

- ① 溪洛渡 ② 三峡 ③ 三門峽
④ 怒江 ⑤ 劉家峽

(2) 文中の空欄 にあてはまる語句を以下の選択肢から1つ選び、その記号を解答欄にマークせよ。

- ① 上海 ② 重慶 ③ 成都
④ 南京 ⑤ 武漢

(3) 文中の空欄 にあてはまる語句を以下の選択肢から1つ選び、その記号を解答欄にマークせよ。

- ① ウルムチ ② 西安 ③ 鄭州
④ 包頭 ⑤ 蘭州

(4) 文中の空欄 にあてはまる語句を以下の選択肢から1つ選び、その記号を解答欄にマークせよ。

- ① 延辺朝鮮族 ② 広西壮族 ③ 西藏
④ 新疆維吾爾 ⑤ 寧夏回族

