



は

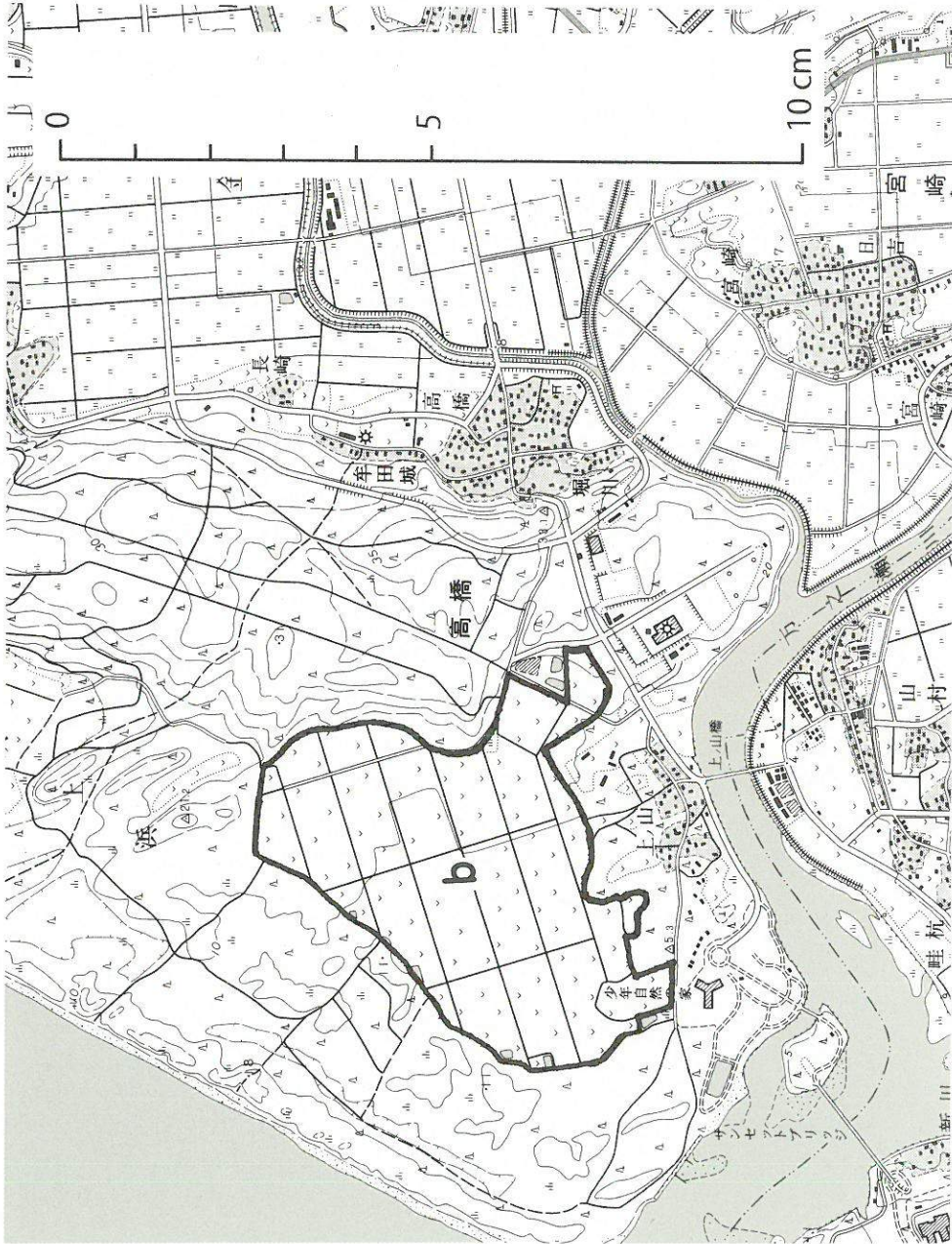
## 地 理 B 問 題

はじめに、これを読みなさい。

1. この問題用紙は 21 ページある。ただし、ページ番号のない白紙はページ数に含まない。
2. 解答用紙に印刷されている受験番号が正しいかどうか、受験票と照合して確認すること。
3. 監督者の指示にしたがい、解答用紙の氏名欄に氏名を記入すること。
4. 解答は、すべて解答用紙の所定欄にマークするか、または記入すること。所定欄以外のところには何も記入しないこと。
5. 問題に指定された数より多くマークしないこと。
6. 解答は、必ず鉛筆またはシャープペンシル(いずれも HB・黒)で記入すること。
7. 訂正する場合は、消しゴムできれいに消し、消しくずを残さないこと。
8. 解答用紙は、絶対に汚したり折り曲げたりしないこと。
9. 解答用紙はすべて回収する。持ち帰らず、必ず提出すること。ただし、この問題用紙は、必ず持ち帰ること。
10. 試験時間は 60 分である。
11. マーク記入例

良い例	悪い例
	

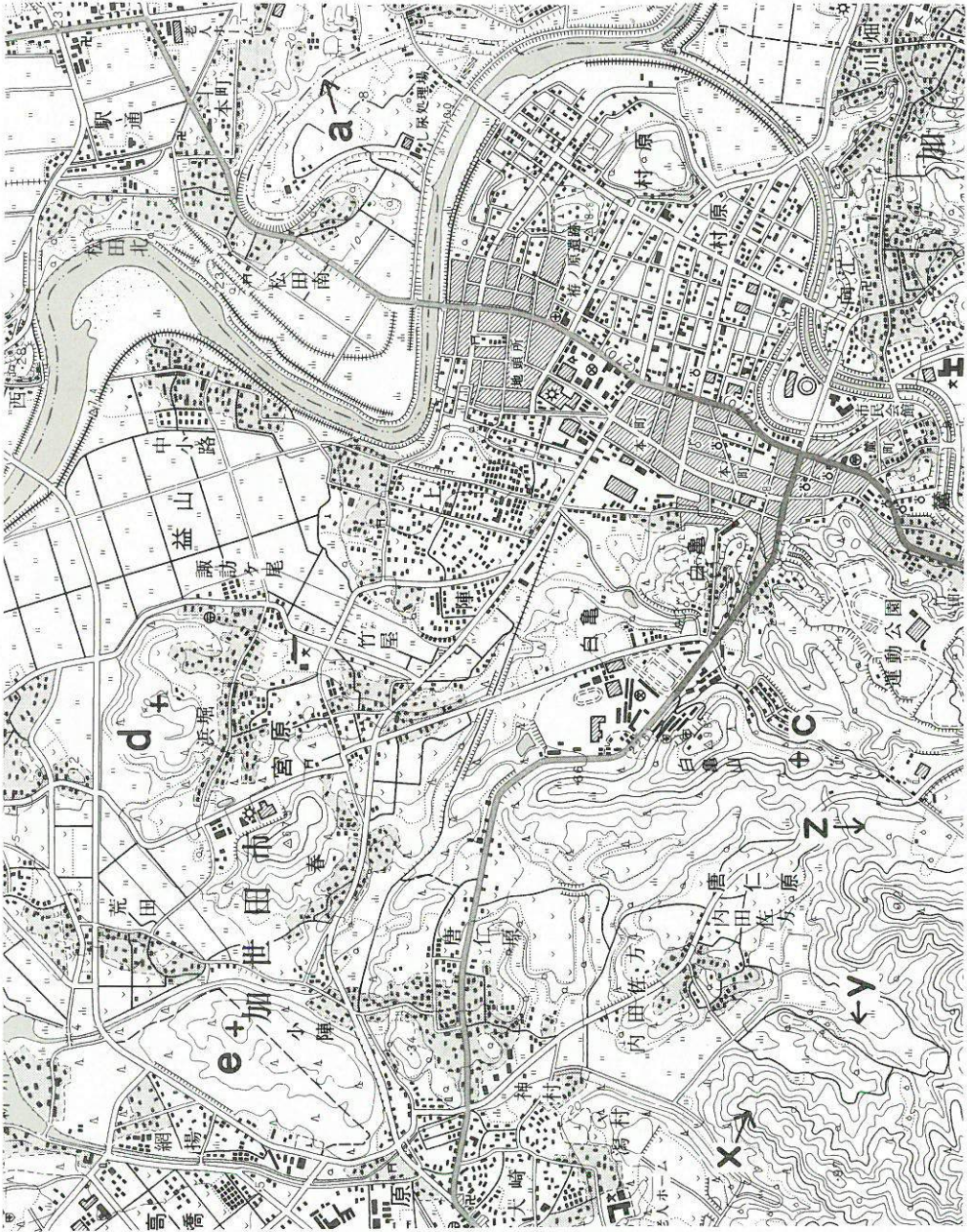
〔 I 〕 A 図は、国土地理院発行の 2 万 5000 分の 1 地形図(原寸大、平成 14 年および 15 年発行)の一部である。また、B 図には、A 図に含まれる都市の位置を K として示した。これらをよく見て、以下の設問に答えよ。なお、B 図は簡略化のため、主な島のみを描画した地図となっており、方位記号とスケールも省略してある。



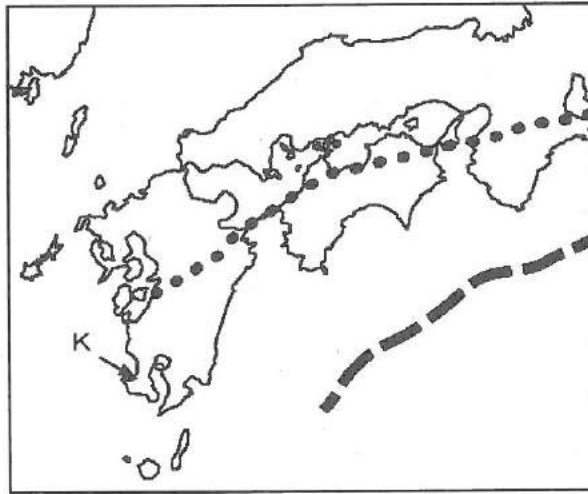
A-1 図



設問および紙面の都合上、A図は横向きに、かつ2ページに分けてA-1図およびA-2図として印刷されている。また、解答に際して、必要ならば図中のスケールを参考にする事。



A-2 図



B図

問 1 日本の地図およびその作製機関に関して述べた説明文のうち、誤っているものを次の①～⑤から1つ選び、その記号を解答欄にマークせよ。

- ① 戦前までの地形図の作製機関は、陸軍の陸地測量部であった。
- ② 国土地理院の地形図は、多面体図法によって描かれている。
- ③ 国土地理院では、地形図の作製のみならず、全国の空中写真を整備している。
- ④ 国土地理院は、国土交通省の管轄下に置かれた機関である。
- ⑤ 海の深さなどが示される海図は、海上保安庁によって作製されている。

問 2 A-2図上、 $x$ 、 $y$ 、 $z$ で示す等高線の種類の組み合わせとして、適切なものを次の①～⑥から1つ選び、その記号を解答欄にマークせよ。

	$x$	$y$	$z$
①	補助曲線	計曲線	主曲線
②	補助曲線	主曲線	計曲線
③	計曲線	補助曲線	主曲線
④	計曲線	主曲線	補助曲線
⑤	主曲線	補助曲線	計曲線
⑥	主曲線	計曲線	補助曲線



問 3 A-1 図上、北西部の海岸に沿ってみられる標高 10~30 m 前後の細長い微高地は、どのような地形からなるか。その地形の名称とその成因について、解答欄の枠内に簡潔に記せ。

問 4 A-2 図上、a で示すように屈曲した平面形をもつ凹地の地形について述べた次の各文ア~ウの内容について、正誤を示した組み合わせとして適切なものを①~⑧から 1 つ選び、解答欄にマークせよ。

ア かつての万之瀬川の流路と考えられる。

イ こぶし大ほどの大きさの角ばった礫を主体とする土地である。

ウ 成因を同じくする地形が、A-1 図および A-2 図の範囲内にほかにもみられる。

	ア	イ	ウ
①	正	正	正
②	正	誤	正
③	正	正	誤
④	正	誤	誤
⑤	誤	正	正
⑥	誤	誤	正
⑦	誤	正	誤
⑧	誤	誤	誤

問 5 A-1 図上、b で示す範囲の畑地の面積として最も近いものを次の①~⑤から 1 つ選び、解答欄にマークせよ。

- ① 0.1 km<sup>2</sup>                      ② 0.5 km<sup>2</sup>                      ③ 1 km<sup>2</sup>  
 ④ 5 km<sup>2</sup>                          ⑤ 10 km<sup>2</sup>

問 6 A-2 図上、「白亀山」の南のピーク c から、d、e 地点は見通すことができるかどうかについて、適切なものを次の①～④から 1 つ選び、解答欄にマークせよ。なお、この設問では建造物や植生等の土地被覆を考慮しないものとする。

- ① d、e ともに見通せる                      ② d のみ見通せる  
③ e のみ見通せる                              ④ d、e ともに見通せない

問 7 A-2 図の南部を占めるこの都市 K には、多くの公的機関が存在するが、A-1 図および A-2 図の範囲内でみられないものを次の①～⑤から 1 つ選び、解答欄にマークせよ。

- ① 警察署      ② 官公署      ③ 裁判所      ④ 气象台      ⑤ 保健所

問 8 都市 K とほぼ同じ緯度に位置する北半球の都市として適切なものを 1 つ選び、その記号を解答欄にマークせよ。

- ① コルカタ                      ② シカゴ                      ③ バグダッド  
④ ホノルル                      ⑤ マドリード

問 9 都市 K を流れる万之瀬川の上流域には、シラスと呼ばれる地層からなるシラス台地が分布している。このシラスおよびシラス台地について述べた説明文のうち、誤っているものを次の①～⑤から 1 つ選び、その記号を解答欄にマークせよ。

- ① シラスは火砕流に由来し、乳白色を呈する堆積物である。  
② シラス台地は根菜類の栽培に適している。  
③ シラス台地では水流によって急崖が形成されやすく、その崖下での土砂災害の危険性が高い。  
④ 九州のシラスが堆積した時代は更新世である。  
⑤ シラスを噴出してシラス台地を形成したのは雲仙火山である。

問10 西日本の地体構造について述べた次の《説明文》中、空欄  ～  
 に入る適切な語句をそれぞれ解答欄に記せ。また、,  
 に入る適切な語句を《選択肢》の①～⑤からそれぞれ1つずつ選  
び、解答欄にマークせよ。

《説明文》

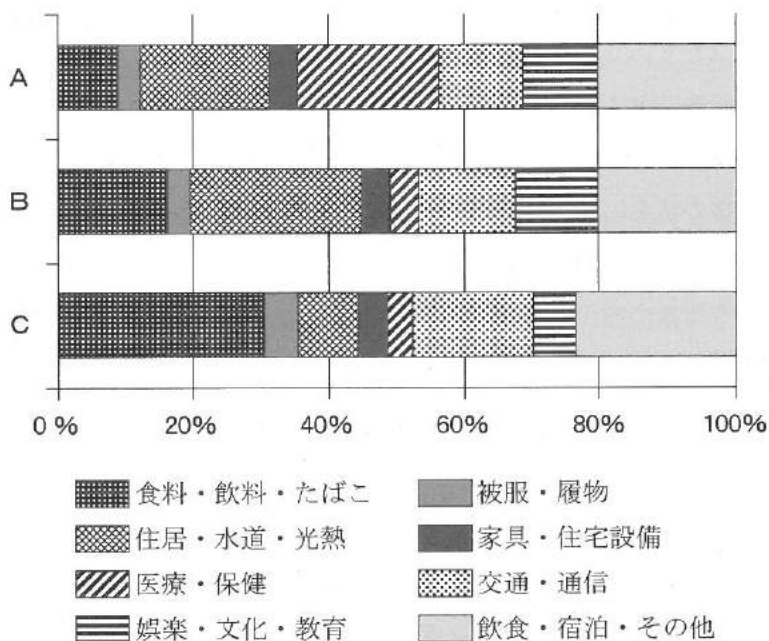
B図上、九州・四国および紀伊半島を通る点線は  と呼ばれる地  
質境界であり、外帯と内帯とに分ける境界でもある。また、日本の沖合を通  
る破線で示すのは  と呼ばれる舟状海盆であり、 プレー  
トが地球内部へ沈み込む場所である。プレートテクトニクスの観点でこれと  
同様の状況におかれているのは  などである。このような場所を震  
源とする地震はマグニチュード8以上のものとなることがあり、それにとも  
なう津波の発生が懸念される。日本では、2011年東北地方太平洋沖地震に  
よる津波被害や、それ以前では1993年に北海道の  島で生じた津  
波被害が記憶に新しい。

《選択肢》

- ① アフリカ大陸南西部沿岸域      ② ハワイ諸島  
③ アイスランド周辺                      ④ 小アンティル諸島周辺  
⑤ カリフォルニア半島
- ① 礼文      ② 利尻      ③ 奥尻  
④ 天売      ⑤ 焼尻

〔Ⅱ〕 以下の設問に答えよ。

問 1 家計消費支出額の構成は国によって大きく異なり、人びとの生活を理解する指標となる。下図は日本、アメリカ、タイの家計消費支出の構成を示したものである。A、B、Cに該当する国名の組み合わせのうちから正しいものを1つ選び、その記号を解答欄にマークせよ。

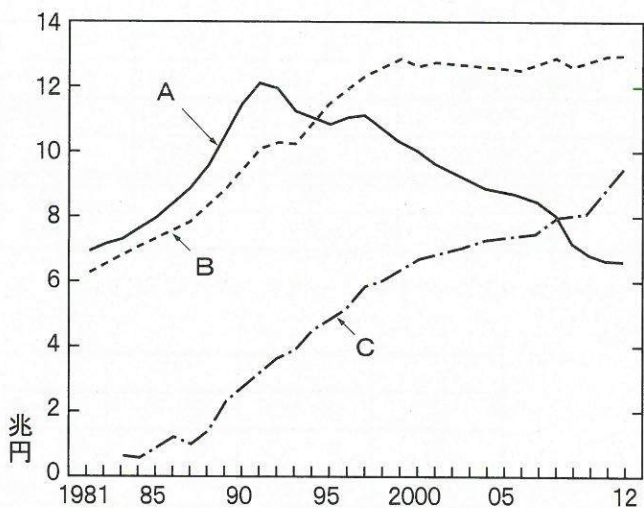


(「データブック国際労働比較 2014」をもとに作成)

	A	B	C
①	日本	アメリカ	タイ
②	日本	タイ	アメリカ
③	アメリカ	日本	タイ
④	アメリカ	タイ	日本
⑤	タイ	日本	アメリカ
⑥	タイ	アメリカ	日本



問 2 経済や生活の水準が向上すると、人びとは様々な商品やサービスを消費の対象として求めるようになり、また生活スタイルも多様化して、新しいタイプの商業施設が登場するようになる。下図は、日本における百貨店、大型スーパー、コンビニエンスストアの販売額の推移を示したものである。A、B、Cに該当する商業施設の組み合わせのうちから正しいものを1つ選び、その記号を解答欄にマークせよ。



(『国勢図会 2013/14』より)

	A	B	C
①	百貨店	大型スーパー	コンビニエンスストア
②	百貨店	コンビニエンスストア	大型スーパー
③	大型スーパー	百貨店	コンビニエンスストア
④	大型スーパー	コンビニエンスストア	百貨店
⑤	コンビニエンスストア	百貨店	大型スーパー
⑥	コンビニエンスストア	大型スーパー	百貨店

問 3 交通・輸送機関の発達は流通形態や人々の買物行動の変化をもたらし、商業施設の立地にも大きな影響を与えた。下表はショッピングセンターの立地を、都市の中心(中心市街地)、周辺(中心市街地の隣接地)、郊外(都市郊外の住宅地・農業地)に分け、開設時期別に立地数の推移を示したものである。表中のA、B、Cに該当する立地環境の組み合わせのうち正しいものを1つ選び、その記号を解答欄にマークせよ。

	A	B	C	計
1969年以前	16	46	58	120
1970-79年	161	110	145	416
1980-89年	258	145	155	558
1990-99年	633	227	143	1003
2000-09年	577	165	111	853

(日本ショッピングセンター協会『わが国SCの現況』をもとに作成)

	A	B	C
①	中心	周辺	郊外
②	中心	郊外	周辺
③	周辺	中心	郊外
④	周辺	郊外	中心
⑤	郊外	中心	周辺
⑥	郊外	周辺	中心

問 4 近年、テレビや新聞・雑誌を通じた通信販売、パソコンやモバイルフォンからのネットショッピングが急速に普及している。以下の文章を読み、空欄 **A** ~ **D** にあてはまる記号を選択肢からそれぞれ 1 つ選び、解答欄にマークせよ。また、最終的に Geo 氏の手元に品物が届いた日時を解答用紙の裏面に記せ。

アメリカ東海岸にあり、独立宣言が起草された都市として有名な **A** に住む Geo 氏は、パソコンを注文するため、2月15日の20時にメーカーの注文受付窓口で電話をかけた。電話はインドのシリコンバレーともよばれる **B** にあるカスタマーセンターにつながり、そこで欲しい機種仕様の仕様を詳しく述べると発注書が作成され、即座にマレーシアの **C** にある輸出加工区の工場にメールで転送された。工場では、翌朝までに部品の調達が完了すると、その日のうちに組立が完了、夕方出荷し、24時発の貨物専用便の航空機に積み込んだ。その貨物便は4時間かけて台湾の台北に到着し、そこで積み替えて13時発の貨物便に載せ、16時間かけてアメリカ中西部のミシシッピ川河岸にある **D** に到着した。そしてそこから国内便の航空機とトラックに積み替えて配送し、24時間後には無事 Geo 氏の手元に品物が届いた。

- A**
- |              |            |
|--------------|------------|
| ① ニューヨーク     | ② フィラデルフィア |
| ③ ボストン       | ④ ボルティモア   |
| ⑤ ワシントン D.C. |            |
- B**
- |          |         |           |
|----------|---------|-----------|
| ① コルカタ   | ② チェンナイ | ③ ハイデラバード |
| ④ バンガロール | ⑤ ムンバイ  |           |
- C**
- |         |          |          |
|---------|----------|----------|
| ① ジュロン島 | ② ビンタン島  | ③ プーケット島 |
| ④ ペナン島  | ⑤ ランカウイ島 |          |
- D**
- |          |            |
|----------|------------|
| ① アトランタ  | ② シカゴ      |
| ③ セントルイス | ④ ニューオーリンズ |
| ⑤ ミネアポリス |            |



問 5 商業施設の立地変化は、産業の空洞化ともあいまって、都心部の衰退をもたらした。そのため、地域経済の不振に苦しむ各都市では、新しい産業を興したり、都市の魅力をアピールしたりすることで、都心部の活性化に努めている。下記の(1)~(5)は、活性化に成功した都市を説明したものであるが、それぞれに該当する都市名を、解答用紙の裏面に記せ。

- (1) アメリカ・ペンシルヴェニア州にあるこの都市は、かつては五大湖沿岸の鉱産資源と水運を活かして鉄鋼業が栄えたが、1980年代になると、資源の枯渇や外国企業との競争に敗れて鉄鋼業は衰退に転じ、地域経済は大きな打撃を受けた。しかしその後、世界レベルの大学が集まる学術都市の人材と技術の集積を生かして、ICT産業やバイオテクノロジーなどの先端産業が立地し、地域経済は活気を取り戻した。
- (2) スペイン・バスク州にあるこの都市は、かつて重工業が発展したが、1970年代後半になると重工業の衰退とともに都市は斜陽化した。その後、再生を賭けて世界的に著名な美術館を誘致し、あわせて空港や道路・鉄道などのインフラの整備や再開発に取り組んだ。その結果、この都市への観光客が急増し、その直接的な経済効果に加え、住民が自ら暮らす都市や地域に対する誇りを回復することができた。
- (3) イギリス・スコットランドにあるこの都市は、産業革命で隆盛した地域として栄華を誇ったが、第2次大戦後に主力産業が衰退すると、失業者が市内にあふれて社会問題化した。1980年代になり、分野横断的な連携体制を構築し、美術館や博物館などの文化施設を建設、学会や国際会議などの招致に精力的に取り組んだ。その結果、かつて工業都市だったこの都市は、いまや最先端の文化・芸術を創造する都市へと変貌し、1990年には「欧州文化首都」に選ばれた。
- (4) ドイツ・バーデン＝ヴュルテンベルク州にあるこの都市は、環境政策で先進的な取り組みをしている都市であり、世界の「環境首都」として知られる。きっかけは1970年代に、酸性雨によってシュヴァルツヴァルトが枯死の危機に瀕し、また近郊に原子力発電所の建設計画が持ち上がったことであった。自然エネルギーの利用を推進し、大気汚染対策として都心への

自動車乗り入れを制限して路面電車(LRT)の路線を強化し、パークアンドライドを整備するなどの政策を行った。

- (5) ブラジル・パラナ州にあるこの都市は、1960年代頃までは普通の地方都市であったが、その後策定した先進的な都市政策が功を奏し、ブラジルでも有数の富裕な都市に躍進した。都市の乱開発を予防するための厳しい区画管理、市街地中心部における交通量(自動車)の抑制、旧市街の歴史的建造物の保全、便利で手頃な公共輸送システムの構築など、数々の都市政策への評価は高く、1996年にイスタンブルで開催された第2回国際連合人間居住会議で「世界一革新的な都市」として表彰された。

問 6 生活水準が向上すると、余暇に費やす時間が増加していくが、労働時間と余暇に使える休日日数は地域で大きな違いがある。下表は各国の2012年の年間休日数を示したものであるが、この表から、日本の休暇取得の特徴と、それによる観光施設や交通機関への影響について、解答用紙裏面の解答欄の枠内に収まる範囲で述べよ。

	週休日	祝祭日	年次有給休暇日数
日本	104	15	18.3
イギリス	104	9	24.7
ドイツ	104	10	30.0
フランス	104	9	30.0
イタリア	104	11	28.0

(「データブック国際労働比較2014」より)

〔Ⅲ〕 オセアニアに関する次の文章を読んで、以下の設問に答えよ。

オセアニアは1つの大陸と多数の島々からなる地域である。国旗のデザインはその国の歴史や風土を象徴したものとなっていることが多いが、オセアニアの国々にもその例外ではない。日本国政府が2014年の時点で国家として承認しているオセアニアの15か国の国旗を見ると、5か国の国旗に共通して、ある関係の深い国の国旗が組み込まれている。<sup>1)</sup> また、6か国の国旗には国の地理的位置を象徴するある同じものが組み込まれている。<sup>2)</sup>

大陸主体のオーストラリアは世界第6位の国土面積をもち、6つの州とそれぞれ1つずつの準州および特別区からなる。最南端の州である  の州都はホバートだが、その緯度は日本の札幌に相当する。オーストラリア大陸には乾燥した低平な土地が多く、大陸中央部のやや西よりに広大な乾燥地域があつて、その北部と南部にそれぞれ大きな砂漠が広がっている。また、大陸には年降水量が 500 mm を超える地域もあつて、とくに北岸と東岸、および西岸南部では部分的にさらに多くの降水量を記録している。<sup>3)</sup> オセアニア最大の島はニューギニアで、ここにオセアニアの最高峰がある。これに次ぐ面積の島はニュージーランドだが、その南島にはオセアニアの他地域では見ることのできない自然景観が存在する。<sup>4)</sup><sup>5)</sup><sup>6)</sup>

オーストラリアは農牧業製品の輸出が盛んである。2012年の統計データを見ると、輸出額が世界の上位5位に入る品目も少なくない。また、鉱産資源にも恵まれており、同じく2012年の統計データでは鉄鉱石と石炭の輸出額が世界第1位となっている。これらの主産地は、鉄鉱石に関しては大陸の  部、また石炭については大陸の  部となっている。オーストラリアは特殊で豊かな自然環境にも特徴があり、観光資源としても重要なものとなっている。その一例に北東部の沿岸にあるグレートバリアリーフがある。これは面積が約 35万 km<sup>2</sup> におよぶ世界最大のサンゴ礁であり、世界でもっとも多様性に富む生態系の1つであるといわれている。<sup>7)</sup><sup>8)</sup>



問 1 下線 1) について、組み込まれている共通した他の国はどこか。正しいものを下の①～⑤から 1 つ選び、その記号を解答欄にマークせよ。

- ① アメリカ                      ② イギリス                      ③ オランダ  
④ スペイン                      ⑤ フランス

問 2 下線 2) について、この「同じもの」は何か。正しいものを下の①～⑤から 1 つ選び、その記号を解答欄にマークせよ。

- ① 水平線                      ② 赤道                      ③ 太陽  
④ 南十字星                      ⑤ 日付変更線

問 3 上の文中の空欄  に適する地名を以下の①～⑤から 1 つ選び、その記号を解答欄にマークせよ。

- ① アーネムランド              ② ヴィクトリア              ③ クインズランド  
④ タスマニア                      ⑤ ダーリング

問 4 下線 3) について、これら 2 つの砂漠の名称をそれぞれ解答用紙裏面の解答欄に記せ(順不同)。

問 5 下線 4) について、この 3 地域はそれぞれ異なった気候区に属しており、降水の多い季節も異なっている。1 年間を通しての降水量の季節的配分の特徴について、「1 年を通して同じように雨が降る」というように簡潔に説明せよ。なお、説明に使用する季節名称と月の関係は、春(9 月～11 月)、夏(12 月～2 月)、秋(3 月～5 月)、冬(6 月～8 月)とする。また、3 つの地域の降水の特徴を代表する地点として、それぞれダーウィン、ブリズベン、パースを想定し、説明はそれぞれ 1 行で解答用紙の指定欄に記すこと。

問 6 下線 5) について、この島は 2 つの国の領土からなるが、片方はアジアに属している。そのアジアの国の首都がある島の名称を解答用紙裏面の解答欄に記せ。

問 7 下線 6) について、このような景観をつくっているもっとも重要な自然現象を、海岸と山地についてそれぞれ 1 語で解答欄に記せ。

問 8 下線 7) について、以下の①～⑤の品目のうち 1 つだけは輸出額が世界第 10 位までに入らない。それは何か、1 つ選んでその記号を解答用紙にマークせよ。

- ① 牛 肉                      ② 小 麦                      ③ とうもろこし  
④ 綿 花                      ⑤ 羊 毛

問 9 上の文中の空欄  と  にもっとも適する語を以下の①～⑤から 1 つ選び、その記号を解答欄にマークせよ。

- ① 東              ② 西              ③ 南              ④ 北              ⑤ 中 央

問 10 下線 8) について、グレートバリアリーフは 1981 年にユネスコの世界遺産に登録されている。オーストラリア大陸には 10 カ所以上の世界遺産があるが、そのうち内陸部にあるものの名称を 1 つあげて、その内容を解答用紙裏面の解答欄に収まる程度で簡潔に説明せよ。





問 2 下表は南アジア7か国(インド, ネパール, ブータン, スリランカ, モルディブ, パキスタン, バングラデシュ)の乳児死亡率と1人当たりのGNI(国民総所得), および男女別の識字率を示したものである。表中のX~Zは, モルディブ, バングラデシュ, パキスタンのいずれかに該当する。X~Zと国名の組み合わせとして正しいものを下の①~⑥から1つ選び, その記号を解答欄にマークせよ。

	乳児死亡率 (‰)	1人当たり GNI (米ドル)	識字率：男 (%)	識字率：女 (%)
X	9	5,720	98.4	98.4
Y	37	780	62.0	53.4
ブータン	42	2,130	65.0	38.7
スリランカ	11	2,580	92.6	90.0
インド	47	1,420	75.2	50.8
ネパール	39	540	71.1	46.7
Z	59	1,120	68.6	40.3

(『データブック・オブ・ザ・ワールド』2014より)

	X	Y	Z
①	モルディブ	パキスタン	バングラデシュ
②	モルディブ	バングラデシュ	パキスタン
③	パキスタン	バングラデシュ	モルディブ
④	パキスタン	モルディブ	バングラデシュ
⑤	バングラデシュ	モルディブ	パキスタン
⑥	バングラデシュ	パキスタン	モルディブ

問 3 気候区分も地形も多様なインド半島の農業について述べた下記の文章①～

⑤のなかから、正しいものを1つ選び、その記号を解答欄にマークせよ。

- ① デカン高原では、灌漑が普及したことで、綿花とジャウツの栽培が盛んに行われている。
- ② パンジャブ地方では、大規模な灌漑のもと、稲作が盛んに行われている。
- ③ アッサム地方は、高温多雨の気候であり、コメが主要な栽培作物となっている。
- ④ ヒンドスタン平原では、インダス川流域に沖積地が広がり、小麦栽培が卓越している。
- ⑤ インド半島南西部マラバル海岸では、水利に恵まれ、稲作が発達している。

問 4 南アジアには国境や民族、宗教をめぐる問題が存在する。次の文章①～⑥のうち正しいものを1つ選び、その記号を解答欄にマークせよ。

- ① スリランカでは独立後、シンハラ人優先の政策がとられ、それに反発するスリランカ・タミル人と武力対立が起きた。
- ② スリランカの人口は仏教徒のシンハラ人とシーク教徒のタミル人によって構成され、イスラム教徒は存在しない。
- ③ カシミールの住民の多くはヒンドゥー教徒であるが、藩王がイスラム教徒であったため、独立時にインドとパキスタンの両方が帰属を主張して紛争が起きた。
- ④ カシミールをめぐる、インドはパキスタン以外に中国とも国境問題を有しているが、中国との武力衝突には関わっていない。
- ⑤ バングラデシュの独立は、東パキスタンと西パキスタンの問題であり、宗教の異なるインドはこれに介入しなかった。
- ⑥ バングラデシュは、ブータンとネパールとも国境を接している。

問 5 インドの経済に関する以下の文章を読み、文中の空欄XとYに該当する語句を、下の①～⑥のなかからそれぞれ1つずつ選び、その記号を解答欄にマークせよ。

1947年の独立後、一部に社会主義を導入したインドは、Xをとって、すべての工業製品を国内で生産する工業化政策を進めたが、国際競争の蚊帳の外にあって製品の質的向上が望めず、経済は停滞した。しかし、1980年代から経済の部分的自由化を進め、また1991年からは積極的なYを実施した結果、近年では新興経済国群 BRICs の一角を担い、世界経済に影響を与えるまでに成長を続けている。

- ① 経済開放政策                      ② 混合経済体制                      ③ 集団工業体制  
 ④ 情報公開政策                      ⑤ デフレ経済政策                      ⑥ 保護経済体制

問 6 下表は BRICs 諸国の主要貿易品の輸出・輸入額に占める割合を、上位3品目まで示したものである。A～Dに該当する国名を、解答用紙裏面の解答欄に記せ。

(%)

国名	A		B		C		D	
輸出品	石油製品	18.1	鉄鉱石	16.3	電気機械	34.0	原油	33.2
	ダイヤモンド	10.7	原油	8.4	衣類	8.1	石油製品	17.7
	貴金属加工品	5.4	大豆	6.4	一般機械	7.9	天然ガス	13.2
輸入品	原油	26.4	一般機械	14.2	電気機械	22.7	一般機械	14.9
	金(非貨幣用)	11.6	電気機械	13.3	原油	11.3	電気機械	12.4
	電気機械	7.7	自動車	9.9	一般機械	8.7	自動車	12.2

(国連貿易統計 2012 より)

問 7 南アジア諸国の宗教人口構成は多様である。下表は南アジアの4か国の宗教人口構成の上位3つを示したものである。MとPに該当する国名を下の①～⑤のなかからそれぞれ1つずつ選び、その記号を解答欄にマークせよ。

(%)

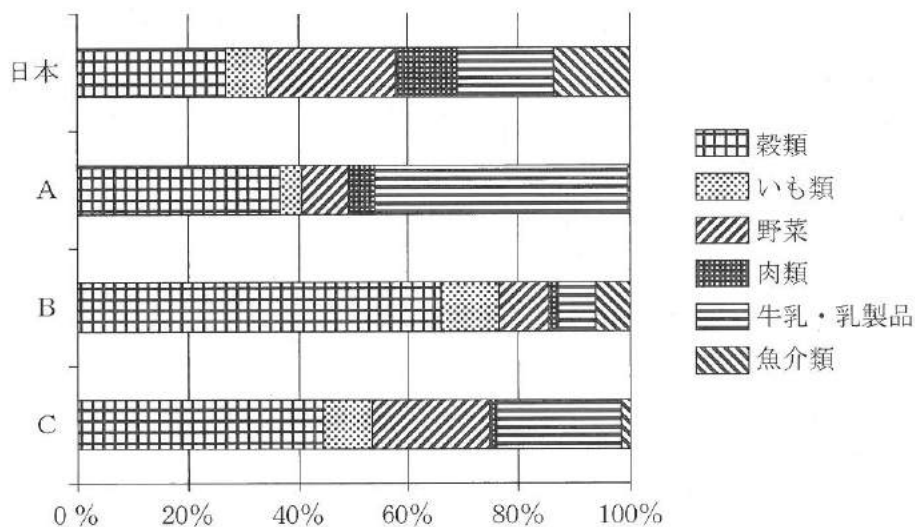
L		M		N		O		P	
ヒンドゥー教	81	ヒンドゥー教	81	イスラム教	96	イスラム教	90	ラマ教	74
イスラム教	13	仏教	11	キリスト教	3	ヒンドゥー教	9	ヒンドゥー教	25
キリスト教	2	イスラム教	4	ヒンドゥー教	1	仏教	1	その他	1

(『データブック・オブ・ザ・ワールド』2014より)

- ① ブータン                      ② ネパール                      ③ パキスタン  
 ④ バングラデシュ              ⑤ インド



問 8 下図は南アジア 3 か国と日本の 1 人当たり食料消費割合を示したものである。A～C はインド、バングラデシュ、パキスタンのいずれかである。A～C と国名との正しい組み合わせを①～⑥のなかから 1 つ選び、その記号を解答欄にマークせよ。



(FAO Food Balance Sheets, 2009 年)

	A	B	C
①	インド	バングラデシュ	パキスタン
②	インド	パキスタン	バングラデシュ
③	バングラデシュ	インド	パキスタン
④	バングラデシュ	パキスタン	インド
⑤	パキスタン	インド	バングラデシュ
⑥	パキスタン	バングラデシュ	インド