

2020 年度 明治大学

【文学部】

解答時間 60分



配点 100点

ろ

世界史 B 問題

はじめに、これを読みなさい。

1. この問題用紙は 14 ページある。ただし、ページ番号のない白紙はページ数に含まない。
2. 解答用紙に印刷されている受験番号が正しいかどうか、受験票と照合して確認すること。
3. 監督者の指示にしたがい、解答用紙の氏名欄に氏名を記入すること。
4. 解答は、すべて解答用紙の所定欄にマークするか、または記入すること。所定欄以外のところには何も記入しないこと。
5. 問題に指定された数より多くマークしないこと。
6. 解答は、必ず鉛筆またはシャープペンシル(いずれも HB・黒)で記入すること。
7. 訂正する場合は、消しゴムできれいに消し、消しくずを残さないこと。
8. 解答用紙は、絶対に汚したり折り曲げたりしないこと。
9. 解答用紙はすべて回収する。持ち帰らず、必ず提出すること。
10. 問題用紙は必ず持ち帰ること。
11. 試験時間は 60 分である。
12. マークシート記入例

良い例	悪い例
	

〔 I 〕 次の文章を読み、下記の問いに答えなさい。

人類の歴史における文字の登場は、話し言葉に比べてはるかに遅い。しかも、すべての文化に文字があるわけでもない。さらに文字には汎用性・機能性が求められるため、ある集団が独自の文字を生み出しても、交流や征服によって外来の文字に取って代わられることがある。

たとえば、古代メソポタミアの交易民族 人が用いた文字から、内陸通商路を通じて、多くの民族の文字が派生した。その一つが を記録したためイスラーム世界へ広まった 文字である。また 文字は中央アジアの交易民族に受け継がれて 文字となり、中央アジアから北東アジアで広く使われるようになった。この文字に改良を加えて自分たちの言葉を表記しようとしたのがトルコ系の 人である。彼らはその後イスラーム化して 文字を使用するようになった。一方 では、チベット文字を利用して 文字が作られたものの、それは普及しないまま廃れ、より書きやすい 文字を改良した 文字が残り、今も使用されている。そして 文字から、満州文字が派生している。

東アジアで広く用いられた漢字は上記の文字と系統をまったく異にする。漢字の起源はまだ明らかではないが、甲骨文字から発展して広く用いられるようになったと考えられる。さらに情報の伝達手段としてだけでなく、毛筆によって漢字を芸術的に表現する書道も生まれた。古代東アジア世界にとって漢字はほぼ唯一の文字であり、やがて周辺民族が国家体制を整えると、漢字を応用した独自の文字を作りだした。

近代になると、トルコ共和国のように政策として文字改革がおこなわれるようになる。^(e)東アジアの漢字文化圏でも、漢字の簡略化や廃止が試みられた。 は漢字をほぼ全廃し、 でも全廃を提唱する運動があったが、結局、簡略化する道を選択した。正字体の漢字の常用を保持しているのは などとなっている。

問 1 空欄(ア)～(キ)に入る最も適切な語句を答えなさい。

- | | |
|----------------|-----------|
| A. クルアーン(コーラン) | B. ウイグル |
| C. パスパ | D. アラム |
| E. ドラヴィダ | F. アラビア |
| G. モンゴル | H. アヴェスター |
| I. サンスクリット | J. ソグド |

問 2 下線部(a)に関連して、文字の代わりにキープとよばれる縄の結び目による記録法を使った文明を一つ選びなさい。

- | | |
|---------|------------|
| A. アステカ | B. インカ |
| C. マヤ | D. テオティワカン |

問 3 下線部(b)に関する説明として、誤りを含むものを一つ選びなさい。

- A. 殷では亀甲や獣骨に占いの結果を記録した。
- B. 文字の各地への普及は、各地にさまざまな字体を生み出した。
- C. 周王は王権の強化のため文字の統一をおこなった。
- D. 漢代には、文字の記録に木簡・竹簡が広く使われるようになった。

問 4 下線部(c)に関連して、唐代を代表する書家を一人選びなさい。

- | | | | |
|--------|--------|--------|--------|
| A. 欧陽脩 | B. 呉道玄 | C. 王羲之 | D. 顔真卿 |
|--------|--------|--------|--------|

問 5 下線部(d)に関連して、漢字を簡略化して作られた表音文字を一つ選びなさい。

- | | |
|---------|--------------|
| A. 契丹文字 | B. チューノム(字喃) |
| C. 仮名文字 | D. 女真文字 |

問 6 下線部(e)に関する説明として、誤りを含むものを一つ選びなさい。

- A. 文字改革の目的の一つは教育の普及だった。
- B. 文字改革は政教分離の一環でもあった。
- C. 文字改革によってキリル文字に統一された。
- D. 文字改革はケマル=アタテュルクによって推進された。

問 7 空欄(あ)~(う)に入る組み合わせとして最も適切なものを一つ選びなさい。

- A. (あ) 韓国とベトナム (い) 日本と中国大陸 (う) 台湾と香港
- B. (あ) ベトナムと香港 (い) 台湾と日本 (う) 中国大陸と韓国
- C. (あ) 韓国とベトナム (い) 台湾と香港 (う) 日本と中国大陸
- D. (あ) ベトナムと香港 (い) 日本と中国大陸 (う) 台湾と韓国

〔Ⅱ〕 次の文章を読み、下記の問いに答えなさい。

奴隷と呼ばれる身分は古代から存在し、奴隷売買や奴隷貿易もおこなわれてい
(a)た。アフリカでは、中世以来、ムスリム商人が東海岸の港湾都市で奴隷貿易に従事していたが、それは彼らが営むインド洋貿易の一部としてであった。

15世紀から大航海時代が始まると、ポルトガル人のアフリカ西海岸の探検航海
(b)やスペイン人による西まわり航路の開拓を背景に、新たに大西洋ルートの奴隷
(c)貿易が開始された。アフリカ西海岸で購入された黒人奴隷が、ヨーロッパ諸国の奴隷商人によってアメリカ大陸や西インド諸島へと大量に移送されるようになった。これらの地域で黒人奴隷が必要とされるようになったのは、16世紀にお
(d)ける中南米地域の植民地化に伴う過酷な労働や伝染病によって先住民人口が激減し、労働力が急速に不足するようになったからである。

アフリカでは、黒人諸王国が部族間抗争を繰り返し、奴隷狩りなどで得た他部族の黒人をヨーロッパ諸国の奴隷商人に売却した。大航海時代以前から栄えていたベニン王国や17世紀に成立した (ア) 王国などは、こうした奴隷の供給を大きな収入源としていたのである。奴隷貿易でアメリカ大陸や西インド諸島へ移送された黒人の数は、19世紀までに一千万人以上にのぼるといわれる。その結果、アフリカ社会の人的資源が急速に枯渇し、その被害は甚大であった。

この奴隷貿易は、武器や綿製品などの工業製品をヨーロッパから西アフリカに輸出し、それと交換で得た奴隷をアメリカ大陸や西インド諸島に移送し、そこから (イ) ・タバコ・綿花などをヨーロッパに持ち帰って売却するという大西洋三角貿易の一環としておこなわれたものであった。18世紀に最盛期を迎えるこの三角貿易は、とくにイギリスに莫大な利益をもたらし、その富が産業革命を推進するための資本蓄積に貢献したといわれる。

イギリスは1713年のユトレヒト条約で (ウ) を認められ、奴隷貿易にかかわった中西部の (エ) や南西部のブリストルなどの港湾都市は大いに栄えた。しかしながら、19世紀前半には、人道主義や福音主義の立場からウィルバーフォースらの尽力による奴隷貿易の廃止を経て、 (オ) 年には奴隷制度廃止法が制定された。この法は、自由主義的改革の一つとして実現したものであっ
(e)

た。

19世紀には、欧米のアフリカに対する関心が、次第に内陸部へ向かっていった。その先導役となったのは宣教師や探検家たちで、そのなかには伝道のために南部アフリカの内陸部を探検したリヴィングストンやベルギー王の支援でコンゴ地方を調査した (カ) も含まれている。こうした調査活動の後、アフリカ人の抵抗にもかかわらず、ヨーロッパ諸列強によるアフリカの植民地化が進められていくことになる。たとえば、イギリスはエジプト・スエズ運河地帯から、^(f) ケニアさらに南アフリカとを結ぶ縦断政策をとったのである。

問 1 空欄(ア)～(カ)に入る最も適切な語句を答えなさい。

問 2 下線部(a)に関連して、古代のスパルタでは、多数の被征服民を奴隷身分の農民としたが、彼らは何と呼ばれるか。

問 3 下線部(b)に関連して、この探検事業を支援し、重要な役割を果たした人物はだれか。

問 4 下線部(c)に関連して、コロンブスは、大地は球形で大西洋を西に向かって進むほうが「インド」への近道であるとする説を信じたといわれる。その説を唱えた天文・地理学者はだれか。

問 5 下線部(d)に関連して、先住民に対する不正を告発して、彼らの救済に努め、『インディアスの破壊に関する簡潔な報告』を著したドミニコ会の聖職者はだれか。

問 6 下線部(e)に関連して、19世紀前半イギリスの自由主義的改革に関する説明として、最も適切なものを一つ選びなさい。

- A. オコンネルらの努力で団結禁止法が廃止された。
- B. コブデンらの主導で産業資本家を保護する穀物法が廃止された。
- C. 第2回選挙法改正が実現し、腐敗選挙区が廃止された。
- D. 国教徒以外の者が公職につくことを禁じた審査法が廃止された。

問 7 下線部(f)に関連して、A～Dはそれぞれアフリカの植民地化に関連する出来事を古い順に並べたものである。最も適切なものを一つ選びなさい。

- A. 南アフリカ戦争 → モロッコ事件 → ファショダ事件
→ ベルリン会議
- B. モロッコ事件 → ベルリン会議 → ファショダ事件
→ 南アフリカ戦争
- C. ベルリン会議 → ファショダ事件 → 南アフリカ戦争
→ モロッコ事件
- D. ファショダ事件 → 南アフリカ戦争 → ベルリン会議
→ モロッコ事件

問 8 下線部(g)に関連して、この結果、イギリス帝国支配の基本線としてアフリカとインドを結びつける政策を固めることができたが、その政策は何と呼ばれるか。

〔Ⅲ〕 次の文章を読み、下記の問いに答えなさい。

メソポタミア周辺部から地中海東岸に広がる弓形の地域は、「肥沃な三日月地帯」と呼ばれ、この一帯で人類最古の農耕・牧畜遺跡が確認されている。初期の農耕は、雨水にたよる (ア) 農法で、麦類が栽培された。その後、メソポタミア南部で灌漑農法がおこなわれるようになり、人びとを統率するための権力体制が整備されていった。

紀元前 3000 年ごろ シュメール人 は、メソポタミア南部に、ウル、ウルク、(イ) などの都市国家をたてた。そこでは、河川の氾濫を予測し、灌漑工事のために数学や暦法などを発展させ、(ウ) 暦を使用した。これほど高度な文明を築いたシュメール人も、人口増加とそれに伴う灌漑の拡大による塩害をくいとめることができず、一説によれば大規模な環境破壊による小麦生産の激減は、シュメール社会を衰退に導いた。

そのため、以後のメソポタミア文明の諸国家は、中心拠点をメソポタミア中部・北部へ移動させた。9 世紀中ごろ、アッバース朝 支配下のメソポタミア南部では、黒人奴隷を中心とする下層民の乱が発生した。彼らは、塩害防止作業に労働力として動員されていたのであった。

10 世紀以降、イスラーム世界の各地でさまざまな農書が編まれたが、中国ではすでに 6 世紀に農書が著された。宋代の長江下流域では、湿地や湖の干拓、新田開発がすすみ、(イ) ベトナムから日照りに強い早稲の (エ) 稲がもたらされると、そこは大穀倉地帯となった。

中央アジアの トルキスタン地域 では、19 世紀後半にロシア帝国による南下政策がすすめられ、(エ) 綿花栽培が推進された。1960 年代にはソ連邦領内に帰属していた (オ) 海周辺で米・綿花の増産のため灌漑工事がすすめられ、二つの河川からこの海へ流れる水量の多くが灌漑水路へ流された。その結果、およそ 40 年間で (オ) 海の約 9 割が干上がった。

以上のことからわかるように、われわれ人類は、短期的な生産量の増大を目的とした灌漑・治水事業によって、結果的に農耕に不適な土壌を生み出す環境破壊を繰り返してきた。環境をテーマにした初の国際会議 がストックホルムで開催さ

れたのは、1972年のことであった。


問 1 空欄(ア)～(オ)に入る最も適切な語句を答えなさい。

問 2 下線部(a)に関連して、誤りを含むものを一つ選びなさい。

- A. 楔形文字を発明した。
- B. 六十進法を生み出した。
- C. 最後の王はサルゴン1世である。
- D. 1週7日制をはじめた。

問 3 下線部(b)など、古代メソポタミアの都市国家で建設されたジグuratとして、最も適切なものを図版の中から一つ選びなさい。


A.




B.



C.



D.



問 4 下線部(c)の都バグダードの説明として、最も適切なものを一つ選びなさい。

- A. ティグリス川上流域に築かれた。
- B. 城壁をもつ円形都市である。
- C. 「世界の半分」と呼ばれた。
- D. ハールーン=アッラシードが造営した。

問 5 下線部(d)に関して、(1)現存する中国最古の農書名とそれが著された時の王朝名を答えなさい。また、(2)明代に著され、当時の農業の知識を集大成した農書名とその著者名を答えなさい。

問 6 下線部(e)において、起こった出来事A～Dを、古い順に並べなさい。

- A. 遊牧ウズベクによってティムール朝が滅びた。
- B. カラ=ハン朝が成立した。
- C. ロシアがブハラ=ハン国を保護国にした。
- D. 乾隆帝がジュンガルを滅ぼした。

問 7 下線部(f)の会議名を答えなさい。

〔IV〕 下記の問いに答えなさい。

問 1 ウィーン会議について、以下の記述で正しいものを一つ選びなさい。

- A. タレーランの主張する正統主義によって、スペインでブルボン朝が復活した。
- B. イギリスは旧フランス領のスリランカの領有を認められた。
- C. ドイツ連邦は 25 の君主国と 4 つの自由市で構成された。
- D. メッテルニヒはヨーロッパと北米大陸の勢力均衡を主張した。

問 2 19 世紀前半のフランスについて、以下の記述で正しいものを一つ選びなさい。

- A. ルイ 17 世は、貴族と聖職者を重視する反動政治をおこない、国民の不満を生んだ。
- B. シャルル 10 世は、オスマン帝国に支配されていたチュニジアに遠征軍を派遣した。
- C. 自由主義者として知られたオルレアン家のルイ＝フィリップが国王に迎えられ、七月王政が成立した。
- D. 七月王政下のフランスでは、中小資本家にも選挙権が与えられた。

問 3 19 世紀半ばのロシアについて、以下の記述で誤りを含むものを一つ選びなさい。

- A. ニコライ 1 世は、コシュートの指導するハンガリーの民族運動を制圧した。
- B. アレクサンドル 1 世は、オスマン帝国内のギリシア正教徒の保護を理由に、露土戦争を起こした。
- C. 「ヴ＝ナロード(人民の中へ)」という標語の下で、都市の学生たちが民衆啓蒙のため農村に入っていった。
- D. アレクサンドル 2 世は、1861 年に農奴解放令を出したが、後に暗殺された。

問 4 A～Dはそれぞれ19世紀のアメリカ合衆国の出来事を、古い順に並べたものである。最も適切なものを一つ選びなさい。

- A. アメリカ＝メキシコ戦争 → アラスカ買収 → 南北戦争
→ モンロー教書
- B. アラスカ買収 → アメリカ＝メキシコ戦争 → モンロー教書
→ 南北戦争
- C. モンロー教書 → アメリカ＝メキシコ戦争 → 南北戦争
→ アラスカ買収
- D. 南北戦争 → モンロー教書 → アラスカ買収
→ アメリカ＝メキシコ戦争

問 5 帝国主義時代について、以下の記述で誤りを含むものを一つ選びなさい。

- A. イギリスは、1901年にオーストラリア連邦を自治領にした。
- B. ドイツが再保障条約を更新しなかったため、ロシアは露仏同盟を締結した。
- C. イタリアは、エチオピアに侵入したが、キレナイカで敗北した。
- D. イギリス、フランス、ロシアは、ドイツとオーストリアを共通の脅威として三国協商を締結した。

問 6 第一次世界大戦に関連して、以下の記述で誤りを含むものを一つ選びなさい。

- A. ドイツは、指定水路以外を航行する船舶を潜水艦で警告なしに撃沈した。
- B. イギリスは、ユダヤ人からの財政支援を期待して、ユダヤ人国家建設に好意的姿勢を示した。
- C. イギリス、フランス、イタリアは、サイクス・ピコ協定を締結した。
- D. ソヴィエト政権は、ブレスト・リトフスク条約を締結して、戦争から離脱した。

問 7 第一次世界大戦後の国際関係について、以下の記述で正しいものを一つ選びなさい。

- A. フランスは、ドイツの賠償金不払いを口実に、ルール地方を武力占領した。
- B. ロカルノ条約によって、ドイツと北欧諸国との国境の現状維持が約束された。
- C. フランスのブリアン外相とアメリカ合衆国のヒューズ国務長官は、不戦条約を締結した。
- D. ワシントン会議で締結された九カ国条約が発効し、日英同盟は解消された。

問 8 1920年代のソ連とアメリカ合衆国の国内情勢について、以下の記述で誤りを含むものを一つ選びなさい。

- A. スターリンは、重工業化を推進して、第一次五ヵ年計画を実施した。
- B. スターリンは、集団農場(コルホーズ)と国営農場(ソフホーズ)の建設を推進した。
- C. アメリカ合衆国は、民主党政権の下、大量生産・大量消費社会に変容していった。
- D. アメリカ合衆国は、東欧や南欧からの移民を制限した。

問 9 1930年代の世界的な経済不況に対する各国の対応について、以下の記述で正しいものを一つ選びなさい。

- A. アメリカ合衆国では、タフト・ハートレー法によって労働組合の結成が進んだ。
- B. イギリスでは、マクミランが挙国一致内閣を組織して、経済不況に対応した。
- C. フランスでは、社会党のブルムを首相とする人民戦線内閣が成立した。
- D. ドイツでは、シュトレゼマン大統領の死後、ヒトラーが独裁体制を確立した。

問10 1930年代の中国の情勢について、以下の記述で正しいものを一つ選びなさい。

- A. 長征を実行する過程で、共産党内で周恩来の指導力が高まった。
- B. 日本は1937年に柳条湖で鉄道を爆破し、それを口実に軍事行動を拡大した。
- C. 中国共産党は、八・一宣言を出して内戦停止や民族統一戦線結成を呼びかけた。
- D. 汪兆銘は、日本の傀儡政権である重慶政府の首班となった。

問11 アメリカ合衆国のベトナム政策について、以下の記述で正しいものを一つ選びなさい。

- A. アイゼンハワー政権下で、ベトナム共和国のゴ=ディン=ジエム大統領が暗殺される事件が起きた。
- B. アメリカ政府が発表したトンキン湾事件は、ジョンソン政権のねつ造であった。
- C. ニクソン政権下で北ベトナムへの爆撃に着手した。
- D. カーター政権下でベトナム(パリ)和平協定を締結し、アメリカはベトナムから撤退した。

問12 1980年代の国際情勢について、以下の記述で正しいものを一つ選びなさい。

- A. ゴルバチョフ共産党書記長が唱道したペレストロイカは、アメリカ合衆国との関係改善をおこなう外交戦略であった。
- B. レーガン大統領は、冷戦による経済的負担を軽減するため、中国との国交回復をおこなった。
- C. アメリカ合衆国や日本は、ソ連のアフガニスタン侵攻に抗議して、モスクワオリンピックをボイコットした。
- D. ブッシュ(父)大統領とゴルバチョフ共産党書記長は、マダガスカル島で冷戦の終結を宣言した。

