



政治・経済問題

はじめに、これを読むこと。

(注意事項)

1. この問題用紙は 18 ページまでである。ただし、ページ番号のない白紙はページ数に含まない。
2. これは、政治・経済の問題である。解答用紙が出願時に選択した科目のものであるかどうかを確認のうえ、解答すること。
3. 解答用紙の所定の欄に、必ず氏名を記入すること。
4. 解答用紙には受験番号が印刷されているので、受験番号が正しいかどうか受験票と照合し確認すること。
5. 解答はすべて「解答用紙」の解答欄に記入またはマークすること。解答欄以外のところには何も記入しないこと。
6. 解答は、必ず鉛筆またはシャープペンシル(いずれも HB・黒)で記入すること。
7. 訂正は消しゴムできれいに消し、消しくずを残さないこと。
8. 解答用紙は、絶対に汚したり折り曲げたりしないこと。
9. 文字は一点一画まで正確に書くこと。
10. 解答用紙は持ちかえらないこと。
11. この問題用紙は必ず持ちかえること。
12. この試験時間は 60 分である。
13. マークの記入例

良い例	悪い例
	

〔 I 〕 次の文を読んで、下の問に答えなさい。

近年、日本政治における論点の1つは、「脱官僚」という言葉に象徴されるように、政治家と官僚の関係である。この言葉は、官僚支配に対抗して民主主義をどのように実質化するかという問題意識の下に議論されてきた。この統治制度に関わる問題は、そもそも権力分立制度と深く関わっている。この制度の思想は、ロックの政府契約理論を基礎に、18世紀の現実からモンテスキューの著書『(A)』によって完成された。権力分立論では常備軍と官僚制によって支えられた絶対君主の行政権を制限し、国民に基礎をおく議会に立法権を与え、市民の自由と権利を確保するために司法権を確立し、これら三権の間での力の抑制と均衡がとえられた。

官僚と政治家の関係は民主主義体制における議院内閣制度のあり方を考える際にきわめて重要な問題である。官僚は、政策立案とその実施過程において、彼らの専門能力に力の源泉をおいているのに対し、政治家は、主権者である国民から直接選出された点に力の源をおいているからである。このため、民主主義体制下では、主権者である国民から付託を受けた政治家が、第一義的には、議員立法などにより、政策課題に対する解決策を作り出すほか、官僚機構を駆使して、政策立案し、同時に彼らに対する政治的指導を貫徹させるべきである。

こうした議論の背景には、国家の役割の変容やそれに伴う官僚機構の肥大化が挙げられる。19世紀においては、国家の役割はラッサールが呼んだ「(B)国家」という言葉の通り、警察や軍隊や裁判所などの機構により、治安の維持と私有財産の保護などに限定されていた。しかし、20世紀にはいり、資本主義経済の発展や都市化に伴い、社会資本の整備、公衆衛生及び教育の普及などが求められたことに加え、世界で初めて生存権が規定された(C)憲法が制定されるなど、人権の内容が拡大し、政府の役割が著しく大きくなった。これらの結果、いわゆる「(D)国家」が生まれた。また、第2次世界大戦後、福祉政策や所得再分配政策において国家の役割はさらに肥大化し、そのような国家は「福祉国家」とも呼ばれる状況となった。

しかし、1980年代にはいと、政府財政の悪化や行政機構の非効率性などの

理由から、大きな政府から小さな政府を目指す動きが、日本をはじめ、先進国でも活発化^(e)した。

さらに、1990年代にはいり、日本ではバブル経済崩壊以降の様々な政策の失敗や少子高齢化、グローバリゼーションといった新しい社会経済環境に対する政策の展開が急務となり、特に自民党政権が倒れて生じた政権交代^(f)の下では、内閣をはじめとする政治家主導による意志決定や政策運営が注目を集めた。

問 1 (A)～(D)にもっとも適する語句を入れなさい。

問 2 下線部(a)に関連して、立法権の説明としてもっとも適切な記述を1つ選びマークしなさい。

- ① 日本国憲法において、国会と地方議会がそれぞれ立法機関と規定されている。
- ② 日本では、予算の議決、条約の締結、内閣総理大臣指名において衆議院と参議院の意見の一致を見ない場合、両院議員総会の開催が義務づけられている。
- ③ 明治憲法下では、天皇の裁可を得て、法律案は効力を発することになった。
- ④ 日本では、衆議院にのみ国政調査権が認められ、立法に関して正しい情報の獲得が保証されている。
- ⑤ アメリカでは、議員立法に加えて、大統領に法案の提出権が認められている。

問 3 下線部(b)に関連して、基本的人権の説明としてもっとも適切な記述を1つ
選びマークしなさい。

- ① 1941年に発表された大西洋憲章では、「欠乏からの自由」、「ファシズムからの自由」など「4つの自由」が提唱された。
- ② 1945年の国連総会において「世界人権宣言」が採択された。
- ③ 日本政府は、1979年に「国際人権規約」のうち、B規約を除いて批准した。
- ④ 日本政府が女性差別撤廃条約を批准したことに伴い、学習指導要領が改訂され、家庭科が男女共修になった。
- ⑤ 定住外国人の国政選挙ならびに地方選挙での参政権は日本国憲法では否定されている。

問 4 下線部(c)に関連して、議院内閣制度の説明としてもっとも適切な記述を1
つ選びマークしなさい

- ① 内閣が議会に対して責任を負う議院内閣制度は、フランスでその原型が作られた。
- ② 日本の閣議は内閣総理大臣が主宰し、非公開による秘密会議の形でおこなわれる。
- ③ 日本の内閣制度は明治憲法の発布と同時に導入された。
- ④ 日本国憲法では、閣議は全会一致の原則で決議することが規定されている。
- ⑤ イギリスでは、野党はシャドー・キャビネット(「影の内閣」)を作り、選挙を行うことが義務づけられている。

問 5 下線部(d)に関連して、官僚機構の説明として適切でないものを1つ選びマークしなさい。

- ① 公職の任命を政治党派的な利害関係から決定する政治慣習を獵官制度と呼ぶ。
- ② マックス＝ウェーバーは規則による配分、専門的資格に基づく任用などが近代的な官僚制の要件であると指摘した。
- ③ 官僚機構を中心とする行政権を主権者が監視する制度として設けられるのがオンブズマン制度である。
- ④ 戦後の日本では、地方行政において政治的要素を強めるために、副知事(助役)や出納長(収入役)の任命が政治的任用によって行われた。
- ⑤ 現在、日本の公務員のうち警察・消防には団体交渉権、団結権、争議権という労働三権が認められていない。

問 6 下線部(e)に関連して、1980年代以降の行政改革の説明として、もっとも適切なものを1つ選びマークしなさい。

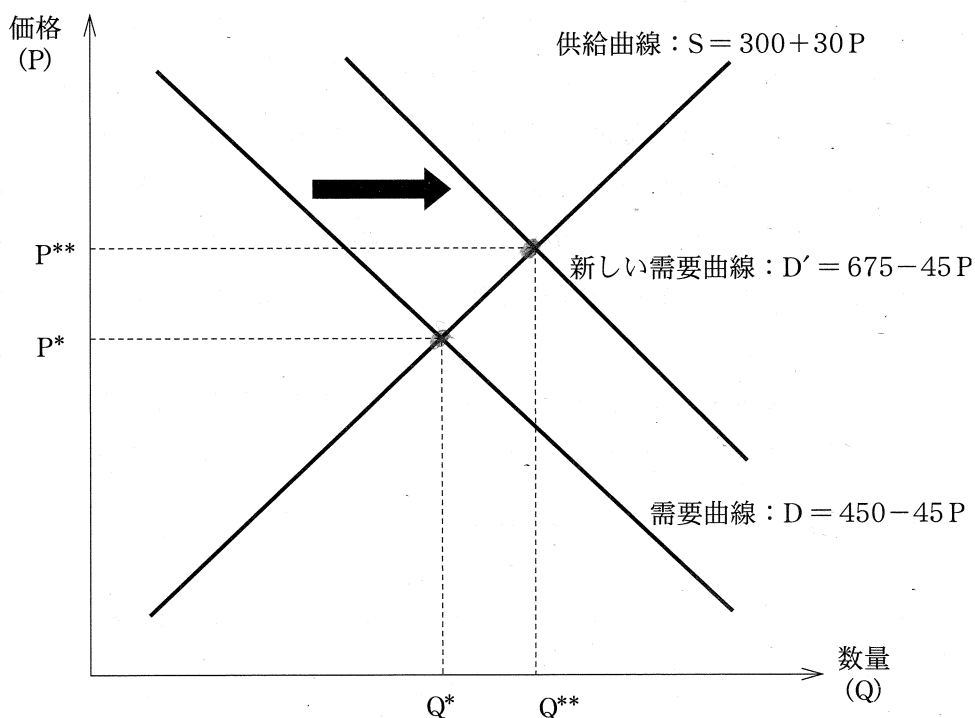
- ① 公企業の民営化政策の具体的手段としては、政府持株の株式市場への上場の他、経営者への売却(BOT)などがある。
- ② 中曽根康弘政権の下では、第2次臨時行政調査会によって5公社の民営化を中心とする行政改革が進められた。
- ③ 第2次橋本龍太郎政権は、行政改革会議を発足させ、中央省庁等改革関連法案を成立させた。
- ④ 小泉純一郎政権は、郵政事業を民営化し、持株、郵便、郵便局、郵貯の4社に分割した。
- ⑤ 行政改革の柱として、規制緩和、民間への事業委託、高等教育の民間委託、第4セクターの活用などが挙げられる。

問 7 下線部(f)に関連して、この政権交代前後の歴代政権の説明としてもっとも適切なものを1つ選びマークしなさい。

- ① 村山富市は、戦後2人目の社会党党首として首班を務め、自衛隊を合憲とする政策転換を行った。
- ② 海部俊樹は、公職選挙法の改正に着手し、小選挙区比例代表並立制度という選挙制度の改革を実現した。
- ③ 宮沢喜一は、消費税の導入を試みたために、自民党が分裂し、内閣不信任案が決議され、内閣総辞職を余儀なくされた。
- ④ 細川護熙は自民党、社会党、さきがけなど5政党の連立政権を組織した。
- ⑤ 橋本龍太郎は、1996年の総選挙において日本新党と政権をかけて争った。

〔Ⅱ〕 次の文を読んで、下の問に答えなさい。

現在の日本経済は、市民の自由な経済活動に基づいて市場メカニズム(市場機構)に希少資源の配分をゆだねる資本主義と呼ばれる制度に基づいている。資本主義経済において、われわれが日常生活で使用する財やサービスは市場を通じて取引される。その市場経済の仕組みを理解するのが経済学の役割である。経済学はアダム＝スミスの主著『国富論』(『諸国民の富』)によって産声をあげた。スミスは自由な競争に基づく市場メカニズムを「神の見えざる手」にたとえ、個々人が自分自身の利益のために行動したとしても、それが市場メカニズムを通じて社会全体として望ましい結果をもたらすことを主張した。経済学は市場を通じた財やサービスの配分メカニズムを考える学問であり、その基本原理は完全競争市場における需要と供給によって説明される。



例えば、ある市場における需要曲線と供給曲線が前ページの図のように描かれていたとする。このとき、均衡価格は P^* となり、取引量は Q^* となる。需要曲線と供給曲線はそれぞれ $D = 450 - 45P$, $S = 300 + 30P$ とする。ここで、何らかの理由で需要曲線 D が D' へと右に移動(シフト)したとする。新しい需要曲線は $D' = 675 - 45P$ である。そうすると、価格は (A) だけ上昇し、取引量は (B) だけ増加することになる。すなわち、需要と供給にアンバランスが生じた場合は価格を通じて調整されることになる。

^(c)完全競争市場において、以上で説明したような価格調整メカニズムが働く限り、市場に任せておくことは望ましい。しかし、市場メカニズムが必ずしもうまく働いてくれるとは限らない。例えば、1つの産業に1社しかいない状態である独占や少数の企業が市場を支配している (C)、経済主体の行動が市場取引を通じないで他の経済主体に影響を与える外部性などが存在する場合、需要と供給の価格調整メカニズムだけではうまくいかない。1929年に始まる世界恐慌を教訓として、ケインズは主著『(D)の一般理論』の中で、政府による市場への介入が経済状態の改善につながることを強く主張した。しかし、ケインズの主張には様々な方面から強い反論もある。その代表的人物が、フリードマンである。フリードマンは、^(d)政府介入の問題点を指摘し、自由放任主義の意義を強調した。この考え方は1980年代のアメリカやイギリスの政治経済に強い影響を与え、イギリスの (E) 首相やアメリカの (F) 大統領は、自由主義的発想から規制緩和に基づく市場主義を強く推し進めた。それ以降、市場経済はそれなりにうまく機能しているように見えたが、2007年のアメリカの住宅バブル崩壊に端を発する世界的金融危機により、振り子はまたケインズの経済学に振れてきた。しかし、最近のギリシャ危機では、ケインズ的な拡張的財政政策に伴う国債の増大が ^(e)ソブリン・リスクという形で新しい問題となっている。

問 1 (A) ~ (D) にもっとも適する数字もしくは語句を入れなさい。

問 2 下線部(a)に関連し、資本主義をめぐる経済思想の歴史の説明としてもっとも適切なものを1つ選びマークしなさい。

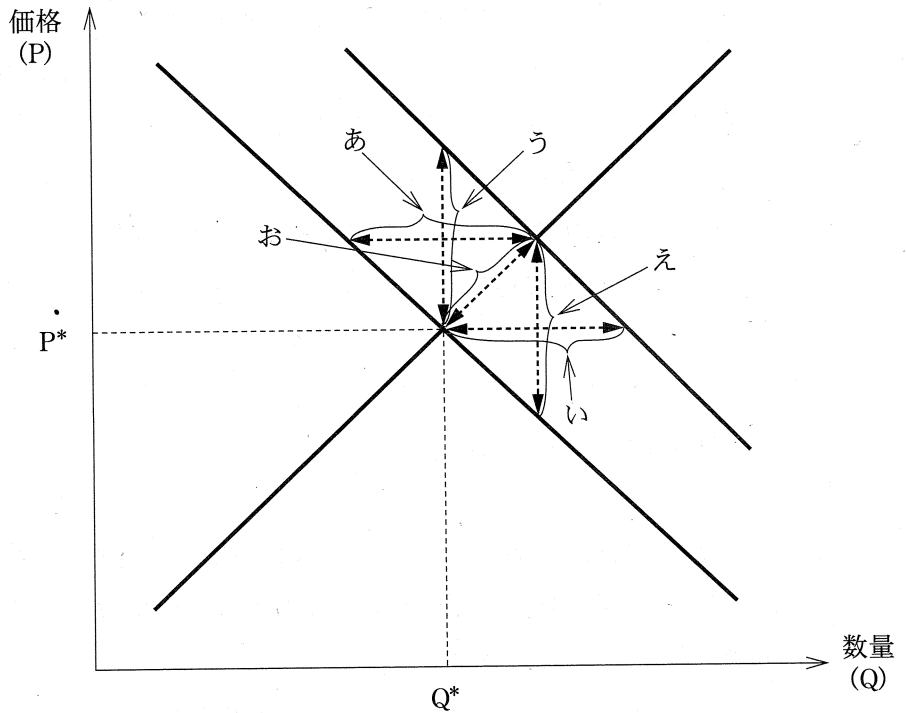
- ① 18世紀中頃、フランス人の宮廷医師ケネーは、貿易で金や銀といった富・財貨を獲得することによって国家を豊かにする重商主義を強く主張した。
- ② 19世紀後半のイギリスにおいて、トーマス＝マンが戦費調達的重要性を説いたことから、戦略的貿易政策という考え方が広まった。
- ③ ドイツ人のマルクスはエンゲルスとともに、主著『資本論』の中で、資本主義は資本家による労働者の搾取が進むことからいずれ修正資本主義を受け入れざるを得なくなると主張した。
- ④ 歴史学派に属するリストは、幼稚産業を保護する目的から自由貿易に反対し、当時、後進工業国であったドイツには保護貿易が必要であると訴えた。
- ⑤ セイは「需要はそれ自らの供給をつくりだす」と主張し、市場にゆだねる自由放任主義を支持した。

問 3 下線部(b)に関連し、ある市場において需要曲線が右に移動(シフト)する要因について、市場と要因の組み合わせとしてもっとも適切なものを1つ選びマークしなさい。

- | | |
|------------------|----------------|
| ① 市場＝自動車 | 要因＝生産コストの低下 |
| ② 市場＝アイスクリーム | 要因＝気温の低下 |
| ③ 市場＝電車の利用 | 要因＝高速道路無料化 |
| ④ 市場＝日本代表のユニフォーム | 要因＝日本代表のW杯での健闘 |
| ⑤ 市場＝コメ | 要因＝日照り |

問 4 下線部(c)に関連し、需要曲線が右に移動(シフト)したときに価格調整がスムーズに行われなかったとする。このとき、どこに超過需要が発生するか。下記の図に基づいて1つ選びマークしなさい。

- ① あ ② い ③ う ④ え ⑤ お



問 5 空欄(E)と(F)に入る組み合わせとしてもっとも適切なものを1つ選びマークしなさい。

- ① E=サッチャー F=カーター
 ② E=ブレア F=カーター
 ③ E=サッチャー F=レーガン
 ④ E=ブレア F=レーガン
 ⑤ E=サッチャー F=フォード

問 6 下線部(d)に関連し、フリードマンの説明としてもっとも適切なものを1つ
選びマークしなさい。

- ① 貨幣供給量は物価水準を変化させるだけで実物経済には影響を与えないとする貨幣数量説を支持し、貨幣供給量の増加率を一定とする金融政策ルール(k%ルール)を提唱した。
- ② 貨幣的景気循環理論を提唱したほか、主著『隷属への道』などによって計画経済や共産主義への警鐘を鳴らした、20世紀を代表するリバタリアンである。
- ③ 供給(サプライ)サイドを重視して、生産活動にとって非効率な規制の撤廃を主張した。また、減税が働く意欲を刺激して結果的に税収が拡大するというラフファーカーブの概念を提唱した。
- ④ 創造的破壊こそが経済成長・発展の原動力であると主張し、技術革新に基づく景気循環の理論を提唱した。起業家の役割を重視して、イノベーションこそが経済活動を動かしていく主役であると唱えた。
- ⑤ 主著『プロテスタンティズムの倫理と資本主義の精神』において、近代の資本主義を成立させたのは個人主義的行動ではなく禁欲的なプロテスタントの倫理観であったという矛盾を指摘した。

問 7 下線部(e)に関連し、最近の各国の財政状況について適切でないものを1つ
選びマークしなさい。

- ① 2000年以降の日本の基礎的財政収支(プライマリーバランス)は常に赤字であった。
- ② EU(欧州連合)だけではなくIMF(国際通貨基金)からも、ギリシャに対する金融支援策が打ち出された。
- ③ EUは各国の財政赤字を名目GDP比3%未満に抑えるようにルールを設定しているが、ドイツとフランスはかつてこのルールを守らなかったことがある。
- ④ EUのなかで財政状態の悪い国の一群としてPIIGSと呼ばれる国があるが、これはポルトガル、イタリア、アイルランド、ギリシャ、スペインの5カ国である。
- ⑤ 日本の長期政府債務残高(対名目GDP比)は100%を超えているが、ギリシャに比べると低い水準にある。

〔Ⅲ〕 次の文を読んで、下の問に答えなさい。

われわれは一般に、モノやサービスを他者との交換によって手に入れている。この交換を媒介しているのが貨幣である。歴史的に貨幣は、穀物、貝殻、石などの物品貨幣の形をとっていたが、現在わが国では日本銀行が発券する紙幣と政府^(a)が発行する硬貨が日常の取引に使われる。両者を合わせて現金通貨と呼んでいる。一方、現金通貨以外で支払手段の機能をもつものを預金通貨と呼んでいる。現代の経済社会においては、国家が通貨流通の安定のため^(b)に法律によって通貨に強制通用力を持たせている。これをとくに(A)通貨という。

さて、われわれの社会においては余剰貨幣を蓄えておこうとする主体と、手元に貨幣はないが、すぐ何かに使うために資金を必要としている主体がいる。この両者のあいだで資金を融通することを金融という。金融を仲介する機関には銀行、証券会社、保険会社、ノンバンク、政府系金融機関などがある。^(c)^(d)

銀行は家計からの預金を企業などに融資し、企業などから、家計に支払う預金利子より高い貸出利子を得ている。銀行の融資先企業などが倒産し、融資資金の回収が困難になった場合はそれらの融資は(B)となる。わが国においてはバブル経済の崩壊により、銀行などは多額の(B)を抱えた。この結果、銀行は融資先の選定に慎重にならざるを得なくなった。^(e)このようなりスクだけではなく、今日の金融機関は環境リスクをも考慮する必要がある。例えば銀行の融資先企業が排出した環境負荷物質により、自然環境や人体に被害を及ぼした場合、この融資先企業の経営は悪化し、銀行は融資資金の回収が困難になるなどの影響を受ける。1970年代以降の水俣病訴訟は、銀行が環境リスクに直面した有名な事例である。この事件の被告となった(C)株式会社は、患者への補償金などのために厳しい財務状態に陥り、融資をしていた銀行などは多額の融資資金の回収を断念した。現代の銀行は環境リスクも考慮して融資を行う必要がある。

近年では地球環境問題が世界的に議論される中で、1997年に「金融団体による環境及び持続可能な開発に関する(D)(UNEP)宣言(修正)」が採択された。^(f)日本でもこの宣言に署名する銀行がでてきており、関心が高まっている。銀行自らが、持続可能な社会の実現に向けてできることを考え、環境に配慮する企業を適切に評価し、低利子融資など財務面で支援するなどの動きもみられる。

問 1 (A) ~ (D) にもっとも適する語句を入れなさい。

問 2 下線部(a)に関連し、日本銀行の説明としてもっとも適切なものを1つ選びマークしなさい。

- ① 日本銀行は株式会社組織であり、株主には議決権が認められている。
- ② 日本銀行は市中の金融機関と企業を取引対象とし、個人とは取引しない。
- ③ 日本銀行は保有する金の量に応じて、日本銀行券を発行している。
- ④ 日本銀行は国債などの売買を通して、貨幣供給量や金利を調整している。
- ⑤ 日本銀行の政策委員会は、日銀総裁と都市銀行、地方銀行の代表で構成される。

問 3 下線部(b)に関連し、次の5つのうち預金通貨に分類されるものを1つ選びマークしなさい。

- ① 投資信託 ② 外国債券 ③ 当座預金
- ④ 定期預金 ⑤ 手形預金

問 4 下線部(c)に関連し、金融市場の説明としてもっとも適切なものを1つ選びマークしなさい。

- ① CP(コマーシャル・ペーパー)市場では、企業が発行する無担保の約束手形の売買が行われる。
- ② インターバンク市場での取引参加者は銀行に限定されている。
- ③ オープン市場には個人も含めて誰でも参加できる。
- ④ 証券の貸借が行われる場を長期金融市場という。
- ⑤ 短期金融市場では、資金の貸し借りの期間が1ヶ月未満の取引が行われる。

問 5 下線部(d)に関連し、各金融機関の説明としてもっとも適切なものを1つ選びマークしなさい。

- ① 銀行の手形割引とは、支払期日後の手形を買い取ることである。
- ② 証券会社は、証券売買の仲介を行い、証券の価格形成には携わらない。
- ③ 保険会社は、生命保険や損害保険などの加入者から保険金を受け取り運用している。
- ④ ノンバンクは、消費者を対象として預金・貸出業務を行っている。
- ⑤ 政府系金融機関には日本政策金融公庫などがある。

問 6 下線部(e)に関連し、わが国の銀行に関する説明としてもっとも適切なものを1つ選びマークしなさい。

- ① 銀行が、経営に問題のない企業への新規融資を断ったり、融資を引き上げたりするとクレジット・クランチが起きる可能性がある。
- ② 自己資本比率8%以上を達成していない銀行は国内外で銀行業務を行うことができない。
- ③ 1997年の日本債券信用銀行の破綻以降、破綻銀行は国有化されるようになった。
- ④ 銀行に対して公的資金が注入される際には、日本銀行が資金を直接融資する。
- ⑤ 銀行が経営破綻に陥った場合、預金者の資産は元本1000万円だけが保護される。

問 7 下線部(f)に関連し、2009年の国連気候変動首脳会合で、鳩山由紀夫首相(当時)は温室効果ガス削減目標について、2020年までに何%(1990年比)削減すると述べたか。次の5つから適切なものを1つ選びマークしなさい。

- ① 10%
- ② 15%
- ③ 25%
- ④ 30%
- ⑤ 35%

〔Ⅳ〕 次の文を読んで、下の問に答えなさい。

デヴィッド＝リカードは、アダム＝スミスの展開した(A)説を継承、発展させ、古典派経済学をより完成度の高いものにした。リカードは、その著書(ア)のなかで、比較生産費説という国際貿易の理論を示し、政府が保護も干渉も加えない自由貿易論を提唱した。

比較生産費説は、比較優位という考え方に基づいている。今、日本とアメリカという2国からなる世界を想定する。日本には500単位の労働量が存在し、工業品1単位の生産にも、農産品1単位の生産にも5単位の労働量が必要であるとする。一方、アメリカには600単位の労働量が存在するが、工業品1単位の生産には12単位の労働量が必要であり、農産品1単位の生産には6単位の労働量が必要であるとする。つまり、工業品についても農産品についても、個別には日本の方の生産性が高くなっている。

ここで、もし両国がもてる労働量を半分ずつ両商品の生産に充てた場合、両国を合わせた世界全体での工業品の生産量は(い)単位、農産品の生産量は(ろ)単位となるのに対し、両国がそれぞれ比較優位をもつ商品の生産にのみ労働を割り当てた場合には、世界全体での工業品の生産量は(は)単位、農産品の生産量は(に)単位となる。したがって、両国が比較優位をもつ商品の生産に特化し、分業を行うことにより、全体としてより多くの商品を生産することができる。

第2次世界大戦後は、関税と貿易に関する一般協定(GATT)のもとで、^(a)関税引き下げ、輸入制限撤廃といった自由貿易の推進が図られ、ラウンドと呼ばれる多角的交渉で、数度の関税引き下げが実施されてきた。1995年にGATTは世界貿易機関(WTO)に改組され、自由貿易推進を図る常設の国際機関として活動を始めた。日本も1960年代にIMF8条国に移行、さらには経済協力開発機構^(b)(OECD)に加盟し、貿易の自由化が本格化した。しかしながら、貿易の拡大は、しばしば相手国とさまざまな摩擦を引き起こす。特に日本とアメリカの間の貿易摩擦は、1960年代後半から始まり、1980年代以降、激化した。1993年に始まった(B)では、アメリカが日本の経常収支の黒字に対する数値目標の設定を主

張して交渉が難航し、日米関係は一時冷却状態になった。

WTO 体制のもとで、数度の新ラウンド交渉によって自由化の推進が図られたものの、農業問題などで各国の利害が対立するなど交渉は難航している。このため各国において、特定の国、地域を相手に個別に自由貿易協定(FTA)や(C)協定(EPA)を結ぶ動きが活発になっている。また、近隣地域において、貿易の自由化、および資本や労働力の移動の自由化を図り、相互に経済力を高めようとする地域統合の動きも活発である。もっとも進んだ地域統合の姿が欧州連合(EU)であると言えよう。EUの発展は、1952年の欧州石炭・鉄鋼共同^(C)体(ECSC)発足のもととなった1950年の(イ)プランに始まる。加盟国はローマ条約に調印した(ウ)カ国から始まったものの、2007年1月までに27カ国に増えている。こうした地域経済統合の動きに対しては、これを積極的に評価する見方と、経済のブロック化を招きかねないと危険視する見方の両方がある。

問 1 (A)～(C)にもっとも適する語句を入れなさい。

問 2 (い)～(に)に入る数字の組み合わせとして適切なものを1つ選びマークしなさい。

- | | | | | |
|---|-------|-------|-------|-------|
| ① | い 50 | ろ 50 | は 75 | に 100 |
| ② | い 50 | ろ 75 | は 75 | に 100 |
| ③ | い 75 | ろ 100 | は 100 | に 100 |
| ④ | い 75 | ろ 100 | は 125 | に 100 |
| ⑤ | い 100 | ろ 100 | は 125 | に 125 |

問 3 (ア)に入る書名を1つ選びマークしなさい。

- | | |
|----------------|---------------------|
| ① 『経済学及び課税の原理』 | ② 『外国貿易におけるイギリスの財宝』 |
| ③ 『経済学の国民的体系』 | ④ 『国民経済学原理』 |
| ⑤ 『純粋経済学要論』 | |

問 4 (イ)に入る人名を1つ選びマークしなさい。

- ① マーシャル ② フィリップ ③ ドロール
④ アデナウアー ⑤ シューマン

問 5 (ウ)に入る数字を1つ選びマークしなさい。

- ① 5 ② 6 ③ 7 ④ 8 ⑤ 9

問 6 下線部(a)に関連し、GATTに関する記述としてもっとも適切なものを1つ選びマークしなさい。

- ① GATTの第1回一般関税交渉は、ジュネーブにおいて行われ、23カ国が参加した。
- ② GATTの東京ラウンド交渉では、工業製品および農業製品の約6000品目について平均で約35%の関税引き下げが実現された。
- ③ GATTのウルグアイ・ラウンド交渉では、ダンピング防止協定と国際穀物協定の締結がおこなわれた。
- ④ GATTでは、提訴から対抗措置承認までの期間は標準で28ヶ月、最長で35ヶ月と定められていた。
- ⑤ GATTでは、紛争処理や協定の見直しなどについて、ネガティブ・コンセンサス方式がとられていた。

問 7 下線部(b)に関連し、OECDに関する記述としてもっとも適切なものを1つ選びマークしなさい。

- ① OECDは「先進国クラブ」と呼ばれ、本部はベルギーのブリュッセルにある。
- ② OECD加盟国は、同時にその下部組織である開発援助委員会(DAC)にも加盟することを義務付けられる。
- ③ 第2世銀と呼ばれる国際開発協会(IDA)は、OECDによって1970年に創設された。
- ④ OECDは、欧州経済協力機構(OEEC)を改組して1961年につくられた。
- ⑤ 韓国は2001年にOECDに加盟した。

問 8 下線部(c)に関連し、EUに関する記述としてもっとも適切なものを1つ選びマークしなさい。

- ① 2007年1月にブルガリアとポーランドが加盟したことによって、EU加盟国は27カ国となった。
- ② 2009年に新基本条約「リスボン条約」が発効し、初代大統領にベルギー首相が選ばれた。
- ③ EU全体でのGDPは、2009年時点でアメリカに次いで世界第2位である。
- ④ EUに加盟しているものの、共通通貨ユーロを採用していない国の中には、イギリス、デンマーク、スロベニア、ハンガリーなどがある。
- ⑤ EUは2009年にトルコの加盟申請を承認した。