

地 理 B 問 題

はじめに、これを読むこと。

(注意事項)

1. この問題用紙は16ページまでである。ただし、ページ番号のない白紙はページ数に含まない。
2. これは、地理Bの問題である。解答用紙が出願時に選択した科目のものであるかどうか確認のうえ、解答すること。
3. 解答用紙には受験番号が印刷されているので、受験票と照合して受験番号が正しいかどうか確認すること。
4. 解答用紙の所定の欄に、必ず氏名を記入すること。
5. 解答はすべて「解答用紙」の解答欄に記入またはマークすること。解答欄以外のところには何も記入しないこと。
6. 解答は、必ず鉛筆またはシャープペンシル(いずれもHB・黒)で記入すること。
7. 訂正は消しゴムできれいに消し、消しくずを残さないこと。
8. 解答用紙は、絶対に汚したり折り曲げたりしないこと。
9. 文字は一点一画まで正確に書くこと。
10. 解答用紙は持ちかえらないこと。
11. この問題用紙は必ず持ちかえること。
12. 試験時間は60分である。
13. マークの記入例

良い例	悪い例
	

〔 I 〕 次の文を読み、設問に答えなさい。

朝鮮半島は、海峡を挟んで九州の対岸にあるが、大地形を見ると日本のそれとは大きく異なっている。日本は環太平洋造山帯に位置するため地震が頻発するのに対して、朝鮮半島はユーラシア大陸東縁のの一部であるため、地震はほとんどない。また、自然環境を比較すると、梅雨があり、四季が明瞭なところは日本と似ているが、大陸性気候の影響を受けることで日本よりも冬の寒さが厳しく、^{a)}伝統的な床下暖房装置が現在も広く用いられている。

朝鮮半島と日本の関わりの歴史は長い。古くは**仏教**や**儒教**、^{b)}その他の大陸文化が朝鮮半島を経由して日本に伝えられ、日本が鎖国していた江戸時代でさえも、将軍の代替わりなどに**朝鮮通信使**が来日し、^{c)}交流が続けられた。しかし、1910年のによって、日本は朝鮮半島を植民地とした。日本の支配が解かれた第二次世界大戦後、朝鮮半島は米ソ両軍によって北緯度線で分断され、1948年には南側は大韓民国として、北側は朝鮮民主主義人民共和国として、別の道を歩むことになった。

1960年代末から1970年代にかけて、日本からの援助もあり、韓国は製鉄、造船、自動車、石油化学などの重化学工業を著しく発展させた。同時に、輸出指向型の経済政策で長期にわたる成長を遂げ、台湾、香港、シンガポールとともにと呼ばれるようになった。他方、韓国政府は1970年から運動を開始し、農村開発や環境浄化などにも取り組んでいった。1996年には世界貿易の拡大や発展途上国への援助などを目的とする国際機関であるに加盟し、先進国への仲間入りを果たした。

問 1 空欄ア, エ, カにあてはまるもっとも適当な語または数字をそれぞれ解答欄に記入しなさい。

問 2 空欄イにあてはまる適当な語を次のA～Dからひとつ選び, その記号をマークしなさい。

A 安定陸塊 B 火山帯 C 古期造山帯 D 新期造山帯

問 3 空欄ウにあてはまる適当な語を次のA～Dからひとつ選び, その記号をマークしなさい。

A 韓国併合 B 朝鮮戦争
C 日韓基本条約 D 日韓共同宣言

問 4 空欄オにあてはまる適当な語を次のA～Dからひとつ選び, その記号をマークしなさい。

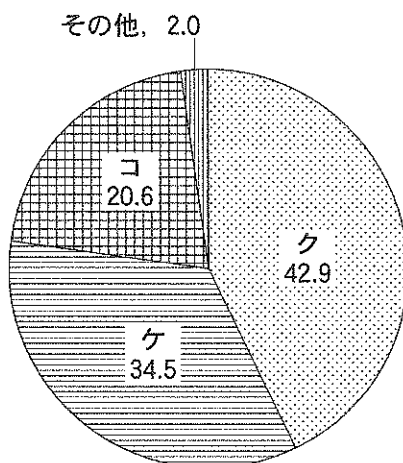
A APEC B ASEAN C NATO D NIEs

問 5 空欄キにあてはまる適当な語を次のA～Dからひとつ選び, その記号をマークしなさい。

A EEC B GATT C OECD D WTO

問 6 下線部 a) について, 熱源から出る暖気を床下に通す韓国の伝統的暖房装置の名称を解答欄に記入しなさい。

問 7 下線部 b) について、次の図 1 は 2005 年における韓国の宗教人口の内訳を、宗派別の割合で示したものである。空欄ク～コにあてはまる適当な組み合わせを下の A～F からひとつ選び、その記号をマークしなさい。



出所：外務省のウェブサイトより。数値は 2005 年。

図 1 韓国における宗教人口の内訳

	ク	ケ	コ
A	カトリック	プロテスタント	仏教
B	カトリック	仏教	プロテスタント
C	プロテスタント	仏教	カトリック
D	プロテスタント	カトリック	仏教
E	仏教	カトリック	プロテスタント
F	仏教	プロテスタント	カトリック

問 8 下線部 c) について、朝鮮通信使の出発地である釜山(プサン)の緯度にもっとも近い都市を次の A～F からひとつ選び、その記号をマークしなさい。

- | | | |
|--------|-------|-------|
| A 鹿児島市 | B 京都市 | C 札幌市 |
| D 仙台市 | E 新潟市 | F 福岡市 |

〔Ⅱ〕 次の文を読み、設問に答えなさい。

旧ソビエト連邦が崩壊し、国土面積は約4分の3になったが、ロシアは依然として、ユーラシア大陸北部に広がる^{a)}世界一国土面積の大きい国である。したがって、その国土の状況は短文で語りつくせるものではないが、自然条件を中心に大胆に簡略化して書くと、東経 **ア** 度付近のウラル山脈で、ヨーロッパ部とアジア部とに分けられるとされる。ヨーロッパ部の主な河川を挙げれば、**イ** 川は、黒海に続くアゾフ海に注ぎ、**ウ** 川はカスピ海に注ぐ。この地域のステップ気候域には、ウクライナから一部西シベリア南部までチェルノーゼム(黒色土)と呼ばれる肥沃な^{b)}土壤が広がっている。この地域の農業は、この土壤条件を活かした小麦などの穀物単作栽培が特徴的であり、その周囲では混合農業が盛んである。^{c)}シベリアを含めて、旧ソビエト連邦の時代から、都市住民の多くは **エ** と呼ばれる別荘プラス小農園を持ち、食料の一部を自給できるため、1990年代の経済混乱を乗り切ることができたと言われている。

ウラル山脈以東のシベリアの地域は、北極海に注ぐ三つの河川で大きくふたつの地帯に分けられる。西から、**オ** 川、**カ** 川、**キ** 川があり、**オ** 川と**カ** 川の間は世界最大級の低地帯、**カ** 川と**キ** 川の間は、おおむね高原地帯となっている。低湿地帯には、同国最大の**ク** 油田が存在し、BRICsと呼ばれるまでに復活・勃興^{ぼっこう}してきた現在の資源大国ロシアを支えている。シベリアの植生の多くは、針葉樹林帯で、**ポドゾル**^{d)}と呼ばれる土壤となっている。極寒のシベリア東部と北極海沿岸側はツンドラ地帯となっている。東部のアムール川は、部分的に中国との国境になっている国際河川である。^{f)}アムール川とウスリー川の合流地点に位置する **ケ** 市は、シベリア鉄道が通り、木材などの物資の集散地や地域随一の工業都市となっている。^{g)}サハリンを含む極東ロシア地域は低開発であったが、今後、豊富な埋蔵資源の開発が期待されている。

問 1 空欄アにあてはまるもっとも適当な数値を次のA～Eからひとつ選び、その記号をマークしなさい。

A 40 B 45 C 50 D 55 E 60

問 2 空欄イ、ウ、オ、カ、キにあてはまる河川名を次のA～Eからそれぞれひとつ選び、その記号をマークしなさい。

A ヴォルガ B エニセイ C オビ
D ドン E レナ

問 3 空欄エにあてはまる適当な語を次のA～Eからひとつ選び、その記号をマークしなさい。

A イグルー B ウィルタ C ゲル
D ダーチャ E ユルト

問 4 空欄クにあてはまる適当な地名を次のA～Eからひとつ選び、その記号をマークしなさい。

A オハ B ガワール C チュメニ
D バクー E マラカイボ

問 5 空欄ケにあてはまる適当な地名を次のA～Eからひとつ選び、その記号をマークしなさい。

A イルクーツク B ウラジオストク C ナホトカ
D ハバロフスク E ヤクーツク

問 6 下線部 a) について、ロシアは国境が陸続きの国が多い。ロシアと陸続きでない国を次のA～Eからひとつ選び、その記号をマークしなさい。ただし、ロシアの飛び地領土は対象外とする。

A エストニア B スウェーデン C ノルウェー
D フィンランド E ラトビア

問 7 下線部 d)について、旧ソビエト連邦は、鉄鋼など重工業に偏ってはいたが屈指の工業国でもあった。ソビエト連邦崩壊で、その時代の主要工業拠点・コンビナートのうち、数地域が周辺独立国の領土となったが、現在、ロシアに属さない工業拠点・コンビナートを次のA～Eからひとつ選び、その記号をマークしなさい。

- A アンガラ-バイカル B ウラル C 極 東
D クズネツク E ドネツ

問 8 下線部 e)について、ポドゾルの特徴を説明するもっとも適当な文を次のA～Eからひとつ選び、その記号をマークしなさい。

- A 水分蒸発で金属成分が表面に集積し、赤色で、やせた土壌。
B タイガの栄養を長年蓄積した、黒色の肥沃な土壌。
C 表層に薄い腐植層を伴い、下層は赤色を呈する、肥沃でない土壌。
D 表層に腐植層を伴い、下層は褐色を呈する、比較的肥沃な土壌。
E 有機物の分解が進まず、土壌中の化学成分が溶出した、灰白色の肥沃でない土壌。

問 9 下線部 f)について、アムール川河口付近とその河口の緯度がもっとも近い河川を次のA～Eからひとつ選び、その記号をマークしなさい。

- A コロラド川 B ドナウ川 C ハドソン川
D ライン川 E リオグランデ川

問10 下線部 g)について、1984年に開通した第二シベリア鉄道の別名を、次のA～Eからひとつ選び、その記号をマークしなさい。

- A サンタフェ鉄道 B タンザン鉄道 C チンツァン鉄道
D バム鉄道 E ベンゲラ鉄道

問11 旧ソビエト連邦から独立した共和国で、ソ連時代にチェルノブイリ原発があった国の現在の首都名①およびその北に接している国で原発事故で国土の4分の1が汚染されたとされる国の現在の首都名②をそれぞれ次のA～Eからひとつ選び、その記号をマークしなさい。

- A ヴォルゴグラード B キエフ C グダニスク
D ビリニュス E ミンスク

問12 下線部b)について、この土壌が大変肥沃である理由のひとつに氷河期に氷河の作用で形成された「レス」が挙げられる。「レス」の土壌の成因について、記述式解答欄に50字以内で述べなさい。

問13 下線部c)について、「てんさい」(砂糖大根・ビート)の生産量上位国であるロシアやフランス、ドイツなどのヨーロッパ諸国では、農法上の理由からてんさい糖を採る目的以外にも、「てんさい」を利用している。「てんさい」の利用について、農法と関係付けながら、解答欄に2行以内で述べなさい。

〔Ⅲ〕 次の文を読み、設問に答えなさい。

「人種のるつぼ」として知られているラテンアメリカは、メキシコ以南の中央アメリカ・南アメリカ地域の総称である。メキシコからアンデス山脈にかけては、マヤ・アステカ・インカ文明が栄え、もともとは先住民のインディオが住んでいた。16世紀、先住民はポルトガル人、スペイン人に征服され、後に奴隷としてアフリカの人々も連れてこられた。また、イギリス、ヨーロッパ系、日本を含むさまざまな国から移民を受け入れた歴史的背景もあり多様な人種によって構成されるようになった。しかし、先住民の影響は今でも大きく先住民の言語を公用語としている国もある。南アメリカでは大きく分けるとヨーロッパ系の住民は に住み、先住民は に居住している。

コーヒー栽培に適したブラジル高原南部の温帯地域は、 などの肥沃な土壌にめぐまれている。ブラジルに見られる大土地所有制に基づく大農園では、コーヒー、 や綿花などが栽培されている。一方、 はアルゼンチンの大土地所有制に基づく大牧場または大農園の名称である。

ペルー海岸地域における河川流域では、近代的な協同組合型の農業経営によって、 ・綿花などの輸出産品が生産されている。対照的にアンデス山脈の西側山岳地域では、伝統的な標高差を利用した階段状の耕地で 栽培が行なわれている。

はアルゼンチン・チリ両国の南部を指す地名であるが、アルゼンチン南部の地方名として用いられることが多い。チリとペルーの国境付近から南にのびるアンデス山脈西側の は年間雨量が世界でも記録的に少ないので知られている。また、2010年のチリ・コピアボ鉱山事故からの感動的な救出劇は記憶に新しい。

問 1 空欄アとイにあてはまる適当な文を次のA～Dからそれぞれひとつ選び、その記号をマークしなさい。

- A 人口密度の高い草原や耕地
- B 人口密度の低い草原や耕地
- C 人口密度の高いアマゾン川流域の熱帯林地域
- D 人口密度の低いアマゾン川流域の熱帯林地域

問 2 空欄ウにあてはまる適当な語を次のA～Dからひとつ選び、その記号をマークしなさい。

- A テラローシャ
- B テラロッサ
- C プレーリー土
- D レグール

問 3 空欄エにあてはまるもっとも適当な語を次のA～Dからひとつ選び、その記号をマークしなさい。

- A カカオ
- B さとうきび
- C ジャガイモ
- D バナナ

問 4 空欄オにあてはまる適当な語を次のA～Dからひとつ選び、その記号をマークしなさい。

- A アシェンダ
- B エスタンシア
- C コルホーズ
- D ファゼンダ

問 5 空欄カにあてはまるアンデス地域が原産地である農作物を次のA～Dからひとつ選び、その記号をマークしなさい。

- A カカオ
- B さとうきび
- C ジャガイモ
- D バナナ

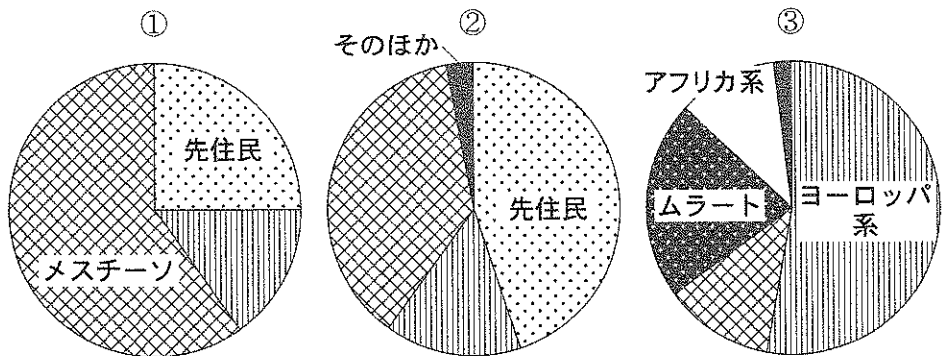
問 6 空欄クにあてはまる砂漠の正しい名称を次のA～Dからひとつ選び、その記号をマークしなさい。

- A アタカマ砂漠
- B ゴビ砂漠
- C タクラマカン砂漠
- D モハーヴェ砂漠

問 7 下線部 a)について、次のA～Dは、ラテンアメリカの国名と首都の組み合わせである。A～Dのうち、適当ではないものをひとつ選び、その記号をマークしなさい。

- A エクアドル=キト B ニカラグア=マナグア
C ハイチ=キングストン D ホンジュラス=テグシガルパ

問 8 下線部 b)について、次の図2の①～③は、それぞれブラジル、ペルー、メキシコのいずれかの国の人種構成を表している。①～③と国名との正しい組み合わせを、下のA～Fから選び、その記号をマークしなさい。



資料：世界年鑑 2005 年による

図 2

	①	②	③
A	ブラジル	ペルー	メキシコ
B	ブラジル	メキシコ	ペルー
C	ペルー	ブラジル	メキシコ
D	ペルー	メキシコ	ブラジル
E	メキシコ	ブラジル	ペルー
F	メキシコ	ペルー	ブラジル

問 9 下線部 c)について、ヨーロッパ系言語以外の言語も公用語である国を次のA～Dからひとつ選び、その記号をマークしなさい。

A ウルグアイ B コロンビア C ブラジル D ボリビア

問10 空欄キにあてはまる適当な地方名を解答欄に記入しなさい。

[IV] 次の文を読み、設問に答えなさい。

都市には政治・経済・文化などの多種多様な機能が集まっており、財やサービスを人々に提供する役割がある。このような機能を **ア** 機能と呼び、大きな都市ほどこの機能が大きい傾向がある。^{a)} 交通網が整備されることによって、都市周辺の地域における日々の通勤、通学、購買行動が支えられている。都市が周辺の地域に影響を及ぼす範囲を **イ** といい、特にその範囲の大きい中心都市のことを **ウ** と呼んでいる。

都市は、新しい情報の発信地でもある。 情報化社会では、大量の情報が収集さ^{b)}れ、また加工された情報が新たに発信されている。こうした情報に基づいて意思決定をする機能を **エ** 機能といい、都市にはその規模に応じた **エ** 機能が立地している。

イ の規模が大きくなると、その内部が機能によって分かれる傾向が表れる。こうした **イ** の内部構造を^{c)}3つの主要なモデルによって捉える考え方がある。その中央にはいずれも **オ** 地区が位置づけられている。この地区では **カ** 人口比率が極端に大きい。また、古くからの市街地は、開発から取り残されて荒廃し、**キ** 問題が生起しているところも多い。他方、荒廃した都市環境を整備して新たに再生する **ク** も世界各地で取り組みが見られる。**イ** の周辺部では、住宅地がさらに外延的に拡大する現象が進み、農地や森林が無秩序に開発される **ケ** 現象によって生活環境が悪化することもある。

問 1 空欄ア～ケにあてはまるもっとも適当な語を次の A～F からそれぞれひとつ選び、その記号をマークしなさい。

- ア A 中心業務 B 中心地 C 中枢管理
D 中枢都市 E 通勤圏 F 都市圏
- イ A 中心業務 B 中心地 C 中枢管理
D 中枢都市 E 通勤圏 F 都市圏
- ウ A インナーシティ B ウォーターフロント
C ジェントリフィケーション D スプロール
E メガロポリス F メトロポリス
- エ A 中心業務 B 中心地 C 中枢管理
D 中枢都市 E 通勤圏 F 都市圏
- オ A 中心業務 B 中心地 C 中枢管理
D 中枢都市 E 通勤圏 F 都市圏
- カ A 季節間 B 若年 C 女性
D 製造業就業者 E 昼夜間 F 老年
- キ A インナーシティ B ウォーターフロント
C ジェントリフィケーション D スプロール
E メガロポリス F メトロポリス
- ク A インナーシティ B ウォーターフロント
C ジェントリフィケーション D スプロール
E メガロポリス F メトロポリス
- ケ A インナーシティ B ウォーターフロント
C ジェントリフィケーション D スプロール
E メガロポリス F メトロポリス

問 2 下線部c)について、次の図3はその3つの主要なモデルを示しており、図3中のオ地区は、本文中の空欄オ地区である。また、サ～ス地区は、卸売・軽工業、高級住宅、低級住宅のいずれかである。図3中のサ～ス地区と地区名との正しい組み合わせを下のA～Fからひとつ選び、その記号をマークしなさい。

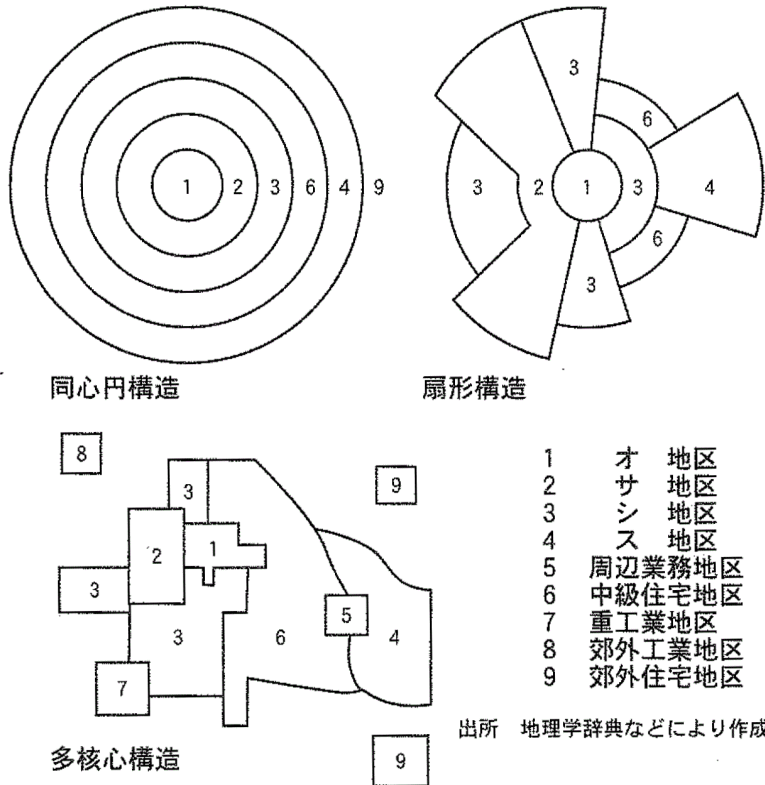


図3

	サ	シ	ス
A	卸売・軽工業	高級住宅	低級住宅
B	卸売・軽工業	低級住宅	高級住宅
C	高級住宅	卸売・軽工業	低級住宅
D	高級住宅	低級住宅	卸売・軽工業
E	低級住宅	卸売・軽工業	高級住宅
F	低級住宅	高級住宅	卸売・軽工業

問 3 下線部 a) について、都市の機能や規模は多様であり、その集中や分散の度合いは国土構造を反映している。次の文 A～D からもっとも適当ではないものをひとつ選び、その記号をマークしなさい。

- A アメリカ合衆国では、ニューヨークに経済的機能が集中しているが、大企業の本社機能は分散して立地する傾向もみられる。
- B イギリスやフランスでは、首都に機能が集中しているが、日本に比べると分散型の傾向を示す。
- C 韓国では、ソウルに機能が集中する一極集中型であるが、製造業では、プサンやテグなど東南部の集積も大きい。
- D ブラジルでは、都市人口率は増加してきているが、大都市が多いために首位都市への機能集中は比較的抑制されている。

問 4 下線部 b) 都市の情報発信機能について述べた次の文 A～D から、もっとも適当ではないものをひとつ選び、その記号をマークしなさい。

- A 都市には、放送局や新聞社が立地する。
- B 都市には、出版社や印刷業が立地する。
- C 都市には、情報機器製造工場が立地する。
- D 都市には、官庁や企業本社が立地する。

問 5 途上国の都市問題について述べた次の文 A～D から、下線部がもっとも適当ではないものをひとつ選び、その記号をマークしなさい。

- A メキシコシティでは、市街地の拡大とともに自動車交通量が増加し、盆地地形であることから排出ガスがたまって、スモッグが深刻な問題となっている。
- B ラゴスでは、人口が急増し、近代的な都市開発が進展する一方、異なる民族間の対立が激しく、治安が安定しない。
- C ムンバイでは、難民や農村からの流入人口が都市内部にスラムを形成したので、公共施設は郊外に移転し、高層ビル街を形成している。
- D ジャカルタでは、都心で就業する富裕層の住宅地が郊外に形成された結果、都心と住宅地を結ぶ交通渋滞が深刻化している。

問 6 先進国の都市問題について述べた次の文 A～D から、下線部がもつとも適当ではないものをひとつ選び、その記号をマークしなさい。

- A 都市から排出されるごみ・廃棄物は、大量で種類が多く、その処理方法は複雑で、一都市のみではなく、広域的な対応が必要になっている。
- B 都市活動は、上下水道、鉄道・道路、情報通信、照明や冷暖房設備の維持のための多大なエネルギーを他地域からの供給に依存している。
- C 都心部に居住人口が過剰に集中したために、交通渋滞や混雑などが発生し、都市機能の効率性が妨げられている。
- D 早くから市街地化が進んだところでは、建物の老朽化などによって生活環境が悪化し、スラム化した地区では犯罪が多発している。

問 7 都市内部再開発の事例について述べた次の A～D から、適当ではないものをひとつ選び、その記号をマークしなさい。

- A シドニー：ダーリングハーバー
- B パリ：ラ・デファンス
- C マルセイユ：ラングドゥックールシヨン
- D ロンドン：ドックランズ