



日本史 B 問題

はじめに、これを読むこと。

1. この問題用紙は、23 ページある。
2. 解答用紙に印刷されている受験番号が正しいかどうか、受験票と照合し確認すること。
3. 解答用紙の所定の欄に氏名を記入すること。
4. 解答は、すべて解答用紙の所定の欄にマークするか、または所定の欄に記述すること。
5. 解答は、必ず鉛筆又はシャープペンシル(いずれも HB・黒)で記入すること。
6. 訂正は、消しゴムできれいに消し、消しくずを残さないこと。
7. 解答用紙は、絶対に汚したり折り曲げたりしないこと。また所定の欄以外のところには、絶対に記入しないこと。
8. 問題に指定された数より多くマークしないこと。
9. 解答用紙は、持ち帰らないこと。
10. この問題用紙は、必ず持ち帰ること。
11. この試験時間は、60 分である。
12. 解答をマークする場合の注意。

(マーク記入例)

良い例	悪い例
	

〔 I 〕 2009年9月、麻生内閣が崩壊し、総選挙の結果、3党連立により鳩山由紀夫内閣が誕生した。しかし翌年、鳩山首相は沖縄普天間基地問題でつまづき内閣総理大臣を辞任してしまった。この問題を理解するには琉球・沖縄のおかれた歴史を確認する必要がある。

A 次の文章を読み、下記の設問に解答しなさい。

前近代、琉球は日本本土とは異なる独自の歴史を歩んでいた。12世紀から15世紀の琉球史は、グスクとよばれる軍事・政治拠点に地域支配者が割拠する古琉球、もしくはグスク時代と呼称された。1429年、中山王の(ウ)が琉球王朝を建て琉球を統一した。首里に本拠をおく琉球王朝は、中国の冊封を受け対外関係を安定させ、中継貿易により繁栄した。

16世紀末期以降、琉球は日本本土に形成された統一政権の政治的影響を受ける。豊臣秀吉は1588年、琉球王国に服属を要求する書翰を送り、1591年には朝鮮侵略の軍役負担としての兵糧米供出を要求した。日本本土にうまれた強大な軍事力をもつ統一政権に飲み込まれるかたちで、琉球の近世史は動き始めた。

関ヶ原の戦い以降、覇権を確立しつつある徳川家康にいち早く接近した(カ)は、家康の許可の下、琉球への侵攻を行った。琉球王国の軍団は抵抗したが、戦国時代を通じて多くの戦闘経験をもち鉄砲で武装した(カ)の軍勢に圧倒され、琉球王も拘引されてしまった。

東アジアにおける外交関係の修復を企図する徳川家康は、(カ)侵攻後も琉球王国を存続させ、明との講和交渉をおこなわせた。こうして、琉球王国は中国の冊封をうけるとともに、江戸幕府の鎖国体制下に包摂され、徳川将軍が代替わりするたびに、(ク)を派遣する義務を負った。琉球は薩摩藩の直接的支配を受け、過大な税負担を課せられたため、王府の財政は逼迫し、民は疲弊した。

文化の面で、三線音楽などの近世琉球文化が日本本土にもたらされた。琉球王国の家臣程順則が、中国から持ち帰った「六論衍義」という民衆教化のためのテキストは、薩摩藩主から将軍徳川吉宗に献上され、日本本土でも民衆に対す

る封建倫理教育に利用された。

琉球王国をめぐる島津・幕府、中国との関係は安定していたが、19世紀前期^(ウ)、欧米列強の東アジア進出の動きに琉球も巻き込まれていった。1837年、アメリカ商船モリソン号は日本に近づく前に琉球那覇に寄港していた。そして、1853年、ついにペリー提督が那覇に入港、強引に首里城に登り、琉球王にアメリカ船の常時入港をみとめさせてしまった。欧米列強の接近は、日本本土の政治激動をもたらすと同時に、琉球の近代への幕開けともなった。^(ロ)

問 1 下線部(ア)の時期の日本本土の様子として、正しいものを、次の①～④のうちから1つ選び、マーク解答欄に記入しなさい。

- ① 源義家は陸奥守兼鎮守府將軍として東北地域の内紛に介入することを通じて東国武士団の棟梁となった。
- ② 平清盛は太政大臣に就任後、娘徳子を高倉天皇の中宮に入れ、外戚として政治を掌握した。
- ③ 九条兼実の弟慈円が、末法思想の影響から『愚管抄』を著し、武家政権成立の必然性を説いた。
- ④ 法相宗の貞慶が「摧邪論」を著し、念仏宗派を攻撃した結果、法然是土佐に流罪となった。

問 2 下線部(イ)と同じ年の日本本土の様子を現す史料として、正しいものを、次の①～④のうちから1つ選び、マーク解答欄に記入しなさい。

- ① 播磨国の土民、旧冬の京辺の如く蜂起す、国中の侍を悉く攻むるの間、諸庄園代、しかのみならず守護方の軍兵、彼等の為に或いは命を失ひ、或いは追落さる、一国の騒動希代の法なりと云々
- ② 一 寺社本所領の事 禁裏仙洞の御料所、寺社一円の仏神領、殿下渡領等、他に異なるの間、かつて半済の儀あるべからず
- ③ 何事ぞと御尋ねあるに雷鳴かなど三条申さるるの処、御後障子引あけて武士数輩出て、則ち公方討ち申す
- ④ 此たびはじめていできたる足輕は、超過したる悪党也、其故は洛中・洛外の諸社・諸寺・五山・十刹・公家・門跡の滅亡は、彼らが所行也
(史料は一部読みやすいように改められている)

問 3 空欄(ウ)に当てはまる人名を記述解答欄に漢字で記入しなさい。

問 4 下線部(エ)の説明として、正しいものを、次の①～④のうちから1つ選び、マーク解答欄に記入しなさい。

- ① 琉球の貿易港は那覇であり、日本側の貿易港は薩摩の十三湊などであった。
- ② 朝鮮から公式使節が渡来し、琉球・対馬・釜山という交易ルートが形成された。
- ③ 貿易によって経済発展をとげた琉球王朝は、宮古・八重山諸島に版図を拡大した。
- ④ 五島列島を拠点とする倭寇の被害と、明銭の下落によって貿易は衰退していった。

問 5 下線部(カ)と同じ年の日本本土の様子を現す史料として、正しいものを、次の①～④のうちから1つ選び、マーク解答欄に記入しなさい。

- ① 叡山を取つめ、根本中堂・山王廿一社を初め奉り、霊仏・霊社・僧坊・経巻、一字に残さず、時に雲霞如く焼き払、灰燼の地トなるこそ哀なれ
- ② 今度大仏供養の儀候については、駿河機嫌悪くなり申し候間、使をもって種々ことわり申し候えども、大仏の儀差し置かれ、市正をもってこの三カ条申し掛けられ候
- ③ 奉公人、侍・中間・小者・あらし子に至る迄、去七月奥州へ御出勢より以後、新儀に町人・百姓に成候者これあらば、其町中、地下人として相改、一切おくべからず
- ④ 百姓は農具さへもち、耕作専に仕候へは、子々孫々まで長久に候、百姓御あはれみをもって、此の如く仰せ出され候、誠に国土安全万民快樂の基也

(史料は一部読みやすいように改められている)

問 6 空欄(カ)に当てはまる人名として、正しいものを、次の①～④のうちから1つ選び、マーク解答欄に記入しなさい。

- ① 島津家久 ② 島津義久 ③ 島津貴久 ④ 島津義弘

問 7 下線部(キ)との関係につき、正しいものを、次の①～④のうちから1つ選び、マーク解答欄に記入しなさい。

- ① 海禁政策とる明であったが、徳川将軍が日本国王として冊封をうけることを条件に姜沆を使者として派遣、国交交渉がはじまった。
- ② 明との国交樹立に失敗した幕府は糸割符制度を改変して、オランダ商人にも適用させ生糸の貿易統制を行った。
- ③ 島原の乱が発生するまで、キリスト教とは関係ない明への日本人の渡航は自由であった。
- ④ 明との国交樹立には失敗したが、私貿易に従事する明の商人は幕府が長崎に設置した唐人屋敷へ来航した。

問 8 空欄(ク)に当てはまる歴史的な名辞を記述解答欄に漢字で記入しなさい。

問 9 下線部(ケ)の説明として、正しいものを、次の①～④のうちから1つ選び、マーク解答欄に記入しなさい。

- ① 薩摩藩は、沖縄本島で検地を行い、石高制に準拠した土地制度を施行するとともに、黒砂糖の上納を命じた。
- ② 琉球王府では科挙試験を導入していたが、薩摩藩はこれを利用して、試験合格者を薩摩藩の下級役人に登用した。
- ③ キリシタンの存在しない琉球では、キリシタン禁制も宗門改めも行われず、仏教も導入されることはなかった。
- ④ 薩摩藩は、按司の戦闘力を解体するため、彼らを首里に集住させ、村には薩摩藩から代官を派遣した。

問10 下線部(コ)の解説書を作成した日本の儒者として、正しいものを、次の①～④のうちから1つ選び、マーク解答欄に記入しなさい。

- ① 荻生徂徠 ② 新井白石 ③ 鈴木正三 ④ 室鳩巢

問11 下線部(㉙)の政策として、正しいものを、次の①～④のうちから1つ選び、マーク解答欄に記入しなさい。

- ① 米価対策として改鑄された新貨幣は、金・銀の含有量を低下させたもので「文字金銀」とも呼ばれた。
- ② 諸大名から高一万石につき一〇〇石の米を上納させる上げ米を実行したが、親藩からの反発がおこったため五年で廃止された。
- ③ 裁判基準を明確にするため、老中松平輝高や町奉行大岡忠相らを中心として、『公事方御定書』が制定された。
- ④ 江戸周辺地域における特産物奨励と流通統制をはじめたが、上州絹一揆など、この政策への農民の抵抗が発生した。

問12 下線部(㉚)の時期の日本本土の文化に関する説明として、正しいものを、次の①～④のうちから1つ選び、マーク解答欄に記入しなさい。

- ① 江戸で蘭学研究が盛んとなり、杉田玄白・前野良沢が『解体新書』を刊行した。
- ② 河竹黙阿弥が、江戸を舞台とした暴力と貧困の世界を歌舞伎作品に導入し、江戸の庶民の人気を得た。
- ③ 鈴木春信が色つきの錦絵を創始し、代表作『弾琴美人』は江戸で評判となり浮世絵版画は活況を呈した。
- ④ ロシア軍人の国後島上陸に危機感を抱いた水戸藩士会沢安は『日本外史』を著述し、尊王攘夷運動を牽引した。

問13 下線部(ス)に関連して、次の史料を記載した人物に関する説明として、正しいものを、次の①～④のうちから1つ選び、マーク解答欄に記入しなさい。

我田原は三州渥美郡の南隅に在て、遠州大洋中に迸出し、荒井より伊良湖に至る海浜凡十三里の間、佃戸農家のみにて(中略)、イギリス国人モリソンなる者、交易を乞むため、我漂流の民七人を護送して、江戸近海に至ると聞り

(史料は読みやすいように一部改められている)

- ① 長崎に渡った彼は、シーボルトに師事し蘭学を修め、江戸で医師として活躍していた。
- ② 松代藩士の彼は、漢学から始め蘭学を修め、アヘン戦争を契機に海防を意識した。
- ③ 幕府天文方であった彼は、伊能忠敬の地図製作にも関与し蛮書和解御用の中心的人物となった。
- ④ 譜代藩の家老の彼は、蘭学を修める一方、南画に西洋画の手法を導入した作品を描いた。

問14 下線部(セ)との対応に責任をもった老中首座として、正しいものを、次の

①～④のうちから1つ選び、マーク解答欄に記入しなさい。

- ① 堀田正睦 ② 井伊直弼 ③ 阿部正弘 ④ 川路聖謨

問15 下線部(ソ)の発生順として、正しいものを、次の①～④のうちから1つ選

び、マーク解答欄に記入しなさい。

- ① 海軍伝習所設置→橋本左内処刑→徳川慶喜將軍後見職就任
- ② 橋本左内処刑→海軍伝習所設置→徳川慶喜將軍後見職就任
- ③ 海軍伝習所設置→徳川慶喜將軍後見職就任→橋本左内処刑
- ④ 橋本左内処刑→徳川慶喜將軍後見職就任→海軍伝習所設置

B 次の文章を読み、下記の設問に解答しなさい。

1867年、日本本土では大政奉還によって江戸幕府が終焉を迎えた。明治政府は藩の解体を進め、1871年には廃藩置県を断行し、藩は完全に解体され、薩摩藩も鹿児島県とされた。

琉球は鹿児島県の管轄下に置かれたが、中国との冊封関係も維持していた。日清修好条規においても、琉球の帰属は不明確のままであったが、明治政府は琉球帰属の既成事実をつくるため、琉球王国を琉球藩としてしまう。

1871年、台湾に漂着した宮古島の漁民(琉球民)が、台湾の現地人に殺害される事件が発生、明治政府は、この琉球民殺害事件を清国政府に抗議した。大久保利通らは、清国政府が明治政府の抗議を拒否した場合、台湾を清の主権の及ばぬ地であるとして、琉球民殺害の責任を直接台湾に問うことを目的とする、戦争(台湾占領)計画をすすめた。イギリス・アメリカからの批判がおり、明治政府はこの計画をあきらめたが、1874年、西郷従道は独断で台湾出兵を実行した。その後、清国政府が賠償金を支払ったため、明治政府は台湾から撤兵したが、この清国政府の対応は、結果として琉球日本帰属に有利に働くこととなった。

明治政府は、琉球に対して清への朝貢を禁止させ、1879年には琉球藩を廃止して沖縄県を設置してしまう。これに対して、清政府は日本政府に強硬に抗議、前アメリカ大統領(キ)が調停したが失敗、台湾・琉球をめぐる清との対立は、日清戦争まで続いた。この間、日本政府は、琉球において旧慣温存策をとりつつも、土地制度・地方行政制度などの改変をすすめ、学校教育を通じて琉球人を日本人に同化させていく政策をとった。

このころ、日本本土では自由民権運動の成果から、(ケ)年に憲法と衆議院選挙法とが公布された。一方、沖縄では東京帝国大学に学んだ(コ)が、県技師に就任しつつも、明治政府が派遣した強権的な知事と対立、参政権獲得運動を起こしたが、沖縄県での衆議院選挙法の施行は(サ)年まで待たねばならなかった。

問 1 下線部(ア)と同じ年に行われたものとして、正しいものを、次の①～④のうちから1つ選び、マーク解答欄に記入しなさい。

- ① 地租改正条例公布 ② 秩禄処分開始
③ 徴兵告諭発令 ④ 身分解放令発令

問 2 下線部(イ)に関連して、日本側全権として、正しいものを、次の①～④のうちから1つ選び、マーク解答欄に記入しなさい。

- ① 大島友之允 ② 榎本武揚 ③ 伊達宗城 ④ 井上馨

問 3 下線部(ウ)に直接関係する史料として、正しいものを、次の①～④のうちから1つ選び、マーク解答欄に記入しなさい。

- ① 政党ナル者ノ社会ニ存立スルハ情勢ノ免レサル所ナリト雖、政府ハ常ニ一定ノ政策ヲ取り、超然政党ノ外ニ立ち、至正至中ノ道ニ居ラサルベカラス。
- ② 遺烈ヲ揚ゲ洪模ヲ弘メ、古今ヲ変通シ、断シテ之ヲ行フ、責朕カ身ニ在リ、将ニ明治二十三年ヲ期シ、議員ヲ召シ、国会ヲ開キ、以テ朕カ初志ヲ成サントス。
- ③ 其支那・朝鮮に接するの法も、隣國なるが故にとて特別の会釈に及ばず、正に西洋人が之に接するの風に従て処分す可きのみ、悪友を親しむ者は、共に悪名を免かるべからず、我れは心に於て亜細亜東方の悪友を謝絶するものなり。
- ④ 世ノ政体ヲ議スル者、スナハチ曰ク君主政治、或ハ曰ク民主政治ト、民主未ダ以テ取ル可カラズ、君主モ亦未ダ以テ捨ツベカラズ。然リ而シテ此政体ハ実ニ建國ノ楨幹、為政ノ本源、至大至高ナル者ナリ。

(史料は読みやすいように一部改められている)

問 4 下線部(エ)～(オ)の間に発生した出来事として、正しいものを、次の①～④のうちから1つ選び、マーク解答欄に記入しなさい。

- ① 北海道庁設置 ② 秩父事件発生
③ 国立銀行条例発令 ④ 三新法制定

問 5 下線部(カ)を何と呼ぶか。その歴史的名辞を記述解答欄に漢字で記入しなさい。

問 6 空欄(キ)に当てはまる人物として、正しいものを、次の①～④のうちから1つ選び、マーク解答欄に記入しなさい。

- ① ウエード
- ② パークス
- ③ グラント
- ④ オールコック

問 7 下線部(ク)後の状況として、正しいものを、次の①～④のうちから1つ選び、マーク解答欄に記入しなさい。

- ① 山県有朋によって、ドイツ陸軍を模倣した参謀本部が創設された。
- ② ロマン主義文学のジャンルで、北村透谷が雑誌『文学界』を創刊した。
- ③ 演劇評論家の島村抱月と劇作家の坪内逍遙とが文芸協会を創設した。
- ④ 片山潜・高野房太郎・堺利彦が労働組合期成会を創設した。

問 8 空欄(ケ)(サ)に入る数字の組み合わせとして、正しいものを、次の①～④のうちから1つ選び、マーク解答欄に記入しなさい。

- ① (ケ) 1889 (サ) 1912
- ② (ケ) 1889 (サ) 1902
- ③ (ケ) 1890 (サ) 1912
- ④ (ケ) 1890 (サ) 1902

問 9 空欄(コ)に当てはまる人名を記述解答欄に漢字で記入しなさい。

C 次の文章を読み、下記の設問に解答しなさい。

第1次世界大戦は、好景気を日本本土にもたらした。このころ、沖縄では県外資本による精糖会社が設立され、これが沖縄の産業の中心を占めるに至った。大戦終了後から連続する日本本土での恐慌状態により、沖縄経済は大打撃を受け、人びとの困窮は深刻となった。一方、この時期、同化政策による琉球・沖縄固有の文化・言語の消失に危機感を抱いた(ウ)らによって琉球人・沖縄人とは、その歴史とは何なのかを提起する沖縄民俗学(沖縄学)が形成された。

1945年、米軍が沖縄県北谷村・読谷村一帯に上陸、沖縄戦が始まり、沖縄全島は戦場と化し、約(オ)万人にもおよぶ沖縄県民の生命が奪われた。日本政府がポツダム宣言を受諾すると、沖縄地域は米軍による直接統治下に置かれ、米軍戦闘部隊は、沖縄本島全域に配置され米軍基地の原型が形成された。

1952年4月28日、サンフランシスコ平和条約が発効したが、沖縄はアメリカの施政権下に置かれ、米軍の統治は続いた。1960年代、沖縄では祖国復帰運動がおり、1972年には沖縄の「祖国復帰」が実現し、(キ)が初代沖縄県知事となった。しかし、新安保条約の下、現在でも沖縄には日本全国の米軍基地面積の約(ク)パーセントが集中している。現在でも、沖縄の人びとにとって、米軍による事故、米兵による事件は深刻な問題なのである。

1996年、(ケ)首相と米駐日大使との間で、普天間基地全面返還が合意に達し、2002年、日本政府・沖縄県、辺野古がある名護市の三者協議により、普天間基地の移転先を辺野古沖とすることが合意された。2004年、普天間基地でヘリ墜落事故が発生、「基地のない平和な沖縄」という市民運動が広がり、名護市で移転反対運動が加熱していった。このような情勢下、2009年衆議院議員総選挙の際、鳩山由紀夫民主党代表は、普天間基地の移設先について「最低でも県外」と発言したのである。

問 1 下線部(ア)後の状況として、正しいものを、次の①～④のうちから1つ選び、マーク解答欄に記入しなさい。

- ① 平塚らいてうによって、雑誌『青鞥』が創刊され、婦人解放運動が進められた。
- ② 石橋湛山は「一切を捨つるの覚悟」という論説を発表し、小日本主義を唱えた。
- ③ 台湾総督の資格は文官にまで拡大され、官僚の後藤新平が就任した。
- ④ 政府の陸軍二個師団増設に立憲政友会が反発したため、議会解散の後、総選挙が行われた。

問 2 下線部(イ)の説明として、正しいものを、次の①～④のうちから1つ選び、マーク解答欄に記入しなさい。

- ① 鈴木文治によって、労資協調路線を旨とする友愛会が結成された。
- ② 民間組織として帝国在郷軍人会が結成され、地方農村に軍国主義思想がひろまった。
- ③ 小林多喜二らによって全日本無産者芸術連盟が結成され『文芸戦線』が創刊された。
- ④ 朝鮮・台湾からの米の移入量が増加したため米価が下落し、農業恐慌の要因となった。

問 3 空欄部(ウ)(キ)(ケ)にはいる人物の組み合わせとして、正しいものを、次の①～④のうちから1つ選び、マーク解答欄に記入しなさい。

- ① ウ 柳宗悦 キ 屋良朝苗 ケ 小泉純一郎
- ② ウ 比企春潮 キ 伊波普猷 ケ 村山富市
- ③ ウ 屋良朝苗 キ 伊波普猷 ケ 小淵恵三
- ④ ウ 伊波普猷 キ 屋良朝苗 ケ 橋本龍太郎

問 4 下線部(エ)と同じ年の出来事として、正しいものを、次の①～④のうちから1つ選び、マーク解答欄に記入しなさい。

- ① ローズヴェルト、チャーチル、蒋介石によってカイロ会談がもたれ、朝鮮の独立が確認された。
- ② ヤルタ協定によって、ソ連の対日参戦と旅順・大連を含む遼東半島のソ連割譲が決定された。
- ③ サイパン島が陥落し、本土空襲が本格化するなかで、東条英機内閣が総辞職した。
- ④ アメリカの爆撃機による人口過密地帯に対する、東京大空襲が実行され多くの民間人が死傷した。

問 5 空欄部(オ)(ク)にはいる数字の組み合わせとして、正しいものを、次の①～④のうちから1つ選び、マーク解答欄に記入しなさい。

- ① (オ) 12 (ク) 75
- ② (オ) 32 (ク) 55
- ③ (オ) 12 (ク) 55
- ④ (オ) 32 (ク) 75

問 6 下線部(カ)の時期の日本本土の様子として、正しいものを、次の①～④のうちから1つ選び、マーク解答欄に記入しなさい。

- ① ベトナム戦争が本格化し、アメリカ軍による北爆が行われるようになった。
- ② 鳩山一郎首相が訪ソし、日ソ共同宣言が締結された。
- ③ MSA 協定が締結され、自衛隊が発足した。
- ④ ロッキード事件により現職首相が逮捕された。

〔Ⅱ〕 次の文章を読み、問(1)から問(10)までに答えなさい。解答はすべてマーク解答欄にマークすること。

2010年6月16日の夕刻、米国のニューヨークで、世界的にも著名な高層ビルであるエンパイアステートビルが、白と赤の電光によるライトアップで、夕闇の空に鮮やかに浮かび上がった。これは、日本の国旗の日の丸をイメージするもので、150年前の同日、当地のブロードウェイを、日本からの使節団が行進したことを記念する行事の一つであった。1860年のこの日、一行80名のサムライのパレードを見物しようと、沿道は50万人余の人々で溢れかえったと今に伝えられている。この日本からの使節団は、ペリーの来航以来、米国から締結を強く要請^(ア)されていた<条約A>の批准文書交換のため、幕府から派遣されて渡米したのである。この条約はいわゆる不平等条約であり、その改正問題は、明治政府に引き継がれ困難を極めることとなる。^(イ)

一方、その後の日米関係は、今日にいたるまで、政治・経済・文化の諸局面・諸領域にわたり、多様に展開してゆく。

明治初期の中央官制である太政官制は、短期間にその内容構成が変化するが、^(ウ)新政府より出された政体書は、米国の憲法などを模倣した面もあった。また、教育・学術界や美術界および宗教界で、明治期の日本で活躍した米国人も少なくな^(エ)かった。

20世紀に入ってからの極東・東アジア地域における外交・軍事面では、日米^(オ)関係は、時折の妥協を含みつつ、総じて利害が錯綜し、緊張関係が連続した。また、第一次大戦後、アジア地域唯一の軍事大国となった日本に対しては、米国は英国とともに、日本を各種の軍事条約の主要メンバーと位置づけつつ、その軍^(カ)事力の抑制を図った。

経済面では、相互の輸出入の品目は変化しながら、昭和戦前期にかけて、全般^(キ)的に日本の米国に対する経済的依存度は高まり、そのことが、日米戦争の主な要因の一つともなった。冒頭に紹介した<条約A>とも関連する<条約B>^(ク)が、1939年7月に米国から破棄され、日本が苦境に陥ったのは、その象徴とも言えよう。

1930年代後半からの、ドイツやイタリアの動向とも関連して、緊張度を高める日米関係を打開すべく展開された日米交渉が決裂し、1941年12月、日本は米国・英国に宣戦を布告し、いわゆるアジア太平洋戦争が勃発する。

この戦争は、日本の敗戦により、1945年8月に終結するが、天皇及び日本政府の代表と軍部(大本営)の代表による連合国に対する降伏文書への調印は、〈条約A〉と同様、東京湾に停泊する米国戦艦の甲板上で行われた。この後、日米関係は、また政治(軍事)・経済・文化の諸局面・諸領域で、新たなかつ密接な関係を結びつつ、今日に至っている。

問1 下線(ア)の〈条約A〉における日本側に関する事柄で、正しいものを、①～④から1つ選びなさい。

- ① 下田・箱館の2港開港及び、江戸・大坂の開市を容認し、米国船への燃料・食料の供給を承認した。
- ② 米国の最恵国待遇を容認し、一般外国人の国内旅行禁止をするとともに、難破船や乗組員の救助を承認した。
- ③ 米国領事の裁判権を容認したが、関税自主権は得られず、安政の五カ国条約のきっかけとなった。
- ④ 神奈川・長崎等の4港開港、及び米国総領事の下田駐在を容認し、通商は自由貿易とすることを承認した。

問2 下線(イ)に関連する事柄で、正しいものを、①～④から一つ選びなさい。

- ① 井上馨外相は、欧米諸国の領事裁判権の撤廃には成功したが、極端な欧化政策に対する国民の反感を受けて、外相を辞任した。
- ② 大隈重信外相は、ノルマントン号事件の処理に不満を持つ政治団体の構成員の襲撃を受けて辞任した。
- ③ 青木周蔵外相は、治外法権及び外国人判事の採用を撤廃することで、英国の同意をとりつけた。
- ④ 小村寿太郎外相は、日英通商航海条約の締結を実現し、他の諸国との間での、関税自主権の回復にも成功した。

問 3 下線(ウ)に関して、正しいものを、①～④から一つ選びなさい。

- ① 版籍奉還後の太政官制では、公議所と集議院による米国風の立法二院制がとられた。
- ② 新政府の「旧来の陋習を破る」基本方針は、五箇条の誓文や五榜の掲示等で示された。
- ③ 1868年閏4月の太政官制では、三権分立制を模範に、正院・左院・右院が置かれた。
- ④ 廃藩置県後の太政官制では、神祇官が廃止され、左右大臣の上に太政大臣がおかれた。

問 4 下線(エ)に関して、正しいものを、①～④から選びなさい。

- ① ヘボンとフルベッキは、協力して、明治政府の外国語教育振興を支援した。
- ② フェノロサとキヨソネは、日本の美術教育の振興をめざす岡倉天心とともに、工部美術学校の創設にかかわった。
- ③ モースとフェノロサは、東京大学の教員として、それぞれ生物学と哲学を担当した。
- ④ クラークやフルベッキの薫陶を受けた海老名弾正は、キリスト教系の女子教育の振興に努力した。

問 5 下線(オ)に関して、正しいものを、①～④から一つ選びなさい。

- ① 日露戦争においては、日本は、米国・英国等の経済的支援を得たが、それは同時に多額の対外債務を負うことでもあった。
- ② 米国大統領の斡旋による、日露の講和条約では、樺太の北緯50度以南の日本への譲渡などが盛り込まれたが、ロシアから日本への賠償金は、国民の期待をかなり下回った。
- ③ 桂・タフト協定は、中国東北部における、日米両国それぞれの政治経済的影響力の拡張をめぐる共通の利害を、協力して維持する目的であった。
- ④ 米・英・仏の3国は、ソビエト社会主義政権の打倒のために軍事介入し、日本もこれに同調して大軍をシベリアに出兵したが、特に米国の強い要請を受け、長期に駐留させた。

問 6 下線(カ)に関して、正しいものを、①～④から一つ選びなさい。

- ① ワシントン会議の九カ国条約の参加国は、1922年の海軍軍縮条約加盟国の他に、中国及び中国に権益を有するベルギー・オランダ・ポルトガル・オーストラリアである。
- ② 1921年12月のワシントン会議において、米・英・日・中の協議により、日英同盟協約の廃棄が同意された。
- ③ ワシントン会議の九カ国条約をうけて、日中交渉の結果、山東半島の旧ドイツ権益を、中国に返還することが決まった。
- ④ ワシントン海軍軍縮条約では、主力艦建造禁止期間の延長や、石井ランシング協定の廃棄など、日本軍部に不満を残して、政府により調印された。

問 7 下線(キ)に関して、正しいものを、①～④から一つ選びなさい。

- ① 1929年に米国で始まった世界恐慌により、消費が縮小した米国への綿織物とくず鉄の輸出が激減し、日本経済も大きな打撃を受けた。
- ② 高橋是清蔵相による円の金兌換停止により、世界通貨市場では大幅な円安となり、これを利用して特に造船業界の対米・英等への輸出量は飛躍的に拡大した。
- ③ 軍需と政府による保護政策のもとで日本の重化学工業は目覚しく発達してゆくが、その原材料としての石油等の輸入面では、米国への依存度を高めていった。
- ④ 欧米諸国市場まで進出する日本の経済力の急成長を阻止するための、米国による対日石油輸出禁止措置は、特に日本軍部の、米国への敵対意識を強めることとなった。

問 8 下線(ク)に関して、正しいものを、①～④から一つ選びなさい。

- ① <条約B>が破棄されたのは、第一次近衛内閣の任期中であった。
- ② <条約B>の失効により、日本はソビエトとの経済関係の強化に転じた。
- ③ 満州事変等の中国大陆における日本の行動に対し、米国は対日経済封鎖を宣言した。
- ④ 齊藤実内閣による国際連盟脱退通告などにより、日本は国際的な孤立を深めていった。

問 9 下線(ケ)に関連して、正しいものを、①～④から一つ選びなさい。

- ① 日独伊三国防共協定の締結に対抗して、米国は、日本に対する経済制裁を本格化させた。
- ② 第三次近衛内閣のもとで開始された、野村駐米大使とハル国務長官による日米交渉の継続をはかるため、対米強硬論者の松岡外相は辞任を余儀なくされた。
- ③ 日本の東南アジア進出を阻止しようとする米国及び英国・オランダ等の動向に対抗して、日本は帝国国策遂行要領を決定した。
- ④ 日米交渉の継続・妥結を主張する近衛首相と、打ち切り・開戦をめざす東条陸相の対立による内閣総辞職の後の東条内閣の誕生幹旋が、元老西園寺の最後の仕事となった。

問10 <条約A>と下線(コ)に関連する戦艦と人物について、正しい組み合わせを、①～④から1つ選びなさい。

[<条約A>]

[下線(コ)]

- ① 戦艦ポーハタン(外国奉行)勝 海舟・戦艦サラトガ(全権)重光 葵
- ② 戦艦サスケハナ(外国奉行)勝 海舟・戦艦サラトガ(全権)東久邇宮
- ③ 戦艦ポーハタン(外国奉行)新見正興・戦艦ミズーリー(全権)重光 葵
- ④ 戦艦サスケハナ(外国奉行)新見正興・戦艦ミズーリー(全権)東久邇宮

〔Ⅲ〕 次の文章を読んで、下の設問に答えよ。

A 次の資料を読み、下記の設問に解答しなさい。

いまや経済の回復による浮揚力はほぼ使い尽くされた。なるほど、貧乏な日本のこと故、世界の他の国々に比べれば、消費や投資の潜在需要はまだ高いかもしれないが、戦後の一時期に比べれば、その欲望の熾烈さは明らかに減少した。もはや「戦後」ではない。我々はいまや異なった事態に当面しよう^(ア)としている。回復を通じての成長は終わった。今後の成長は近代化によって支えられる。そして近代化の進歩も速やかにしてかつ安定的な経済の成長によって初めて可能となるのである。

(中略)

我々は日々に進みゆく世界の技術とそれが変えてゆく世界の環境に一日も早く自らを適応せしめねばならない。もしそれを怠るならば、先進工業国との間に質的な技術水準においてますます大きな差がつけられるばかりではなく、長期計画によって自国の工業化を進展している後進国との間の工業生産の量的な開きも次第に狭められるであろう。

このような世界の動向に照らしてみるならば、幸運のめぐり合わせによる^(イ)数量景気の成果に酔うことなく、世界技術革新の波に乗って^(ウ)、日本の新しい国造りに出発することが当面喫緊の必要事ではないであろうか。

*資料の表記等については改めている部分があります。

問 1 この資料を作成した機関の名称として、正しいものを、次の①～④のうちから一つ選び、マーク解答欄に記入しなさい。

- | | |
|----------|---------|
| ① 経済安定本部 | ② 通商産業省 |
| ③ 経済企画庁 | ④ 財務省 |

問 2 下線部(ア)のような事態に関連する現象として、正しいものを、次の①～

④のうちから一つ選び、マーク解答欄に記入しなさい。

- ① 米ソ間に「雪どけ」と言われる状況が現れ、軍事競争よりも平和共存や経済競争が言われる時代となった。
- ② IMF に加盟し、ドルを基軸とした世界経済の枠組みに参加した。
- ③ 3 C 商品が登場することにより内需が拡大した。
- ④ アメリカが西側諸国の経済復興を支援することでソ連を封じ込める対外政策をとるようになった。

問 3 下線部(イ)に該当し、この資料の書かれた時期の現象として、正しいもの

を、次の①～④のうちから一つ選び、マーク解答欄に記入しなさい。

- ① 岩戸景気
- ② 神武景気
- ③ オリンピック景気
- ④ いざなぎ景気

問 4 下線部(ウ)に関連する人物として、まちがっているものを、次の①～④の

うちから一つ選び、マーク解答欄に記入しなさい。

- ① 松下幸之助
- ② 鈴木安蔵
- ③ 盛田昭夫
- ④ 井深大

B 次の資料を読み、下記の設問に解答しなさい。

明治百年をひとつのフシ目にして、都市集中のメリットは、いま明らかにデメリットへ変わった。国民がいまなによりも求めているのは、過密と過疎の弊害の同時解消であり、美しく、住みよい国土で将来に不安なく、豊かに暮していけることである。そのためには都市集中の奔流を大胆に転換して、民族の活力と日本経済のたくましい余力を日本列島の全域に向けて展開することである。工業の全国的な再配置と知識集約化、全国新幹線と高速自動車道の建設、情報通信網のネットワークの形成などをテコにして、都市と農村、表日本と裏日本の格差は必ずなくすことができる。

また、ひらかれた国際経済社会のなかで、日本が平和に生き、国際協調の

道を歩きつづけられるかどうかは、国内の産業構造と地域構造の積極的な改革にかかっていると見えよう。その意味で、日本列島の改造こそは今後の内政のいちばん重要な課題^(ア)である。私は産業と文化と自然とが融和した地域社会^(イ)を全国土におし広め、すべての地域の人びとが自分たちの郷里に誇りをもって生活できる日本社会の実現に全力を傾けたい。

*資料の表記等については改めている部分があります。

問 1 この資料を書いた人の名称として、正しいものを、次の①～④のうちから一つ選び、マーク解答欄に記入しなさい。

- ① 三木武夫 ② 大平正芳 ③ 田中角栄 ④ 福田赴夫

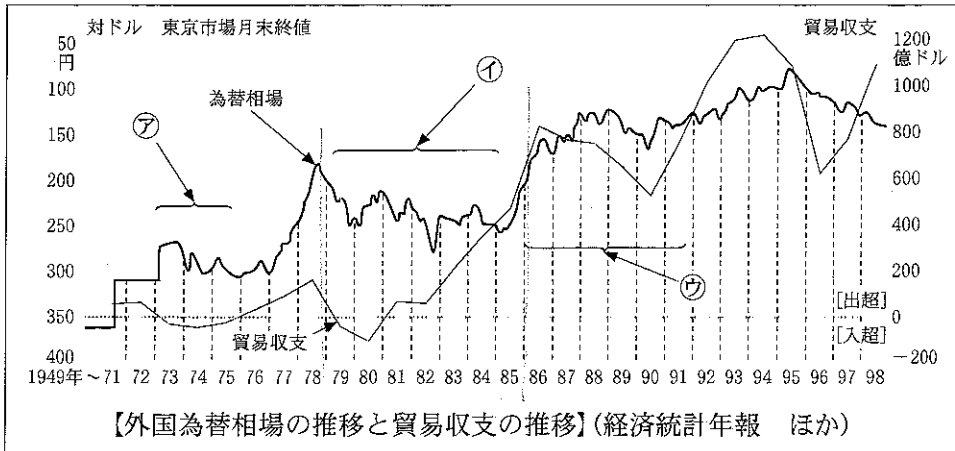
問 2 下線部(ア)に関連して、この資料で掲げられた政策構想は破綻をきたすことになるがその理由として、正しいものを、次の①～④のうちから一つ選び、マーク解答欄に記入しなさい。

- ① IMF 8 条国への移行による貿易自由化により輸出超過となった。
② 農産物の輸入自由化により過疎化がさらに進行した。
③ 道路交通網・工業団地等の整備計画により地価高騰を招くこととなった。
④ 大型企業の合併が行われ国際競争力が低下した。

問 3 下線部(イ)の破綻として四大公害訴訟問題があるが、これに関連する地名として、まちがったものを、次の①～④のうちから一つ選び、マーク解答欄に記入しなさい。

- ① 熊本県 ② 新潟県 ③ 三重県 ④ 愛知県

C 次の資料は、1998年までの間の為替相場と貿易収支の推移をグラフで示したものである。このグラフを参考にして、下記の設問に解答しなさい。



問 1 グラフの⑦の局面における事実の展開の順番を説明したのものとして、正しいものを、次の①～④のうちから一つ選び、マーク解答欄に記入しなさい。

- ① イラン・イラク戦争—第一次石油危機—先進国首脳会議
- ② イラン・イラク戦争—先進国首脳会議—第一次石油危機
- ③ 第四次中東戦争—第一次石油危機—先進国首脳会議
- ④ 第四次中東戦争—先進国首脳会議—第一次石油危機

問 2 グラフの④の局面を説明したものとして、正しいものを、次の①～④のうちから一つ選び、マーク解答欄に記入しなさい。

- ① イラン革命による第二次石油危機に際し、日本は欧米ほどの悪影響を受けることはなく、韓国・台湾・香港・シンガポールといったアジア NIES の諸国に対する輸出拡大により、貿易収支を改善した。
- ② 湾岸戦争による第二次石油危機に際し、日本は欧米ほどの悪影響を受けることはなく、韓国・台湾・香港・シンガポールといったアジア NIES の諸国に対する輸出拡大により、貿易収支を改善した。
- ③ イラン革命による第二次石油危機に際し、日本は欧米ほどの悪影響を受けることはなく対米輸出を拡大し、貿易収支を改善した。
- ④ 湾岸戦争による第二次石油危機に際し、日本は欧米ほどの悪影響を受けることはなく対米輸出を拡大し、貿易収支を改善した。

問 3 グラフの⑦の局面を説明したものとして、正しいものを、次の①～④のうちから一つ選び、マーク解答欄に記入しなさい。

- ① アメリカは貿易収支改善のため円高を容認するプラザ合意に踏み切り、同時に、日本へ内需拡大による対米貿易黒字の縮小を要求した。これが要因の一つとなり、日本では投機経済の拡大による設備投資の過剰を招き、いわゆる「バブル経済」を引き起こした。
- ② アメリカは貿易収支改善のため円高を容認するプラザ合意に踏み切り、同時に、日本へ内需拡大をはかる政策を要求した。日本では低金利政策を背景として株価・地価の高騰を招き、いわゆる「バブル経済」を引き起こした。
- ③ アメリカは貿易収支改善のため円高を容認するスミソニアン合意に踏み切り、同時に、日本へ内需拡大による対米貿易黒字の縮小を要求した。これが要因の一つとなり、日本では投機経済の拡大による設備投資の過剰を招き、いわゆる「バブル経済」を引き起こした。
- ④ アメリカは貿易収支改善のため円高を容認するスミソニアン合意に踏み切り、同時に、日本へ内需拡大をはかるための高金利政策を要求した。日本では高金利政策を背景として株価・地価の高騰を招き、いわゆる「バブル経済」を引き起こした。