





日本史 B 問題

はじめに、これを読みなさい。

1. この問題用紙は 23 ページある。ただし、ページ番号のない白紙はページ数に含まない。
2. 解答用紙に印刷されている受験番号が正しいかどうか、受験票と照合して確認すること。
3. 監督者の指示にしたがい、解答用紙の氏名欄に氏名を記入すること。
4. 解答は、すべて解答用紙の所定欄にマークするか、または所定の欄に楷書で記入すること。所定欄以外のところには何も記入しないこと。
5. 問題に指定された数より多くマークしないこと。
6. 解答は、必ず鉛筆またはシャープペンシル(いずれも HB・黒)で記入すること。
7. 訂正する場合は、消しゴムできれいに消し、消しくずを残さないこと。
8. 解答用紙は、絶対に汚したり折り曲げたりしないこと。
9. 解答用紙はすべて回収する。持ち帰らず、必ず提出すること。ただし、この問題用紙は、必ず持ち帰ること。
10. 試験時間は 70 分である。
11. マーク記入例

| 良い例 | 悪い例 |
|---|---|
|  |    |

〔 I 〕 以下のAからCの文章を読み、各設問に解答しなさい。

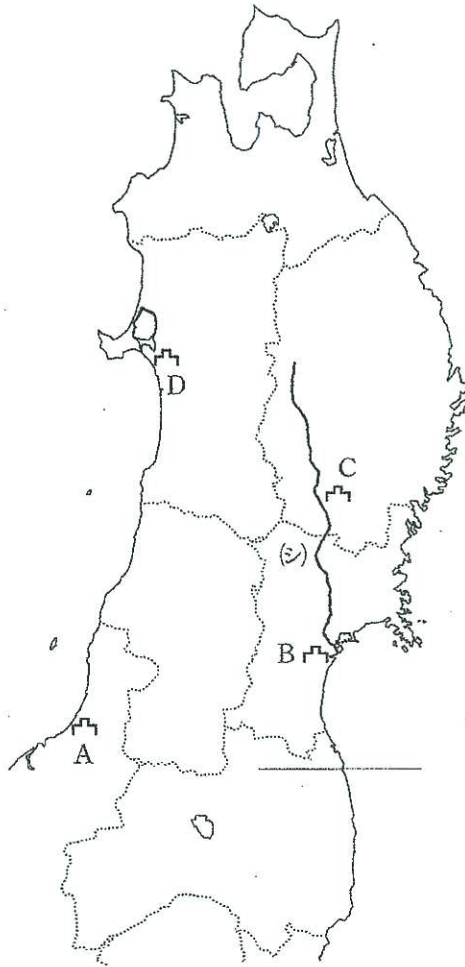
なお、設問で使用した史料は、読みやすいように一部改めてある。

A 7世紀後半、(イ)朝は蝦夷地 = 東北地方侵略を行い淳足柵・磐舟柵を設置し、(ウ)朝は、同地域に阿倍比羅夫を遠征させた。律令制度形成期には越後国から(エ)国を分割し、聖武朝では(カ)を築き、ここに陸奥国府と鎮守府を設置した。

律令国家の軍事遠征に対して服従し、関東などの地域に移住させられた(キ)と呼ばれる蝦夷もいたが、抵抗する者も多く、光仁朝には(ク)らが(カ)を攻撃した。軍事と造作を掲げる桓武朝は、蝦夷地への軍事侵攻を企図し、征夷大將軍(コ)を派遣、蝦夷の抵抗を平定して、鎮守府を(サ)へ移した。こうして、蝦夷の居住域は北方へと狭められていった。

9世紀、中央政府では藤原氏が台頭しつつも安定し、一方、蝦夷地では、服属した(キ)たちの自立化が進んだ。11世紀前半、奥六郡とよばれる地域の(キ)たちは、朝廷に租税を納入しなくなり、あたかも独立した領域支配を展開するようになった。これを反乱とみた朝廷は、(ソ)に命じてこの地域を鎮圧させた。この戦闘の後、蝦夷地では清原氏が勢力を得たが、内紛が発生する。(タ)はこれに軍事介入し、陸奥国平泉を拠点とする奥州藤原氏との関係を強化した。一方、奥州藤原氏は中央の軍事貴族とのパイプを構築し、奥州での栄華を誇った。

朝廷の政治権力が院へと移ると、これに接近していた平氏が政界に進出し、二つの兵乱に勝利した平清盛は、軍事貴族としての地位を確立した。このころの平氏は、西国に拠点を有していたため、蝦夷地への関心は薄く、蝦夷地では、奥州藤原氏の栄華が続いていた。しかし、12世紀後半における治承・寿永の内乱のなかで、源頼朝は蝦夷地への侵攻と征服を企図し、(テ)の後、この地域を軍事占領した。



問 1 下線部(ア)の時期の説明として、もっとも正しいものを、次の①～④のうちから1つ選び、マーク解答欄に記入しなさい。

- ① 壬申の乱によって、大和政権に敵対する東国の地方豪族勢力は一掃された。
- ② 刑部親王や藤原不比等らによって大宝律令が完成し、施行された。
- ③ 大和政権は遣唐使を中断したが、百済を通じて唐の文化と制度を吸収した。
- ④ 古来の伝承・記録の編集事業が開始され、国家仏教の方針も明確になった。

問 2 空欄(イ)と(ウ)にはいる語句の組み合わせとして、もっとも正しいものを、次の①～④のうちから1つ選び、マーク解答欄に記入しなさい。

- ① イ 孝 徳 ウ 持 統
- ② イ 孝 徳 ウ 斉 明
- ③ イ 皇 極 ウ 斉 明
- ④ イ 斉 明 ウ 持 統

問 3 空欄(エ)に入る語句を記述解答欄に漢字で記入しなさい。

問 4 下線部(カ)に関連する史料として、もっとも正しいものを、次の①～④のうちから1つ選び、マーク解答欄に記入しなさい。

- ① 其の新たに溝池を造り、開墾を営む者有らば、多少に限らず給して三世に伝へしめむ。
- ② よろしく天下の諸国をして、各々敬んで七重塔一区を造り、ならびに金光明最勝王経・妙法蓮華経各一部を写しむべし。
- ③ 夏四月乙酉、盧舎那大仏の像成りて、始めて開眼す。是の日、東大寺に行幸したまふ。
- ④ 五月甲子、制すらく、畿内七道諸国の郡・郷の名は好き字を着けよ。其の郡内に生ずる所の銀・銅・彩色・草木・禽獸・魚・虫等の物は、具に色目を録せしむ。

問 5 2ページの地図は、空欄(カ)と(サ)に入る城の位置を表したものである。位置の組み合わせとして、もっとも正しいものを、次の①～④のうちから1つ選び、マーク解答欄に記入しなさい。

- ① カ A サ D
- ② カ A サ C
- ③ カ B サ C
- ④ カ B サ D

問 6 空欄(キ)に入る歴史名辞として、もっとも正しいものを、次の①～

④のうちから1つ選び、マーク解答欄に記入しなさい。

- ① 俘囚 ② 隼人 ③ 毛人 ④ 夷狄

問 7 空欄(ク)と(コ)に入る人名の組み合わせとして、もっとも正しいものを、次の①～④のうちから1つ選び、マーク解答欄に記入しなさい。

- ① ク 阿弋流為 コ 文室綿麻呂
② ク 伊治皆麻呂 コ 文室綿麻呂
③ ク 阿弋流為 コ 坂上田村麻呂
④ ク 伊治皆麻呂 コ 坂上田村麻呂

問 8 下線部(ケ)に関連する史料として、もっとも正しいものを、次の①～④のうちから1つ選び、マーク解答欄に記入しなさい。

- ① 此の国山河襟帯、自然に城を作す、斯の形勝に因り、新号を制すべし、よろしく山背国を改めて、山城国となすべし。
② まさに、勅旨開田、ならびに諸院諸宮および五位以上、百姓の田地舎宅を買い取り、閑地荒田を占請するを停止すべき事。
③ それ往生極楽の教行は、濁世末代の目足なり、道俗貴賤、誰か帰せざる者あらん。
④ 裁断せられんことを請ふ、当国守藤原朝臣元命、三箇年内に責め取る非法の官物、ならびに濫行、横法三十一箇条の愁状。

問 9 2ページの地図(シ)の川の名称を記述解答欄に漢字で記入しなさい。

問10 下線部(ス)の時期の文化に関連するものとして、誤ったものを、次の①～

④のうちから1つ選び、マーク解答欄に記入しなさい。

- ① 園城寺不動明王像 ② 観心寺如意輪観音像
③ 日本霊異記 ④ 懐風藻

問11 下線部(セ)に関連して、以下の史料の下線部の人物として、もっとも正しいものを、次の①～④のうちから1つ選び、マーク解答欄に記入しなさい。

摂政太政大臣に万機を関白せしむるの詔を賜ふ(中略)、先帝聖明にして、其の撰録を仰ぐ、朕の冲眇、重ねるに弧けいをもつてす、其れ万機の巨細、百官己に総べ、皆太政大臣に関白し、然る後奏下すること一に旧事の如くせよ。

- ① 宇多天皇 ② 光孝天皇 ③ 醍醐天皇 ④ 陽成天皇

問12 空欄(ソ)と(タ)に入る人名の組み合わせとして、もっとも正しいものを、次の①～④のうちから1つ選び、マーク解答欄に記入しなさい。

- ① ソ 源頼義 タ 源義家
② ソ 源頼信 タ 源頼義
③ ソ 源頼信 タ 源義家
④ ソ 源頼義 タ 源頼信

問13 下線部(フ)に関連して、毛越寺を建立した人物として、もっとも正しいものを、次の①～④のうちから1つ選び、マーク解答欄に記入しなさい。

- ① 藤原泰衡 ② 藤原清衡 ③ 藤原秀衡 ④ 藤原基衡

問14 下線部(ツ)の内容に関して、誤ったものを、次の①～④のうちから1つ選び、マーク解答欄に記入しなさい。

- ① 鳥羽上皇死直後、崇徳上皇が左大臣藤原頼長と結び、源為義らを結集して、政治権力の確立を企図したが失敗した。
② 鳥羽上皇の政治に参加した藤原信西は、後白河上皇の近臣となり権力を得たが、源義朝の軍勢に捕まり自害した。
③ 藤原摂関家の内部対立から拡大した兵乱で、これに敗れた源義朝は処刑された。
④ 藤原家に生まれた慈円は、『愚管抄』のなかで鳥羽法皇死後、武士の世になってしまったと語った。

問15 空欄(テ)に入る事項として、もっとも正しいものを、次の①～④のうちから1つ選び、マーク解答欄に記入しなさい。

- ① 征夷大將軍就任
- ② 右大臣就任
- ③ 文治の勅許発令
- ④ 右近衛大將就任

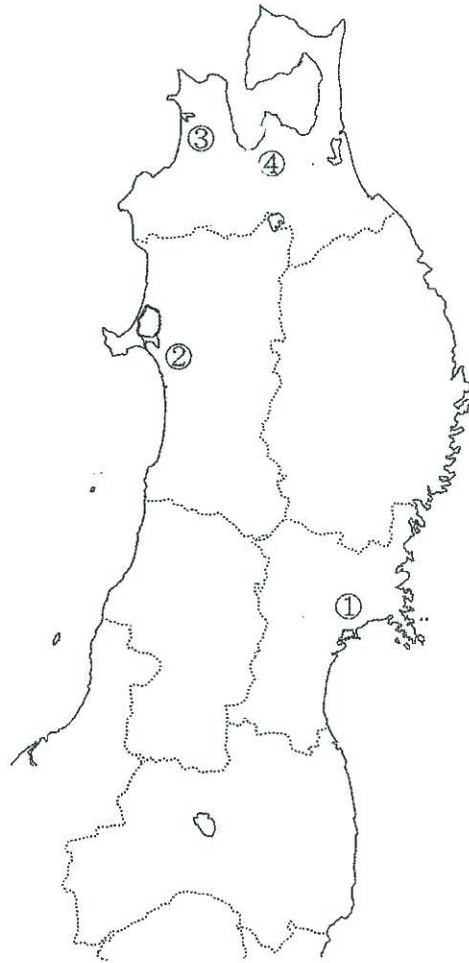
B 源頼朝の侵攻以降、東北地域に居住していた蝦夷はさらに圧迫され、しだいに、津軽海峡以北へと追いやられていった。^(ア)14世紀後半以降、蝦夷地といえは、現在の北海道南部を指すようになる。建武の新政の崩壊後、南北朝の動乱^(イ)が起こる。内乱の初期には、常陸國小田城を拠点にした(ウ)が東北地域を南朝の勢力下におくべく下向したが、内乱の長期化にしたがい、東北地域は、^(ロ)中央政権の関心の外に置かれることになっていった。

14世紀、流通交易に能力を発揮した豪族である安東氏が(オ)を拠点に支配領域を拡大し、15世紀には、和人が蝦夷地＝北海道南部まで進出し、アイヌ民族の生活を圧迫した。このため、和人とアイヌ民族との間でのトラブルが発生し、1457年、(カ)をリーダーとする武装蜂起が発生したが、武田信広が鎮圧し、蝦夷地に支配を広げた。

1467年に発生した(キ)の乱以降、戦国時代が始まり、^(ク)16世紀に入ると、東北地域でも下剋上の政治状況が見られるようになる。とくに、陸奥国守護であった伊達氏は、地域の土豪たちと被官関係を形成して戦国大名としての支配体制を確立していった。中央では、^(コ)織田信長が天下統一事業を展開したが、東北地域にまでは及ばなかった。これを引き継いだ豊臣秀吉は、惣無事を掲げ、小牧・長久手の戦の後、臣従した(サ)に執行させた。当初、これに従わなかった伊達政宗も小田原に参陣し、秀吉に臣従した。これにともない、(シ)の原則により、耕作者を検地帳に登録する太閤検地が、東北地域においても実施されることになった。

江戸幕府が成立すると、蝦夷地は、松前氏の支配領域とされた。米穀生産が不可能である蝦夷地において、松前氏は独自の領域支配を展開したが、これはアイヌの生活を圧迫したため^(ク)17世紀後半、(セ)をリーダーとする武装蜂起が発生した。

蝦夷地に関心を示さなかった幕府であったが、18世紀後半以降ロシアの接近⁽¹⁾を契機に蝦夷地政策を積極化していった。



問 1 下線部(ア)の時期の説明として、もっとも正しいものを、次の①～④のうちから1つ選び、マーク解答欄に記入しなさい。

- ① 足利義満は、六分の一衆と呼ばれた有力守護一族の内紛を利用して勢力の削減を図った。
- ② 足利義満は、太政大臣に就任し征夷大將軍と兼任することで公武の頂点を極めた後、南北朝の合一を図った。
- ③ 対馬島主宗貞茂の死を契機に、李氏朝鮮軍は倭寇の拠点であった対馬を襲撃した。
- ④ 絶海中津は、足利尊氏の帰依をうけ、『空華集』などの漢詩集を編纂し、足利家の菩提寺である等持院の住持となった。

問 2

(1) 下線部(イ)に関して、以下の史料の空欄に入る歴史名辞として、もっとも正しいものを、次の①～④のうちから1つ選び、マーク解答欄に記入しなさい。

- ① 綸旨 ② 勅許 ③ 御教書 ④ 令旨

君の御聖断は延喜・天曆の昔に立歸りて、武家安寧に民屋謳歌し(中略)、亦、天下一同の法を以、安堵の()を下さるといへ共、所帯をめさるる輩恨を含時分、公家に口ずさみあり、尊氏なしという詞を好み使いける。

(2) 上記の史料が掲載されている書物の名称として、もっとも正しいものを、次の①～④のうちから1つ選び、マーク解答欄に記入しなさい。

- ① 『建武年間記』 ② 『神皇正統記』
③ 『梅松論』 ④ 『太平記』

問 3 空欄(ウ)に入る人名として、もっとも正しいものを、次の①～④のうちから1つ選び、マーク解答欄に記入しなさい。

- ① 新田義貞 ② 足利直義 ③ 北畠顕家 ④ 北畠親房

問 4 下線部(エ)に関連して、長期化した要因として、もっとも正しいものを、次の①～④のうちから1つ選び、マーク解答欄に記入しなさい。

- ① 明の建国による経済の活性化
- ② 武士団における惣領制の解体
- ③ 武士団における血縁的結合の強化
- ④ 吉野を拠点とした持明院統の内紛

問 5 空欄(オ)の位置として、もっとも正しいものを、7ページの地図の①～④のうちから1つ選び、マーク解答欄に記入しなさい。

問 6 空欄(カ)(セ)に入る人名の組み合わせとして、もっとも正しいものを、次の①～④のうちから1つ選び、マーク解答欄に記入しなさい。

- ① カ コシャマイン セ シャクシャイン
- ② カ シャクシャイン セ コシャマイン
- ③ カ メナシ セ シャクシャイン
- ④ カ コシャマイン セ メナシ

問 7 空欄(キ)に入る元号を記述解答欄に漢字で記入しなさい。

問 8 下線部(ク)の時期の説明として、もっとも正しいものを、次の①～④のうちから1つ選び、マーク解答欄に記入しなさい。

- ① 宗祇が、『水無瀬三吟百韻』を編纂し、正風連歌を確立した。
- ② 延暦寺は、六角定頼の支援の下、京都の日蓮宗寺院を焼き払った。
- ③ 関東に進出した上杉謙信は、足利学校を再建した。
- ④ 一休宗純に教えをうけた千利休が侘び茶を大成させた。

問 9 下線部(ケ)に関連する内容として、もっとも正しいものを、次の①～④のうちから1つ選び、マーク解答欄に記入しなさい。

- ① 国絵図の作成命令
- ② 兵農分離の貫徹
- ③ 分国法の制定
- ④ 石高制の普遍化

問10 下線部(コ)に関連する以下の史料の空欄に入る人名として、もっとも正しいものを、次の①～④のうちから1つ選び、マーク解答欄に記入しなさい。

閏三月九日、()賀州へ乱入、添川・手取川打越し、宮の越に陣取り、所々放火、一揆、野の市と言所、川を前に当て楯籠もる、()、野の市の一揆追払い、数多切捨て、数百艘の舟共に兵糧入れ、分捕りさせ、是より次第に奥へ焼き入り、越中へ越し候

- ① 朝倉義景
- ② 柴田勝家
- ③ 福島正則
- ④ 浅井長政

問11 空欄(サ)に入る人名として、もっとも正しいものを、次の①～④のうちから1つ選び、マーク解答欄に記入しなさい。

- ① 真田昌幸
- ② 上杉景勝
- ③ 徳川家康
- ④ 佐竹義重

問12 空欄(シ)に入る歴史的な名辞を記述解答欄に漢字で記入しなさい。

問13 下線部(ス)の時期の説明として、もっとも正しいものを、次の①～④のうちから1つ選び、マーク解答欄に記入しなさい。

- ① 滝沢馬琴が忠義をテーマにした『南総里見八犬伝』を連載し、人気を博した。
- ② 近松門左衛門は因果をテーマにした『武家義理物語』を創作し、人気を博した。
- ③ 林羅山は和文体による『本朝通鑑』を著し、九変五変論を展開した。
- ④ 本阿弥光悦は、京都鷹ヶ峰を拠点に蒔絵作品を創作した。

問14 下線部()に関して、発生した順番として、もっとも正しいものを、次の

①～④のうちから1つ選び、マーク解答欄に記入しなさい。

① ラクスマン来航→東蝦夷地幕府直轄地化→レザノフ来航→松前奉行設置

② レザノフ来航→東蝦夷地幕府直轄地化→ラクスマン来航→松前奉行設置

③ ラクスマン来航→松前奉行設置→レザノフ来航→東蝦夷地幕府直轄地化

④ レザノフ来航→ラクスマン来航→東蝦夷地幕府直轄地化→松前奉行設置

C (ア)6年、M.ペリーが浦賀に、J.V.プチャーチンは長崎に、それぞれ来航した。ここから日本は激動の近代へと突入する。幕府は、ロシアとの間には日露和親条約を締結し、日露の国境を定めようとした。この間、幕府および、諸大名はそれまで無関心であった蝦夷地=北海道への危機感を深めていった。松平慶永は侍読兼内用掛であった(イ)の意見を入れ、蝦夷地の重要性を意識するようになった。しかし、井伊直弼による弾圧により(イ)は処刑され、松平慶永も謹慎処分になってしまう。

その後、政局は激変、薩摩藩・長州藩らによる討幕運動へと傾き、戊辰戦争が勃発する。東北地方の会津藩は、藩主松平容保が(ウ)に就任していたこともあり、江戸城無血開城ののちも、奥羽越列藩同盟とともに維新政府軍に抵抗する。東北地方は戦場となったのである。この時、戦争に敗れた盛岡藩などの奥羽越列藩同盟の諸藩は賊軍とされ、近代を通じて差別され続け、東北の地は「一山一文」しか価値がないとの比喩さえ生まれた。盛岡藩出身で、薩長の藩閥支配に抵抗しつつ、第3代立憲政友会総裁となった(エ)は、「一山」との号(ニックネーム)を自らつけていた。

近代国家形成を急ぐ明治政府は、国境の確定を企図して(オ)の建議を入れて樺太・千島交換条約を締結した。この条約締結後、北海道庁が設置され、北海道の開発は進展し、本州からの移民が増加した。日本政府は、アイヌ民族

の同化をはかる法令を制定したが、アイヌ民族への差別は拡大されていった。
また(ク)年に成立した衆議院議員選挙法は北海道では施行されなかった。

大正末期、北海道の人口は250万人に達したが、産業は本土の財閥に把握されていた。農業では大農場経営が展開したが、これは地主制の下にあった。戦前の北海道は、沖縄とならび内地植民地的な状況におかれていたのである。

1956年、日ソ共同宣言が調印されたが、日ソ間の領土問題は解決できなかった。これは、ロシア大統領の交代のたびに話題にはなるが、その時限り、との感は否めない。

問1 空欄(ア)に入る元号として、もっとも正しいものを、次の①～④のうちから1つ選び、マーク解答欄に記入しなさい。

- ① 安政 ② 嘉永 ③ 文久 ④ 元治

問2 空欄(イ)に入る人物として、もっとも正しいものを、次の①～④のうちから1つ選び、マーク解答欄に記入しなさい。

- ① 佐久間象山 ② 橋本左内 ③ 吉田松陰 ④ 横井小楠

問3 空欄(ウ)に入る歴史的な名辞として、もっとも正しいものを、次の①～④のうちから1つ選び、マーク解答欄に記入しなさい。

- ① 京都所司代 ② 政事総裁職
③ 将軍後見職 ④ 京都守護職

問4 空欄(エ)に入る人物として、もっとも正しいものを、次の①～④のうちから1つ選び、マーク解答欄に記入しなさい。

- ① 高橋是清 ② 犬養毅 ③ 原敬 ④ 星亨

問5 空欄(オ)に入る人物として、もっとも正しいものを、次の①～④のうちから1つ選び、マーク解答欄に記入しなさい。

- ① 黒田清隆 ② 榎本武揚 ③ 渋沢栄一 ④ 山県有朋

問 6 下線部(カ)より以前に発生した出来事として、もっとも正しいものを、次の①～④のうちから1つ選び、マーク解答欄に記入しなさい。

- ① 植木枝盛が「日本憲法見込案」を起草する。
- ② 明治政府は保安条例により、片岡健吉らに退去命令を発令する。
- ③ 津田三蔵が、来日していたロシア皇帝ニコライを襲撃し負傷させた。
- ④ 明治政府は、太政官制を廃止し内閣制度を創設する。

問 7 下線部(キ)に関連する以下の史料の()に入る語句を記述解答欄に漢字で記入しなさい。

第一条 北海道()にして、農業に従事する者または、従事せんと欲する者には、一戸に付土地一万五千坪以内を限り、無償下付することを得

問 8 空欄(ク)に入る数字として、もっとも正しいものを、次の①～④のうちから1つ選び、マーク解答欄に記入しなさい。

- ① 1889 ② 1899 ③ 1902 ④ 1912

問 9 空欄(ケ)より以前に発生した出来事として、もっとも正しいものを、次の①～④のうちから1つ選び、マーク解答欄に記入しなさい。

- ① 東京オリンピック開催
- ② 自衛隊・防衛庁発足
- ③ 日米地位協定締結
- ④ LT 貿易開始

問10 下線部(コ)に関連する事項として、もっとも正しいものを、次の①～④のうちから1つ選び、マーク解答欄に記入しなさい。

- ① 国際連合加盟
- ② 国後島の返還合意
- ③ 戦後賠償の打ち切り
- ④ 吉田茂内閣による調印

〔Ⅱ〕 日本における資本主義の発達に関する以下の設問A・Bを読み、各設問に解答しなさい。

なお、設問で使用した史料は、読みやすいように一部改め、伏せ字の箇所もある。

A 下の表は、物価の動向を示した数値である。(1)の覧は西暦、(2)の覧は1873年を100とした場合の物価指数となっている。

| (1) | (2) | | |
|------|-----|--|--|
| 1873 | 100 | <div style="border: 1px solid black; width: 100%; height: 100%; display: flex; align-items: center; justify-content: center;"> } </div> | |
| 1874 | 108 | | |
| 1875 | 113 | | |
| 1876 | 108 | | |
| 1877 | 111 | | (イ) |
| 1878 | 117 | | |
| 1879 | 128 | | |
| 1880 | 146 | | |
| 1881 | 162 | | |
| 1882 | 156 | | <div style="border: 1px solid black; width: 100%; height: 100%; display: flex; align-items: center; justify-content: center;"> } </div> |
| 1883 | 126 | | |
| 1884 | 110 | (ウ) | |
| 1885 | 112 | | |

問1 (ア)の時期の財政政策として、もっとも正しいものを、次の①～④のうちから1つ選び、マーク解答欄に記入しなさい。

- ① 土佐藩出身で、自由民権運動にも参加した大藏卿が財政を指導した。
- ② 国立銀行条例を改正、兌換紙幣を大量に発行し、国内産業を育成した。
- ③ 地租改正を推進し、貨幣・金融制度を樹立して殖産興業政策を積極化した。
- ④ 工場払下げ概則を廃止し、長崎造船所など官営事業を民間へ払い下げた。

問 2 (イ)の年に発生した出来事として、もっとも正しいものを、次の

①～④のうちから1つ選び、マーク解答欄に記入しなさい。

- ① 琉球漁民が殺害された、ということを経由に日本政府は、台湾に出兵した。
- ② 日本軍艦雲揚号と、江華島砲台との交戦が発生した。
- ③ 鹿児島島の土族が西郷隆盛を擁して挙兵する大規模な反乱が勃発した。
- ④ フランスの制度を模倣し、全国を大・中・小区の学区にわけ、学校を設定する法令が出た。

問 3 (ウ)の時期の財政をリードした大藏卿に関する説明として、もっとも正しいものを、次の①～④のうちから1つ選び、マーク解答欄に記入しなさい。

- ① 長州藩出身であり、陸軍にも影響を持ち、のち元老として権力を行使した。
- ② 生涯二度内閣総理大臣に就任し、貨幣法を成立させ金本位制を確立させた。
- ③ 薩摩藩出身であり、大藏卿就任前には岩倉遣欧使節団の副使をつとめた。
- ④ 第1次伊藤博文内閣の外相となり、条約改正を担当するが失敗した。

問 4 (ウ)の時期の様子として、誤ったものを次の①～④のうちから1つ選び、マーク解答欄に記入しなさい。

- ① 立憲改進黨結成
- ② 民法典論争発生
- ③ 甲申事変勃発
- ④ 東京専門学校設立

B 日本における軽工業は日清戦争前後の時期に発達した。製糸業では、^(ア) (イ)式の技術を導入した器械製糸工場が長野・岐阜・山梨の三県を中心に設立され、順調に生糸生産を増加させていった。(ウ)年には、器械製糸生産量が、座繰製糸生産量を凌駕し、1909年には生糸輸出量は世界1位となった。^(エ)

紡績業では、(オ)の発明によるガラ紡が、全国に広まった。1883年には大阪紡績会社が設立され、その後も大規模工場が誕生し(キ)年には、綿糸輸出量が輸入量を凌駕するようになった。^(カ)

日露戦争の前後、重工業が発達した。日本政府は、日清戦争の賠償金の一部を利用して、北九州に官営八幡製鉄所を設立した。また、日露戦争後には、日本海軍の技術指導も受けて(ク)を設立した。また、政府の保護をうけた政商は、持株会社を結成し財閥へと成長した。^(ケ)

日清戦争前後では炭坑や繊維産業において、労働問題が発生した。1897年、高野房太郎らを中心^(コ)に労働組合期成会が結成された。このような動きと連動して、社会主義運動が昂揚し、1906年には日本で最初の合法的社会主義政党として日本社会党が結成された。^(ク)

問1 下線部(ケ)に関連する事項として、もっとも正しいものを、次の①～④のうちから1つ選び、マーク解答欄に記入しなさい。

- ① 1886年、劣悪な労働条件の下、大阪天満の工場で最初の女工のストライキが発生した。
- ② 幕末開港の段階では、貿易による品不足による物価上昇によって、壊滅的打撃を受けた。
- ③ 群馬県富岡に官営工場が設立され、士族の子女が最新技術を学んだ。
- ④ 原材料の繭は、国内生産が主であったが、1890年以降は中国からの輸入に依存するようになった。

問 2 空欄(イ)に入る国名として、もっとも正しいものを、次の①～④のうちから1つ選び、マーク解答欄に記入しなさい。

- ① イギリス ② フランス ③ アメリカ ④ ドイツ

問 3 空欄(ウ)と(キ)に入る数字の組み合わせとして、もっとも正しいものを、次の①～④のうちから1つ選び、マーク解答欄に記入しなさい。

- ① ウ 1894 キ 1897
② ウ 1890 キ 1894
③ ウ 1897 キ 1894
④ ウ 1894 キ 1890

問 4 下線部(エ)に関連して、最大の輸出先の国名として、もっとも正しいものを、次の①～④のうちから1つ選び、マーク解答欄に記入しなさい。

- ① イギリス ② フランス ③ アメリカ ④ ドイツ

問 5 空欄(オ)に入る人名として、もっとも正しいものを、次の①～④のうちから1つ選び、マーク解答欄に記入しなさい。

- ① 豊田佐吉 ② 古河市兵衛 ③ 岩崎弥太郎 ④ 臥雲辰致

問 6 下線部(カ)に関連する事項として、もっとも正しいものを、次の①～④のうちから1つ選び、マーク解答欄に記入しなさい。

- ① 渋沢栄一ら民間起業家と、前田・毛利らの旧大名家が資本の70%、大蔵省が30%を出資して設立された。
② 設立当初は、リング紡績機が使用されたが、より効率がよいミュール紡績機へと転換が図られた。
③ 一万錘規模の大規模工場であり、1884年には、ガラ紡を抜き全国綿糸生産量のトップを占めた。
④ 紡績女工の昼夜二交代制を採用し、夜間作業用には電灯を用いた。

問 7 空欄(ク)に入る語句として、もっとも正しいものを、次の①～④のうちから1つ選び、マーク解答欄に記入しなさい。

- ① 日本製鋼所 ② 鞍山製鉄所
- ③ 釜石製鉄所 ④ 横須賀製鉄所

問 8 下線部(ケ)に関連して、1909年に結成されたこの機関が関与した企業として、もっとも正しいものを、次の①～④のうちから1つ選び、マーク解答欄に記入しなさい。

- ① 三菱商事 ② 王子製紙 ③ 別子銅山 ④ 朝鮮銀行

問 9 下線部(コ)に関連する以下の史料が掲載された雑誌の説明として、もっとも正しいものを、次の①～④のうちから1つ選び、マーク解答欄に記入しなさい。(一部伏せ字となっている。)

明治一八年十一月、余は彼の有名なる肥前国西彼杵郡(*)の実況を探查せんと欲し、長崎港より船に投じて、該島に渡り(中略)、後藤氏に代わりて炭鉱事業を執るや、千古未曾有の压制法を設け、人類たる三千の坑夫を使役駆逐する最苛最酷にして

- ① 徳富蘇峰が設立した民友社が発行した総合雑誌であり、欧米の社会主義思想を紹介したこともあった。
- ② 福沢諭吉が不偏不党を掲げ創刊し、慶應義塾出身者が多く執筆にあたり、文明開化をリードした。
- ③ 三宅雪嶺ら国粹主義者たちが設立した政教社が発行した総合雑誌であり、政府の鹿鳴館政策などにも反対していた。
- ④ 農商務省が、労働者の実態調査を行い定期的に発行した雑誌であり、これをもとに工場法が制定された。

問10 下線部(甲)の説明として、もっとも正しいものを、次の①～④のうちから1つ選び、マーク解答欄に記入しなさい。

- ① 『万朝報』の記者となるが、社長黒岩涙香が主戦論となると退社し平民社に参加した。
- ② 立憲政友会の創立を「自由党を祭る文」を書いて批判、のち赤旗事件に関連して逮捕された。
- ③ 渡米し、アメリカの労働組合運動の影響をうけ、帰国後、職工義友会なども結成した。
- ④ 日本で最初の普通選挙運動をおこし、日露反戦を題材とした小説『火の柱』を執筆した。

問11 下線部(乙)の説明として、もっとも正しいものを、次の①～④のうちから1つ選び、マーク解答欄に記入しなさい。

- ① 安部磯雄・片山潜ら6名によって結成され、軍備全廃などを掲げた綱領を作成した。
- ② 堺利彦らによって、コミンテルン日本支部として結成され、天皇制打破のスローガンを掲げた。
- ③ 賀川豊彦らによって結成され、貧民救済を掲げたが、アナルコ＝サンディカリズムへと傾斜していった。
- ④ 穏健な西園寺内閣成立を背景に成立したが、幸徳秋水らの直接行動派が力をもつと、結社禁止とされた。

〔Ⅲ〕 次の文を読み、問(1)～問(10)に答えなさい。

1989年7月に行われた、第15回参議院選挙では、それまで参議院の第二党であった(ア-a)をはじめとする野党勢力が、90議席を獲得し、非改選議員と合わせて、定員252議席のうち143議席を占め、この選挙で大きく議席を減らした(ア-b)が与党ながら少数勢力となり、参議院議長には(ア-a)党首の土井たか子が就任した。

この選挙結果で生じた状況は、55年体制の危機とも受け取られ、その後の政治局面に大きな影響を及ぼすこととなった。

また1989年という年は、新年早々に裕仁天皇が死去し、元号が昭和から平成に変わり、また、中国での(エ)や、ベルリンの壁の崩壊など、国内外で、時代の変化がひしひしと感じられる年でもあった。 1988

この選挙に大きく影響した背景としては、その前年に、国民世論の大きな反発を受けながら(ア-b)政権が導入を決めた(オ)に対する、従来は当時の政権を支持した層も含む有権者の不満や、政治家や官僚の関与した企業からの相継ぐ献金疑惑事件への国民各層の反発などが挙げられる。戦後の日本の税制は、1949年の米国の税制使節団の報告書による勧告に沿った、直接税中心主義であったが、その後、国民の間の税負担の公平性のあり方や、^(キ) 税収そのものの増加をはかる論議が続けられ、間接税の拡充の方策としての(オ)の導入問題が、しだいに大きな政治課題となっていた。

そもそも増税は、納税者の反発をまねくのが通例である。例えば明治時代にも、1898年、歳入の増加を意図した政府の増税案を巡り、1895年～1897年の段階では、帝国議会での政府予算案の成立に協力してきた政党勢力が、この増税案には抵抗したことにより不成立となり、結局、その時の内閣が総辞職を余儀なくされるなど、税金問題は、きわめて大きな政治問題である。

問 1 空欄(ア-a)と(ア-b)に入れるべき適切な言葉の組み合わせを、次の

①～④から選び、マーク解答欄にマークしなさい。

(ア-a) (ア-b)

- | | |
|----------|-------|
| ① 日本社会党 | 自由民主党 |
| ② 新党さきがけ | 自由党 |
| ③ 社会民主党 | 自由民主党 |
| ④ 民社党 | 自由党 |

問 2 下線部(イ)に関して、もっとも正しいものを、次の①～④から一つ選び、
マーク解答欄にマークしなさい。

- ① 昭和 55 年に、その後長らく続く、与党第一党と野党第一党の、衆議院での議席比率が、約 2 : 1 となった。
- ② 1955 年に、「護憲・革新・安保体制に反対」を掲げる政党と、「改憲・保守・安保体制護持」を掲げる政党の、二大政党体制が誕生した。
- ③ 昭和 55 年に、参議院では、野党第一党の党首が、議長となることが決まった。
- ④ 1955 年の衆参同時選挙で、野党勢力が憲法改正を阻止できる議席の三分の一以上を獲得した。

問 3 下線部(ウ)に関して、もっとも正しいものを、次の①～④から一つ選び、
マーク解答欄にマークしなさい。

- ① 参議院で第一党となった政党が、それまで集票基盤としていた国鉄労働組合との関係を断ったことで、国鉄分割民営化が加速した。
- ② 参議院選挙での敗北を受けて、時の海部内閣は総辞職した。
- ③ 参議院選挙での敗北その他の要因で、時の宇野首相は退陣した。
- ④ 参議院選挙の結果を受けて、安全保障問題の再検討の機運が高まり、政府は、防衛大綱の見直しのため、国防会議を設置した。

問 4 空欄(エ)に入れるべき適切な言葉を、次の①～④から一つ選び、マーク解答欄にマークしなさい。

- ① 台湾との交流拡大
- ② 天安門事件
- ③ 株式市場の開設
- ④ 香港返還

問 5 空欄(オ)に入れるべき適切な言葉を記述解答欄に漢字で記入しなさい。

問 6 下線部(カ)に関して、次の①～④から、もっとも正しいものを一つ選び、マーク解答欄にマークしなさい。

- ① リクルート事件
- ② ダグラス・グラマン事件
- ③ 昭和電工事件
- ④ オレンジ共済組合事件

問 7 下線部(キ)に関して、次の①～④から、もっとも正しいものを一つ選び、マーク解答欄にマークしなさい。

- ① 団長ドッジの、日本経済再建構想が基本方針であった。
- ② 団長シャウプは、地方財源の拡充強化も重要課題とした。
- ③ 団長ドッジは、所得税及び法人税中心主義を強く主張した。
- ④ 団長シャウプの、酒税の廃止等、間接税の整理が基調であった。

問 8 下線部(ク)に関して、次の①～④から、もっとも正しいものを一つ選び、マーク解答欄にマークしなさい。

- ① 日清戦争に際しての、欧米諸国からの軍費借款の返済のため
- ② 朝鮮植民地支配に備えての朝鮮でのインフラ整備のため
- ③ 地租の増徴による、軍事費の拡大のため
- ④ 増加し始めた、都市勤労者層の所得税の増税のため

問 9 下線部(ケ)に関して、次の①～④から、もっとも正しい組み合わせを一つ選び、マーク解答欄にマークしなさい。

- ① 進歩党と改進黨
- ② 改進黨と政友会
- ③ 政友会と自由党
- ④ 自由党と進歩党

問10 下線部(コ)に関して、次の①～④から、もっとも正しいものを一つ選び、マーク解答欄にマークしなさい。

- ① 第1次松方内閣
- ② 第3次伊藤内閣
- ③ 第1次大隈内閣
- ④ 第2山県内閣