



## 日本史 B 問題

はじめに、これを読みなさい。

1. この問題用紙は 13 ページある。ただし、ページ番号のない白紙はページ数に含まない。
2. これは、日本史 B の問題である。出願の時に選択した科目であるかどうかを確認の上、解答すること。
3. 監督者の指示にしたがい、解答用紙の氏名欄に必ず氏名を記入すること。
4. 解答用紙に印刷されている受験番号が正しいかどうか、受験票と照合して確認すること。
5. 解答は、すべて解答用紙の所定欄に記入またはマークすること。所定欄以外のところには何も記入しないこと。
6. 問題に指定された数より多くマークしないこと。
7. 解答は、必ず鉛筆またはシャープペンシル(いずれも HB・黒)で記入すること。
8. 訂正する場合は、消しゴムできれいに消し、消しくずを残さないこと。
9. 解答用紙は、絶対に汚したり折り曲げたりしないこと。
10. 文字は一点一画まで正確に書くこと。
11. 解答用紙はすべて回収する。持ち帰らず、必ず提出すること。ただし、この問題用紙は必ず持ち帰ること。
12. 試験時間は 60 分である。
13. マーク記入例

良い例	悪い例
	

〔 I 〕 次の文章は、日本の古墳時代について述べたものである。これを読んで、下記の設問に対するもっとも適切な答えを記入しなさい。設問 1～5 については記述解答欄に書き、設問 6～15 についてはマーク解答欄にマークしなさい。

3 世紀後半になると、大規模な前方後円墳をはじめとする古墳が西日本を中心に出現する。古墳がつくられていた 3 世紀後半から 7 世紀は古墳時代と呼ばれ、前期(3 世紀後半～4 世紀)、中期(4 世紀末～5 世紀)、後期(6～7 世紀)に区分される。

古墳の様式やその普及、また埋葬品などから、当時の日本の政治や文化について、多くのことが読み取れる。古墳時代前期の前半を特に出現期と呼ぶことがあるが、この時期の古墳の多くは、形状としては前方後円墳、または  墳、埋葬施設としては竪穴式の石室といった画一的な特徴を持つ。こうした画一的な古墳が近畿を中心に九州北部にまで普及していることは、ここに広域的な政治連合が成立していたことを物語る。これをヤマト政権、ヤマト王権などと呼ぶ。前期の代表的な古墳としては、 <sup>(ア)</sup>などが挙げられる。

大規模化する中期の古墳のうち、最大の規模のものが、仁徳天皇陵とされる  古墳であり、周囲の従属的な小型の古墳も含めるとその墓域は 80 ヘクタールにも及ぶ。こうした中期の巨大な前方後円墳は、現在の群馬県、京都府、岡山県、広島県、 などにも見られる。

後期になると朝鮮半島と共通の横穴式の石室が一般化した。また、九州や茨城県、福島県の古墳では墓室に彩色あるいは線刻された壁画を持つ装飾古墳 <sup>(エ)</sup>が見られるようになるなど、古墳の地域色が強くなった。小型古墳が増加し、群集墳と呼ばれる小古墳が山間や小島にも数多く作られるようになった。これは、有力農民までが古墳を作れるようになったことのあらわれであり、大王を中心とした当時の政権が、有力農民を組み入れ、直接支配下に置こうとしたことと関わりがあると考えられている。

副葬品に注目すると、前期は銅鏡、勾玉など、呪術的性格の強いものが多く、被葬者は司祭者の性格を持っていたと考えられる。被葬者の武人的性格が強まる <sup>(オ)</sup>

中期には、鉄製の武器・武具が増加した。このうち、江田船山古墳から出土した鉄刀と稲荷山古墳から出土した鉄剣には、ともに「獲加多支鹵大王」の銘文がある。これは雄略天皇を指すと考えられており、この時期、ヤマト政権の支配が、九州から関東にまで及んでいたことが推定される。

後期の副葬品としては、弥生土器の製法を受け継いだ (C) や、5世紀に朝鮮半島から伝来した技術を用いた (D) など、多量の土器が収められるようになる。

古墳の墳丘の上には埴輪が並べられた。埴輪は、円筒埴輪と形象埴輪の二種に大別される。前期・中期は、円筒埴輪、および形象埴輪としては家形埴輪、そして盾、蓋などをかたどった (E) 埴輪が用いられたが、後期にはこれらに加えて、人物・動物埴輪が盛んに用いられるようになった。また、5～6世紀の九州北部の古墳では (コ) が建てられた。

1. 空欄(A)に入る古墳の形式を、漢字で書きなさい。
2. 空欄(B)に入る古墳を、漢字で書きなさい。
3. 空欄(C)に入る土器の種類を、漢字で書きなさい。
4. 空欄(D)に入る土器の種類を、漢字で書きなさい。
5. 空欄(E)に入る語句を、漢字で書きなさい。
6. 下線部アの政権において成立した制度を、下記の①～④から選びなさい。  
① 条里制            ② 御家人制度       ③ 氏姓制度       ④ 律令制度
7. 空欄イに入る古墳を、下記の①～④から選びなさい。  
① 王塚古墳       ② 箸墓古墳       ③ 造山古墳       ④ 高松塚古墳

8. 空欄(ウ)に入る地名を、下記の①～④から選びなさい。

- ① 三重県            ② 富山県            ③ 茨城県            ④ 宮崎県

9. 下線部(エ)に当たる古墳を、下記の①～④から選びなさい。

- ① 竹原古墳                            ② 菅田御廟山古墳  
③ 五色塚古墳                        ④ 黒塚古墳

10. 下線部(カ)に関して、鹿の肩甲骨を焼いてその割れ目の形で吉凶を占うことを何というか、下記の①～④から選びなさい。

- ① 盟神探湯            ② 亀卜            ③ 加持祈禱            ④ 太占

11. 下線部(カ)の古墳の所在地を、下記の①～④から選びなさい。

- ① 岡山県            ② 鹿児島県            ③ 熊本県            ④ 埼玉県

12. 下線部(キ)の古墳の所在地を、下記の①～④から選びなさい。

- ① 鹿児島県            ② 埼玉県            ③ 千葉県            ④ 熊本県

13. 下線部(ク)の銘文に用いられている文字である漢字など、様々な文化や技術をもたらした渡来人のうち、養蚕、機織を伝え、秦氏の祖となったとされる人物を、下記の①～④から選びなさい。

- ① 王仁            ② 弓月君            ③ 阿知使主            ④ 司馬達等

14. 下線部(ク)の雄略天皇と見られる倭王武を含む倭の五王について記述したものを、下記の①～④から選びなさい。

- ① 『漢書』地理志                            ② 『魏志』倭人伝  
③ 『宋書』倭国伝                            ④ 『後漢書』東夷伝

15. 空欄(コ)に入る語句を、下記の①～④から選びなさい。

- ① 土偶            ② 石人・石馬            ③ 銅鐸            ④ 朱雀門

- 〔Ⅱ〕 次の文章は、主に日本の中世の文化について述べたものである。これを読んで、下記の設問に対するもっとも適切な答えを書きなさい。設問1、4、7、9、10についてはマーク解答欄にマークし、設問2、3、5、6、8については記述解答欄に書きなさい。

室町時代には、中央文化と地方文化、武家文化と公家文化、大陸文化と伝統文化などの融合が進み、その後の日本文化の基盤がさまざまに形成された。3代將軍の足利義満は、芸の美を追究する親阿弥と世阿弥を庇護し、芸術性の高い能楽<sup>(ア)</sup>の完成を支えた。義満が北山にて営んだ金閣は、第1層は  風の阿弥陀堂、第3層は  の仏殿となっており、様式の折衷が、この時代の文化の特徴をよくあらわしている。8代將軍の足利義政も東山に銀閣を建て、芸能者や文化人を庇護した。なお、銀閣は下層が書院造、上層は  となっている。作庭師の  は、義政に天下第一と称えられ、子の三郎や孫の又四郎らとともに銀閣の庭をつくったといわれている。他方、政治や経済の面で力を低下させた公家の中には、有職故実の学問に注力する者もあり、とりわけ一条兼良<sup>(イ)</sup>は多くの書を著した。

また、この時代には連歌が流行し、16世紀前半には俳諧連歌の祖ともいわれる  が、自由な庶民的精神を示す『犬筑波集』を編集した。茶の湯の分野では、同じく16世紀前半に、当時の堺の代表的茶人であった  が唐様趣味を和様に転化する工夫をし、小間の茶室や竹の茶入・茶杓などを創案した。美術の分野では狩野元信が漢画に大和絵を取り入れ、父・正信とともに狩野派の画風を確立した。

1. 下線部(ア)の人物が仲介し、1392年に南北朝の合体がなしとげられたときの南朝の天皇を下記の①～④の中から選びなさい。  
① 後醍醐天皇    ② 後龜山天皇    ③ 後三条天皇    ④ 後白河天皇
2. 下線部(イ)の人物の談話を子の元能が筆録して1430年に完成させた能楽の具体的芸道論の書名を漢字で書きなさい。


3. 下線部ウの人物の正室で、足利義尚の母である人物の名前を漢字4文字で書きなさい。

4. 下線部エの人物の著書を下記の①～④の中から選びなさい。

- ① 『樵談治要』      ② 『顕戒論』      ③ 『水鏡』      ④ 『貞観政要』

5. 図1は大仙院の障壁画として、下線部オの人物が描いたと考えられている作品の一部である。この大仙院を敷地内に擁する、一休宗純が住持を務めたことでも知られる臨済系の寺の名前を、漢字で書きなさい。

図1



6. 空欄Aに入る様式の名前を漢字3文字で書きなさい。

7. 空欄Bに入る様式の名前を下記の①～④の中から選びなさい。

- ① 権現造      ② 校倉造      ③ 数寄屋造      ④ 禅宗様

8. 空欄Cに入る人物の名前を漢字で書きなさい。

9. 空欄Dに入る人物の名前を下記の①～④の中から選びなさい。

- ① 西行      ② 山崎宗鑑      ③ 東常縁      ④ 松永貞徳

10. 空欄Eに入る人物の名前を下記の①～④の中から選びなさい。

- ① 村田珠光      ② 古田織部      ③ 武野紹鷗      ④ 織田有楽斎

〔Ⅲ〕 次の文章は、主に日本近世の宗教史と思想史について述べたものである。これを読んで、設問に対するもっとも適切な答えを記入しなさい。設問 2, 6, 9, 10, 12 については記述解答欄に記入し、ほかの設問についてはマーク解答欄にマークしなさい。

高校の日本史の教科書をひも解くと、宗教に関する記述の多くは中世時代に集中している。しかしながら、現在の日本の宗教的風土を理解しようとするれば、とりわけ江戸(徳川)時代の宗教史を理解しなければならない。

例えば、今日、多くの日本人はその由来を知らないまま、特定の仏教の宗派に基づく葬儀を行う。ある家では浄土真宗、ある家では禅宗、ある家では真言宗などといったように。この習慣は、1612年に  が出されて、幕領からはじまった  制度という宗教統括政策に起源をもつと考えられている。各家が特定の寺院に直属することによって、キリシタンではないこと、日蓮宗不受不施ではないことを確認するという、一種の監視制度であった。明治初期には  が進められ、この制度も廃止された。しかし、多くの家がいまだに  を持っているのはこの制度に由来する。

さらに、この制度の成立を違う観点から考えると、徳川政権の排他的対外姿勢を窺い知ることもできる。しかしながら、徳川政権は異文化に対して一概に否定的ではなかったのも事実である。一例を挙げれば、江戸(徳川)時代において明からは数多くの禅僧が長崎に渡来している。1654年に渡来し、 の開祖として知られる福州の  (1592—1673)がその代表例である。 は当時大陸の最先端文化を日本に紹介したことによって日本史に名を残した。とりわけ、明風の伽藍配置・様式、美術の作風、食文化(普茶料理・煎茶道など)はおおいに当時の知識人から注目を浴びた。 が開創した宇治(現在の京都府宇治市)  は、その明風の建築や景色のため、現在もなお京都を訪ねる多くの観光客に親しまれている。

一方、この時代においては神道にも大きな変動があった。明治以降、皇室を中心とする  の起源は江戸時代の国学の発達と密接な関係にあった。初期国学者の代表者の一人を挙げれば、『古事記』や『日本書紀』や『源氏物語』を実証的

に研究しようとした  (1730—1801)がいる。その後、この思想系譜は江戸の気吹之舎を開塾した  (1776—1843)によってさらに体系化されていく。これは、 とも呼ばれる。

また、江戸後期から明治初期にかけて、数多くの神道系民衆宗教が誕生した。そのもっとも典型的なのが、 (1798—1887)が創始した  である。さらには、黒住教、 なども江戸後期に誕生する。これらを  と総称する。近現代の新興宗教ブームに先駆ける近世の新興宗教ブームであった。

1. 空欄Aに入る語句を下記の①～④の中から選びなさい。

- ① バテレン追放令
- ② 諸宗本山寺院法度
- ③ 生類憐みの令
- ④ 禁教令

2. 空欄Bに入る語句を漢字2文字で記入しなさい。

3. 空欄Cに入る語句を下記の①～④の中から選びなさい。

- ① 廃仏毀釈
- ② 五・四運動
- ③ 諸社禰宜神主法度
- ④ 諸宗本山寺院法度

4. 特定の寺院に直属すると、その寺を  という。空欄Dに入る語句を下記の①～④の中から選びなさい。

- ① 檀那寺
- ② 本山
- ③ 末寺
- ④ 講

5. 空欄Eに入る語句を下記の①～④の中から選びなさい。

- ① 律宗
- ② 黄檗宗
- ③ 華嚴宗
- ④ 南宗

6. 空欄Fに入る、長崎に渡来した高僧の名前を漢字4文字で記入しなさい。



7. 空欄Gに入る語句を下記の①～④の中から選びなさい。  
① 崇福寺          ② 永福寺          ③ 興福寺          ④ 万福寺
8. 空欄Hに入る語句を下記の①～④の中から選びなさい。  
① 教派神道          ② 国家神道          ③ 復古神道          ④ 吉田神道
9. 空欄Iに入る人物の名前を漢字で書きなさい。
10. 空欄Jに入る人物の名前を漢字で書きなさい。
11. 空欄Kに入る語句を下記の①～④の中から選びなさい。  
① 山岳神道          ② 唯一神道          ③ 復古神道          ④ 国家神道
12. 空欄Lに入る女性の名前を書きなさい。
13. 空欄Mに入る語句を下記の①～④の中から選びなさい。  
① 天理教          ② 大本教          ③ 天主教          ④ 神道禊教
14. 空欄Nに入る、1859年に創始された宗教教団を下記の①～④の中から選びなさい。  
① ええじゃないか          ② 修験道  
③ 金光教          ④ 大本教
15. 空欄Oに入る語句を下記の①～④の中から選びなさい。  
① 教派神道          ② 国家神道          ③ 唯一神道          ④ 神社神道

〔IV〕 次の外交史料を読み下記の設問に答えなさい。

第一号 (前文略)

第一条 支那国政府ハ、(a) 国カ山東省ニ関シ条約其他ニ依リ支那国ニ  
対シテ有<sup>ス</sup>コル一切ノ権利・利益・讓与等ノ処分ニ付、日本国政府カ  
(a) 国政府ト協定スヘキ一切ノ事項ヲ承認スヘキコトヲ約ス  
(中略)

第三条 支那国政府ハ、<sup>チーファー</sup>芝罘又ハ<sup>りゅうこう</sup>龍口ト<sup>こうしゅう</sup>膠州湾ヨリ<sup>さいなん</sup>済南ニ至ル鉄道トヲ連絡  
スヘキ鉄道ノ敷設ヲ日本国ニ允許ス  
(中略)

第二号 日本国政府及支那国政府ハ支那国政府カ南滿洲及(b)ニ於ケル日  
本国ノ優越ナル地位ヲ承認スルニヨリ、茲ニ左ノ条款ヲ締約セリ

第一条 両締約国ハ、旅順大連租借期限<sup>ならびに</sup>並ニ南滿洲及安奉兩鉄道各期限<sup>いづ</sup>ヲ何レ  
モ更ニ九十九ヶ年ツツ延長スヘキコトヲ約ス  
(中略)

第四条 支那国政府ハ、本条約附属書ニ列記セル南滿洲及(b)ニ於ケル  
諸鉱山ノ採掘権ヲ日本国臣民ニ許与ス、…  
(中略)

第三号 (前文略)

第一条 両締約国ハ、将来適當ノ時機ニ於テ(c)ヲ兩國ノ合弁トナスコ  
ト…ヲ約ス

第四号 (前文略)

支那国政府ハ、支那国沿岸ノ港湾及島嶼ヲ他国ニ讓与シ若クハ貸与セサルヘ  
キコトヲ約ス

第五号

一、中央政府ニ政治財政及軍事顧問トシテ有カナル日本人ヲ傭聘セシムルコト  
(中略)

三、…此際必要ノ地方ニ於ケル警察ヲ日支合同トシ、又ハ此等地方ニ於ケル支  
那警察官庁ニ多数ノ日本人ヲ傭聘セシメ、以テ一面支那警察機関ノ刷新確立  
ヲ図ルニ資スルコト  
(以下略)

(『日本外交文書』)

## 設 問

1. この外交文書中の(a)(b)(c)に該当する組み合わせとして正しいものを一つ選び、マーク解答欄にマークしなさい。

- |   |         |           |           |
|---|---------|-----------|-----------|
| ① | (a) 露西亞 | (b) 東部内蒙古 | (c) 漢冶萍公司 |
| ② | (a) 仏蘭西 | (b) 西部内蒙古 | (c) 鞍山製鉄所 |
| ③ | (a) 独逸  | (b) 東部内蒙古 | (c) 漢冶萍公司 |
| ④ | (a) 独逸  | (b) 西部内蒙古 | (c) 鞍山製鉄所 |
| ⑤ | (a) 露西亞 | (b) 朝鮮    | (c) 撫順炭田  |

2. この外交文書が作成された当時の日本側の総理大臣に関する以下の叙述のうち、間違っているものを一つ選び、マーク解答欄にマークしなさい。

- ① 西南雄藩の出身者として明治維新政府の要職に就き、1871年には岩倉使節団の一員として米欧諸国を歴訪し、帰国後は大蔵卿として大久保利通内務卿とともに殖産興業政策を推進した。
- ② イギリス流の議院内閣制の早期導入を主張したため岩倉具視や伊藤博文と激しく対立し、1881年にたまたまおこった開拓使官有物払下げ問題についても薩摩出身の黒田清隆ら有力者たちと意見を異にしたことなどを背景に、参議を罷免された。
- ③ 黒田内閣の下で外相として条約改正に尽力し、アメリカ・ドイツ・ロシアとの間で改正条約調印にこぎつけたが、大審院への外国人判事の任用を認めていたことがわかると強い反対論が起こり、対外硬派の青年による負傷事件を機に改正交渉は中断した。
- ④ 自由・進歩両党の合同政党である憲政党が衆議院で絶対多数を占め、陸海軍大臣以外の全閣僚が憲政黨員という初の政党内閣を組閣した。しかし、文相尾崎行雄の共和演説事件を機に内紛がおり短命に終わった。
- ⑤ 第一次憲政擁護運動により第3次桂内閣が退陣した後、立憲政友会を与党として第一次山本内閣が組閣されるが、ジーメンス(シーメンス)事件により総辞職を余儀なくされた。首班指名に窮した山県ら元老は、大衆政治家として人気の高かったこの人物を急きよ後継首相に起用した。

3. この外交文書に関する説明として正しいものを一つ選び、マーク解答欄にマークしなさい。

- ① この文書は、日露戦争直後に中国及び周辺地域に対する日本の権益を示して中国政府に承認をせまったものであるが、激しい抗日運動が起こり、交渉の結果、第五号のほとんどを除外して受諾された。
- ② この文書は、第一次世界大戦時に中国及び周辺地域に対する日本の権益を示して中国政府に承認をせまったものであるが、アメリカ・イギリスからの強い警告もあって、交渉の結果、第五号のほとんどを除外しても受諾に至らなかった。
- ③ この文書は、日英同盟に基づき参戦した日本が当時の中国政府に日本の権益の承認を求めた最後通牒であり、激しい抗日運動やロシアからの強い警告もあったため受諾されなかった。
- ④ この文書は、第一次世界大戦時に中国政府に日本の権益の承認を求めて提示された原案であり、交渉の結果、第五号のほとんどを除外して受諾された。
- ⑤ この文書は、ハーグ密使事件直後に中国政府に日本の権益の承認を求めて提示された原案であり、激しい抗日運動が起こり、交渉の結果、第五号のほとんどを除外して受諾された。

4. 以下の歴史的事項の順序として正しいものを一つ選び、マーク解答欄にマークしなさい。

a 義和団の乱	b ポーツマス条約	c 五・四運動
d 柳条湖事件	e 三国干渉	f 下関条約
g 辛亥革命	h 満州某重大事件	i 二十一カ条の要求

- ① a → f → e → b → g → i → h → c → d
- ② f → e → b → a → g → i → c → d → h
- ③ a → f → e → b → i → g → h → d → c
- ④ f → e → a → b → g → i → c → h → d
- ⑤ f → e → a → b → i → g → h → c → d

5. この外交文書が出された後の外交関係に関する以下の説明文のうち、正しいものを一つ選び、マーク解答欄にマークしなさい。
- ① 1919年3月には北京で独立宣言書朗読会が、5月には反日国民運動が起こり、中国政府はヴェルサイユ条約調印を拒否した。
  - ② パリ講和会議で日本は赤道以北の旧ドイツ領南洋諸島の割譲を求め、承認された。
  - ③ アメリカは日英同盟の廃棄を望んでいたが、ワシントン会議において日英米仏の4カ国間で太平洋諸島の領土・権益の相互尊重、問題の平和的解決を約束した条約が締結されることで、日英同盟協約は継続された。
  - ④ 1922年の九カ国条約に関連して、日本と中国との間で山東懸案解決条約が結ばれ、山東半島の旧ドイツ権益を返還することになった。
  - ⑤ ワシントン海軍軍縮条約は統帥権の干犯であるとして海軍軍令部により攻撃された。
6. この外交文書が発せられた当時の中国政府の最高権力者の氏名を漢字で書きなさい。
7. この外交文書中に下線で示した大連や旅順を含む遼東半島南端にあった日本の管轄地域の当時の名称を、記述解答欄へ漢字3文字で記入しなさい。
8. 第一次西園寺内閣の文相時代に文部省美術展覧会(文展)を創始し、パリ講和会議の全権の一人として西園寺公望とともに参加した人物の氏名を、記述解答欄へ漢字で記入しなさい。
9. 第一次世界大戦終結後結成された世界的な平和機構には設けられなかったが、第二次世界大戦後発足した同様の機構には軍事行動の実施も議決できる平和維持のための議決機関が設けられた。この機関名を、記述解答欄へ漢字7文字で記入しなさい。

10. 第一次大戦期に急成長した鈴木商店は三井物産や三菱商事に迫る勢いだったが、1920年の戦後恐慌、1923年の震災恐慌とその後の不況のため経営的危機に陥り、1927年金融恐慌時に融資を受けられず倒産に至る。

この商社への最大の融資機関名を記述解答欄へ漢字4文字で記入しなさい。