





政治・経済問題

はじめに、これを読むこと。

(注意事項)

1. この問題用紙は9ページまでである。ただし、ページ番号のない白紙はページ数に含まない。
2. 解答用紙に印刷されている受験番号が正しいかどうか、受験票と照合して確認すること。
3. 監督者の指示にしたがい、解答用紙の氏名欄に氏名を記入すること。
4. 解答は、すべて解答用紙の所定欄にマークするか、または記入すること。所定欄以外のところには何も記入しないこと。
5. 問題に指定された数より多くマークしないこと。
6. 解答は、必ず鉛筆またはシャープペンシル(いずれもHB・黒)で記入のこと。
7. 訂正する場合は、消しゴムできれいに消し、消しくずを残さないこと。
8. 解答用紙は、絶対に汚したり折り曲げたりしないこと。
9. 解答用紙は持ち帰らず、必ず提出すること。
10. この問題用紙は必ず持ち帰ること。
11. 試験時間は60分である。
12. マーク記入例

良い例	悪い例
	  

〔 I 〕 次の文章を読み、下記の設問に答えなさい。

① の前文にも明記されている、現在の日本人にとって当然と思われている主権国家における国民主権(主権在民)という考え方は、どのように形成されてきたかを考えてみよう。⁽¹⁾

最初に近代的な主権論を論じたのは、16世紀のフランスの法学者である

② の著した『国家論』であるといわれている。

ヨーロッパ中世を通して、教権・皇帝権に対する一定の自立性を獲得してきた王権は、中世末期には、貨幣経済の進展によって台頭してきた市民階級と封建領主を取り込むことで、教権・皇帝権への対抗力を高めながら、中央集権的な③へと転換していった。この③の正当化、つまり、王の主権の正当化に用いられたのが、『国家論』で論じられた④である。

この④を信奉した有名な君主として、『自由なる君主国の真の法』を著したイングランド王のジェームズ1世があげられる。イギリスにおいては、中世より、このような国王の専制的な権力行使を制限するものとして法の支配という概念が形成されてきた。これを背景に、ジェームズ1世の専制の強化に対して、⑤は、13世紀の法学者であるブラクトンの「国王はいかなる人の下にも立たないが、神と法の下にある」という言を用いて、王をいさめたとされている。

しかし、主権の所在に関する議論を大きく転換させたのは、⑥を著したホブズと⑦を著したロックの対照的な議論の背景にあった「各人は、自分の命を維持するために、自分の力を用いる自由がある」、すなわち⑧という概念であろう。この概念をもとに、⑨が展開される。すべての⑧の国家(王)への譲渡という、結果的に王権の正当性を固定化するホブズの議論から、一部の⑧の国家(王)への信託という、抵抗権と革命権を包摂したロックの議論へと発展を遂げることで、主権の所在の実体は、王から市民へと移行していったと言えよう。そして、ホブズとロックの⑨で前提とされた支配と服従の関係は、ルソーによる各人の自由と平等を保障する「一般意思(意志)」という概念によって解消される。ここでは、直接民

主義を想定しているが、現在の間接民主主義における国民主権の考え方の基底には、このルソーの考え方があるといえよう。

設問 1 文中①に入る最も適切な語句を解答欄に記入しなさい。

設問 2 下線部(1)に関して、国民主権(主権在民)とともに文中①の三原則を表す最も適切な残りの二つの原則を解答欄に記入しなさい。

設問 3 文中②に入る最も適切な人名を解答欄に記入しなさい。

設問 4 文中③に入る最も適切な語句を解答欄に記入しなさい。

設問 5 文中④に入る最も適切な語句を解答欄に記入しなさい。

設問 6 文中⑤に入る最も適切な人名を解答欄に記入しなさい。

設問 7 文中⑥に入る最も適切な書名を以下の中から1つ選び、解答欄にマークしなさい。

A エチカ

B リヴァイアサン

C デカメロン

D 自由海論

設問 8 文中⑦に入る最も適切な書名を解答欄に記入しなさい。

設問 9 文中⑧に入る最も適切な語句を解答欄に記入しなさい。

設問10 文中⑨に入る最も適切な語句を解答欄に記入しなさい。

〔Ⅱ〕 次の文章を読み、下記の設問に答えなさい。

地球環境の破壊を回避するための国際的な試みは、すでに1970年代からみられた。113カ国の政府代表が参加し、ストックホルムで開催された1972年の国連人間環境会議では、人間環境宣言を採択して、地球環境の保護が人類共通の目的であることを確認した。これを受けて、同年、国連総会は、この目的を実現する機関として ① を設置することを決議した。こうして、それぞれの環境問題について、国連などを中心に国際協力が試みられた。国際協力の事例として、 ② と ③ などがあげられる。1987年にはフロンガス抑制のための ④ が採択され、1989年には有害廃棄物の輸出入を規制するバーゼル条約が締結された。

冷戦が終結し、東西対立が解消されると、このような国際協力の試みは加速された。1992年には、国連環境開発会議(地球サミット)が開催され、地球環境保護のための具体的な行動計画である ⑤ が採択された。地球環境保護のための国際協調が進められる一方で、環境保護のあり方をめぐって、各国の利害対立も浮き彫りになった。最も大きいのは、発展途上国と先進工業国との対立である。この対立に対処する方法として、 ⑥ という考え方がある。 ⑥ に関するヨハネスブルク会議でも各国の利害対立は表面化した。先進工業国間でも環境保護政策が国内経済に与える影響をめぐって対立があり、二酸化炭素の排出量を削減することを決めた京都議定書にアメリカは参加しなかった。

二酸化炭素の排出量を低くおさえた低炭素社会を実現するためには、石油などの化石燃料の使用を減らす必要がある。そのためには、省エネルギー政策の強化をはじめ、太陽光や風力などの再生可能エネルギーによる発電技術のさらなる発展が求められる。このほか、二酸化炭素排出量を安定化させる方策として、排出量取引や炭素税などがある。

設問 1 文中①に入る語句として、以下の中から最も適切なものを1つ選び、解答欄にマークしなさい。

- A UNDP B UNHCR C UNEP D UNTAC

設問 2 文中②に入る最も適切な語句として、特に水鳥の生息地として国際的に重要な湿地に関する条約名を解答欄に記入しなさい。

設問 3 文中③に入る最も適切な語句として、絶滅の恐れのある野生動植物の種の国際取引に関する条約名を解答欄に記入しなさい。

設問 4 文中④に入る語句として、以下の中から最も適切なものを1つ選び、解答欄にマークしなさい。

- A モントリオール議定書 B ワグナー法
C リオ宣言 D 環境アセスメント法

設問 5 下線部(1)に関する以下の記述のうち、最も不適切なものを1つ選び、解答欄にマークしなさい。

- A 気候変動枠組み条約が採択された。
B 172カ国の政府代表が参加し、NGOの参加は認められなかった。
C 生物多様性条約、森林原則宣言が採択された。
D 環境保全を唱える先進国と、貧困を克服するためには開発が必要だとする発展途上国が対立した。

設問 6 文中⑤に入る最も適切な語句を解答欄に記入しなさい。

設問 7 文中⑥に入る語句として、以下の中から最も適切なものを1つ選び、解答欄にマークしなさい。

- A かけがえのない地球 B 宇宙船地球号
C 持続可能な開発 D ナショナル・トラスト

設問 8 下線部(2)に関する以下の記述のうち、最も不適切なものを1つ選び、解答欄にマークしなさい。

- A 1997年の気候変動枠組み条約第3回締約国会議で採択されたが、ロシアと中国は参加しなかった。
- B 二酸化炭素などの温室効果ガスの排出量について、先進国に2008年から2012年間の削減を義務付けた。
- C 京都議定書の採択を受け、1998年には地球温暖化対策推進法が制定された。
- D 温室効果ガス削減の目標達成が厳しい国が、他の国で余った削減分を「排出権」という形で購入して、不足分を穴埋めした。

設問 9 下線部(3)に関する以下の記述のうち、最も不適切なものを1つ選び、解答欄にマークしなさい。

- A 資源ナショナリズムの理念に基づいている。
- B クリーンエネルギーともいわれる。
- C 日本では、1997年に「新エネルギー法」が制定された。
- D ドイツでは固定価格買取制度が実施された。

設問10 下線部(4)に関する以下の記述のうち、最も適切なものを1つ選び、解答欄にマークしなさい。

- A 石油や石炭などの化石燃料の使用者に課す税金のことである。
- B オタワ条約によって制定された。
- C ヨーロッパでは多くの国が導入しているが、オランダやイギリスでは導入していない。
- D ニューサンシャイン計画に基づいている。

〔Ⅲ〕 次の文章を読み、下記の設問に答えなさい。

金融とは、資金に余裕のある経済主体と、資金が不足している経済主体との間で、資金を融通し合うことであり、現代の社会において不可欠な経済活動である。

企業がその事業資金を調達する手段には、直接金融と間接金融がある。また資金の回収期間の長さによって、⁽¹⁾長期金融市場と短期金融市場に分けられる。

一国の金融システムの中心的な役割を担うのが中央銀行である。日本では日本銀行、アメリカでは 、ヨーロッパのユーロ圏では がそれに当たる。一般に中央銀行は、公開市場操作を通じた金利政策や市中金融機関の預金準備率の操作によって、⁽²⁾金融の緩和や引き締めを行っている。

しかし経済活動のグローバル化によって国境を越えた金融活動が活発になっており、他国の金融市場で発生した危機がまたたく間に自国の金融市場に波及し、経済に大きな打撃を与えるというのは、今やめずらしい話ではない。アメリカの 問題に端を発したリーマン・ショックは、その典型例である。また資金の国際間の移動が容易になったことから、企業や富裕層が、規制が少なく税率がきわめて低い と呼ばれる国や地域に資金を移転する動きが見られるが、それに対する社会的な批判も高まっている。

日本の金融システムを考える上で、最近とりわけ深刻な課題となっているのは 国債である。国債は、政府にとって重要な資金調達手段である。しかし国債への⁽³⁾依存度が高まるほど財政運営におけるリスクが高まることを忘れてはならない。⁽⁴⁾⁽⁵⁾⁽⁶⁾

設問 1 下線部(1)に関連して、直接金融と間接金融の推移の記述として最も適切なものを以下の中から1つ選び、解答欄にマークしなさい。

- A 高度経済成長期には直接金融が中心であったが、近年は間接金融の重みが増しつつある。
- B 高度経済成長期から直接金融が中心であり、近年はその重みがさらに増しつつある。
- C 高度経済成長期には間接金融が中心であったが、近年は直接金融の重みが増しつつある。
- D 高度経済成長期から間接金融が中心であり、近年はその重みがさらに増しつつある。

設問 2 下線部(2)に関連して、長期金融市場に分類される市場として最も適切なものを以下の中から1つ選び、解答欄にマークしなさい。

- A 債券市場
- B コール市場
- C 譲渡性預金市場
- D インターバンク市場

設問 3 文中①に入る最も適切な機関の名称(略称でも可)を解答欄に記入しなさい。

設問 4 文中②に入る最も適切な機関の名称(略称でも可)を解答欄に記入しなさい。

設問 5 下線部(3)に関連して、金融緩和のために中央銀行が取りうる方策の組み合わせとして最も適切なものを以下の中から1つ選び、解答欄にマークしなさい。

- A 売りオペレーションを行い、預金準備率を上げる。
- B 売りオペレーションを行い、預金準備率を下げる。
- C 買いオペレーションを行い、預金準備率を上げる。
- D 買いオペレーションを行い、預金準備率を下げる。

設問 6 文中③に入る「低所得者向けの住宅ローン」を意味する最も適切な語句を解答欄に記入しなさい。

設問 7 下線部(4)のリーマンブラザーズ破たんよりも前に起こった事柄として最も適切なものを以下の中から1つ選び、解答欄にマークしなさい。

- A アメリカでバラク・オバマが大統領に就任した。
- B 日本で民主党が政権に就いた。
- C ヨーロッパでギリシャの財政危機が表面化し、欧州債務危機を引き起こした。
- D 中国の人民元が管理フロート制に移行した。

設問 8 文中④に入る最も適切な語句を解答欄に記入しなさい。

設問 9 下線部(5)に関連して、2015 年末における日本の政府長期債務残高の対 GDP 比の数値に最も近いものを以下の中から1つ選び、解答欄にマークしなさい。

- A 50 % B 100 % C 150 % D 200 %

設問10 下線部(6)に関連して、日本の2016 年度一般会計(当初予算)における歳出項目を多い順に並べたものとして最も適切なものを以下の中から1つ選び、解答欄にマークしなさい。

- A ① 社会保障関係費 ② 国債費 ③ 地方財政費
- B ① 国債費 ② 社会保障関係費 ③ 地方財政費
- C ① 社会保障関係費 ② 地方財政費 ③ 国債費
- D ① 国債費 ② 地方財政費 ③ 社会保障関係費

〔Ⅳ〕

現在、日本ではさまざまな観点から外国人労働者の受け入れ政策のあり方が議論されています。あなたは、外国人労働者の受け入れに賛成ですか、反対ですか。あなたの立場を明確にして、その理由を論じなさい。文中には以下の語句をすべて用いなさい(ただし使用の順序は問いません)。なお、これらの語句は必ず で囲み、わかりやすく示すこと。

社会保障 異文化 生産年齢人口 日本人の雇用 日本国籍