



世界史 B 問題

はじめに、これを読みなさい。

1. この問題用紙は 13 ページある。ただし、ページ番号のない白紙はページ数に含まない。
2. 解答用紙に印刷されている受験番号が正しいかどうか、受験票と照合して確認すること。
3. 監督者の指示にしたがい、解答用紙の氏名欄に氏名を記入すること。
4. 解答は、すべて解答用紙の所定欄にマークするか、または記入すること。所定欄以外のところには何も記入しないこと。
5. 問題に指定された数より多くマークしないこと。
6. 解答は、必ず鉛筆またはシャープペンシル(いずれも HB・黒)で記入のこと。
7. 訂正する場合は、消しゴムできれいに消し、消しくずを残さないこと。
8. 解答用紙は、絶対に汚したり折り曲げたりしないこと。
9. 解答用紙は全て回収する。持ち帰らず、必ず提出すること。ただし、この問題用紙は、必ず持ち帰ること。
10. 試験時間は 60 分である。
11. マークシート記入例

良い例	悪い例
	  

〔 I 〕 次の文章を読み、下記の間(1～10)に答えなさい。

5世紀初め、ゲルマン人の大移動により、イベリア半島には西ゴート王国が成立した。西ゴート王国はキリスト教国であったが、711年にウマイヤ朝が西ゴート王国を滅ぼし、イベリア半島でイスラーム支配^(a)が始まった。その後、キリスト教徒は長くレコンキスタの戦いを続けたが、15世紀後半に成立したスペイン王国は、イスラーム勢力最後の拠点を陥落させ、イベリア半島のキリスト教支配を復活させた。スペイン王室は、海外進出^(c)にも積極的であった。

20世紀のスペインに目を向けると、1931年に王政が倒れ、共和制が成立したが、その頃、政局は混乱していた。1936年の総選挙で人民戦線派^(d)が政府を組織すると、それに対して軍人のフランコは保守派の支持を得て反乱を起し、内戦^(e)となった。この内戦は周囲の諸国^(f)を巻き込み、国際紛争の様相を呈した。1939年にフランコがマドリードを陥落させて勝利し、その後、フランコの独裁^(g)が長く続いた。

問 1 下線部(a)のイスラーム支配に関連して、イスラーム教について書いた次の文(A～D)の中から、誤っているものを一つ選びなさい。

- A 開祖ムハンマドは商人であった。
- B 「イスラーム」とは「絶対的服従」という意味である。
- C 開祖ムハンマドはキリスト教の『新約聖書』を神の啓示とは認めなかった。
- D 「カリフ」とは「後継者」という意味である。

問 2 下線部(b)に関連して、イベリア半島における最後のイスラーム王朝の名前を、次の選択肢(A～D)の中から一つ選びなさい。

- A ムラービト朝
- B アッバース朝
- C ファーティマ朝
- D ナスル朝

問 3 下線部(b)に関連して、イスラーム勢力最後の拠点が陥落したのは西暦何年か。次の選択肢(A～D)の中から一つ選びなさい。

A 1469年 B 1479年 C 1492年 D 1494年

問 4 下線部(c)の海外進出によって、アステカ王国やインカ帝国が滅ぼされた。インカ帝国を滅ぼしたのは誰か。その名前として最も適当なものを次の選択肢(A～D)の中から一つ選びなさい。

A ピサロ B コルテス
C ラス＝カサス D カブラル

問 5 下線部(c)の海外進出によって、スペインはフィリピンを領有したが、その領有は19世紀末までつづいた。19世紀後半には、フィリピンの知識人の中に、スペインの植民地支配を批判し、人々に対して啓蒙活動をする者が現われたが、その中で、政治小説によってスペインを批判したフィリピン人がとりわけ有名である。その小説家の名前を次の選択肢(A～D)の中から一つ選びなさい。

A カルティニ B ホセ＝リサール
C アギナルド D ベニグノ＝アキノ

問 6 下線部(d)の人民戦線派の人民戦線結成は、コミンテルンの方針によるものであった。コミンテルンについて書いた次の文(A～D)の中から、誤っているものを一つ選びなさい。

A コミンテルンは、「第3インターナショナル」とも呼ばれる。
B コミンテルンは、レーニンによってモスクワで設立された。
C コミンテルンは、ロシア革命の際に大きな役割を果たした。
D 第7回大会で出された人民戦線結成の方針は、それまでの方針を転換するものであった。

問 7 下線部(d)の人民戦線派の組織した政府の首班の名前を、次の選択肢(A～D)の中から一つ選びなさい。

A アサーニャ

B サラザール

C プリモ＝デ＝リベラ

D フアン＝カルロス

問 8 下線部(e)の内戦は、知識人が国際義勇軍として参加したことで知られている。ヘミングウェイがこの内戦での経験に基づいて書いた作品を、次の選択肢(A～D)の中から一つ選びなさい。

A 『戦争と平和』

B 『誰がために鐘は鳴る』

C 『武器よさらば』

D 『カタロニア賛歌』

問 9 下線部(f)に関連して、フランコを支持した国を次の選択肢(A～D)の中から一つ選びなさい。

A イギリス

B フランス

C ソ連

D イタリア

問10 下線部(g)のフランコの独裁が終わった年を、次の選択肢(A～D)の中から一つ選びなさい。

A 1969年

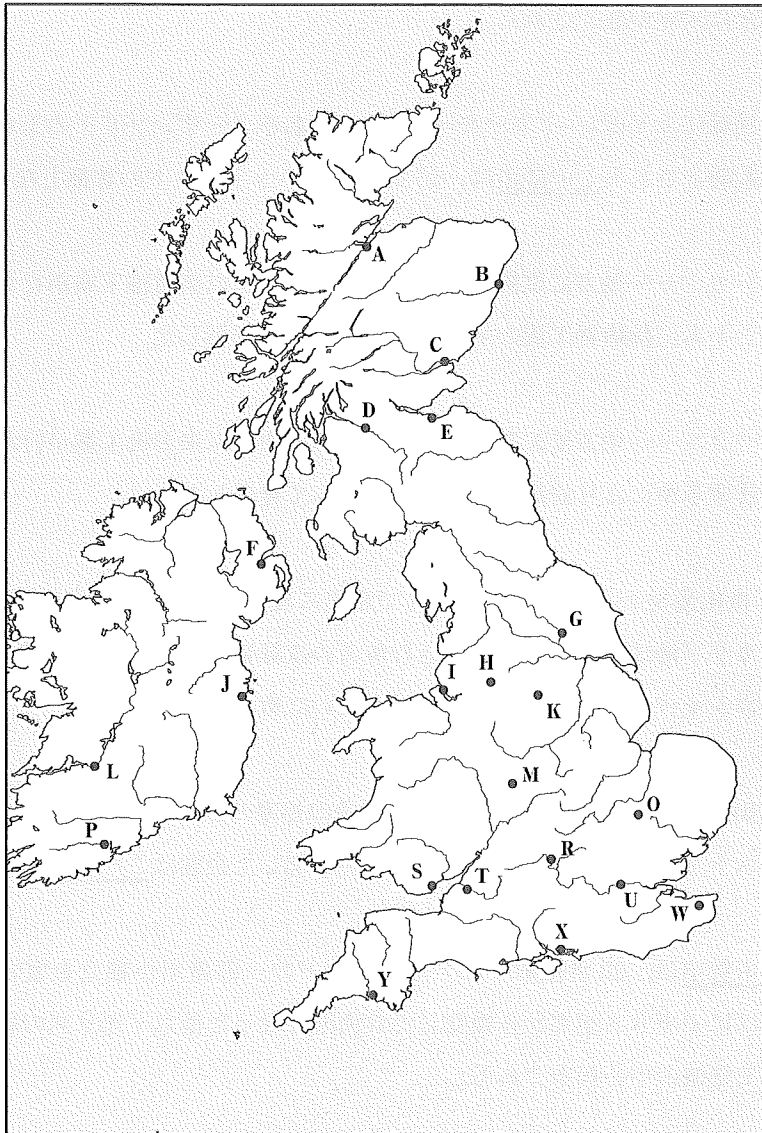
B 1975年

C 1978年

D 1986年

〔Ⅱ〕 図αは現在のイギリス及びアイルランドの一部を示した概略図である。次の文(1)～(10)のなかで下線が引かれた都市に最も近い地点を【図α】から選び、その記号(A～Y)を解答欄にマークしなさい。なお、いずれの地点にも該当しない場合は、解答欄の記号Zをマークすること。

【図α】



注) 図α及び解答欄には記号N, QおよびVは記載していない。

- (1) 1347年、前年から続いた攻囲戦の後、長弓兵の活躍もあって、イギリス軍はこの都市を占領するに至った。
- (2) 12世紀後半、この都市にイギリス最古の大学が設立された。
- (3) 1209年、(2)の都市に設立された大学から多数の学生が移動し、この都市にも新たに大学が設立された。
- (4) 7世紀に七王国(ヘプターキー)の一つであるノーザンブリアの王が築城したのが起源とされるこの都市は、15世紀にスコットランドの首都となった。
- (5) ランカシャー地方に位置するこの都市は、中世以来繊維工業が行われ、産業革命とともに綿織物工業の中心地として急速に発展した。
- (6) ヨークシャー地方に位置するこの都市は、中世以来刃物工業が行われていたが、産業革命により鉄鋼業の中心都市として発展した。
- (7) 17世紀後半から大西洋奴隷貿易で急速に発展したこの都市は、西アフリカからカリブ海地域へ奴隷を送り込む最大の奴隷貿易港となり、産業革命期にはランカシャーの綿織物工業の発展にも大いに寄与した。
- (8) 1840年、第二次エジプト＝トルコ戦争の処理のために、イギリス、ロシア、オーストリア、プロイセン、フランスが参加した会議はこの都市で開かれた。
- (9) この都市は、20世紀前半にアイルランドの一部諸州が独立を宣言し、同世紀半ばにイギリス連邦から独立した共和国となった後もイギリスの統治下に留まった地域の中心都市である。
- (10) 1905年9月、日露戦争の講和条約がこの都市で調印された。

〔Ⅲ〕 次の年表に目を通し、下記の間(1～15)に答えなさい。

1923 Born in ①	1942 ② occupied* ① (-1945)
1959 Became the first prime minister of ①	1963 ① was merged** with the Federation of Malaya; Malaysia was formed
	1965 ① left Malaysia
	1967 X was formed by Malaysia, ①, Thailand, Indonesia, and ③ (a)
	1984 Brunei Darussalam joined X (b)
1990 Resigned as prime minister of ①	1995 Viet Nam joined X (c)
	1997 Lao PDR*** and Myanmar (Burma) joined X (d) (e)
	1999 Cambodia joined X (f)
2004 His son became prime minister of ①	
2015 Died	

*occupy 占領する **merge 統合する

***PDR = People's Democratic Republic

問 1 前ページの年表は、ある人物および関連する出来事についてのものである。この人物はだれか。最も適当なものを次の選択肢(A~D)の中から一つ選びなさい。

- A Rajiv Gandhi B Mahathir bin Mohamad
C Chandra Bose D Lee Kuan Yew

問 2 空欄 ① はイギリスが 1826 年、他の二つの場所とともに海峡植民地として成立させた場所である。この「他の二つの場所」として正しいものは以下のどれか。最も適当なものを次の選択肢(A~D)の中から一つ選びなさい。

- A Palembang, Molucca B Palembang, Malacca
C Penang, Malacca D Penang, Molucca

問 3 空欄 ② は同じ 1942 年、ある場所での戦いで大敗し、戦争の主導権を失った。この場所はどこか。最も適当なものを次の選択肢(A~D)の中から一つ選びなさい。

- A Midway B Normandie C Tannenberg D Stalingrad

問 4 空欄 ③ では 1960 年代から 80 年代にかけて、親米路線をとった大統領の長期政権下で腐敗が進んだ。この人物はだれか。最も適当なものを次の選択肢(A~D)の中から一つ選びなさい。

- A Juan Perón B Ferdinand Marcos
C Augusto Pinochet D Fulgencio Batista

問 5 下線部(a)について記した次の文(A～D)の中から、誤っているものを一つ選びなさい。

- A 19世紀後半、王室による貿易独占が解除され、自由貿易の原則が確認されると、先進諸国と外交関係が結ばれ、米の商品化がすすみ、デルタ地帯の開発がすすんだ。
- B ラーマ5世は英仏との勢力均衡策をとるとともに、行政・司法組織などを改革して近代化に成功し、植民地化を回避した。
- C 第二次世界大戦の終結後、人民党が王宮を占拠し、国王に暫定憲法と議会開設を承認させた。
- D 1990年代末、通貨パーツの急落をきっかけに、東南アジア諸国・韓国に通貨危機が広がった。

問 6 下線部(b)について記した次の文(A～D)の中から、誤っているものを一つ選びなさい。

- A 1920年代後半、スカルノを党首とするインドネシア国民党が結成された。
- B 1945年の日本降伏直後からスカルノが独立運動を率い、独立を果たして樹立された共和国の初代大統領となった。
- C 1960年代半ば、軍部が実権をにぎり、それまで国内の共産党と協力しつつ中国との関係を強める政策をとっていたスハルト大統領が失脚した。
- D 1970年代半ば、東ティモールでの内戦に介入、これを併合した。

問 7 下線部(c)で20世紀半ば、独裁制のもとに反共政策・土地改革を展開し、軍事クーデタで暗殺された人物はだれか。最も適当なものを次の選択肢(A～D)の中から一つ選びなさい。

- A Phan Boi Chau
- B Bao Dai
- C Ngo Dinh Diem
- D Ho Chi Minh

問 8 下線部(d)の地域について記した次の文(A～D)の中から、誤っているものを一つ選びなさい。

- A 19世紀末、フランス領インドシナ連邦に編入された。
- B 1930年代半ば、フランス連合内で独立が認められ、ルアンパバーン王が国を代表したが、主権は制限された。
- C 1950年代、革命勢力であるラオス愛国戦線が結成され、フランスとの条約で完全独立を達成、ジュネーブ会議で国際的に承認された。
- D 1970年代半ば、ラオス愛国戦線が全国を制圧し、社会主義国家であるラオス人民民主共和国が樹立された。

問 9 下線部(e)での以下の出来事は、どの順序で起きたか。最も適当なものを次の選択肢(A～F)の中から一つ選びなさい。

- ① コンバウン朝の滅亡
- ② タキン党の結成
- ③ 反ファシスト人民自由連盟による抗日運動の展開
- ④ 連邦共和国としての完全独立

- A ①－②－③－④
- B ①－②－④－③
- C ①－③－②－④
- D ②－①－③－④
- E ②－①－④－③
- F ②－③－①－④

問10 下線部(b), (e), (f)を支配したヨーロッパの旧宗主国はそれぞれ (ア) , (イ) , (ウ) である。現在の各国の北端の位置が北極点から近い順にならべたとき、順序として正しいものはどれか。最も適当なものを次の選択肢(A～F)の中から一つ選びなさい。

- A (ア)－(イ)－(ウ)
- B (ア)－(ウ)－(イ)
- C (イ)－(ア)－(ウ)
- D (イ)－(ウ)－(ア)
- E (ウ)－(ア)－(イ)
- F (ウ)－(イ)－(ア)

問11 空欄

X

 に入る語句を、略語ではなく、日本語での正式名称で書きなさい。

問12 下線部(a)では、18世紀の終わりに現在の王家につながる王朝が創始された。この王朝の名を書きなさい。

問13 下線部(b)の都市バンドンで1955年にアジア・アフリカ会議が開かれたが、その基礎となったのは、インドを訪問したある人物がネルーとおこなった前年の会談だった。この人物の名を書きなさい。

問14 下線部(e)で1988年、軍事政権に対する民主化運動のリーダーとなった人物に対して、軍事政権は自宅軟禁と解除を繰り返し、2011年に解放した。1991年のノーベル平和賞受賞者でもあるこの人物の名を書きなさい。

問15 下線部(f)で1970年代半ばに成立した政権は、都市から農村への強制移住、通貨の廃止、反対者の大量虐殺などをおこなった。この政権を率いた人物の名を書きなさい。

〔Ⅳ〕 次の文章を読み、下記の間(1～2)に答えなさい。

惜別の歌といわれる「アロハオエ」の作詞で知られる [①] が最後の女王となった王国が存在したハワイ諸島は、1770年代にイギリスの海洋探検家クック^(ア)が来航し、ヨーロッパにもその存在が知られることとなった。同諸島は、18世紀末に成立した [②] 朝によって19世紀初めに統一された。

同地では19世紀半ば頃から、アメリカ人によるサトウキビやパイナップルの栽培が盛んになり、労働力不足を補うために多くの人々が移住した。 [③] 年、アメリカは軍と親米派入植者らによるクーデターで共和国政府を樹立し、多くのヨーロッパ諸国に加えて、東アジアの国々が事実上の政府として承認した。その後ハワイ諸島は、「アメリカ = [④] 戦争」中の1898年にアメリカに併合されたが、その約半世紀後には、東南アジアへの進出を図っていた日本^(イ)から直接的な軍事攻撃を受けた。

その攻撃は [⑤] 年12月8日未明(日本時間)の日本海軍によるアメリカ海軍基地への軍事作戦であった。日本はアメリカを中心としたいわゆるA B C D^(ウ)包囲陣(網)による経済制裁を受けており、アメリカとの外交交渉^(エ)の行き詰まりによって追い込まれた日本は、アメリカ太平洋艦隊の基地があるハワイ真珠湾に対して攻撃を仕掛けた。これにより大損害を受けたアメリカは即時宣戦し、太平洋戦争^(オ)が始まった。

問1 空欄 [①] ～ [⑤] に入れるべき適切な語句もしくは数字を解答欄にそれぞれ書きなさい。

問 2 下線部(ア)～(オ)に関して、次の問に答えなさい。

- (ア) この人物が 1770 年にイギリスの領有を宣言し、のちに流刑植民地となった場所の現在の国名を英語で答えなさい。
- (イ) この国が攻略し「昭南島」と名付けた、マレー半島南端の島の現在の名称を英語で答えなさい。
- (ウ) このうち「D」は何という単語の頭文字か。この単語を英語で書きなさい。
- (エ) この外交交渉の行き詰まりを決定的にしたとされるのが、太平洋戦争開戦直前にアメリカの国務長官が示した提案である。この国務長官の名前をカタカナで書きなさい。
- (オ) この戦争が終結した時点でのアメリカ合衆国大統領の名前をカタカナで書きなさい。

〔V〕 次の問に答えなさい。

問 「ハイチの独立」について 3行で説明しなさい。

