

2020 年度 明治大学

【国際日本学部】

解答時間 60分



配点 100点

ほ

世界史 B 問題

はじめに、これを読みなさい。

1. この問題用紙は 16 ページある。ただし、ページ番号のない白紙はページ数に含まない。
2. 解答用紙に印刷されている受験番号が正しいかどうか、受験票と照合して確認すること。
3. 監督者の指示にしたがい、解答用紙の氏名欄に氏名を記入すること。
4. 解答は、すべて解答用紙の所定欄にマークするか、または記入すること。所定欄以外のところには何も記入しないこと。
5. 問題に指定された数より多くマークしないこと。
6. 解答は、必ず鉛筆またはシャープペンシル(いずれも HB・黒)で記入のこと。
7. 訂正する場合は、消しゴムできれいに消し、消しくずを残さないこと。
8. 解答用紙は、絶対に汚したり折り曲げたりしないこと。
9. 解答用紙は全て回収する。持ち帰らず、必ず提出すること。ただし、この問題用紙は、必ず持ち帰ること。
10. 試験時間は 60 分である。
11. マークシート記入例

良い例	悪い例
	

〔 I 〕 次の文章を読み、つづく問(1～10)に答えなさい。

現在のベルギーから北フランスにかけて広がるフランドル地方は、ローマ帝国時代から毛織物の産地だったが、12世紀の大開墾運動により西ヨーロッパに農業生産の増大と人口増加がもたらされると、^(a)ブリュージュ(ブルッヘ)やガン(ヘント)などの都市で毛織物産業が盛んになった。毛織物はハンザ同盟都市を通じて北歐へ、またシャンパーニュの大市を介してイタリア、東方へと輸出された。^(b)

フランドル毛織物の材料となる良質の羊毛の大半はイギリスから輸入されていたので、13世紀末にフランス王フィリップ4世がフランドル地方の支配を狙うと、フランドルの諸都市はイギリスに接近し、さらにフランス王フィリップ6世により重税が課せられると、イギリスと同盟する動きを見せた。こうしたフランドルを巡る英仏の抗争は百年戦争の原因の一つに数えられている。^(c)

いっぽう、フランドルへの羊毛の輸出が妨げられたイギリスでは自立した毛織物工業が興った。イギリスの毛織物工業は百年戦争のあいだも順調に成長して都市部から農村部にまで広がっていったが、羊毛の需要拡大を見たジェントリー(中小領主や地主)は15世紀半ばから農村の共有地などを柵で囲い込む運動を展開した。^(d)

これにより農民の一部は職を失って都市部に流れ込んだため、トマス・モアは『ユートピア』でこの運動を揶揄したが、^(A)毛織物工業はその後さらに生産方法を洗練させて問屋制手工業、さらには工場制手工業へと発展して、イギリスにおける富の蓄積を助けた。^(f)ところが、18世紀半ばに勃発した七年戦争でイギリスが北米とインドの支配権をフランスから奪ったことから、^(d)イギリス毛織物工業は一時的に衰退する。

なぜなら、インドから北米に移植された綿花が黒人奴隷の労働力によって大量に生産されるようになると、北米産綿花が大西洋を越えてリヴァプールに運ばれ、近在の都市で綿工業が盛んになり、毛織物工業を圧迫したからである。

^(e)イギリスの綿工業は毛織物工業のために発明された飛び杼の転用で生産効率を高めたが、さらにジェニー紡績機および水力紡績機の発明で技術革新を成し遂げ、^(f)ジェイムズ・ワットが改良した蒸気機関が水力紡績機やミュール紡績機に用

いられたことで、後に産業革命と呼ばれることになる大転換を用意したのである。

問 1 下線部(a)を主導し、聖ベネディクトゥスの「祈り、働け」をモットーとし、修道士が先頭に立って農作業に従事した修道院ないし修道会の名として、次の選択肢の中から最も適切であるものを一つ選び、その記号(A～D)をマークしなさい。

- | | |
|---------|-----------|
| A クリュニー | B フランチェスコ |
| C シトー | D ドミニコ |

問 2 下線部(b)に属さない都市として、次の選択肢の中から最も適切であるものを一つ選び、その記号(A～D)をマークしなさい。

- | | |
|----------|---------|
| A リューベック | B ベルリン |
| C ハンブルク | D プレーメン |

問 3 下線部(c)に関連して、もう一つの原因はフランスのカペー朝正系がシャルル4世を最後に1328年に断絶したことだが、このとき王位継承問題に介入したイギリス(イングランド)王はだれか。次の選択肢の中から最も適切であるものを一つ選び、その記号(A～D)をマークしなさい。

- | | |
|-----------|-----------|
| A ヘンリ2世 | B ヘンリ3世 |
| C エドワード3世 | D リチャード3世 |

問 4 下線部(d)の最中にインドで展開されたブラッシーの戦いを率いたイギリス東インド会社書記の名として、次の選択肢の中から最も適切であるものを一つ選び、その記号(A～D)をマークしなさい。

- | | |
|----------|---------|
| A デュプレクス | B クライヴ |
| C ドレーク | D ホーキンズ |

問 5 下線部(e)の, リヴァプール近在の都市の名として, 次の選択肢の中から最も適切であるものを一つ選び, その記号(A~D)をマークしなさい。

A マンチェスター

B グラスゴー

C ロンドン

D バーミンガム

問 6 下線部(f)の発明者の名として, 次の選択肢の中から最も適切であるものを一つ選び, その記号(A~D)をマークしなさい。

A ジョン・ケイ

B ハーグリーブズ

C カートライト

D クロンプトン

問 7 下線部(g)は最初, どのような産業のために発明されたか。次の選択肢の中から最も適切であるものを一つ選び, その記号(A~D)をマークしなさい。

A 炭鉱業

B 農業

C 土木業

D 製粉業

問 8 下線部(A)はヘンリ 8 世の離婚を批判して処刑された。この王の離婚をきっかけに制定された法律の名称を書きなさい。

問 9 下線部(A)の英語での呼称を英単語 1 語で書きなさい。

問10 下線部(I)の英語での呼称を英単語 1 語で書きなさい。

〔Ⅱ〕 次の文章を読み、つづく問(1～10)に答えなさい。

1917年、ロシアの首都ペトログラードで紡績工場の女工たちがパンと平和を求めるデモを始め、これが民衆に広まった。軍が動かないことをみた民衆は、デモやストライキを過激化させ、パンと平和のデモは政治的要求へ移り暴動となった。首都を離れていた^(ア)皇帝はこれに対して、軍事力をもって暴動を鎮圧させることを指示した。これにより約200人も^(a)の死者を出す事件となった。この出来事は革命へと発展し、^(b)ドゥーマ(国会)は^(イ)臨時政府を樹立した。これが^(c)ロシア二月革命(三月革命)である。

臨時政府樹立と首都の状況を知った皇帝は孤立し、退位を迫られ、弟ミハイルを次期皇帝とすることを条件として退位した。しかし、ミハイルは帝位を受け入れず、結果、^(d)ロマノフ朝ロシア帝国は滅亡した。

その後、^(d)臨時政府のもと戦争は継続された。そんな中、^(e)レーニンが帰国し、革命をさらに進める方針を示し、ケレンスキー首相と対立、トロツキーと武装蜂起を指揮して権力を握った。追って新政権成立が宣言され、ロシアに社会主義政権が樹立された。

問 1 社会主義運動では、1864年に各国の社会主義者がある都市に集まり、マルクスを指導者として第1インターナショナルを結成した。この都市の名として、次の選択肢の中から最も適切であるものを一つ選び、その記号(A～D)をマークしなさい。

A ペトログラード

B ロンドン

C パリ

D フィラデルフィア

問 2 下線部(ア)は日露戦争で指導的な役割を果たした。この戦争中、およびその後のロシアについて記した文として、誤っているものを次の選択肢(A~D)から一つ選び、マークしなさい。

- A 労働者の自治組織ソヴィエトが武装蜂起した。
- B バルチック艦隊が日本海海戦で敗れた。
- C 山東半島南部の租借権を日本に譲渡した。
- D 日本による韓国の指導・監督権を認めた。

問 3 下線部(イ)で主流を占めた政党として、次の選択肢の中から最も適切であるものを一つ選び、その記号(A~D)をマークしなさい。

- A 自由民主党
- B 立憲民主党
- C 統一社会党
- D 急進社会党

問 4 社会主義運動に大きな影響を与えたマルクスは、1848年、エンゲルスと共に『』を発表した。この空欄に入る語句を漢字5字で書きなさい。

問 5 下線部(a)の12年前(1905年)にも、日露戦争中、ロシアの首都で、民主化と戦争中止を掲げた民衆のデモに対して軍が発砲し、多数の死傷者を出した。このデモで民衆を率いた司祭の名前をカタカナで書きなさい。

問 6 下線部(b)は、日露戦争の講和のポーツマス会議で全権代表を務めていた人物が起草した十月宣言によって公約された。追って首相についたこの人物の名前をカタカナで書きなさい。

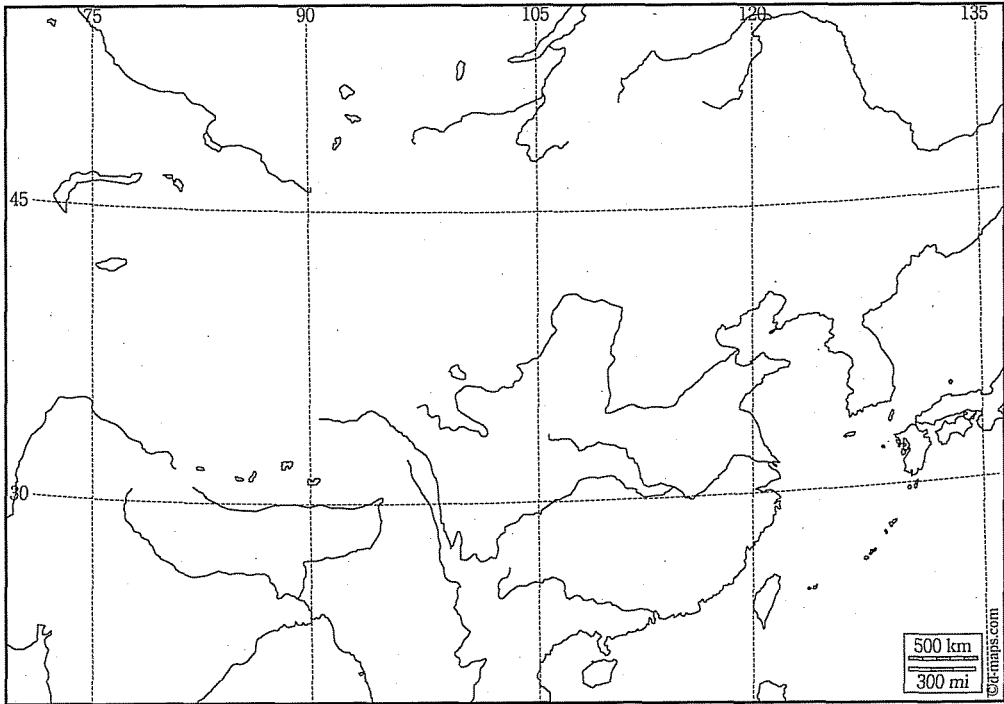
問 7 下線部(c)の後、社会革命党とともに多数派となり、臨時政府にも参加した、ロシア社会民主労働党右派の呼称をカタカナで書きなさい。

問 8 下線部(c)が起こると、中国でもマルクス主義への関心が高まり、1921年には中国共産党が結成された。同党の初代委員長の名前を漢字3字で書きなさい。

問 9 下線部(d)で、またそれ以前も用いられていた、ロシア皇帝の公式称号をカタカナで書きなさい。

問10 下線部(e)の死後、ソ連共産党書記長のスターリンは一国社会主義論を掲げ、党内の主導権争いで、論を主張するトロツキーを破った。この空欄に入る語句を漢字4字で書きなさい。

〔Ⅲ〕 下の地図を参考にして、つづく問(1～2)に答えなさい。



問 1 以下、1-1から1-3まで、3つの場所の組み合わせそれぞれについて、東経の度数が小さい順に並べたとき、どの順序になるか。正しいものを一つ選び、その記号(A～F)をマークしなさい。

- | | | |
|----------------|----------------|----------------|
| A ア-イ-ウ | B ア-ウ-イ | C イ-ア-ウ |
| D イ-ウ-ア | E ウ-ア-イ | F ウ-イ-ア |

1-1

ア 北魏の遷都から8世紀半ばまで、現在の河南省にあるこの場所の、伊水兩岸の岩石に石窟寺院が開削された。

イ 1858年、アロー戦争に関し、この都市の名を冠した条約が、清とロシア・アメリカ・イギリス・フランスとの間で結ばれた。

ウ この都市で、1905年、革命諸団体が中国同盟会を設立した。

1-2

- ア この都市は、後漢・魏・西晋・北魏などの都となった。
- イ 河西回廊の西端にあるこのオアシス都市には、4～14世紀にかけて千仏洞(莫高窟)と呼ばれる石窟寺院が造られた。
- ウ 大運河の南端に位置するこの都市は、南宋では臨安の名で首都とされて繁栄した。

1-3

- ア 現在の福建省にあるこの海港都市は、1087年に市舶司が置かれてから繁栄し、アラブ人なども多く居住した。
- イ 陝西省北部のこの都市は、1937年、長征を終えた共産党が首府とし、中華人民共和国成立までの革命の拠点となった。
- ウ この都市は、1965年にチベットに成立した中国の自治区の区都である。

問2 以下、2-1から2-4まで、3つの場所の組み合わせそれぞれについて、北緯の度数が小さい順に並べたとき、どの順序になるか。正しいものを一つ選び、その記号(A～F)をマークしなさい。

- | | | |
|----------------|----------------|----------------|
| A アーイーウ | B アーウーイ | C イーアーウ |
| D イーウーア | E ウーアーイ | F ウーイーア |

2-1

- ア 山東半島東北端のこの港を、1898年、イギリスが租借して東洋艦隊の基地とした。
- イ 現在の黒竜江省の省都であるこの都市で、1909年、伊藤博文が安重根に狙撃された。
- ウ 江西省南東部のこの都市に、1931～1934年、中国共産党が革命の拠点として中華ソヴィエト共和国臨時政府を置いた。

2-2

- ア 現在の広東省にあるこの海港都市には、ムスリム商人が来航し、はじめて市舶司が置かれ、蕃坊も設けられた。
- イ 黄河と大運河の合流地点に位置するこの都市は、北宋の首都だった。
- ウ この都市は、1955年に東トルキスタンを中心とする地域に成立した新疆ウイグル自治区の区都である。

2-3

- ア 現在は山西省大同市となっているこの場所に、北魏前期(398~494)の都が置かれていた。
- イ 珠江の河口にあるこの島は、1842年、アヘン戦争の講和条約でイギリスへ割譲された。
- ウ 太平天国は、1853年、この都市を占領し、天京と改称して首都とした。

2-4

- ア 現在の四川省の省都であるこの都市は、三国蜀の都だった。
- イ 明の永楽帝は1421年、この地に紫禁城を築き、北平から改称して国都とした。
- ウ 1557年、倭寇征伐援助の功により、ポルトガル人が明朝から、珠江の河口にあるこの港町での居住を認められた。

〔IV〕 次の文章を読み、つづく問(1～8)に答えなさい。

China's economic ascent has lifted millions of people out of poverty and is hailed as nothing short of a miracle. Yet the skyscrapers, shopping malls and Las Vegas replicas have left little trace of the nation's rich history. More and more Chinese are now travelling to Nara and Kyoto, the two ancient capitals of Japan, to experience fragments of what their own country might have looked like 1,000 years ago.

Built in 710 and 794 respectively, Nara and Kyoto were direct copies of , the cosmopolitan capital of China's Tang dynasty (618 to 907). From the seventh to ninth centuries, Japan dispatched 20 missions to Tang China by sea, to learn from its civilisation and to bring back Buddhist texts. These missions are known as the . Through them, the Japanese learnt how to build a sprawling¹ capital with the palace in the north, a main street running south and a grid² of avenues stretching east to west.

"This is the best connection I can have with the most glorious era of Chinese history," says Yu Tingting, a tourist from Beijing visiting Kyoto. "I felt so at home walking alongside [the river] Kamogawa, imagining how China looked 1,000 years ago. But it also hurts me," she says, "to think that there is little to see of that history in China today." Xian, modern-day , bears no resemblance to the city of yore³.

For the Japanese, the missions to Tang China had a special significance.

In the eighth century, received dignitaries⁴ from around the world — from Persia, Damascus and even Rome. The visitors were given prized silks from the Tang emperor, which they took back on camels and horses through the Gobi desert. That route became known as the Silk Road. Back in Rome, when a woman wearing a dress made from Chinese silk entered a theatre, it is said that all heads would turn to see the stunning⁵ colours. The coveted⁶ silk made it

worthwhile⁷ to weather the sandstorms en route⁸ to A .

The Japanese were different. According to the Old Book of Tang, the official chronicle of the dynasty, every time the Japanese received silk and gifts from the Chinese emperor, they would go out into the markets of A and exchange them for books before sailing home.

“The Europeans, who focused on the materialistic⁹ wealth of China, did not figure out how to make silk themselves for the next 500 years,” says professor Wang Yong of Zhejiang University, an expert on the Japanese missions. “The Japanese, who took an interest in the intellectual wealth of China, managed to rebuild a capital and a civilisation modelled on Tang China in a matter of years.”

Today, those cities are attracting Chinese travellers in droves¹⁰. Over the centuries, Kyoto has preserved — and refurbished¹¹ — its many beautiful temples, shrines and Zen gardens. Geishas can be seen walking around the wooden houses of Gion, the entertainment district. Nara is smaller and feels more rural but houses the many treasures the B brought back from A . Despite political tensions over history and islands, 731,400 Chinese visited Japan in July, the highest number yet recorded in a single month.

“There is a common culture running between China and Japan,” Wang says. “Political relations are bad but economy comes before politics, and culture comes before economics. If recent history is hurting the relationship between the two countries, it is ancient history that will be the plaster that binds them together.”

出典：MORIYASU, Ken: Treasures of the Tang Trail.

Financial Times, September 9, 2016.

[<https://www.ft.com/content/7d8a58ac-7482-11e6-b60a-de4532d5ea35>]

(最終確認日：2019年11月12日)

注

- 1 sprawl 不規則に広がる
- 2 grid 格子, 碁盤目
- 3 yore 昔, 往時
- 4 dignitary 高位の人
- 5 stunning すてきな, 魅力的な, すばらしい
- 6 covet むやみに欲しがる, 切望する
- 7 worthwhile やりがいのある
- 8 en route 途中, 途上で
- 9 materialistic 物質主義の
- 10 in droves 群れをなして
- 11 refurbish 磨き直す, 一新する

問 1 下線部(ア)の文化について記した以下の文のうち, 誤っているものを次の選択肢(A~D)から一つ選び, マークしなさい。

- A 玄奘や義浄がインドから経典をもち帰り, その後の仏教に大きな影響を与えた。
- B 経典の字句解釈を重んずる訓詁学が改めて重視され, 孔穎達らの『五経正義』がつけられた。
- C 李白・杜甫・白居易らが独創的な詩風で名声を博した。
- D 王羲之の書法は, 貴族趣味を脱し, 個性的で力強い手法に戻ろうとする気運のさきがけといえる。

問 2 下線部(イ)(別称を含む)を都にしたことのある国を, 建てた, または治めた人物として, 誤っているものを次の選択肢(A~D)から一つ選び, マークしなさい。

- | | |
|-----------|-------------|
| A 趙匡胤(太祖) | B 完顔阿骨打(太祖) |
| C フビライ | D ヌルハチ |

問 3 下線部(ウ)は、1936年、ある人物が、対共産党攻撃をうながしに来た蒋介石を監禁し、内戦停止と抗日戦を求めた場所として知られる。この人物について記した文として、誤っているものを次の選択肢(A～D)から一つ選び、マークしなさい。

- A この人物は、奉天軍閥を率いて北伐軍とたたかったのち、国民政府支持を表明し、南京国民政府の中国統一のために努力した。
- B この人物は、満州事変で抗日を主張して蒋介石と衝突した。
- C 1931年、南満州鉄道が爆破された際、日本の関東軍は、この人物の仕業によるものだと主張して軍事行動を開始した。
- D この人物は、奉天軍閥の首領で、日本の支援を受け、1927年に北京政府を掌握した。

問 4 空欄 の都市をモデルにして造営された渤海の都の名を漢字5字で書きなさい。

問 5 空欄 に入る語句を漢字3字で書きなさい。

問 6 下線部(C)出身の阿羅本が布教したキリスト教ネストリウス派の中国での呼び名を漢字2字で書きなさい。

問 7 下線部(D)を7世紀から8世紀にかけて首都としていた王朝の名を書きなさい。

問 8 下線部(E)を都としていた帝国のある皇帝から、2世紀中頃、使者が中国へ送られ、海路で日南郡(現ベトナム中部)に到着したと『後漢書』に記されている。この皇帝の中国での呼び名を漢字5字で書きなさい。

〔V〕 次の写真，年表，地図に関連して，つづく問(1～6)に答えなさい。

【写真】

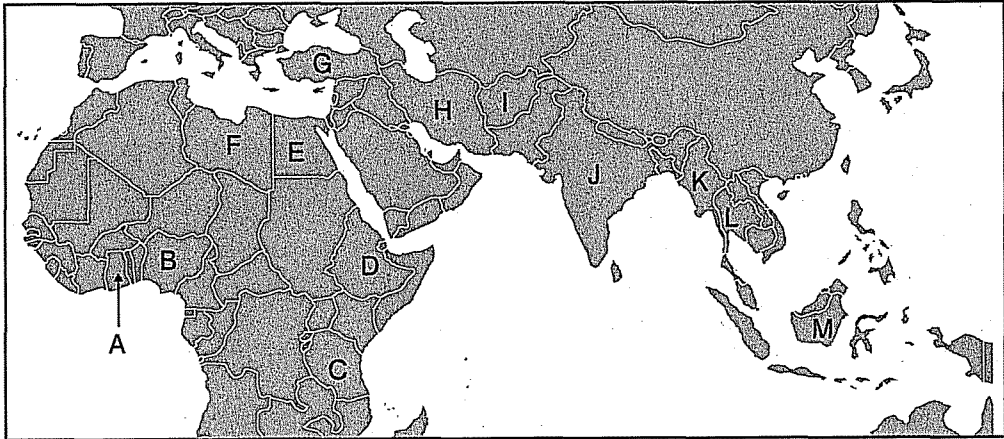


【写真の出典】Wikimedia Commons

【年表】

年	できごと
1954年	中国の周恩来と【写真】の人物3が平和五原則を提唱した
1955年	日本を含むアジア・アフリカの首脳が【写真】の人物4が大統領を務めていた国 ⁽¹⁾ で開催された会議に参加し，平和五原則を発展させた平和十原則を採択した
1956年	【写真】の人物1がスエズ運河の国有化を宣言したことをきっかけに，第2次中東戦争が勃発した
1957年	【写真】の人物2が率いる国がサハラ以南アフリカで初めての独立を果たした
1960年	アフリカで17か国が一挙に独立し，この年は「アフリカの年」と呼ばれた一方で，コンゴ動乱が勃発した ⁽²⁾
1961年	【写真】の人物5が大統領を務める国に25カ国の首脳が集結し，第1回非同盟諸国首脳会議 ⁽³⁾ が開催された
1963年	アフリカの連帯と統一をめざすアフリカ統一機構 ⁽⁴⁾ が創設された
1964年	ジュネーブで第1回国連貿易開発会議総会が開催され，先進工業国による開発途上国への技術援助・資金援助に関する取り決めが定められた ⁽⁵⁾

【地図】



問 1 【写真】の人物 1～5 が首相もしくは大統領を務めていた国を【地図】からそれぞれ選び、記号(A～M)で答えなさい。なお、A～Mのいずれにも該当しない場合はZを選ぶこと。

問 2 【年表】の下線部(1)について、この会議が開催された島の名前をカタカナで答えなさい。

問 3 【年表】の下線部(2)について、この 17 か国のうち 14 か国を植民地統治していたヨーロッパの旧宗主国の国名をカタカナで答えなさい。

問 4 【年表】の下線部(3)について、この会議が開催された都市名をカタカナで答えなさい。

問 5 【年表】の下線部(4)について、この組織の基本理念を引き継ぎ、発展・改組する形で 2002 年に発足した地域機構の略称をアルファベット(大文字)で答えなさい。

問 6 【年表】の下線部(5)について、この機関の略称をアルファベット(大文字)で答えなさい。

〔VI〕 次の問に答えなさい。

「シーア派」について3行で説明しなさい。

