

2020 年度 明治大学

【全学部統一】

解答時間 60分

配点 100点

れ

世界史B, 日本史B, 地理B, 政治・経済



物理, 化学, 生物 問題

はじめに, これを読みなさい。

1. この問題冊子は149ページある。ただし, ページ番号のない白紙はページ数に含まない。各科目のページ数は以下のとおりである。必要な科目を選択して解答すること。

世界史B	1ページから22ページ
日本史B	23ページから38ページ
地理B	39ページから69ページ
政治・経済	70ページから89ページ
物理	90ページから103ページ
化学	104ページから122ページ
生物	123ページから149ページ

2. 解答用紙に印刷されている受験番号が正しいかどうか, 受験票と照合して確認すること。
3. 監督者の指示にしたがい, 解答用紙の氏名欄に氏名を記入すること。
4. 解答用紙の「解答科目マーク欄」にマークし, 「解答科目名記入欄」に解答する科目名を記入すること。マークされていない場合, または複数の科目にマークされている場合は, この時限の科目は採点対象外となる。
5. 解答は, すべて解答用紙の所定欄にマークすること。
6. 1つの解答欄に2つ以上マークしないこと。
7. 解答は, 必ず鉛筆またはシャープペンシル(いずれもHB・黒)で記入のこと。
8. 訂正する場合は, 消しゴムできれいに消し, 消しくずを残さないこと。
9. 解答用紙は, 絶対に汚したり折り曲げたりしないこと。
10. 解答用紙はすべて回収するので, 持ち帰らず, 必ず提出すること。
11. 問題冊子は, 必ず持ち帰ること。
12. 試験時間は, 60分である。
13. 問題文の中で, 国名, 地域名, 企業名については略称, 通称も用いている。
14. マーク記入例

良い例	悪い例
	

世界史 B

(解答番号 1～50)

〔 I 〕 次の文章を読み、下記の問いに答えなさい。

中国の王朝の歴史は、北方の遊牧民との関係を抜いては語れない。殷を倒して
華北を支配した周も、もとは西方の遊牧民であった。司馬遷『史記』では、西方の
遊牧民である犬戎による鎬京攻略が周の東遷の原因と説明されている。そして、
中国を初めて統一した秦も、もとは遊牧民出身である。その秦が中国統一後にな
ると、戦国時代以来の長城を修築して騎馬遊牧民である匈奴の侵入に対抗したの
は何とも興味深い。

(ア) の頃に全盛期を迎えた匈奴は、東胡や月氏を破り、中央ユーラシア
東方最初の遊牧帝国を樹立、前 200 年には成立直後の前漢を破り事実上の属国と
した。だが、前漢の武帝はこれを良しとせず、外交・軍事の両面から圧力を加
え、匈奴を北方に追いやった。タリム盆地のオアシス諸都市を前漢に奪われ、内
陸交易の利を失った匈奴は衰退に向かい、前 1 世紀中頃に東西に分裂してしま
う。

分裂した匈奴のうち、東匈奴は前漢に服属した一方、西匈奴は滅亡する。東匈
奴はさらに南北に分裂、そのうち北匈奴は西走するが、南匈奴は後漢に服属して
華北に移住する。その後、4 世紀初めの晋(西晋)の滅亡を契機に、華北一帯で遊
牧系王朝が興亡する「五胡十六国時代」が展開していく。

華北を中心に分立していた遊牧系王朝は、鮮卑の拓跋部が建てた北魏により
439 年に統一された。以後の南北分裂期は一般に「南北朝時代」と称されている。
しかしながら、この時期は、遊牧系王朝で中国式の統治体制を採用した北朝と、
漢人亡命政権の南朝、モンゴル高原の遊牧国家という三重構造をなしていた。こ
こで、「南北朝」といっても三重構造を強調するのは、北朝にとり軍事的脅威は
南朝よりむしろモンゴル高原の遊牧国家であったからである。かつて後漢を脅か

した鮮卑が建てた北魏は (イ) と対抗した。6世紀に (イ) を滅ぼしてモンゴル高原の覇者となった突厥も、北朝の北周や北斉を従属させている。

南北朝統一は、589年に北朝の隋が南朝の陳を併合したことで実現する。その⁽¹⁰⁾背景には、突厥の東西分裂(583年)によって北方の脅威が弱まったことがあった。短命に終わった隋のあとに唐を興した李淵も、北周や隋の王室と同様に鮮卑拓跋部出身であり、長安入城の際には東突厥の支援も受けた。こうした中央ユーラシア勢力は、唐の外交政策にも影響を与え、時には唐と対等な関係を、また時には唐より優位な関係をも築いた。その一方で唐は、東方や南方の朝貢国には冊封関係を結んで世界帝国としてふるまうなど、力関係や国際情勢に応じた多様な⁽¹¹⁾国家間関係を展開したのである。

問 1 下線部(1)に関連して、中央ユーラシアの遊牧民に関する説明として、誤っているものを一つ選びなさい。 1

- A. 騎馬遊牧民は、軍事・交通の両面でオアシス地域や農耕社会に対して圧倒的優位にたった。
- B. 遊牧国家は、政治と軍事を掌握した遊牧民が、経済力を持つオアシス民や国際商人の集団を滅ぼすことで強大化した。
- C. 中央ユーラシアの遊牧民はしばしば、馬と交換する絹馬貿易や中国からの貢納を通じて絹を入手し、これを西方へ転売することで利益を得た。
- D. 能力さえあれば出自の別なく登用する実力主義も、遊牧民の国家にしばしばみられる特徴であった。

問 2 下線部(2)に関連して、周の東遷以後の春秋・戦国時代にあらわれる諸子百家の説明として、もっとも適切なものを一つ選びなさい。

- A. 名家は名(概念)と実(本質)との一致・調和を論理的に目指し、前漢以降影響力を拡大した。
- B. 墨家は、血縁関係にとらわれない無差別の愛(兼愛)を説くとともに、平和論(非攻)を主張した。
- C. 道家は、人為的なものを取り入れたうえで、自然の道と天命に従う無為無策を主張した。
- D. 法家は、徳のみならず、成文法と慣習法をも重視する統治(法治主義)を主張した。

問 3 下線部(3)に関連して、遊牧民出身ではないものとして、もっとも適切なものを一つ選びなさい。

- A. エフタル
- B. ナイマン
- C. 女真(女直)
- D. 烏孫

問 4 空欄(ア)に入る正しい人名を一つ選びなさい。

- A. 冒頓単于
- B. 耶律阿保機
- C. 独孤信
- D. 完顔阿骨打

問 5 下線部(4)に関連して、このときの前漢の皇帝がのちに贈られた廟号として、もっとも適切なものを一つ選びなさい。

- A. 高宗
- B. 太宗
- C. 高祖
- D. 世宗

問 6 下線部(5)に関連して、前漢の武帝が行ったこととして、誤っているものを一つ選びなさい。

- A. 洛陽への遷都
- B. 楽浪郡など朝鮮4郡の設置
- C. 儒学の官学化
- D. 均輸・平準による経済統制策

問 7 下線部(6)に関連して、前漢の西域進出にともない西域都護府が置かれたオアシス都市クチャ(亀茲)の説明として、もっとも適切なものを一つ選びなさい。

- A. 河西回廊西端に位置するクチャは、前漢の武帝のときには郡が設けられ、西域への玄関口として機能したが、その後は吐蕃や西夏の支配を受けたりもした。
- B. タリム盆地南縁にあるクチャは漢代から玉の産地として名高く、仏教の東伝にも大きく貢献したが、その後は住民のトルコ化とイスラーム化が進んだ。
- C. 天山南麓に位置するクチャは、唐代には安西都護府も置かれたが、9世紀中頃のウイグルの進出によりトルコ化し、その後イスラーム化した。
- D. ソグド人の本拠地ソグディアナの中心都市でもあるクチャは、南北朝から唐代にかけての中国では「康国」とも記された。

問 8 下線部(7)に関連して、タリム盆地まで版図を拡大した国家として、もっとも適切なものを一つ選びなさい。

- A. 北宋
- B. 清
- C. 明
- D. 秦

問 9 下線部(8)に関連して、晋(西晋)が滅ぶこととなった兵乱の名称として、もっとも適切なものを一つ選びなさい。

- A. 永嘉の乱
- B. 八王の乱
- C. 黄巢の乱
- D. 黄巾の乱

問10 下線部(9)に関連して、南北方向に三つの国家が並列する状況を経験した国家の組み合わせの例として、もっとも適切なものを一つ選びなさい。

- A. 魏—呉—蜀
- B. 明—韃靼—オイラト
- C. 唐—ウイグル—吐蕃
- D. 南宋—金—大モンゴル国

問11 二つの空欄(イ)に共通して入るもっとも適切な語句を一つ選びなさい。

11

- A. 大夏 B. 柔然 C. 高車 D. 丁零

問12 下線部(ロ)に関連して、南北朝統一の以後に活躍した僧として、もっとも適切なものを一つ選びなさい。 12

- A. 鳩摩羅什 B. 仏図澄 C. 義浄 D. 法顕

問13 下線部(ハ)に関する説明として、もっとも適切なものを一つ選びなさい。

13

- A. 唐代においては、中央ユーラシア勢力との外交は理藩院が統括し、東方や南方の朝貢国との外交は礼部が統括した。
- B. 高句麗の滅亡後、大祚榮が中国東北地方に建国した渤海は、唐に対して朝貢を行わないことで独自性を維持した。
- C. 唐は服属した諸民族への統治を現地の首長に委任し、都護府を通じてそれを監督する「羈縻政策」をしばしば採った。
- D. カンボジアやチャンパーなどのインド文化の影響を受けた東南アジア諸国も唐に定期的に朝貢した。

〔Ⅱ〕 次の文章を読み、下記の問いに答えなさい。

「征服されたギリシアが野蛮な勝利者を征服し、数々の学芸を粗野なラティウムにもたらした」とホラティウスが述べた通り、古代ギリシアの諸都市はマケドニア⁽¹⁾やローマに軍事的・政治的には敗北したものの、そこで育まれた文化は絶大な影響力を及ぼし続けた。⁽²⁾その代表例はプラトンやアリストテレスの哲学だろう。またヘレニズム時代にあっては、プトレマイオスが天文学において輝かしい達成をとげた。やがてローマ帝国は衰退し、476年に西ローマ帝国が滅亡するとその領域内では古典古代文化の継承がいったん断絶したが、これに対して経済的・軍事的な優位を保った東ローマ帝国(ビザンツ帝国)⁽⁴⁾では引き続き古代ギリシアの哲学が学ばれた。

すでにキリスト教化していたビザンツ帝国では正統教義をめぐって激しい神学論争が行われ、公会議⁽⁵⁾で異端と断じられた学者たちはシリア、そしてササン朝ペルシアへと向かい、そこで自分たちが持っていた古典ギリシア語文献を現地語に翻訳していった。ペルシアはその後イスラーム勢力に征服されたが、アッバース朝は自身がペルシアの正統な後継者であることを示すため、ペルシアの事業を継承して古典ギリシア語文献のアラビア語への大々的な翻訳事業⁽⁸⁾を行った。哲学ではアリストテレスの著作が熱心に学ばれ、天文学⁽⁹⁾ではプトレマイオスのほか、インドの天文学書の翻訳も推進された。

一方、西欧においてもカロリング・ルネサンス⁽¹⁰⁾のような動きがないではなかったが、失われた古典ギリシア語文献がアラビア語訳という形で大量に流入するには、12世紀ルネサンスを待つ必要があった。12世紀ルネサンスにおいては、地中海交易⁽¹¹⁾によって入ってきたアラビア語訳がラテン語へと翻訳された。その翻訳活動の中心地のひとつはスペイン⁽¹²⁾にあった。こうしてイスラーム世界を経由して西欧に流入した古代ギリシアの学問は主として大学⁽¹³⁾で学ばれ、キリスト教神学と調和させる努力がなされた。

問 1 下線部(1)に関する説明として、もっとも適切なものを一つ選びなさい。

14

- A. フィリッポス 2 世はプラタイアの戦いに勝利してペロポネソス半島の支配権を確立し、ギリシア文化の吸収につとめた。
- B. フィリッポス 2 世はイッソスの戦いでアケメネス朝ペルシアの軍勢を打ち破り、シリア地方に進出した。
- C. アレクサンドロス大王はアリストテレスを学問上の師とする哲人王で、イデア論と呼ばれる哲学を唱えた。
- D. アレクサンドロス大王はマケドニアからインダス川に至る大帝国を建設し、ギリシア文化を各地に広めた。

問 2 下線部(2)に関する説明として、もっとも適切なものを一つ選びなさい。

15

- A. ホメロスの『オデュッセイア』は、トロイア戦争における英雄アキレウスの活躍をたたえる叙事詩である。
- B. ヒッポクラテスは病気の原因を患者や環境ではなく神々の介入に求め、古代ギリシアの医学を大成させた。
- C. タレスはミレトスで活動したギリシア初の自然哲学者で、「万物の根源は水である」と唱えた。
- D. アイスキュロスはペロポネソス戦争を題材とした『歴史』を著したが、これは最古の歴史書と言われる。

問 3 下線部(3)に関連して、西ローマ帝国滅亡後の状況の説明として、もっとも適切なものを一つ選びなさい。 16

- A. オドアケルは、ローマ教皇グレゴリウス1世が引き入れた東ゴート族によって倒された。
- B. ローマ教会は、信仰の統一をはかるべく聖像崇拜の禁止(イコノクラスム)を徹底した。
- C. ボエティウスは、アリストテレスの著作のラテン語訳を進めたが、一部を完成させたのみで獄死した。
- D. イタリア半島では、長年の混乱にともなう農業生産の低下を補うため、農奴解放が即座に行われた。

問 4 下線部(4)に関する説明として、もっとも適切なものを一つ選びなさい。

17

- A. ユスティニアヌス大帝は初めてソリドゥス金貨(ノミスマ)の鑄造を命じたが、これは信頼性の高い貨幣として地中海交易で活用された。
- B. ヘラクレイオス1世は大土地所有制度を廃して軍管区制を敷き、屯田兵としての自由農民を増やして帝国の防衛体制を整えた。
- C. レオン3世はウマイヤ朝の軍勢を撃退することに成功したが、ノルマン人の侵入をゆるし、戦場で敗死した。
- D. アレクシオス1世はプロノイア制を敷いて帝国の経済的・軍事的基盤を整備するとともに、ギリシア語を公用語化することに成功した。

問 5 下線部(5)に関して、325年のニケーア公会議で正統とされた教派を一つ選びなさい。 18

- A. アタナシウス派
- B. ソツイーニ派
- C. ネストリウス派
- D. カタリ派

問 6 下線部(6)に関連して、ギリシアの学芸を奨励したことで知られるホスロー

1世についてもっとも適切な説明を一つ選びなさい。 19

- A. 東方のクシャーナ朝と争い、これを滅ぼした。
- B. 西方のビザンツ帝国との戦いを有利に進めた。
- C. マニ教の聖典『アヴェスター』を整備した。
- D. 父王に助言してマズダク教を保護させた。

問 7 大学の指示により削除


問 8 下線部(8)に関連して、アッバース朝がバクダードに設置した翻訳・研究機

関としてもっとも適切なものを一つ選びなさい。 21


- A. リュケイオン学園
- B. マドラサ
- C. 知恵の館
- D. モスク

問 9 下線部(9)に関連して、アストラーベと呼ばれる観測機器の写真として最も適切なものを選びなさい。


22



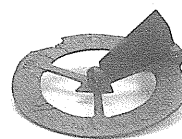
A.



B.



C.



D.

(出典：Object Collection Database, History of Science Museum,
University of Oxford)

問10 下線部(10)に関する説明として、もっとも適切なものを一つ選びなさい。

23

- A. アルクインなど多くの学者が宮廷に招かれ、ラテン語による議論がなされた。
- B. トマス＝アクィナスなど多くの学者が宮廷に招かれ、ラテン語による議論がなされた。
- C. アルクインなど多くの学者が宮廷に招かれ、俗語による議論がなされた。
- D. トマス＝アクィナスなど多くの学者が宮廷に招かれ、俗語による議論がなされた。

問11 下線部(11)に関連して、中世の地中海商業圏についてもっとも適切な説明を一つ選びなさい。

24

- A. リューベックやハンブルクを中心とするハンザ同盟が主に木材や羊毛を取引していた。
- B. リューベックやハンブルクと地中海東岸のあいだでレヴァント貿易が行われ、主に香辛料や絹織物を取引していた。
- C. ヴェネツィアやジェノヴァを中心とするハンザ同盟が主として木材や羊毛を取引していた。
- D. ヴェネツィアやジェノヴァと地中海東岸のあいだでレヴァント貿易が行われ、主に香辛料や絹織物を取引していた。

問12 下線部(12)に関連して、アラビア語からラテン語への翻訳活動が大規模に行われたスペインの古都としてもっとも適切な都市を一つ選びなさい。

25

- A. カターニア
- B. フェズ
- C. バーリ
- D. トレド

問13 下線部(13)に関連して、中世の大学では都市を活動の中心とする托鉢修道会の修道士が教授職を占めることがあった。次のうち、托鉢修道会を一つ選びなさい。 26

A. ベネディクト会

B. ドミニコ会

C. イエズス会

D. シトー会

〔Ⅲ〕 次の文章を読み、下記の問いに答えなさい。

17世紀後半から大西洋の三角貿易を通じて資本を蓄積してきたイギリスでは、18世紀になると大地主が大規模な土地を囲い込んで農地を作り、土地を失った農民は工場労働者として都市へ流入した。工場制度の普及に伴い、従来インドからの輸入に頼っていた綿織物も技術革新の連鎖によって国内生産が可能となり、石炭や鉄などの資源にも恵まれていたイギリスで産業革命が起こった。

同じころ、イギリス領北アメリカの13植民地では、本国の重商主義政策や戦争の負債を補う重税政策への不満が高まった。1775年の武力衝突を機に独立戦争が始まると、植民地側はワシントンを総司令官に任命して戦い、独立宣言を行った。フランスも植民地側に立って参戦し、その他のヨーロッパ諸国も武装中立同盟に参加したため、孤立したイギリスはヨークタウンでの敗戦後、(ア)を結んでアメリカ合衆国の独立を承認した。

ワシントンが大統領に就任した同じ年、今度はフランスで旧制度を覆す革命が起こった。当時の国王は、戦争による国家財政の行き詰まりを打開する財政改革を試みたが、特権身分がこれに抵抗したため、(a)の招集が行われた。だがその議決方法を巡って特権身分と対立した平民身分の議員たちは、自らが国民を代表する(b)であると宣言し、憲法の起草を始めた。これを武力で弾圧する国王の動きを察知したパリの民衆は反発し、バステイーユ牢獄を襲撃すると、(b)は封建的特権を廃止して、ラ＝ファイエットらの起草した(イ)宣言を採択した。

アメリカとフランスの革命の影響はラテンアメリカまで波及し、カリブ海のイスパニョーラ島では、フランスからの独立運動が起こった。その結果、1804年に史上初めての黒人共和国であるハイチが誕生し、1810年から1820年代にかけてラテンアメリカ世界は、ヨーロッパ諸国の支配から多くの国が独立を果たした。イギリスの産業革命を起点に、アメリカ独立革命からフランス革命を経てラテンアメリカ諸国の独立へと波及したこれらの変革の動きを、一国に限定せず、貿易や人的交流、そして思想的な相互影響の面から一つの大きな連鎖運動としてとらえる見方を、(ウ)論と呼ぶ。

問 1 下線部(1)について、図 1 の貿易地と主な輸出品①—②—③の流れとして、
 もっとも適切な組み合わせを一つ選びなさい。 27

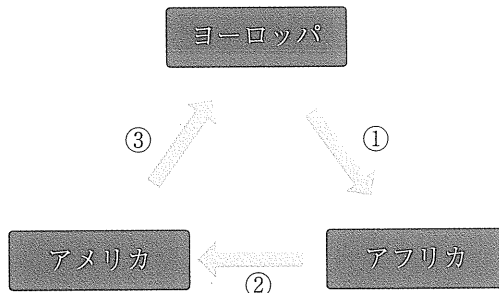


図 1

- A. ① 武器・雑貨, ② 奴隷, ③ 砂糖・綿花
- B. ① ブドウ酒・小麦, ② コーヒー・タバコ, ③ 奴隷
- C. ① 武器・雑貨, ② 砂糖・綿花, ③ 奴隷
- D. ① ブドウ酒・小麦, ② 奴隷, ③ コーヒー・タバコ

問 2 下線部(2)に関連する以下の記述のうち、誤りを含むものを一つ選びなさい。 28

- A. スティーヴンソンが製作した蒸気機関車は公共の陸上輸送機関として急速に普及し、交通革命を大きく推し進めた。
- B. 綿工業のためにジョン・ケイが発明した飛び杼(梭)は、毛織物工業に転用されると毛織物の生産を増大させた。
- C. カートライトは、ワットの改良した蒸気機関を動力源として利用した力織機を発明し、綿布の生産を増大させた。
- D. ハーグリーブズはジェニー紡績機を、クロンプトンはミュール紡績機を、それぞれ発明し、良質の綿糸が大量に生産された。

問 3 下線部(3)に関連して、18世紀半ばにイギリスが支援ないし関係した戦争(戦い)として、該当しないものを一つ選びなさい。 29

- A. 七年戦争
- B. フレンチ=インディアン戦争
- C. プラッシーの戦い
- D. スペイン継承戦争

問 4 下線部(4)の説明として、もっとも適切なものを一つ選びなさい。

30

- A. この同盟は、イギリスの大陸海上封鎖に対して交戦国の物資積載の自由を要求するプロイセン皇帝が提唱した。
- B. この同盟は、ポルトガル、ロシア、プロイセン、オランダ、スペインなど大西洋岸諸国が参加して結成された。
- C. この同盟は、イギリスの対米海上封鎖に対して中立国の航行の自由を要求するロシア皇帝が提唱した。
- D. この同盟は、ラ＝ファイエット、サン＝シモン、コシューシコなど義勇軍に参加した人々によって提唱された。

問 5 空欄(ア)に入る適切な条約の名称を一つ選びなさい。

31

- A. フィラデルフィア条約
- B. ロンドン条約
- C. パリ条約
- D. ユトレヒト条約

問 6 下線部(5)に関連して、当時の財務総監の説明として、もっとも適切なものを一つ選びなさい。

32

- A. 重商主義の経済学者であったテュルゴーは、財務総監に任命されると、商取引の自由化やギルドの廃止など自由主義的な改革を行った。
- B. 貴族などの反発で一度は財務総監を免職されたネッケルは、再任されると平民議員倍増案などを打ち出し、民衆の人気を博した。
- C. テュルゴーの失脚後に財務総監になった重農主義者のケネーは、自国の商業の育成や関税の強化など保護主義的な改革を行った。
- D. 財務総監として重商主義政策を推し進めたコルベールは、東インド会社再建による貿易拡大政策を打ち出し、自国の産業保護に努めた。

問 7 空欄(a)と(b)に入る語句の組み合わせとして適切なものを一つ選びなさい。

33

- A. (a) 三部会, (b) 国民議會 B. (a) 三部会, (b) 国民公会
C. (a) 名士会, (b) 国民議會 D. (a) 名士会, (b) 国民公会

問 8 下線部(6)に関連して、この時に無条件で廃止された特権に該当しないものを一つ選びなさい。

34

- A. 領主裁判権 B. 十分の一税
C. 特権身分の免税 D. 領主地代(貢租)

問 9 空欄(イ)の宣言の正式名称として、もっとも適切なものを一つ選びなさい。

35

- A. 人間および市民の権利宣言 B. 女性および市民の権利宣言
C. 人民および国家の権利宣言 D. 人類および国家の権利宣言

問10 下線部(7)に関連して、スペインからの独立の流れとして、もっとも適切な説明を一つ選びなさい。

36

- A. サン＝マルティンの指導のもとにコロンビアが独立したのち、シモン＝ボリバルの指導のもとにアルゼンチンも独立を果たした。
B. 司祭イダルゴが指導した民衆蜂起を契機にメキシコが独立したのち、サン＝マルティンの指導のもとにアルゼンチンも独立を果たした。
C. サン＝マルティンの指導のもとにアルゼンチンが独立したのち、シモン＝ボリバルの指導のもとにコロンビアも独立を果たした。
D. シモン＝ボリバルの指導のもとにコロンビアが独立したのち、それに触発された司祭イダルゴがメキシコで独立運動を開始した。

問11 下線部(8)の事例として、誤りを含むものを一つ選びなさい。 37

- A. アメリカ独立宣言は、啓蒙思想を大きく取り入れ、圧制への抵抗権を主張したイギリスの思想家ロックの自然法思想に基づいて起草された。
- B. 奴隷解放の指導者トゥサン＝ルヴェルチュールは、独学でフランス語や啓蒙思想を学んだが、最後はフランス軍に捕えられ、獄死した。
- C. フランスの思想家モンテスキューは、立法・行政・司法の「三権分立」を主張し、アメリカの合衆国憲法はそれを制度として取り入れた。
- D. アメリカ独立の正当性を説いたトマス＝ペインの『コモン＝センス』は、フランスの思想家ルソーの社会契約論の着想に大きな影響を与えた。

問12 空欄(ウ)に入る適切な語句を一つ選びなさい。 38

- A. 地中海革命
- B. ビロード革命
- C. 大西洋革命
- D. 永続革命

〔IV〕 次の文章を読み、下記の問いに答えなさい。

アメリカ合衆国は第二次世界大戦後、外交において、それまでの孤立主義を放棄し、世界情勢を決定づける存在になった。アメリカは、第二次世界大戦で本土にほとんど戦災を受けなかった戦勝国であったため、戦後経済的に繁栄し、1950年代には「豊かな社会」といわれる時代を迎えた。その一方で、政治的には、ソ連を中心とする社会主義陣営が、アメリカの自由主義陣営を脅かすのではないかという危惧から、米ソの本格的な冷戦が始まった。国内ではマッカーシズムが吹き荒れ、思想的には不寛容な時代であった。

1960年代は、1950年代の物質的な豊かさや思想的な不寛容に対する反動が生じた時代として位置づけられる。外交政策では、アジアの共産化の防止という意図からベトナム戦争に介入する。しかし、戦争が長期化するにつれ、アメリカの帝国主義的な対外政策は国内外から強い批判を浴びた。また、経済的な繁栄の影響で、なおも残る人種差別や経済的格差といった国内の矛盾にも目が向けられるようになった。ケネディ大統領とジョンソン大統領は、こうした問題に取り組む一方で、1960年代から70年代にかけて、様々な社会運動が広がった。

ベトナム戦争の長期化に伴い、アメリカ経済が深刻な打撃を受けるなか、ニクソン大統領が1971年にドルと金の兌換停止を発表すると、ドルを基軸とする国際通貨制度は崩壊した。世界的な緊張緩和に向かった1970年代に、カーター大統領は人権を中心的な理念に据えた外交を行った。しかし、武力行使を避けるカーター政権の外交政策により、むしろ緊張は再び高まることとなり、アメリカの対外的威信は低下した。

1980年代に誕生したレーガン政権は、従来の外交を批判し、「強いアメリカ」の復活を訴えた。そして、SDI構想でソ連と対峙し、中東と中米地域への政治的・軍事的介入を行うなど、新たな外交政策を展開した。国内では、新自由主義的な経済思想に基づく諸政策が実行された。1989年にベルリンの壁が崩壊すると、アメリカ大統領 とソ連共産党書記長 は、 で、冷戦の終結を宣言した。

冷戦終結後の1990年代以降は、地域紛争や宗教対立、民族紛争が激化した。

超大国となったアメリカは、1990年のイラクのクウェート侵攻を許さず湾岸戦争を遂行した。湾岸戦争後、イスラーム急進派の反米感情は高まっていった。2001年には、イスラーム急進派による同時多発テロ事件が起こり、アメリカは対テロ戦争に突入した。2009年にオバマ大統領が誕生すると、国内政治では、⁽¹⁰⁾オバマケアの実現や、同性婚の容認など、進歩的な政策を打ち出した。外交問題では協調路線に転換し、プラハでの核兵器廃絶演説の中で、⁽¹¹⁾武力による対立ではなく対話の重要性を説き、ノーベル平和賞を受賞した。

問 1 下線部(1)に関連して、1823年の年次教書で、アメリカ外交の基調として孤立主義の方針を発表した大統領として正しい人名を一つ選びなさい。

39

- | | |
|----------------|---------------|
| A. ジョン・アダムズ | B. トマス・ジェファソン |
| C. ジェームズ・マディソン | D. ジェームズ・モンロー |

問 2 下線部(2)に関連して、ギリシアとトルコの共産主義化阻止のために軍事支出の要請を表明し、事実上の冷戦開始を告げることとなった1947年の声明としてもっとも適切なものを一つ選びなさい。 40

- | | |
|------------------|----------------|
| A. アイゼンハワー＝ドクトリン | B. トルーマン＝ドクトリン |
| C. マーシャル＝プラン | D. ダレス＝プラン |

問 3 下線部(3)に関する説明として、もっとも適切なものを一つ選びなさい。

41

- A. ジュネーヴ休戦協定でインドシナから撤退したイギリスに代わって、アメリカが南ベトナムに介入したことが発端となって発生した。
- B. トンキン湾事件を口実に、アメリカ大統領ケネディは北ベトナムへの爆撃を開始した。
- C. 日本では、沖縄の米軍基地がベトナム戦争に利用されていたことに批判が高まり、沖縄返還問題が浮上した。
- D. ジョンソン大統領はアメリカ軍の南ベトナムからの撤退を行い、ベトナム(パリ)平和協定が成立した。

問 4 下線部(4)に関連する説明として、もっとも適切なものを一つ選びなさい。

42

- A. 「偉大な社会」計画をスローガンに掲げ、貧困問題と人種差別の解消に取り組んだ。
- B. アイルランド系アメリカ人で初のカトリック教徒のアメリカ大統領であった。
- C. 在職中に、黒人解放運動の先導者で非暴力主義を掲げたキング牧師が暗殺された。
- D. 「巻き返し政策」で反共の立場をとる一方で、朝鮮戦争の休戦やジュネーヴ4巨頭会談への参加も行った。

問 5 下線部(5)に関連する説明として、もっとも適切なものを一つ選びなさい。

43

- A. 1960年代に南部を中心に婦人参政権を求めた女性解放運動が広がり、次第に全米に波及した。
- B. 1964年に公民権法が制定されるまで、南部ではクー=クラックス=クランが作ったジム=クロウ法と称する人種隔離制度があった。
- C. 1964年の公民権法の制定により人種差別が禁じられるようになると、次第に公民権運動は沈静化していった。
- D. 公民権運動に影響され、反戦運動や女性解放運動、学生運動が広がり、カウンター・カルチャーが生み出された。

問 6 下線部(6)に関連して、1960年代後半から70年代に起こったこととして、誤っているものを一つ選びなさい。 44

- A. ニクソン訪中
- B. ソ連軍のアフガニスタンからの撤退
- C. 米ソ間の第一次戦略兵器制限交渉の合意
- D. 西ドイツのブランド政権による東方外交

問 7 下線部(7)に関連して、カーター政権の時の出来事の説明として、誤っているものを一つ選びなさい。 45

- A. イラン革命後にアメリカ大使館人質事件が起こった。
- B. アメリカは、エジプトとイスラエルの中東和平合意の調停をした。
- C. アメリカは、モスクワ・オリンピックへの参加を拒否した。
- D. 米中間で共同宣言が発表され、事実上の相互承認が行われた。

問 8 下線部(8)に関連して、社会主義路線をとる政権に対するクーデタをきっかけに、1983年にレーガン政権が軍事介入をはじめた国の名前として正しいものを一つ選びなさい。 46

- A. ジャマイカ
- B. グレナダ
- C. ニカラグア
- D. ドミニカ

問 9 下線部(9)に関する説明として、もっとも適切なものを一つ選びなさい。

47

- A. 自由な経済活動を認めた上で、経済的格差の解消を目指す考え方。
- B. 税金によって、高齢者や貧困層に対する社会福祉政策を充実させる考え方。
- C. 市場至上主義と個人の自由を重んじ、自己責任を強調する考え方。
- D. 自由な市場競争を政府の積極的な関与のもとに行い、富を社会全体に行き渡らせる考え方。

問10 空欄(ア), (イ), (ウ)に入るものの組み合わせとして正しいものを一つ選びなさい。 48

- A. (ア) レーガン-(イ) エリツイン-(ウ) マルタ
- B. (ア) レーガン-(イ) ゴルバチョフ-(ウ) ヤルタ
- C. (ア) ブッシュ(父)-(イ) ゴルバチョフ-(ウ) マルタ
- D. (ア) ブッシュ(父)-(イ) エリツイン-(ウ) ヤルタ

問11 下線部(10)に関連する説明として、もっとも適切なものを一つ選びなさい。

49

- A. テロの実行者であるビン=ラディンをかくまうターリバーン政権打倒のために、アメリカはパキスタンを攻撃した。
- B. アメリカは、2003年に大量破壊兵器を所持していることを理由にイラク戦争を開始し、大量破壊兵器が見つかった。
- C. イラク戦争では、日本は憲法上の理由から陸上自衛隊の派遣を行わなかった。
- D. イラク戦争によりサダム=フセイン政権が崩壊した後、イラクの暫定政権に主権が移譲されたが、いまだに治安は安定していない。

問12 下線部(11)の背景には、西欧の帝国主義的な支配と拡大に対する態度への反省がある。これに関連して、西欧は、非西欧に後進性や停滞といった画一的なイメージを押し付けていると批判的に指摘した、パレスチナ生まれのアメリカ人研究者として正しい人名を一つ選びなさい。 50

- A. アラファト
- B. サイド
- C. デューイ
- D. サルトル