

に





世界史B, 日本史B, 地理B, 政治・経済
物理, 化学, 生物 問題

はじめに, これを読みなさい。

1. この問題冊子は 149 ページある。ただし, ページ番号のない白紙はページ数に含まない。各科目のページ数は以下のとおりである。必要な科目を選択して解答すること。

世界史 B	1 ページから 21 ページ
日本史 B	22 ページから 42 ページ
地 理 B	43 ページから 68 ページ
政治・経済	69 ページから 88 ページ
物 理	89 ページから 104 ページ
化 学	105 ページから 123 ページ
生 物	124 ページから 149 ページ

2. 解答用紙に印刷されている受験番号が正しいかどうか, 受験票と照合して確認すること。
3. 監督者の指示にしたがい, 解答用紙の氏名欄に氏名を記入すること。
4. 解答用紙の「解答科目マーク欄」にマークし, 「解答科目名記入欄」に解答する科目名を記入すること。マークされていない場合, または複数の科目にマークされている場合は, この時限の科目は採点対象外となる。
5. 解答は, すべて解答用紙の所定欄にマークすること。
6. 1つの解答欄に2つ以上マークしないこと。
7. 解答は, 必ず鉛筆またはシャープペンシル(いずれもHB・黒)で記入のこと。
8. 訂正する場合は, 消しゴムできれいに消し, 消しくずを残さないこと。
9. 解答用紙は, 絶対に汚したり折り曲げたりしないこと。
10. 解答用紙はすべて回収するので, 持ち帰らず, 必ず提出すること。
11. 問題冊子は, 必ず持ち帰ること。
12. 試験時間は, 60分である。
13. 問題文の中で, 国名, 地域名, 企業名については略称, 通称も用いている。
14. マーク記入例

良い例	悪い例
	  

世界史 B

(解答番号 1～50)

〔 I 〕 次の文章を読み、下記の問いに答えなさい。

中国史の研究では、司馬遷『史記』に代表される文献史料に加え、様々な史料が用いられる。10世紀より前の時代を例にとれば、殷王朝の研究では甲骨文が、周王朝の研究では青銅器の銘文が用いられ、春秋・戦国時代では、特に戦国時代の竹簡・木簡、すなわち簡牘⁽¹⁾が発見され、研究に用いられている。⁽²⁾

簡牘史料の研究は20世紀初めから約1世紀の歴史を持つが、その研究は漢代の木簡を中心にはじまった。漢は建国後しばらくの間、長城をこえて来る騎馬遊牧民⁽³⁾の匈奴との戦いに劣勢をしいられたが、やがて反撃に転じ、勢力を西域⁽⁴⁾に伸ばして、長城沿いに烽燧⁽⁵⁾(監視塔)や駐屯軍を置いた。それらの遺跡のうち、敦煌付近の漢代長城近傍の遺跡からは、20世紀初頭にイギリスの探検家によって木簡が発見された。さらに内モンゴルの漢代長城近傍の遺跡で約1万点の居延漢簡⁽⁶⁾が発見され、それらの研究によって長城は単に異民族の侵入を防ぐだけでなく、漢からの逃亡者を監視し防ぐ役割も持っていたことが明らかになった。なお、西のローマ帝国でも五賢帝⁽⁷⁾の時代に建造されたという長城が現在のイギリスに現存し、その付近からも木簡が発見されている。

後漢時代以降の研究では墓碑など石に文字を刻んだ石刻史料も多用され、北魏⁽⁸⁾や隋・唐の研究では、石刻を用いた研究が盛んにおこなわれている。ネストリウス派キリスト教⁽⁹⁾の史料として有名な「大秦景教流行中国碑」もその一つである。こうした碑文は歴史研究のみならず、書道の資料としても重要視されている。また石碑には突厥碑文⁽¹⁰⁾などもある。

ところで漢代の木簡のうち、居延漢簡⁽¹¹⁾は数奇な運命をたどった。1930～1931年に発見され、北京へ運ばれた居延漢簡は、1937年の日中戦争勃発に伴い日本軍占領下の北京からひそかに香港へ運ばれ、太平洋戦争勃発に先立ってアメリカ

へ運ばれた。戦後、国共内戦にやぶれて台湾へ逃れた国民党政権が1970年代までアメリカと国交を有していたこともあり、居延漢簡は1965年に台湾へ運ばれた。古代史と近現代史とに関わった稀有な史料でもある居延漢簡は、現在、台北の中央研究院に所蔵されている。

(13)

問 1 下線部(1)に関する説明として、もっとも適切なものを一つ選びなさい。

1

- A. 親族関係の秩序やそれに応じた祭祀のやりかたを定めた律法がつけられた。
- B. 周辺民族に圧迫された周は、前8世紀に洛邑から鎬京へ都を移した。
- C. 周はもともと殷の支配地域の西方、渭水流域に存在し殷に服属していた勢力である。
- D. 教養ある「士大夫」という知識層が官界に進出し、王や諸侯に従う家臣となった。

問 2 下線部(2)に関する説明として、誤っているものを一つ選びなさい。

2

- A. 春秋時代には諸侯に權威を認められていた周王は、戦国時代には無視されるようになった。
- B. 豪族が土地を買い集め、没落農民を小作人や奴隸として支配するようになった。
- C. 秦の国力を増大させた改革を主導したとされる商鞅は、法家の一人に数えられる。
- D. 『楚辞』は戦国・楚の屈原らの詩歌を中心とした文学作品集として知られる。

問 3 下線部(3)に関する説明として、もっとも適切なものを一つ選びなさい。

3

- A. 特有の動物文様をもつスキタイ文化の遺物は、南ロシアからユーラシア東部の草原・森林地帯に分布する。
- B. 内陸アジア東部の騎馬遊牧民として、匈奴のほかに陰山山脈方面の烏孫、甘粛・タリム盆地東部の月氏がある。
- C. 青銅の武具や馬具を持った騎馬遊牧民が草原地帯に登場するのは、前6世紀ごろと考えられている。
- D. 遊牧国家は部族連合体としてはじまるが、すぐに部族組織を解体し高度に中央集権化した官僚制を構築する。

問 4 下線部(4)に関連して、漢のころに西の大秦国(ローマ)へ派遣されシリアまで到達したとされる人物として、正しい人名を一つ選びなさい。 4

- A. 班超
- B. 甘英
- C. 張騫
- D. 鄭和

問 5 下線部(5)の敦煌の調査をおこなったイギリスの探検家として、正しい人名を一つ選びなさい。 5

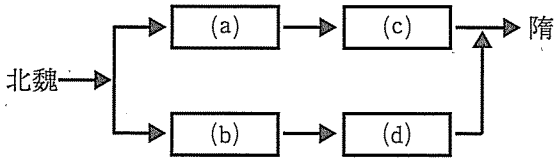
- A. ヘディン
- B. リヴィングストン
- C. スタンリー
- D. スタイン
- E. アムンゼン
- F. ピアリ

問 6 下線部(6)の時代の説明として、もっとも適切なものを一つ選びなさい。

6

- A. 帝国を東西にわけてそれぞれ正帝と副帝を置くテトラルキア(四帝分治制)をとった。
- B. 五賢帝期の末には帝国財政のいきづまりや経済の不振などの問題があらわれてきた。
- C. 事実上の皇帝独裁であるプリンキパトゥス(元首制)がはじまった。
- D. 帝国の全自由人にローマ市民権が与えられた。

問 7 下線部(7)の北魏が分裂して隋が成立するまでの北朝の交代について、空欄(a)・(b)・(c)・(d)に入る王朝名の組み合わせとして、正しいものを一つ選びなさい。 7



- A. (a)－東魏・(b)－西魏・(c)－北周・(d)－北齊
- B. (a)－北周・(b)－北齊・(c)－東魏・(d)－西魏
- C. (a)－北齊・(b)－北周・(c)－西魏・(d)－東魏
- D. (a)－西魏・(b)－東魏・(c)－北周・(d)－北齊

問 8 下線部(8)のネストリウス派キリスト教に関連する説明として、誤っているものを一つ選びなさい。 8

- A. ネストリウス派の説では、神たるイエスど人たるイエスを分離する。
- B. ネストリウス派はササン朝ペルシアを経て中国へ伝わった。
- C. ニケーア公会議でアリウス派とともに異端と認定された。
- D. 唐ではネストリウス派キリスト教(景教)のほか、ゾロアスター教やマニ教も伝来した。

問 9 下線部(9)に関連して、唐代の書家の中で従来の典雅な書風を一変させた力強い書風で知られる人物として、正しいものを一つ選びなさい。 9

- A. 顔真卿
- B. 褚遂良
- C. 柳宗元
- D. 歐陽詢

問10 下線部(10)に関連して、文字の歴史に関する説明として、誤っているものを一つ選びなさい。 10

- A. チベット文字は、インド系文字をもとにソンツェン＝ガンボの命でつくられた。
- B. 突厥は、漢字をもとにして史上初めて遊牧民独自の文字を作ったことで知られる。
- C. アラム文字から派生した文字の中には、モンゴル文字や満州文字がある。
- D. ナイル川流域のクシュ王国では、メロエに都をおいた時期にメロエ文字を用いた。

問11 下線部(11)と、それに関連する第二次世界大戦の説明として、もっとも適切なものを一つ選びなさい。 11

- A. 1939年11月にソ連はフィンランドに宣戦したが苦戦し、翌年に一部領土を獲得して休戦した。
- B. 1941年6月、ドイツは独ソ不可侵条約を無視し、ドイツ単独でソ連を攻撃して独ソ戦が始まった。
- C. ソ連はヤルタ協定に基づき、広島・長崎への原子爆弾投下後に日ソ中立条約破棄を通告して日本に宣戦した。
- D. 攻勢に転じたアメリカ軍は1945年2月に沖縄に上陸する一方、4月にフィリピンを奪還した。

問12 下線部(12)の台湾の近現代史の説明として、もっとも適切なものを一つ選びなさい。 12

- A. 第二次世界大戦後、中華民国の統治下に入った台湾では、五・三〇運動をきっかけに戒厳令下におかれた。
- B. 台湾では、1986年に民主進歩党(民進党)が結成され、1987年に戒厳令の解除が行われた。
- C. 1996年に政権交代が平和裏に実現した台湾では、2016年に民進党の蔡英文が総統の座についた。
- D. 台湾に在住していた本省人が台湾に渡ってきた外省人を支配する体制が1980年代後半まで続いた。

問13 下線部(13)の中央研究院の院長にもなった胡適に関する説明として、もっとも適切なものを一つ選びなさい。 13

- A. 日本留学経験を持ち、後に国民革命軍を率いて北伐をおこなった。
- B. 『新青年』を発刊して儒教批判をおこない、後に中国共産党の指導者となった。
- C. 日本留学経験を持ち、また文学によって中国人の内面を改革しようとした。
- D. アメリカ留学経験を持ち、また1917年に白話文学を提唱した。

〔Ⅱ〕 次の文章を読み、下記の問いに答えなさい。

1492年のコロンブスによるアメリカの「発見」は今日 [ア] として知られ、その後のヨーロッパ人の世界進出の幕開けとなった。この動きをけん引したのはスペインとポルトガルであり、後者はヨーロッパからアフリカの喜望峰を経由してアジアへと抜けるインド航路を確立した。この出来事には、航海学校や天文台を設置したことで有名な [イ] の先駆的な偉業が関与していた。

コロンブスがヨーロッパから西へ向かうルートを強く主張して航海実現のために奔走したのには次の歴史的背景が関連していた。中世において一度は否定された [ウ] を唱えるフィレンツェ生まれのトスカネリの学説に感化され、またカトリック両王ことイサベルとフェルナンドの支援を取りつけたコロンブス⁽¹⁾は、1492年8月にヨーロッパを出発、およそ2カ月半の航海を経て現在のバハマ諸島を構成する一つの島に到着した。彼はこの島を [エ] と命名した。この出来事は、スペインが後に広大な海外植民地を獲得していくきっかけとなった。

「発見」以後、多くのヨーロッパ人の進出により開拓されていったアメリカ大陸は新大陸とも呼ばれ、同地の様々な産物がヨーロッパへともたらされた。また逆⁽²⁾に、ヨーロッパからアメリカ大陸へともたらされたものもある。大西洋を媒介に長期継続されたこうしたやりとりは「コロンブスの交換」ともいわれる。

コロンブスは生涯4度アメリカ方面に航海したが、2度目の際、元々はインドなどが原産地だったといわれる [オ] をもち込んだ。その後、スペイン統治下のカリブ海域の島々ではアフリカから連れてこられた多くの黒人によってこれが大規模に栽培された。

逆にアメリカ大陸からヨーロッパへともたらされたものは多く、その中には一時的にせよ移入の過程で用途が変わったものもある。例えば [カ] はインカの主食だったが、ヨーロッパでは観賞用として王侯貴族に献上された。品種改良などを経てこれが広く食されたのは18世紀ごろからである。またチョコレート⁽³⁾の原料であるカカオは、元々飲み物であり、 [キ] としても用いられていた。さらにアメリカ先住民が儀礼に用いた [ク] は嗜好品として広く出回っ

ているが、近年は体に悪いとされ、世界的な規制の動きもある。

「コロンブスの交換」には、以上のような具体的な物品に限らず、病原菌のような微視的な存在も含まれる。アメリカ大陸への人類の移入は (ケ) を主な通り道としておよそ3万年前より始まったが、この時期は地球の気温が低下傾向にあった (コ) であり、海水面も現在より低かった。しかし1万年ごろから太陽活動の活発化により地球が急速に温暖化して海水面が上昇、アメリカ大陸はユーラシア大陸と分断された。これによりアメリカ大陸はある種の「無菌状態」となり、互いに陸続きである旧大陸で広く存在した伝染病⁽³⁾に対して、アメリカ大陸の先住民たちは免疫力を養う機会を失ってしまったのである。

問 1 空欄(ア)に入るもっとも適切な語句を一つ選びなさい。 14

- A. 大貿易時代
- B. 大航海時代
- C. 大移動時代
- D. 大交易時代

問 2 空欄(イ)に入る正しい人名を一つ選びなさい。 15

- A. バルトメウ＝ディアス
- B. カブラル
- C. ヴァスコ＝ダ＝ガマ
- D. エンリケ航海王子

問 3 空欄(ウ)に入るもっとも適切な語句を一つ選びなさい。 16

- A. 地球球体説
- B. 地動説
- C. 地球平面説
- D. 天動説

問 4 下線部(1)に関連して、カトリック両王在位中のことではないものを一つ選びなさい。 17

- A. トルデシリヤス条約の締結
- B. 植民地へのエンコミエンダの導入
- C. サラゴサ条約の締結
- D. グラナダの陥落

問 5 空欄(エ)に入るもっとも適切な語句を一つ選びなさい。 18

- A. サンアンドレス B. サンクリストバル
C. サンマルティン D. サンサルバドル

問 6 下線部(2)に関連して、もっとも適切なものを一つ選びなさい。 19

- A. 新大陸には後にはオーストラリア大陸も含まれた。
B. 新大陸の同義語として新世界があるが、この語はコロンブスが発案した。
C. 新大陸は、アフリカ大陸やユーラシア大陸と並んで「第三の大陸」とも呼ばれる。
D. 新大陸という名称は、アメリカ先住民が自分たちの土地をそう呼んでいたことに由来する。

問 7 空欄(カ)に入るもっとも適切な語句を一つ選びなさい。 20

- A. 小麦粉 B. バナナ C. サトウキビ D. ブドウ

問 8 空欄(カ)に入るもっとも適切な語句を一つ選びなさい。 21

- A. トマト B. ジャガイモ
C. ピーマン D. トウモロコシ

問 9 空欄(キ)に入るもっとも適切な語句を一つ選びなさい。 22

- A. アクセサリー B. 薬
C. 通貨 D. 武器

問10 空欄(ク)に入るもっとも適切な語句を一つ選びなさい。 23

- A. 茶 B. 酒 C. コーヒー D. タバコ

問11 空欄(ケ)に入るもっとも適切な語句を一つ選びなさい。 24

- A. ドレーク海峡 B. ベーリング海峡
C. ケイマン海峡 D. マゼラン海峡

問12 空欄(コ)に入るもっとも適切な語句を一つ選びなさい。 25

- A. 氷期 B. 雨期 C. 冷期 D. 寒期

問13 下線部(3)に関連して、この場合の伝染病としてあてはまらないものを一つ
選びなさい。 26

- A. 天然痘 B. 結核 C. 梅毒 D. マラリア

〔Ⅲ〕 次の文章を読み、下記の問いに答えなさい。

欧米諸国にとって19世紀の半ばは、イギリスがアヘン戦争⁽¹⁾で清朝を破り、アメリカが艦船を派遣して江戸幕府に開国を迫ったように、極東アジアに大きく進出しはじめた時代であった。

この時期は、ヨーロッパ諸国の内部でも大きな政治的変革を経験した。イギリスでは、1830年代後半から職人や労働者が「人民憲章」を掲げて自らの請願を政府⁽²⁾につきつけ、1840年代に大飢饉⁽³⁾に陥ったアイルランドでもイギリスからの自治・独立運動が再燃した。イタリアでは民族統一と共和政を目指す [ア] が結成され、1849年にローマ共和国が成立した。ドイツでも関税同盟によって経済的統一がなされたのち、フランクフルト国民議会でドイツ統一⁽⁴⁾が政治的に目指された。

こうしたイタリアやドイツの政治運動の追い風となった出来事がフランスの二月革命であった。1848年2月、パリでは一部の富裕層を優遇する七月王政に対する共和派や労働者の反対運動が成功し、国王⁽⁵⁾はイギリスに亡命し、共和政に移行する革命が起こった。社会主義者や労働者が閣僚に加わった臨時政府⁽⁶⁾の誕生は、他のヨーロッパ諸国に警戒心を呼び起こした。当時のヨーロッパはナポレオン戦争後、 [a] の主張する正統主義に基づき、 [b] の主導のもと各地の自由主義とナショナリズムの運動を抑え込み、勢力均衡を維持する [c] 体制が敷かれていた。だが二月革命の波がウィーンとベルリンにも押し寄せて [d] が起こると [b] は追放され、 [c] 体制は崩壊した。

しかし、1848年6月にパリの労働者の蜂起が軍隊に鎮圧されると今度はヨーロッパ全体でその巻き返しが始まった。フランクフルトの議会は次第に力を失い、 [ア] を組織したマツツイーニも加わったローマ共和国はフランス軍によって打倒された。また [d] に呼応してオーストリアからのハンガリーの独立を宣言した [イ] が指導する民族運動もロシアの支援を受けたオーストリア軍によって制圧された。フランスでは1848年末の大統領選挙でルイ＝ナポレオンが当選し、1851年のクーデタを経て翌年の国民投票で皇帝になると第二⁽⁷⁾

帝政が発足した。

また19世紀前半のヨーロッパは、フランス革命によって王権や教会の社会的影響力が衰え、貴族を中心とした宮廷文化から新興の市民層を担い手とする市民文化へ移行した時代であった。この市民文化を特徴づけるのが、美術・文学・音楽の各分野で花開いたロマン主義と呼ばれる思想運動である。普遍的な人間の理性を重視する18世紀の啓蒙思想とは違い、それぞれの国の言語や歴史を重視するロマン主義は、精神的に国民国家とナショナリズムの形成に大きな影響を与えた。またこの時代はドイツで近代的な大学が設立されるなど、従来の神学にとられない科学的な学問体系の基礎が固められた。

問1 下線部(1)の結果、イギリスが1842年に清朝と結んだ条約の内容としてもっとも適切なものを一つ選びなさい。

- A. 清は、天津など11の港の開港、九竜半島南部の割譲、アヘンの合法的輸入などを認めた。
- B. 清は、外国人の内地旅行の自由、外交使節の北京常駐、キリスト教の布教の自由などを認めた。
- C. 清は、アイグン条約で共同管理地とされたウスリー川以東の領土の割譲などを認めた。
- D. 清は、上海、広州など5つの港の開港、香港島の割譲、イギリスの戦費の支払いなどを認めた。

問2 下線部(2)の請願運動の呼び名として正しいものを一つ選びなさい。

- A. ラダイト運動
- B. チャーティスト運動
- C. 反穀物法運動
- D. ティーパーティ運動

問 3 下線部(3)に関連して、当時のアイルランドの説明としてもっとも適切なものを一つ選びなさい。 29

- A. 多くがプロテスタントだったケルト系の住民は、カトリック教徒のイギリス人不在地主のもとで小作人の地位におかれ、生活に困窮していた。
- B. 多くがカトリック教徒だったケルト系の住民は、プロテスタントのイギリス人不在地主のもとで小作人の地位におかれ、生活に困窮していた。
- C. ジャガイモ飢饉によって大量の移民がアメリカ合衆国に渡ったが、アイルランド自治法の制定後は人口減少に歯止めがかかった。
- D. ジャガイモ飢饉によって大量の移民がアメリカ合衆国に渡ったが、アイルランド自治法の制定後も人口減少は止まらなかった。

問 4 二箇所の空欄(ア)に共通して入るもっとも適切な語句を一つ選びなさい。

30

- A. ファランジュ
- B. カルボナリ党
- C. 青年イタリア
- D. 義人同盟

問 5 下線部(4)に関連する以下の記述のうち、誤りを含むものを一つ選びなさい。 31

- A. 小ドイツ主義とはプロイセンを中心にオーストリアを排除して行う統一の構想である。
- B. 大ドイツ主義とはオーストリアのドイツ人地域とベーメンも含めた統一の構想である。
- C. プロイセンがオーストリアとの戦争に勝利すると、ドイツ連邦は解体され、プロイセンを盟主とする北ドイツ連邦が成立した。
- D. プロイセン＝フランス戦争で勝利をおさめたビスマルクはヴェルサイユ宮殿で皇帝に即位し、ここにドイツ帝国が成立した。

問 6 下線部(5)の国王として適切な人物を一人選びなさい。 32

- A. ルイ＝フィリップ
- B. ルイ 18 世
- C. シャルル 10 世
- D. ニコライ 1 世

問 7 下線部(6)の政府の説明としてもっとも適切なものを一つ選びなさい。

33

- A. 厳しい制限選挙を行っていたこの政府はギゾーが首相になると、選挙法改正を要求する改革宴会を弾圧し、蜂起したパリ民衆と市街戦に突入した。
- B. この政府がドイツと結んだ屈辱的な講和条約に反対した労働者や民衆は、パリ＝コミューンと呼ばれる世界史上初の革命的自治政府を樹立した。
- C. ルイ＝ブランが参加したこの政府は失業者対策としてパリの各地に国立作業場を設立したが、自由主義者たちが選挙に勝利するとそれを閉鎖した。
- D. この政府は男性普通選挙で国民公会を招集し、ただちに王政の廃止と共和政の樹立を宣言したが、それに抵抗する反対派を恐怖政治で抑え込んだ。

問 8 空欄(a)から(d)に入るもっとも適切な語句の組み合わせとして正しいものを一つ選びなさい。 34

- A. (a) カニング, (b) メッテルニヒ, (c) パクス＝ブリタニカ,
(d) 三月革命
- B. (a) メッテルニヒ, (b) タレーラン, (c) ウィーン, (d) 文化闘争
- C. (a) タレーラン, (b) メッテルニヒ, (c) ウィーン, (d) 三月革命
- D. (a) メッテルニヒ, (b) カニング, (c) パクス＝ブリタニカ,
(d) 文化闘争

問 9 空欄(イ)に入る正しい人名を一つ選びなさい。

35

- A. コシューシコ
- B. ナロードニキ
- C. ガリバルディ
- D. コジュート

問10 下線部(7)の皇帝の説明としてもっとも適切なものを一つ選びなさい。

36

- A. 彼は、パリの都市大改造や万博誘致で国内産業を育成する一方、各地で
対外戦争を推し進めた結果、プロイセンに敗れ、フランス北部のスダンで
捕虜となった。
- B. ナポレオン1世の甥だった彼は、ブリュメール18日のクーデタによっ
て独裁権を握ると、圧倒的な国民の支持によって皇帝に即位し、ナポレオ
ン3世を名乗った。
- C. オーウェン主義に影響を受けた彼は、貧困の撲滅を訴える一方、カトリ
ック勢力と小農民層を支持基盤として言論や労働者への統制を強化した。
- D. 彼は、当初は大陸封鎖令を発令するなど自国の産業の保護・育成に努め
たが、イギリスと英仏通商条約を結んだ1860年以降は自由主義的改革を
推し進めた。

問11 下線部(8)に関する以下の記述のうち、誤りを含むものを一つ選びなさい。

37

- A. 若き日のゲーテとシラーによる「疾風怒濤」と呼ばれる文学運動がロマン
主義の先駆けとなった。
- B. ロマン主義に対抗して、19世紀後半に社会や人間の現実をありのまま
に描く写実主義が現れた。
- C. 湖水地方に住んだ詩人のワーズワースは『叙情歌謡集(詩選)』を著し、フ
ランス・ロマン主義の先駆けとなった。
- D. 作曲家のヴァーグナーは、音楽・劇・文学を融合させた総合芸術を目指
して、オペラ「タンホイザー」を作曲した。

問12 下線部(9)に関連して、啓蒙思想家とその著作の組み合わせとして正しいものを一つ選びなさい。 38

- A. グリム兄弟と『グリム童話集』 B. ヴォルテールと『哲学書簡』
C. テュルゴーと『経済表』 D. デカルトと『方法序説』

問13 下線部(10)に関連して、19世紀の自然・社会科学の説明としてもっとも適切なものを一つ選びなさい。 39

- A. 哲学では、カントの後を受けつぐドイツ観念論哲学がフィヒテを経てヘーゲルの弁証法的唯物論において大成された。
B. 経済学では、アダム＝スミスの流れをひくマルクスやリカードらの古典派経済学が自由放任政策を唱えた。
C. 歴史学では、史料批判の方法を重視したランケや「国民」の存在を前提に歴史を描くミシュレらによる国民史が流行した。
D. 生物学では、メンデルがエンドウ豆の交配実験によって遺伝の法則を発見し、ノーベル賞を受賞した。

〔IV〕 次の文章を読み、下記の問いに答えなさい。

民族自決といえば日本では、アメリカ合衆国大統領 (ア) が1918年1月に発表した十四か条(十四か条の平和原則)との関連で語られやすい。総力戦となった第一次世界大戦は、交戦国の社会に様々な変化をもたらしたが、⁽¹⁾ 戦争が長期化するなかで交戦国政府は戦争目的や戦後構想を明示して、総力戦体制を維持させるために国民から理解を得る必要があった。(ア) の十四か条にもそうした意図が存在していたことはよく知られている。

一方、十月革命(十一月革命)後のソヴィエト政権は十四か条に先立ち、無併合・無償金・民族自決に基づく第一次世界大戦の講和を求める (イ) を発表していた。ソヴィエト政権はさらに、戦争長期化に疲弊した国際世論に対して大戦中の秘密条約を暴露し、⁽²⁾ 列強の帝国主義政策を批判した。秘密外交から抜け出せない英仏などは違って、新たな国際秩序の理念を提唱したソヴィエト政権や米国は当時、人びとの期待を集めるところとなった。

戦後の講和会議では、英仏などの一部戦勝国が植民地の既得権益を手放さず、植民地の独立は、旧ロシアやオーストリア、オスマン帝国などの支配下にあった地域の独立に限られた。その一方で、もともと戦勝国の植民地が大半を占めていた南アジアや東南アジアでは大きな進展は見られなかった。⁽³⁾ それゆえ、こうした地域では民族運動がますます高揚していった。

⁽⁴⁾ その後、東南アジアでは太平洋戦争勃発により、日本が連合国の植民地を次々と占領した。現地では当初、日本軍を欧米諸国の植民地からの解放者とみなすムードが一部に存在した。⁽⁵⁾ だが、現地資源の収奪や文化的同化政策、労働力徴発、さらには残虐行為も多発したことで、激しい抵抗運動が各地で展開されるようになった。そして、日本の敗戦後はこれらの地域では独立国家があいついで生まれていった。⁽⁶⁾

戦後、中華人民共和国の成立と朝鮮戦争の勃発にも見られるように、アジアで共産圏の勢力範囲が大幅に南下すると、さらなる南下を防ごうと米国が東南アジアの政治状況に積極的に関与しだした。その典型の一つが、のちのベトナム戦争であった。ベトナムも含めた東南アジアの植民地の宗主国はおよそ英仏など先進

資本主義国であり、植民地主義に反対する現地の独立運動は、米ソ超大国を中心とする冷戦構造に引き込まれやすい状況にあった。⁽⁷⁾

冷戦に巻き込まれる危機感はアジアやアフリカに、米ソ両陣営のいずれにも属さぬ第三世界(第三勢力)を形成する潮流をもたらした。1955年の (ウ) は、欧米諸国が参加しない初めての国際会議であった。ここで確認された (エ) は、その後の国際政治にも大きな影響を与えた。だが、多くの新興独立国は歴史的経緯から脆弱な経済基盤しか持てない⁽⁸⁾ うえに国家としてのまとまりにも欠けがちで、不安定な政治・経済状況のもと内戦やクーデタが頻発した。国家の統一と安定のために新興独立国では、軍事独裁政権が誕生することも珍しくはなかった。そうした政治体制のありようを、かつての植民地宗主国である先進資本主義国の政府が「非民主的だ」と非難する構図をどう理解すべきなのかは、議論の分かれるところである。

問 1 空欄(ア)に入る正しい人名を一つ選びなさい。 40

- A. モンロー B. リンカーン C. ウィルソン D. トルーマン

問 2 下線部(1)に関連して、誤りを含むものを一つ選びなさい。 41

- A. 帝国主義激化の時代に反戦平和を掲げてきた労働者組織の第3インターナショナルのなかにも、戦争協力へと転ずる者が現れた。
- B. イギリスなどでは、男性が軍隊に入った後の人手不足を補うために、女性がさまざまな職場に進出した。
- C. アメリカでは、多くの黒人が、軍需産業での職につくため、南部から北部や西部の都市に移っていった。
- D. 戦闘員と民間人の境界線が総力戦によって曖昧になった結果、民間人を巻き込む都市爆撃が行われるようになった。

問 3 空欄(イ)に入るもっとも適切な語句を一つ選びなさい。 42

- A. 四月テーゼ B. 「ドイツ国民に告ぐ」
- C. ネップ D. 「平和に関する布告」

問 4 下線部(2)に関連して、暴露された秘密条約の例としてもっとも適切なものを一つ選びなさい。 43

- A. サイクス=ピコ協定
- B. セーヴル条約
- C. ドーズ案
- D. ウェストミンスター憲章

問 5 下線部(3)に関連して、植民地統治から独立を達成した際に、イギリスあるいはフランスから独立した国家の例として、誤っているものを一つ選びなさい。 44

- A. アルジェリア
- B. 東ティモール
- C. ブルネイ
- D. ケニア

問 6 下線部(4)に関連して、第一次世界大戦後に高揚する民族運動の説明として、誤りを含むものを一つ選びなさい。 45

- A. インドでは、1919年のインド統治法やローラット法に反発した国民会議派が、ガンディーの指導の下、非暴力・不服従の抵抗運動を展開した。
- B. オランダ領東インドでは、1920年にインドネシア共産党が結成され、その後スカルノを党首とするインドネシア国民党が結成された。
- C. 中国では、ヴェルサイユ条約での中国への処遇に対する抗議デモが1919年に発生、1921年には中国共産党が結成された。
- D. 朝鮮では、1919年に「独立万歳」を叫ぶ街頭デモが発生、以後の朝鮮総督府は強圧的な統治方針で臨むこととなった。

問 7 下線部(5)に関する説明としてもっとも適切なものを一つ選びなさい。

46

- A. カンボジアは、開戦当初より日本の軍政に協力的であり、それが太平洋戦争後の独立を遅らせる原因ともなった。
- B. 開戦当初はイギリスからの独立のために日本と協力していたビルマでは、日本の戦況悪化に伴い、抗日運動が展開されていった。
- C. シンガポールでは開戦当初、「シンガポール国民軍」の最高指導者となったチャンドラ=ボースが日本軍に協力した。
- D. タイは、日本軍の進駐を受け入れて米英両国に宣戦し、独立国としての体裁を守ったが、敗戦国としての扱いを戦後受けることともなった。

問 8 下線部(6)に関して、1940年代に独立宣言を行った国家として、誤っているものを一つ選びなさい。

47

- A. インドネシア共和国
- B. ベトナム民主共和国
- C. マラヤ連邦
- D. フィリピン共和国

問 9 下線部(7)に関して、結成当初は共産主義勢力に対抗するねらいを持っていた組織の例として、誤っているものを一つ選びなさい。

48

- A. 東南アジア条約機構
- B. バグダード条約機構
- C. アラブ連盟
- D. 東南アジア諸国連合

問10 空欄(ウ)と空欄(エ)にあてはまる用語の組み合わせとして正しいものを一つ選びなさい。

49

- A. (ウ) バンドン会議 (エ) 平和十原則
- B. (ウ) バンドン会議 (エ) 平和五原則
- C. (ウ) 非同盟諸国会議 (エ) 平和十原則
- D. (ウ) 非同盟諸国会議 (エ) 平和五原則

問11 下線部(8)に関する説明としてもっとも適切なものを一つ選びなさい。

50

- A. 新興独立国の国境線は朝鮮半島の例にあるように、ヨーロッパ諸国がひいた植民地の境界線であり、民族間対立をしばしば深刻化させてきた。
- B. 新興独立国の経済は、植民地時代に生産を強要された一次産品の輸出に依存する状況にあったが、独立後の借款によりそれを克服していった。
- C. 新興独立国の問題に取り組むべく、1964年に先進資本主義国が中心となって国連貿易開発会議(UNCTAD)が結成された。
- D. 一部独立国では、利権確保や社会主義政権誕生の阻止をねらった旧宗主国や米国の軍事介入が続き、コンゴ動乱などの激しい争いが発生した。

