


2019 年度 入学 試験 問題

世界史 B

(試験時間 10:30~11:30 60分)

1. この問題冊子が、出願時に選択した科目のものであることを確認のうえ、解答してください。
2. 解答用紙には、記述解答用紙とマーク解答用紙の2種類があります。
3. 解答は、必ず解答欄に記入およびマークしてください。解答欄以外への記入およびマークは無効となります。
4. 解答は、HBの鉛筆またはシャープペンシルを使用し、訂正する場合は、プラスチック製の消しゴムを使用してください。特に、マーク解答用紙には鉛筆のあとや消しくずを残さないでください。
5. 解答用紙を折り曲げたり、汚したりしないでください。また、マーク解答用紙を記述解答用紙の下敷きを使用しないでください。
6. 解答用紙には、必ず受験番号と氏名を記入およびマークしてください。
7. マーク解答用紙への受験番号の記入およびマークは、コンピュータ処理上非常に重要なので、誤記のないようにしてください。
8. 一度記入したマークを修正する場合、しっかりと消してください。消し残しがあると、マーク読み取り装置が反応して解答が無効となることがあります。



I つぎの文章（A～C）は世界の文字と文学の歴史について述べたものである。よく読んで、下記の設問に答えなさい。（34点）

A グローバル化されたといわれる現代の世界においても、そのコミュニケーションの根幹的存在として言語があることは論をまたない。現在までに、世界で5000以上の言語と400以上の文字が使われてきたともいわれている。その起源をたどると、大きく分けてアルファベットの系統と漢字の系統がみられる。

人類は紀元前6000年ごろから簡易な記号のような文字を用いていたが、世界最古の体系的な文字は、古代メソポタミアでウル・ウルクなどの都市国家をつくった（1）人が使用しはじめた楔形文字とされる。この文字は、メソポタミアおよびその周辺地域の様々な学問や技術の発展にとっても、それを伝える手段として重要な存在であった。^(a)その後、メソポタミア南部を統一したアッカド人が楔形文字を使用してアッカド語を書き残したため、この文字がオリエント世界で広く用いられることとなった。

現在のアルファベットのもととなったのは、楔形文字の影響をうけたエジプト象形文字をもとにつくられたとされるフェニキア文字である。この文字は（2）語系の表音文字とされており、後にヨーロッパの文字の原型となった。

一方、漢字は意味と音声の両方を表記する表意文字であり、前1500年ごろの甲骨文字をその起源とする。古代のうちに数万にわたる漢字がつくられ、日本や朝鮮半島、ベトナムなどの文字に大きな影響を与えていくことになった。

こうして発明された文字は、その多くが古いや行政、経済などの記録のために用いられていたが、そのなかから現在の「文学」ともいえるようなものも生まれた。一説には、ウルク王の冒険を描いた『（3）』が世界最古の文学であるといわれているが、これは（2）語系の民族に伝わり、『旧約聖書』などの叙述に影響を与えたとされている。

時代が下ると、世界各地で文学が創作されることとなった。たとえば紀元前1世紀ごろのローマ帝国では、ギリシア文学の影響をうけた『アエネイス』や『ガリア戦記』^(b)などが書かれ、後世に伝わっている。一方、同時期の中国は漢の武帝の統治期にもあたるが、前136年に武帝が董仲舒の献策により儒学を官学化したため、^(c)

「政治の是非をうたうべき」という儒家の思想が以後の文学を大きく規定することになった。東西文学の差異が早くも色濃くあらわれでたといえよう。

B ヨーロッパにおける中世文学とは、一般に12世紀のフランス文学がその嚆矢とされることが多い。十字軍を契機に東方との交流が増加したため、ギリシアの古典がラテン語に翻訳されるようになったほか、大学の誕生などもあって、神学などの学問とともに俗語文学が大いに発展した。たとえばフランスでは、800年に帝冠をうけることになる（4）の家臣であった騎士を描く武勲詩『ローランの歌』が生まれ、現在でも中世ヨーロッパ文学の傑作のひとつとされている。

一方、同時期、その他の地域でも文学が開花した。12世紀は中国にとっても激動の時代であるが、この時期には多くの人が故郷を追われ流亡の身となっている。それゆえ、民謡から発展し、北宋時代に飛躍的に広まった韻文である（5）の作風も一時は悲憤と民族意識にあふれた。その一方で、江南を中心とした社会経済の発展は都市の消費経済をよびおこし、民衆の間で雑劇や通俗文学が流行した。

少々時はさかのぼるが、イスラム地域においても、文学は独自の発展を遂げている。彼らの用いたアラビア語は韻を踏むのに適していることもあり、古くから詩が残されてきた。さらに、9世紀にバグダードにおいて「（6）」とよばれるアカデミーが設立されてから、ギリシア語の文献がアラビア語に翻訳されるようになり、神学や法学を中心に学問が飛躍的に発展した。11世紀には数学や天文学にも通じた（7）が詩集『四行詩集（ルバイヤート）』で人生の無常をうたっている。

C 18世紀以降、ヨーロッパではコーヒーハウスやカフェなどにおける市民の自由な議論や交流、さらには新聞などのメディアの飛躍的な発達などもあって、多くの人々が短時間で情報を共有できるようになった。これらは、結果として近代的なナショナリズムが生じる一因となっていくこととなる。

近代において国民国家体制が形成され、「国家」への意識が高まると、「誰が国民であるのか」を明らかにする、すなわち「国民」「民族」の概念を想像／創造する必要が生じた。その先駆けとしてあげられるのが、19世紀初頭、（8）による占領下のベルリンにおいて哲学者フィヒテがおこなった連続講演「ドイツ国民に告

ぐ」である。彼はここでドイツ文化の優秀さを訴え、国民精神の涵養こそが民族復興の道であると説いた。これ以降、知識人の中で、芸術や文学などが国民意識を涵養する方法としても用いられるようになる。これにより、市民に人気のある娯楽的な通俗文学とともに、民族意識を高めようとする文学作品なども多く発表されるようになった。

アジア地域においても同様の現象が起こる。西欧列強の進出により植民地化されたインドはもちろん、「半植民地」ともいわれた中国においても、民族主義的な文学や社会派の文学が誕生した。^(g)アジア各国でそうした文学は読み継がれ、各国が独立する際のナショナル・アイデンティティの源流ともなっていたのである。

設問1 空欄（1～8）に入るもっとも適切な語句を答えなさい。なお、（4）（7）（8）には人名が入る。


設問2 下線部(あ・い)の文字を記したものは、以下の(A~D)のそれぞれどれか。その組み合わせとして正しいものを1つ選んで、マーク解答用紙にマークしなさい。




(A)



(B)



(C)



(D)

- ① (あ)-(A) (い)-(B) ② (あ)-(A) (い)-(C)
 ③ (あ)-(C) (い)-(D) ④ (あ)-(C) (い)-(B)
 ⑤ (あ)-(D) (い)-(B) ⑥ (あ)-(D) (い)-(C)

設問3 下線部(a)について。この学問および技術に関するつぎの記述（あ～う）は正しいか。それぞれについて、正しいければ①を、誤っていれば②を、マーク解答用紙にマークしなさい。

- あ. ハンムラビ法典は、復讐法の原則に基づく規定を有していた。
- い. カッシート人は、太陰暦を最初に採用した。
- う. エジプト文明の影響をうけて、六十進法が成立した。

設問4 下線部(b)について。これらの著作の作者は誰か。その名前をそれぞれ答えなさい。

設問5 下線部(c)について。これにより、中国では「経書」とよばれる儒教の經典における字句の意味や解釈を探究する学問が主流となった。この学問は何とよばれるか。その名称を答えなさい。

設問6 下線部(d)について。12世紀における出来事の説明として誤っているものはどれか。1つ選んでマーク解答用紙にマークしなさい。

- ① イタリアでは、ノルマン人によって両シチリア王国が建国された。
- ② エジプトでは、クルド人のサラディンがアイユーブ朝を樹立した。
- ③ インドでは、デリー=スルタン朝とよばれる5つの王朝が統治した。
- ④ イングランドでは、フランスのアンジュー伯がプランタジネット朝をひらいた。
- ⑤ 北アフリカでは、ムワッヒド朝がムラービト朝を滅ぼした。

設問7 下線部(e)について。このとき、多くの人が流亡の身になったのはなぜか。

以下の(A～C)の各語群にある語をそれぞれ1個以上用いて、35字以内で説明しなさい。

語群A【唐 北宋 南宋 元】

語群B【西夏 金 遼 西遼】

語群C【臨安 長安 洛陽 大都】

設問8 下線部(f)について。17～18世紀にフランスで流行し、おもに上流階層の婦人によって主催された知的社交の場を何というか。その名称を答えなさい。

設問9 下線部(g)について。中国のこうした作家のなかで代表的な人物に魯迅がいるが、彼の作品として正しいものはどれか。1つ選んでマーク解答用紙にマークしなさい。

- ① 『阿Q正伝』
- ② 『人形の家』
- ③ 『子夜』
- ④ 『新民主主義論』
- ⑤ 『新青年』

Ⅱ つぎの文章（A・B）は日本と外国との交流について述べたものである。よく読んで、下記の設問に答えなさい。（32点）

A 紀元1世紀ごろ、日本列島には小国家が分立していたが、そのなかには中国王朝に使者を送るものがあらわれた。中国の歴史書によれば、奴国は後漢に朝貢し、皇帝から印綬を授けられている。107年、倭国王帥升も使者を送り奴隷を献じたという。239年には、邪馬台国の卑弥呼が魏^(a)に朝貢使節を派遣し、親魏倭王の称号をえている。こうした外交使節の派遣は、中国王朝の権威により国内の支配を安定させるねらいがあった。4世紀には中国王朝との交流は途絶えるが、5世紀にはいると、倭の五王は朝鮮半島における有利な地位を確保するため、南朝最初の王朝である（ 1 ）にたびたび朝貢使節を送るようになる。

中国の各王朝にとっては、来朝する外国使節の多様さは、王朝の権勢や皇帝の徳の高さをしめすものであった。6世紀前半、梁^(b)では武帝の即位40年を記念し、各国の使節の彩色された姿とその国の地理・風俗を記した「梁職貢図」が作成された。原本は失われてしまったが、模本のいくつかが北京の中国国家博物館や台北の故宮博物院^(c)に収蔵されており、簡素ないでたちの倭国使の姿も描かれている。もっとも、倭は梁に使節を派遣しておらず、倭国使の姿は『魏志』倭人伝の記述をもとに想像して描かれたものと考えられている。しかし、ここには東北アジアの倭や朝鮮半島諸国のみならず、中央アジアで勢力を誇ったエフタルや、後にそのエフタルを突厥と結んで滅ぼすことになる（ 2 ）朝、さらには、天山山脈南麓のオアシス都市クチャなどの使節の姿と国情が記されており、「梁職貢図」は6世紀の東部ユーラシア国際情勢を知るための貴重な史料である。

7世紀初め、聖徳太子が隋に小野妹子を派遣することで、中国との交流は再開するが、外交使節に随行し、多くの留学生・留学僧たちが、中国の制度・文化を学ぶために海を渡った。唐^(d)の時代には、異民族出身者であっても能力が認められ官僚として登用される者がいたが、遣唐使の一員であった（ 3 ）は、玄宗皇帝に重用され安南節度使という高位にまでのぼった。2004年、西安の工事現場から井真成という日本人の墓誌が発見されたが、墓誌によればこの人物も唐の地で学問にはげみ役人に登用されたようである。9世紀末には農民反乱^(e)がおき、これにより唐の国

力は衰え、遣唐使の派遣は 894 年に菅原道真の建議により停止された。

B 13 世紀には、マルコ=ポーロの『世界の記述（東方見聞録）』によって日本は「黄金の国」ジパングとして知られていたが、ヨーロッパ人が日本に渡来したのは 16 世紀なかばであった。1543 年、倭寇である王直のジャンク船が種子島に漂着したとき、乗船していたポルトガル人は日本に鉄砲を伝えたが、これがヨーロッパ人の最初の日本上陸であったとされている。1549 年には、イエズス会の宣教師フランシスコ=ザビエルが、1511 年以降ポルトガルが占領していた（ 4 ）で日本に関する情報を収集した後に、宣教のため鹿児島を訪れた。やがてキリスト教に改宗する大名もあらわれ、キリスト教はしだいに日本人に受け入れられるようになる。

イエズス会は、宣教に対する援助を求めるため、4 人の少年を中心とする遣欧使節団をローマに派遣することを企画した。使節団は、インドをへて、アフリカ南端の（ 5 ）をまわってヨーロッパにいたり、ポルトガル王でもあったスペイン王（ 6 ）およびローマ教皇グレゴリウス 13 世との謁見をはたした。しかし、1590 年に彼らが日本に戻ったときには、すでに豊臣秀吉によってバテレン追放令が発布されており、帰国後に十分な宣教活動はできなかった。

1613 年には、仙台藩主伊達政宗が、スペインと通商協定を結ぶことをおもな目的として、家臣の支倉常長をヨーロッパに派遣している。この使節団は、日本国内で建造された西洋船で太平洋を横断してメキシコに達し、そこからスペイン船で大西洋を渡り、1615 年にスペイン王およびローマ教皇と謁見している。

カトリック教会にとっては、アジアやアフリカの国々の王たちが、使節を派遣してくることは、積極的な海外宣教の成果でもあり、慶ばしいことであった。1616 年にローマ教皇パウルス 5 世はクイリナーレ宮殿の広間の壁面に、ローマに迎えた各国の使節団のフレスコ画を描かせた。そのなかのひとつには、東洋人の一団と西洋人宣教師の姿がみられるが、それは支倉常長らを描いたものであると考えられている。このほかにも、コンゴ王アルバロ 2 世の 1608 年の使節団やサファヴィー朝の最盛期を築いた第 5 代の王（ 7 ）の 1609 年の使節団などの姿が想像を交えていきいきと描かれている。

一方、支倉常長とスペイン王との交渉は不調に終わり、常長はスペインとの通商

協定を結ぶことはできなかった。徳川幕府が「鎖国」政策をとると、この使節団の存在は隠され、忘れ去られることになる。しかし、この使節団もまた大交易時代の一端をしめすものであったといえるだろう。⁽ⁱ⁾

設問1 空欄(1～7)に入るもっとも適切な語句を答えなさい。なお、(3)(6)(7)には人名が入る。

設問2 下線部(a)について。三国時代に関するつぎの記述(あ～う)は正しいか。
正しければ①を、誤っていれば②を、マーク解答用紙にマークしなさい。

- あ. 劉備は、四川に蜀を建てた。
- い. 曹操は、魏の初代皇帝となった。
- う. 呉の孫権は、赤壁の戦いにやぶれた。

設問3 下線部(b)について。梁の都はどこか。1つ選んでマーク解答用紙にマークしなさい。

- ① 建康 ② 長安 ③ 晋安 ④ 雲南 ⑤ 南海

設問4 下線部(c)について。故宫博物院の文物は、国共内戦のさなかに台湾に運ばれたが、このとき中国国民党を率いていた指導者は誰か。その名前を答えなさい。

設問5 下線部(d)について。唐に関する記述として誤っているものはどれか。1つ選んでマーク解答用紙にマークしなさい。

- ① ポロ競技などのイラン系風俗が流行した。
- ② 義浄は、インドから帰国し『仏国記』を著した。
- ③ 景教(ネストリウス派)の寺院が建てられた。
- ④ 広州などの港湾都市が発展した。
- ⑤ シュリーヴィジャヤから朝貢使節が訪れた。

設問6 下線部(e)について。唐末のこの農民反乱を何というか。その名称を答えなさい。

設問7 下線部(f)について。イエズス会に関するつぎの記述(あ～う)は正しいか。

正しければ①を、誤っていれば②を、マーク解答用紙にマークしなさい。

あ. イグナティウス=ロヨラは、創設者のひとりであった。

い. 信徒の李時珍は、『坤輿万国全図』をつくった。

う. 中国では、宣教師は信徒に孔子の崇拝を認めていた。

設問8 下線部(g)について。メキシコに関するつぎの記述(あ～う)は正しいか。

正しければ①を、誤っていれば②を、マーク解答用紙にマークしなさい。

あ. メキシコでポトシ銀山が見つかり、大量の銀貨が鑄造された。

い. コルテスは、アステカ王国を滅ぼし、メキシコを征服した。

う. スペインは、先住民の人口が激減すると、その奴隷化を禁止した。

設問9 下線部(h)について。コンゴに関する記述として正しいものはどれか。1つ選んでマーク解答用紙にマークしなさい。

① 10世紀、イスラーム文化の影響をうけたスワヒリ文化が形成された。

② 14世紀、マンサ=ムーサ王はメッカ(マッカ)に巡礼した。

③ 15世紀、金の輸出と綿布の輸入によるインド洋貿易で栄えた。

④ 19世紀、ベルリン会議においてコンゴ自由国の設立が承認された。

⑤ 20世紀、イギリスから独立したが、その後も動乱がつづいた。

設問10 下線部(i)について。15世紀から17世紀の大交易時代に関する記述として誤っているものはどれか。1つ選んでマーク解答用紙にマークしなさい。

- ① 明の鄭和の大艦隊は、アフリカ沿岸にまで到達した。
- ② トルデシリャス条約によって、ブラジルはポルトガル領となった。
- ③ アンボイナは、ガレオン船によるアカプルコとの貿易で繁栄した。
- ④ イギリスのドレークは、スペイン船を攻撃した。
- ⑤ オランダのグロティウスは、『海洋自由論』を著した。

Ⅲ つぎの文章（A～E）はヨーロッパ統合史について述べたものである。よく読んで、下記の設問に答えなさい。（34点）

A 第二次世界大戦後、ヨーロッパ統合が提唱された背景には、ヨーロッパで再び戦争を起こさないという意識の高まりと、東西冷戦の開始があった。ソ連圏が東欧に形成されていくなか、1946年9月、イギリスのチャーチル^(a)は「ヨーロッパ合衆国」の創設を提唱する。翌1947年6月、アメリカ合衆国が、ヨーロッパへの共産主義の伸張を阻止するために、国務長官の名前をとって（ 1 ）とよばれる、ヨーロッパ経済復興援助計画を発表すると、1949年1月には東側諸国がこれに対抗して経済相互援助会議を設立し、東西対立は決定的なものとなった。^(b)さらに同年4月、西側諸国は北大西洋条約機構を設立し、冷戦は軍事面へと進んでいった。

B （ 1 ）による援助を受けた西ヨーロッパ諸国は、その後、経済成長を遂げた。1950年5月にはフランスの外相が、西ヨーロッパ諸国間での資源の共同管理を含む超国家的な機構を創設することを提案し、^(c)これをもとに1952年、フランス・西ドイツ・イタリア・ベルギー・オランダ・ルクセンブルクによりヨーロッパ石炭鉄鋼共同体（ECSC）が発足した。その後、1957年3月に上記6カ国が調印した（ 2 ）条約により、1958年にはヨーロッパ経済共同体（EEC）と（ 3 ）が設立される。そして1967年には、ECSCとEECおよび（ 3 ）が各機関を統合し、ヨーロッパ共同体（EC）が発足した。

C ECは1970年代に拡大する。イギリスのEC加盟は、1967年には当時のフランス大統領（ 4 ）によって阻まれたが、1973年になると、アイルランド・デンマークとともに加盟を果たした。これにより、EC加盟国は9カ国となる。同年、第4次中東戦争が勃発すると、^(d)1国では処理できない経済問題などを協議するため、フランスのジスカール＝デスタン大統領の提唱により、1975年11月、最初の（ 5 ）がフランスで開催された。

D 1980年代前半、EC加盟国内においてヨーロッパ統合に懐疑的な姿勢も見られ、^(e)

EC は一時低迷期を迎えた。その一方で、民主化を遂げた南ヨーロッパ諸国の加盟により、EC はさらに拡大していった。すなわち、1981 年にギリシア、1986 年にはスペインとポルトガルが EC に加わったのである。1980 年代をとおして、ヨーロッパ統合の推進役を果たしたのは、西ドイツとフランスであった。両国のリーダーシップのもとで EC の経済統合が進み、1986 年 2 月に調印され、翌年 7 月に発効した単一欧州議定書により、EC は 1992 年末までに市場統合の完成を目指すこととなった。

E 1990 年代にはいると、ヨーロッパ統合はさらなる進展を見せた。EC 加盟国は 1992 年 2 月、経済・通貨・政治における統合などについて合意した（ 6 ）条約を結び、翌 1993 年 11 月にヨーロッパ連合（EU）が成立した。EU の中心機関はブリュッセルに置かれたが、欧州議会はストラスブールでも開かれている。1995 年にはオーストリア・スウェーデン・フィンランドが EU に加盟し、EU は 15 カ国体制となる。そして 2004 年 5 月、旧東欧 8 カ国とマルタ・キプロスの計 10 カ国が加盟した結果、EU の加盟国は 25 カ国となった。その後も EU は拡大して 28 カ国体制となる一方、2016 年にはイギリスでの EU 離脱を問う国民投票で離脱賛成が過半数となるなど、近年 EU は多くの困難に直面している。

設問 1 空欄（1～6）に入るもっとも適切な語句を答えなさい。なお、（4）には人名が入る。

設問 2 下線部(a)について。チャーチルに関する記述として誤っているものはどれか。1つ選んでマーク解答用紙にマークしなさい。

- ① ドイツに対する宥和政策を批判した。
- ② カイロ宣言に署名した。
- ③ テヘラン会談に参加した。
- ④ ポツダム会談中に実施されたイギリス総選挙に勝利した。
- ⑤ 「鉄のカーテン」演説をおこなった。

設問3 下線部(b)について。1949年の出来事として正しいものはどれか。1つ選んでマーク解答用紙にマークしなさい。

- ① 国際連合の成立
- ② ワルシャワ条約機構の設立
- ③ ドイツ連邦共和国の成立
- ④ パリ協定の締結
- ⑤ 「ベルリンの壁」の建設

設問4 下線部(c)について。この提案は何とよばれているか。その名称を答えなさい。

設問5 下線部(d)について。この戦争は世界経済にどのような影響を及ぼしたか。経緯も含めて40字以内で述べなさい。

設問6 下線部(e)について。こうした傾向はイギリスで顕著だったが、当時のイギリス首相は誰か。その名前を答えなさい。

設問7 下線部(f)について。1975年11月に死去するまでスペインに独裁体制を敷いていた人物は誰か。その名前を答えなさい。

設問8 下線部(g)について。このときの西ドイツ首相はコールだったが、コール政権下での出来事として正しいものはどれか。1つ選んでマーク解答用紙にマークしなさい。

- ① 東西ドイツ基本条約が締結された。
- ② 東西ドイツが統一した。
- ③ 東方外交によりポーランドとの国交正常化が実現した。
- ④ 西ドイツの再軍備が実現した。
- ⑤ 東西ドイツが国連に加盟した。

設問9 下線部(h)について。この都市は、プロイセン=フランス戦争の結果、1871年にドイツ帝国領となった地域のなかに位置している。この地域は何とよばれているか。その名称を答えなさい。

設問10 下線部(i)について。冷戦時代に中立政策をおこなったフィンランドで1975年に開かれた、欧州諸国・アメリカ合衆国・カナダなど全35カ国による国際会議は何とよばれているか。その名称を答えなさい。

設問11 下線部(j)について。1878年に調印され、キプロスの行政権をイギリスがオスマン帝国から獲得することになった条約は何とよばれているか。その名称を答えなさい。



—



—