


2020年度入学試験問題

日本史 B

(試験時間 10:30~11:30 60分)

1. この問題冊子が、出願時に選択した科目のものであることを確認のうえ、解答してください。
2. 解答用紙は、マーク解答用紙のみです。
3. 解答は、必ず解答欄にマークしてください。解答欄以外にマークすると無効となります。
4. 解答は、HBの鉛筆またはシャープペンシルを使用し、訂正する場合は、プラスチック製の消しゴムを使用してください。解答用紙には鉛筆のあとや消しくずを残さないでください。
5. 解答用紙を折り曲げたり、汚したりしないでください。
6. 解答用紙には、必ず受験番号と氏名を記入およびマークしてください。
7. 解答用紙への受験番号の記入およびマークは、コンピュータ処理上非常に重要なので、誤記のないようにしてください。
8. 一度記入したマークを修正する場合、しっかりと消してください。消し残しがあると、マーク読み取り装置が反応して解答が無効となることがあります。



I 以下の〔A〕,〔B〕の文章及び〔C〕の史料を読んで設問に答えなさい。なお史料は、読みやすいように適宜原文を書き改めて記した。(20点)

〔A〕

日本列島における人間の歴史は、考古学などの成果により、旧石器時代にまでさかのぼることができる。かつては、日本列島に旧石器時代は存在しないと考えられていた時期もあったが、1946年に関東ローム層から石器が発見されたことが契機になり、列島上にも旧石器時代があったことが明らかにされ、今日では、この時代の遺跡を各地に見ることが出来る。

そして、この旧石器時代につづく時代が縄文時代と呼ばれている時代である。この縄文時代は、1万3000年前頃から始まったと考えられている時代で、狩猟、漁労や採取を主におこなって食料を確保し、旧石器時代には見られなかった土器がつくられ、弓矢も使われた時代であった。

この縄文時代は、長くつづき、紀元前4世紀頃からは、弥生時代を迎えた。この時代には、新たに弥生土器がつくられ、金属器も使われるなど、水稲耕作を基盤にした文化が西日本で成立し、南西諸島や北海道を除く日本列島各地に広まった。また、この時代になると、小国が成立し、日本列島は国家統一へ向かう過渡的な時期を迎えた。

問1 下線部①に関する記述として誤っているものを、次のa～eから一つ選び、その記号をマークしなさい。

- a 黒曜石が、石器の材料として使われた。
- b 三内丸山遺跡では、住居跡が確認された。
- c 細石刃を木や骨に埋めこんで使った細石器が出土している。
- d ナイフ形石器や尖頭器が出土している。
- e 1949年に岩宿遺跡の学術調査がおこなわれ、石器が出土した。

問2. 下線部②に関する次の記述ア～オについて、誤っている記述を組み合わせたものを、下のa～eから一つ選び、その記号をマークしなさい。

ア 抜歯や、四肢を折り曲げて葬る屈葬がおこなわれた。

イ 新潟県信濃川下流域を産地とするひすいは、交易により各地に運ばれた。

ウ E.S.モースは、大森貝塚の発掘調査をおこなった。

エ 縄文時代は、土器の形や模様から前期・中期・後期の3期に区分されている。

オ 地表を掘り下げ、堀立柱で屋根を支える竪穴住居がつくられた。

a ア ウ

b ア オ

c イ ウ

d イ エ

e エ オ

問3. 下線部③に関する次の記述ア～オについて、誤っている記述を組み合わせたものを、下のa～eから一つ選び、その記号をマークしなさい。

ア 大規模な墳丘墓の出現は、社会に支配者が登場したことを示している。

イ 銅剣・銅矛・銅鐸などの青銅製祭器が出土している。

ウ 東北地方の菜畑遺跡で水田跡が出土している。

エ 環濠集落や高地性集落がつくられた。

オ 魏の皇帝から邪馬台国女王におくられた金印が、江戸時代に発見された。

a ア ウ

b ア エ

c イ エ

d イ オ

e ウ オ

[B]

室町幕府は、足利尊氏によって開かれたが、成立したばかりの室町幕府は政権として安定せず、その後約 60 年に渡り、建武政権を継承した南朝を支持する勢力と対立して南北朝時代と呼ばれる時代がつづいた。対立の様相は、北朝を擁立する室町幕府側に優位に進んだが、尊氏とその弟直義が対立して戦う幕府内の紛争の影響などがあり、対立を早期に終結することができず、ようやく、3代将軍足利義満の時代になって対立は終結した。そして、この義満の時代には守護も統制され、幕府は全国政権として安定した時代を迎え、東アジアとの交易もおこなわれるようになった。

しかし、政治の安定は長くつづかず、青蓮院門跡から還俗して将軍になった義教の時代になると、幕府の置かれた京都で義教が家臣である守護に殺害される事件が起こり、室町幕府は再び不安定な時代を迎えることとなった。

問 4 下線部④が置かれていた時代の政治に関する次の記述ア～オについて、正しい記述を組み合わせたものを、下の a～e から一つ選び、その記号をマークしなさい。

ア 足利義満は、太政大臣に任じられた。

イ 1352 年、近江・伊勢・尾張を対象に半済令が出された。

ウ 鎌倉公方は、関東八ヶ国などを統轄し、これを関東管領が補佐した。

エ 所司に任じられる赤松・一色・山名・斯波の四家を四職といった。

オ 1399 年、山名氏清らが挙兵して京都へ進軍する応永の乱がおこった。

a ア ウ

b ア オ

c イ エ

d イ オ

e ウ エ

問5 下線部④が置かれていた時代の社会に関する次の記述ア～エについて、正しい記述を組み合わせたものを、下のa～eから一つ選び、その記号をマークしなさい。

- ア 宮座は、神社を本所と仰いだ商工業者の同業組合であった。
- イ 寄合は、惣百姓が集まって開かれる惣村の協議機関であった。
- ウ 1428年、播磨で守護の軍勢の退去を求める土一揆がおこった。
- エ 柳生の徳政碑文は、神戸四カ郷の負債の破棄を宣言した、巨石に刻まれた碑文である。

- a ア ウ
- b ア エ
- c イ ウ
- d イ エ
- e ウ エ

問6 下線部⑤の時期におこった出来事に関する次の記述ア～オについて、年代順に正しく配列したものを、下のa～eから一つ選び、その記号をマークしなさい。

- ア 新田義貞が越前の藤島で戦死した。
- イ 後醍醐天皇が吉野で没した。
- ウ 足利直義が鎌倉で殺害された。
- エ 2代将軍足利義詮が没した。
- オ 後亀山天皇が後小松天皇に神器を伝えた。

- a ア→イ→ウ→エ→オ
- b ア→イ→エ→ウ→オ
- c イ→ア→オ→ウ→エ
- d イ→ウ→ア→エ→オ
- e ウ→ア→イ→オ→エ

問7 下線部⑥の時期以降におこった次の出来事ア～オについて、年代順に正しく配列したものを、下のa～eから一つ選び、その記号をマークしなさい。

- ア 將軍足利義持が朝貢形式を嫌い、明との勘合貿易を中断した。
- イ 大内氏と細川氏とが貿易をめぐり、寧波で争乱をおこした。
- ウ 僧の祖阿と博多商人の肥富が国書を託され、明に派遣された。
- エ 乃而浦・富山浦・塩浦に住む日本人が蜂起した。
- オ 倭寇の根拠地と見なされた対馬が、朝鮮国の軍船に襲撃された。

- a ア→ウ→オ→エ→イ
- b イ→ウ→ア→エ→オ
- c ウ→ア→オ→エ→イ
- d エ→イ→ウ→ア→オ
- e オ→イ→ウ→エ→ア

〔C〕 史料

⑦ 禅定法皇は、(中略) ア 院崩後、天下の政をとること五十七年。在位十四年。位を避りて後四十三年。意に任せて法に拘わらず、除目・叙位を行ひ給ふ。古今未だあらず。(中略) 威四海に満ち天下帰服す、幼主三代の政をとり、斎王六人の親たり。桓武より以来絶えて例なし。聖明の君、長久の主と謂ふべきなり。但し理非決断、賞罰分明、愛惡掲焉、貧富顕然なり。男女の殊なる寵多きによりて、已に天下の品秩破るゝなり。

問8 下線部⑦が治天の君として院政を始めてからの100年余りを院政期と呼んでいる。この時期の文化に関する記述として、誤っているものを次のa～eから一つ選び、その記号をマークしなさい。

- a 平氏一門が安芸の厳島神社に装飾経を奉納した。
- b 『源氏物語絵巻』が描かれた。
- c 『信貴山縁起絵巻』が描かれた。
- d 『伴大納言絵巻』には炎上する応天門が描かれている。
- e 平等院鳳凰堂の扉に、阿弥陀如来が来迎する様子などが描かれた。

問9 空欄 にあてはまる人物は、下線部⑦の父である。空欄 にあてはまる人物名を、次の a～e から一つ選び、その記号をマークしなさい。

- a 後朱雀
- b 後冷泉
- c 後三条
- d 白河
- e 堀河

問10 下線部⑧のうち、二代目の人物は譲位して上皇となり、出家に際して自らの所領となっていた荘園群を皇女の八条院に譲っている。この幼主二代目の人物名を、次の a～e から一つ選び、その記号をマークしなさい。

- a 順徳天皇
- b 鳥羽天皇
- c 後白河天皇
- d 崇徳天皇
- e 後鳥羽天皇

II 次の文章を読み、下記の設問に答えなさい。(20点)

江戸時代の経済は、農民から徴収する年貢米を中心として成り立っていた。そのため、幕府や藩には、農民が年貢負担者として生活できるような配慮が必要とされた。

寛永の飢饉によって全国的に農村が被害を受けていた1643年、幕府は、田畑永代売買の禁令を出すことで、農民が田畑を手放して没落することを防ごうとした。また、1673年には、分割相続によって田畑が細分化され、農民が零細化することを防ぐ目的で、分地制限令を出して、名主は 石、一般百姓は10石以上の田畑を持たないと分地ができないと定めた。さらに、年貢米を確保するため、商品作物の作付けを制限することもあった。

17世紀後半になると、明暦の大火後の江戸復興に伴う出費や、金銀山収入の減少^①などによって、幕府財政は窮乏することになった。1680年に5代将軍となった綱吉は、彼が任じた大老の死後、側用人の を重用するようになった。勘定吟味役の荻原重秀が、財政補充の策として貨幣の改鑄を上申すると、これは側用人を経て綱吉に採用された。^②

1709年の綱吉の死後、6代将軍家宣・7代将軍家継のもとで政治の刷新を印象づけたのは、侍講の新井白石と側用人の であった。ただちに生類憐みの令が廃止されるなど、^③前代の政治の修正がおこなわれた。

1716年、家継が幼くして亡くなると、吉宗が8代将軍になった。吉宗は、新井白石らを罷免して、強力な将軍権力の復活と財政再建を柱とする政治改革を実行した。幕府の財政難解消のため、倹約令によって支出を抑制するとともに、大名に石高1万石につき 石を上納させる上げ米によって財政補填をおこない、抜本的な増収策として年貢の増徴・新田の開発によって収入を増加させた。さらに甘藷・甘蔗・榎・朝鮮人参の栽培など、^④新しい産業が奨励された。^⑤

商品経済の発展は諸物価の上昇をまねいたが、増産された米の価格は上昇しなかった。このことは、年貢米を現金化して必要物資の購入にあてていた幕府や藩の財政を悪化させた。^⑥そのため、吉宗は、物価の統制を容易にするため、商人に組合・株仲間をつくらせるとともに、1730年には大坂堂島の米市場を公認し、米価の調節をはかろうとした。幕府の財政再建は一定の成果を上げたが、その反面で、年貢の増徴や享保^⑦の飢饉によって農民の生活は逼迫していた。

問1 空欄 , 空欄 に入る数字の組み合わせとして適切なものを次のなかから1つ選び、その記号をマークしなさい。

- a A— 20 B—100 b A— 20 B—500
- c A— 50 B— 50 d A—100 B—100
- e A—100 B—500

問2 下線部①に関連して、幕府直轄の金の産出地を次のなかから1つ選び、その記号をマークしなさい。

- a 伊豆 b 石見大森 c 院内 d 但馬生野 e 別子

問3 空欄 に入る人名を次のなかから1つ選び、その記号をマークしなさい。

- a 木下順庵 b 酒井忠清 c 堀田正俊 d 間部詮房
- e 柳沢吉保

問4 下線部②に関連する説明文として、正しいものをa～eから1つ選び、その記号をマークしなさい。

- a 金銀の含有量を増やし、良質の貨幣を発行することで、物価の騰貴をおさえた。
- b 金銀の含有量を減らし、悪質な貨幣を発行することで、物価の下落を引き起こした。
- c 貨幣の信用度を高めるために、金銀の含有量を増やした。
- d 金銀の含有量を減らし、その差額を幕府の収入とした。
- e 南鐐二朱銀を大量に鑄造させ、金銀通貨の一本化をねらった。

問5 下線部③に関連して、この人物の著作でないものを次のなかから1つ選び、その記号をマークしなさい。

- a 『折たく柴の記』 b 『古史通』 c 『読史余論』
- d 『藩翰譜』 e 『塵劫記』

問6 空欄 に入る人名を次のなかから1つ選び、その記号をマークしなさい。

- a 木下順庵 b 堀田正俊 c 間部詮房 d 室鳩巢
e 柳沢吉保

問7 下線部④に関連して、このとき広く採用された年貢率の定め方を次のなかから1つ選び、その記号をマークしなさい。

- a 貫高制 b 検見法 c 定免法 d 新補率法
e 足高の制

問8 下線部⑤に関連して、『蕃薯考』を著し、救慌用の甘藷の栽培普及をすすめた人物を次のなかから1人選び、その記号をマークしなさい。

- a 青木昆陽 b 稻生若水 c 貝原益軒 d 野呂元文
e 前野良沢

問9 下線部⑥に関連する説明文として、正しいものをa～eから1つ選び、その記号をマークしなさい。

- a 諸藩は、大坂などに蔵屋敷において、領内の年貢米や特産物である納屋物を販売し、貨幣の獲得につとめた。
- b 江戸浅草の蔵前にあった掛屋は、旗本・御家人に支給される蔵米を担保に、旗本・御家人に貸付をおこなった。
- c 金貨・銀貨・銭貨の三貨のうち、銀貨は重さをはかって授受される計数貨幣であった。
- d 西日本では金貨で、東日本では銀貨で主に決済されたので、両替商が重要な役割を果たした。
- e 金貨の単位は「両・分・朱」、銀貨の単位は「貫・匁・分・厘・毛」、銭貨の単位は「貫・文」であった。

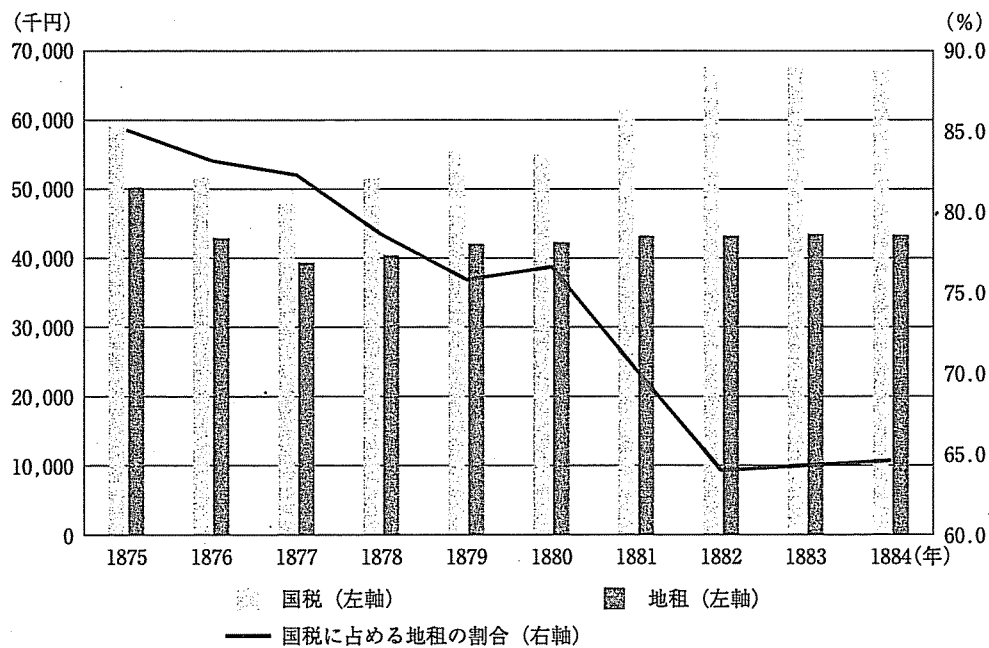
問10 下線部⑦に関連する説明文として、正しいものをa～eから1つ選び、その記号をマークしなさい。

- a 富士山が大噴火し、駿河・相模などでは降灰による大被害が発生した。
- b 東北地方の冷害からはじまり、浅間山の大噴火も加わって、多数の餓死者を出した。
- c 東日本一帯で、いなごやうんかが大量に発生して稲を食い尽くし、その惨状は『凶荒図録』に描かれた。
- d 甲斐国郡内地方や三河国加茂郡で、飢饉によって困窮した農民による大規模な一揆が発生した。
- e 飢饉による米価の高騰は著しく、米を買い占めて米価高騰の原因を作ったとして、江戸ではじめて米問屋が打ちこわしにあった。

Ⅲ 以下の〔A〕,〔B〕について,それぞれの設問に答えなさい。(20点)

〔A〕

図1 国税における地租の割合



(出典) 日本銀行統計局編『明治以降本邦主要経済統計』130, 135-136頁より作成。

図1は, 1873年7月に実施された地租改正の2年後以降の時期について, 国税(国のすべての税金額), 地租(土地に対する税金), 国税に占める地租の割合を示したものである。問1~問5の設問にそれぞれ答えなさい。

問1 図1が示している内容について、正しくないものをa～eから一つ選び、その記号をマークしなさい。

- a 地租改正の実施直後は、国税に占める地租の割合は80%以上と高い。
- b 地租改正が実施されて以降、国税・地租ともに増加している。
- c 地租改正が実施されてから国税は減少したが、1878年から増加している。
- d 1877年から1879年まで国税に占める地租の割合が減少しているのは、国税が増加する一方で地租があまり増加していないからである。
- e 1882年から国税に占める地租の割合がほぼ変化していないのは、国税と地租の両方が変化していないからである。

問2 図1において、1877年から地租があまり増加していない要因について、正しいものをa～eから一つ選び、その記号をマークしなさい。

- a 1877年に地租の税率が、3%から3.5%に引き上げられたからである。
- b 地租改正が実施された後も、政府の財政は安定しなかったからである。
- c 地租改正が実施されたとはいえ、農作物の凶作に影響されたからである。
- d 1877年に地租の税率が、3%から2.5%に引き下げられたからである。
- e 地租改正によって、地券所有者が税金を納める必要がなくなったからである。

問3 地租改正の要点を整理した次の文章について、～の空欄に入る正しい組み合わせをa～eから一つ選び、その記号をマークしなさい。

- ・課税の基準を、収穫高から地価に変更したこと。
- ・をに改め、税率を地価の3%としたこと。
- ・地券所有者をとしたこと。

- a ア. 不安定な イ. 一定した ウ. 物納 エ. 金納 オ. 納税者
- b ア. 一定した イ. 不安定な ウ. 物納 エ. 金納 オ. 地主
- c ア. 一定した イ. 不安定な ウ. 金納 エ. 物納 オ. 地主
- d ア. 不安定な イ. 一定した ウ. 物納 エ. 小作料 オ. 自作農
- e ア. 一定した イ. 不安定な ウ. 物納 エ. 金納 オ. 納税者

問4 地租改正, 富国強兵, 殖産興業の関係について, 正しいものをa~eから一つ選び, その記号をマークしなさい。

- a 八幡製鉄所は, 富国強兵を目指す殖産興業のパイオニアであった。
- b 戦争の勝利を目指した富国強兵は, 殖産興業を阻害した。
- c 地租改正によって得た税収は, もっぱら郵便制度の整備に活用された。
- d 官営の富岡製糸場は, 日清戦争の賠償金によって設けられた。
- e 地租改正により財政が安定したことで, 富国強兵を目指す殖産興業は可能となった。

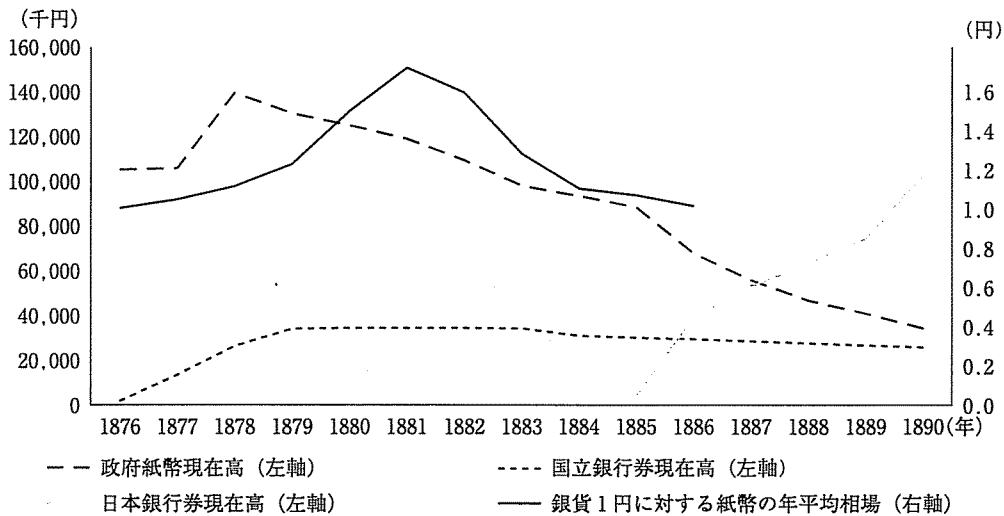
問5 殖産興業を推進されていったのとほぼ同じ頃, 明治政府が推し進めた北方開発について, 正しくないものをa~eから一つ選び, その記号をマークしなさい。

- a 北海道開発の行政機関として, はじめ, 開拓使を札幌に設置した。
- b 松浦武四郎の案により, 蝦夷地を北海道と改称した。
- c 北海道の開拓とロシアに対する警備のため, 黒田清隆の建議により, 屯田兵制度が制定された。
- d 北海道の農業改良と生産発展のため, アメリカ人クラークを招いて, 札幌農学校を開校した。
- e 開拓使以来の同化政策を推し進めるため, アイヌ人保護法を制定した。

〔B〕

図2は、日本銀行券が発行される前後の時期について、政府紙幣現在高、国立銀行券現在高、日本銀行券現在高、銀貨1円に対する紙幣の年平均相場を示したものである。問6～問10の設問にそれぞれ答えなさい。

図2 紙幣整理の動向



(出典) 日本銀行統計局編『明治以降本邦主要経済統計』166頁、日本銀行調査局編『日本金融史資料 明治大正編』第16巻、120頁より作成。

問6 図2が示している内容について、正しくないものをa～eから一つ選び、その記号をマークしなさい。

- a 1879年以降、政府紙幣現在高は減少し続けている。
- b 1879年まで増加した国立銀行券現在高は、1880年以降ほぼ変化しなくなっている。
- c 日本銀行券が発行されて以降、政府紙幣現在高はさらに減少している。
- d 銀貨1円に対する紙幣の年平均相場は、1881年まで増加しているが、1882年からは一転減少している。
- e 銀貨1円に対する紙幣の年平均相場が増加から減少に転じたことには、日本銀行券の発行が関係している。

問7 図2のグラフの動きに関連した歴史について、正しいものをa～eから一つ選び、その記号をマークしなさい。

- a 明治政府は、西南戦争の戦費を捻出するため、兌換紙幣を大量に増発した。
- b 1876年の条約改正によって、国立銀行は不換紙幣を取り除かれた。
- c 国立銀行の設立は、1879年の第百国立銀行を最後に打ち切られた。
- d 不換紙幣を大量に発行したため、激しいインフレーションが起きた。
- e インフレーションの結果、農村は困窮し、寄生地主が生まれていった。

問8 図2における銀貨1円に対する紙幣の年平均相場について、正しいものをa～eから一つ選び、その記号をマークしなさい。

- a 1880年前後の銀貨の値上がりは、輸出超過で銀貨が流出したからである。
- b 1876年から1878年にかけての銀貨の値上がりは、貿易収支の赤字によって、銀貨が流出したからである。
- c 1880年前後の銀貨の値上がりは、輸入超過で金貨が底を突いたからである。
- d 銀貨の価値の変動が大きいのは、銀本位制度が確立していたからである。
- e 1876年から1878年にかけての銀貨の値上がりは、激しいインフレーションの結果、貿易に用いる銀貨に対する紙幣の価値が下落したからである。

問9 松方正義のデフレ政策の要点を整理した次の文章について、～の空欄に入る正しい組み合わせをa～eから一つ選び、その記号をマークしなさい。

によって歳入の増加を図る一方で、以外の歳出を徹底的に緊縮した。そして、歳入の余剰によってを処分するデフレ政策をとりながら、の蓄積を進めた。

- | | | | | |
|---|-------|---------|----------|-------|
| a | ア. 増税 | イ. 殖産興業 | ウ. 兌換紙幣 | エ. 正貨 |
| b | ア. 減税 | イ. 富国強兵 | ウ. 日本銀行券 | エ. 悪貨 |
| c | ア. 減税 | イ. 工業化 | ウ. 日本銀行券 | エ. 悪貨 |
| d | ア. 増税 | イ. 軍事費 | ウ. 不換紙幣 | エ. 正貨 |
| e | ア. 増税 | イ. 工業化 | ウ. 兌換紙幣 | エ. 正貨 |

問10 松方財政の内容・影響について、正しいものを a～e から一つ選び、その記号をマークしなさい。

- a 銀貨と紙幣の価値の差がほぼなくなり、日本銀行は銀兌換の銀行券を発行した。
- b 日本銀行が兌換銀行券を発行したことで、金本位制度が整った。
- c 厳しい緊縮政策のため、米や繭の物価上昇が著しく、深刻な不況となった。
- d 増税や地租の負担の重かった小作農は、土地を手放して、都市に流れ込んだ。
- e 農村の困窮は、社会主義運動にも大きな影響を与えた。

IV 次の文章を読んで、設問に答えなさい。(20点)

第一次世界大戦中の1915年、第2次大隈重信内閣の加藤高明外務大臣は中国に対して、いわゆる二十一カ条の要求をおこなった。その第1条は、ドイツが 省に有する権利に関するものだった。寺内正毅内閣期には、中国の軍閥である 政権に借款を供与した。この借款は、西原借款と呼ばれる。日本とアメリカの間では、石井・ランシング協定が交わされた。この協定は後年、ワシントン会議で が成立したときに廃棄された。

ワシントン会議後の国際会議としては、ロンドン海軍軍縮会議が重要である。1930年、当時の内閣はロンドン海軍軍縮会議に らを全権として派遣し、補助艦の総保有比率について条約を締結した。しかし、ワシントン・ロンドン両海軍軍縮条約は1936年に失効した。

二・二六事件後に成立した広田弘毅内閣は、 で大陸の地歩を確保しつつ漸進的に南方へ進出することを方針とし、ドイツとの提携を深めた。日本が中国で華北分離工作を進めると、中国は張学良が蒋介石を監禁する を経て日本への抗戦に向かった。日中戦争が1937年に起こったのは、 内閣成立直後だった。日中戦争下で日本は、国民政府の要人である を重慶から脱出させ、傀儡政権を打ち立てた。アメリカは日中開戦後の日本の対外政策に危機感を抱いていた。

問1 空欄 に関して適切な語句を次のa～eから一つ選び、その記号をマークしなさい。

- a 山東
- b 熱河
- c 黒龍江
- d 浙江
- e 安徽

問2 空欄 に関して適切な人名を次の a～e から一つ選び、その記号をマークしなさい。

- a 張作霖
- b 袁世凱
- c 段祺瑞
- d 李鴻章
- e 孫文

問3 下線部①に関する記述として、誤っているものを次の a～e から一つ選び、その記号をマークしなさい。

- a 石井・ランシング協定は、シベリア出兵の前年に交わされた日米間の協定である。
- b 石井・ランシング協定には、中国の領土保全・門戸開放が盛り込まれた。
- c 石井・ランシング協定には、日本は中国と地理的に近いことから特殊利益を持つことが盛り込まれた。
- d 石井菊次郎は、原敬内閣のときに特派大使として石井・ランシング協定を締結した。
- e ランシングは、ウィルソン政権の國務長官として石井・ランシング協定を締結した。

問4 空欄 に関して適切な語句を次の a～e から一つ選び、その記号をマークしなさい。

- a 四カ国条約
- b 海軍軍縮条約
- c 九カ国条約
- d 不戦条約
- e 山東懸案解決条約

問5 空欄 に関して適切な人名を次の a～e から一つ選び、その記号を

マークしなさい。

- a 若槻礼次郎
- b 加藤友三郎
- c 濱口雄幸
- d 幣原喜重郎
- e 徳川家達

問6 空欄 に関して適切な語句を次の a～e から一つ選び、その記号を

マークしなさい。

- a 帝国国策遂行要領
- b 日独伊三国同盟
- c 南部仏印進駐
- d 「国策の基準」
- e 「東亜新秩序」

問7 空欄 に関して適切な語句を次の a～e から一つ選び、その記号を

マークしなさい。

- a 国共合作
- b 張鼓峰事件
- c 上海事変
- d ノモンハン事件
- e 西安事件

問8 空欄 に関して適切な人名を次の a～e から一つ選び、その記号をマークしなさい。

- a 近衛文麿
- b 林銑十郎
- c 平沼騏一郎
- d 米内光政
- e 阿部信行

問9 空欄 に関して適切な人名を次の a～e から一つ選び、その記号をマークしなさい。

- a 溥儀
- b 蔣介石
- c 周恩来
- d 毛沢東
- e 汪兆銘

問10 下線部②に関する記述として、誤っているものを次の a～e から一つ選び、その記号をマークしなさい。

- a アメリカは日中戦争後の日独防共協定締結に対抗し、日本に経済制裁をおこなった。
- b 重慶の蔣介石政権に対する米・英の物資援助ルートは援蔣ルートと呼ばれる。
- c アメリカは日米通商航海条約の廃棄を日本に通告した。
- d 日米交渉はいわゆるハル＝ノートの提示で決裂した。
- e 太平洋戦争は、日本海軍のハワイ攻撃と陸軍のマレー半島上陸で始まった。

V 次の文章を読んで、下記の設問に答えなさい。(20点)

1952年4月のサンフランシスコ平和条約の発効は、GHQの指令で制定された多数の法令の失効を意味した。また、平和条約の発効を待たずに進められた公職追放の解除によって、有力政治家が政界に復帰した。1955年には日本民主党と自由党が合流して自由民主党を結成し、初代総裁には が選出された。ここに保守一党優位のもとで保革対立という政治体制が成立し、以後40年近く続くことになった。

また、経済については、1955年には日本生産性本部が設立され、生産性三原則を掲げて、生産性向上運動を推進した。1955～57年に と呼ばれる大型景気を迎え、 は1956年度の『経済白書』で「もはや戦後ではない」と記した。日本経済は復興から技術革新による経済成長へと舵を切り、1955～73年にかけて年平均10%前後の経済成長をとげた。高度経済成長は国内経済の仕組みにも大きな変化をもたらし、欧米とは異なる日本独特の企業集団と企業内部の労使関係が形成された。六大都市銀行は、系列企業への融資を通じて再び大企業集団を形成していった。

問1 下線部①に関して、全官公庁共同闘争委員会を中心にした官公庁労働者は、吉田内閣打倒をめざし、1947年2月1日にゼネラル＝ストライキに突入することを決定したが、GHQの指令で中止した。GHQの命令で吉田内閣がゼネストを中止させた月日を次のa～eから一つ選び、その記号をマークしなさい。

- a 1月21日 b 1月22日 c 1月25日 d 1月28日
e 1月31日

問2 下線部②に関して、公職追放の解除によって、政界に復帰した政治家として、正しいものを次のa～eからすべて選び、その記号をマークしなさい。

- a 佐藤栄作 b 田中角栄 c 石橋湛山 d 芦田均
e 岸信介

問3 空欄 に入る人名を次の a～e から一つ選び、その記号をマークしなさい。

- a 岸信介 b 三木武夫 c 池田勇人 d 緒方竹虎
- e 鳩山一郎

問4 下線部③に関して、1993年に非自民8党派の連立政権が発足したが、そのときの首相が所属した政党名として正しいものを次の a～e から一つ選び、その記号をマークしなさい。

- a 新党さきがけ b 新生党 c 日本新党 d 民社党
- e 日本社会党

問5 下線部④に関して、生産性三原則として正しいものを次の a～e からすべて選び、その記号をマークしなさい。

- a 年功序列型賃金の保障
- b 成果の公正配分
- c 春闘方式による賃金交渉の順守
- d 失業防止
- e 地域間の労働生産性の是正

問6 空欄 に入る用語を次の a～e から一つ選び、その記号をマークしなさい。

- a 朝鮮特需 b いざなぎ景気 c オリンピック景気
- d 神武景気 e 岩戸景気

問7 空欄 に入る省庁名を次の a～e から一つ選び、その記号をマークしなさい。

- a 内閣府 b 大蔵省 c 通商産業省 d 経済安定本部
- e 経済企画庁

問8 下線部⑤に関して、1955～73年における出来事として正しいものを次のa～eからすべて選び、その記号をマークしなさい。

- a 沖縄返還協定を調印した。
- b 日中平和友好条約を調印した。
- c 日韓基本条約を調印した。
- d 小笠原諸島の返還を実現した。
- e 中華民国と日華平和条約を結んだ。

問9 下線部⑥に関して、この時期における、欧米とは異なる日本独特の企業集団と企業内部の労使関係の特徴として正しいものを次のa～eからすべて選び、その記号をマークしなさい。

- a 大企業集団は外国企業の乗っ取りに備えるため系列企業同士で株式を持ち合い、下請け企業の系列化を促進した。
- b 大企業集団は株主の配当を優先させることで、労働者への成果配分が抑制されることで、所得格差が上昇した。
- c 年功序列型賃金によって、若年者の賃金が抑えられたことや、会社人間を強いられたために若年者の離職率が大幅に上昇した。
- d 従業員に色々と仕事を覚えさせる多能工化と配置転換の円滑化がすすめられた。
- e 大企業集団は投資資金を確保することが困難になり、長期的な視点を持った経営をおこないにくくなったという批判がなされるようになった。

問10 下線部⑦に関して、六大都市銀行として正しいものを次のa～eからすべて選び、その記号をマークしなさい。

- a 太陽神戸 b 東京 c 富士 d 三和 e 大和

