

世界史

(問題)

2020年度

〈2020 R02143411〉

注意事項

1. 試験開始の指示があるまで、問題冊子および解答用紙には手を触れないこと。
2. 問題は2～12ページに記載されている。試験中に問題冊子の印刷不鮮明、ページの落丁・乱丁および解答用紙の汚損等に気付いた場合は、手を挙げて監督員に知らせること。
3. 解答はすべて、HBの黒鉛筆またはHBのシャープペンシルで記入すること。
4. マーク解答用紙記入上の注意
 - (1) 印刷されている受験番号が、自分の受験番号と一致していることを確認したうえで、氏名欄に氏名を記入すること。
 - (2) マーク欄にははっきりとマークすること。また、訂正する場合は、消しゴムで丁寧に、消し残しがないようによく消すこと。

マークする時	<input checked="" type="radio"/> 良い	<input type="radio"/> 悪い	<input type="radio"/> 悪い
マークを消す時	<input type="radio"/> 良い	<input type="radio"/> 悪い	<input type="radio"/> 悪い

5. 記述解答用紙記入上の注意
 - (1) 記述解答用紙の所定欄（2カ所）に、氏名および受験番号を正確に丁寧に記入すること。
 - (2) 所定欄以外に受験番号・氏名を記入した解答用紙は採点の対象外となる場合がある。
 - (3) 受験番号の記入にあたっては、次の数字見本にしたがい、読みやすいように、正確に丁寧に記入すること。

数字見本	0	1	2	3	4	5	6	7	8	9
------	---	---	---	---	---	---	---	---	---	---

- (4) 受験番号は右詰めで記入し、余白が生じる場合でも受験番号の前に「0」を記入しないこと。

	万	千	百	十	一
(例) 3825番⇒		3	8	2	5

6. 解答はすべて所定の解答欄に記入すること。所定欄以外に何かを記入した解答用紙は採点の対象外となる場合がある。
7. 試験終了の指示が出たら、すぐに解答をやめ、筆記用具を置き解答用紙を裏返しにすること。
8. いかなる場合でも、解答用紙は必ず提出すること。
9. 試験終了後、問題冊子は持ち帰ること。

I

次の史料①～⑤を読み、下記A、Bに答えよ。

- ① 西洋人の中で、北京に留まっている者は、の作成や他の雑用に役立ちます。外の各省にいる者は役に立ちません。愚かな男女がその教えに聞き従い、天主堂を建立し、集まって経を唱え、男女が混じりあって、人心・地方に大きな害となっています。……勅命によって北京に留まり、仕事をしている者を除き、それ以外の直隸各省に散居している者は、……法に通じ、技能のある者を調べて、北京に送り届けて働かせ、他はマカオに送致して住ませ、内地に潜伏させないようにすべきです。……各地に建立した天主堂は、みな会館として使用し、これまで誤ってその教えに入った者は、厳しく説諭して改宗させます。もし以前のように人々を集めて経を唱える等のことがあれば、重く処罰します。
- ② 各地の軍民らが天主教を伝習し、会合をもって布教活動を行ない、教会を建てて礼拝を行なってよい。罪を犯して捕まった者に対しては、〔天主教だからという理由でなく〕犯罪に応じて処分を行なう。また、かつて、天主教信者が迫害を受けた際に、没収された教会、学堂、墳墓、田土、房屋などは、北京に駐在のの欽差大臣〔公使〕に対して賠償され、同大臣を通じて当地で布教、信仰していた人に返還される。……なお、今後の宣教師は各省で田土を賃借、売買し、建造物を建ててよい。
- ③ 現在、西洋人は法を管理し、さきの戦役においては武器を製造し、勤勉に力を尽くしている。最近はロシアを征討する際に随行し、また功績があった。けっして悪事を働いたり乱れた行ないをしたことはない。彼らの教えを邪教と見なして禁止するのは、まったくの冤罪というものである。内閣と礼部はこれについて合同で討議し、上奏せよ。
- ④ 毎年の春分・秋分にと祖先に対して中国人がおこなっている慣習である盛大な犠牲奉獻や供物奉納は、……いかなる理由であれキリスト教信徒はこれを実施したり、主宰したり、出席したりしてはならない。……同様に、前述のキリスト教徒は、私宅における位牌の前であれ、墓前であれ、死者の埋葬以前であれ、故人の栄誉を称えるような供物奉納、儀礼・儀式をおこなうことは許されるべきではない。
- ⑤ ロー師によれば、北京の町だけで中国人のキリスト教徒が五千人以上いるという。帝国全体では十五万人になるというのが彼の計算である。……中国人は以前ほどには宗教上の回心を警戒していないようである、と彼は言う。それというのも、現在いる宣教師たちに分別があるためだというのだが、私の推測では、彼らの熱意が今では前任者たちほどに強くないのである。にもかかわらず、彼らは政府の注意を少なからずひいている。この十二カ月の間、通常は普通便で北京とカントンの間を自由に運ばれていた彼らの手紙が絶えず開封され、調べられている。中国人は現在、ヨーロッパに大きな騒動や反乱がいろいろ起こっているらしいことを、漠然とではあるが、確かにさどっている。

A 下記の問い1～8に対する最も適切な答えをイ～ニから一つ選び、マーク解答用紙にマークせよ。

- 1 史料①は、ある皇帝への上奏文の一部で、皇帝によって裁可された。この皇帝の在位中の事績はどれか。
- イ 『皇輿全覧図』の作製を命じた。
 ロ 理藩院を設立した。
 ハ ベトナムの王朝交代に際して軍事介入した。
 ニ 軍機処を設立した。
- 2 史料②は、清ととの間で結ばれた条約の一部である。同じ条約で取り決められた事柄はどれか。
- イ 清はにウスリー川以東の沿海地方を割譲する。
 ロ 清はに800万両の賠償金を支払う。
 ハ 清はに香港島を割譲する。
 ニ 清はによるベトナムの保護国化を承認する。

- 3 史料③は、ある皇帝の勅諭の一部である。この皇帝の在位中の事績はどれか。
- イ 辮髮令をはじめて発布した。
 - ロ 『四庫全書』の編纂を命じた。
 - ハ 国号を大金から大清に改めた。
 - ニ 台湾を清の支配下に組み込んだ。
- 4 史料④は誰が発布したものか。
- イ 清の康熙帝 ロ イエズス会総長ミケランジェロ＝タンブリーニ
 - ハ 清の乾隆帝 ニ ローマ教皇クレメンス11世
- 5 史料⑤はイギリスから清に派遣された外交使節マカートニーの日記の一部である。ここで述べられている状況に対応する記述はどれか。
- イ 清の中国支配が始まった直後はキリスト教が弾圧されたが、康熙帝の即位後、禁圧が緩んだ。
 - ロ 典礼問題の影響でキリスト教布教が禁止されたにもかかわらず、徹底的な弾圧は行なわれていなかった。
 - ハ 嘉慶帝は19世紀初頭からキリスト教に対する取り締まりを強化したが、道光帝の即位後、禁圧が緩んだ。
 - ニ 黄埔条約の規定では、外国人宣教師によるキリスト教布教は開港場だけで許されていたが、実際には他の地域でも黙認されていた。
- 6 下線部 c は何を指すか。
- イ 捻軍の乱 ロ 白蓮教徒の乱 ハ 清のジュンガル征服 ニ 三藩の乱
- 7 史料③が発せられた当時の下線部 e に関する説明として、正しいものはどれか。
- イ 皇帝への上奏文に対する決裁案を作成し、皇帝を補佐していた。
 - ロ 別名を総理衙門といい、諸外国との外交も担当していた。
 - ハ 中書・門下・尚書の三省を統括する政務中枢機関であった。
 - ニ 軍機処の設立にともなって、政務中枢機関としての機能は形骸化していた。
- 8 史料⑤が書かれた当時の下線部 g (広州を指す) の状況に関する説明として、正しいものはどれか。
- イ 長崎へ向かう貿易船の主要な出航地であった。
 - ロ イギリスが他の諸国を排除して、ここでの清との貿易を独占していた。
 - ハ ヨーロッパ船の来航はここだけに限定され、他の港での貿易は禁止されていた。
 - ニ 公行による貿易独占が廃止され、中国各地の商人が自由に貿易に参入できるようになっていた。

B 下記の問い1～5に対する適切な答えを、記述解答用紙に記せ。

- 1 空欄 a に当てはまる漢字一文字は何か。
- 2 空欄 b に当てはまる国名は何か。
- 3 下線部 d の結果として結ばれた条約名は何か。
- 4 空欄 f に当てはまる人名は何か。
- 5 下線部 h はどのような出来事を指していると考えられるか。一つだけ記せ。

II

以下の文章を読み、下記A、Bに答えよ。

ローマ帝国の東西分裂後、東方正教会はキリスト教化の進んだ古代文明の中心地で、ビザンツ帝国の支配と保護を受けつつ発展した。一方、ローマ＝カトリック教会は、引き続きゲルマン人のキリスト教化に努めた^aが、字の読めないかれらの布教のために聖画像を用いざるをえなかった。その後もカトリック教会は、イエスやマリアを題材にした絵画や彫像などを利用し続けた。近世以降のローマ教皇庁は、幅広い分野の芸術を積極的に後援した。民衆の信仰心を喚起するうえで、芸術は効果的^bだった。宗教改革が起こると、教皇庁は新教に対し強硬な対抗措置^cを採った。しかし17世紀に入ると、教皇庁は異端や異教徒に対抗するために、劇的な表現で信徒の感情に訴える d 芸術を大いに利用した。

この時代にローマは、街全体がベルニーニやボッロミーニらの d 様式の建築物と美術作品によって、対抗宗教改革の華麗な殿堂に変貌した。

このような教皇庁の戦略を模倣したのが、宗教戦争を收拾した絶対君主たちだった。かれらの後援を受けて、芸術はしだいに国家的事業になっていった。フランス国王ルイ13世やルイ14世は、毎年膨大な予算を宮廷費に費やした。神聖ローマ皇帝レオポルト1世も、ウィーンの宮廷に多額の費用を投じた。絶対君主にとって、宮廷は内外の政敵との競争を勝ち抜くための重要な武器になった。なかでも建築が重要な役割を演じた。巨大な宮殿、広大な g 的庭園、華麗な歌劇場、新奇な熱帯植物を展示した植物園は、絶対君主が権力と権威を誇示する舞台装置だった。ヴェルサイユ宮殿はフランス国王の偉大さを、i シェーンブルン宮殿はハプスブルク家の権威を誇示していた。宮殿の大広間や広大な g 的庭園では、絢爛豪華な祝典や舞踏会が頻繁に催された。やがてプロイセン国王やザクセン選帝侯など、ヨーロッパ各地の有力諸侯もこれに追随した。宮廷は貴族を君主のもとに参集させ、美にかんする厳しい規則と規律を通じて、かれらを支配する場となった。宮廷に参内した貴族は、そこで配分される官職や年金を通じて、ますます君主に依存するようになった。貴族は身分相応の暮らしが保てた一方、権力基盤である一族の本拠地から引き離された。こうして絶対君主は、貴族を政治的に無力化することに成功した。これを可能にしたのが d 宮廷である。宮廷ではすべての重大な決定が行われ、榮譽と利得が与えられた。宮廷はすべての価値が然るべく秩序づけられる空間となった。

j かつて君主の宮殿は、首都の町なかに造られたが、王権の伸張とともに、民衆が住む場から離れた所に建てられるようになった。君主は民衆や自治都市の煩わしさから逃れるために、人里離れた郊外に巨大な宮殿を建設し、厳格な規則のもとに絢爛豪華な宮廷生活を始めた。このような君主の不可視化と距離化には、二つの政治目的があった。まず君主の日頃の姿を民衆から見えなくすることで、民衆の心のなかに君主の神秘的な力を呼び覚まし、君主に対する畏敬の念を育むことである。つぎに宮廷における格式に則った儀式生活や、君主による恩恵の付与と剥奪によって、貴族に君主との圧倒的な身分差を認識させることである。厳しい宮廷秩序を模範に社会を規律化することは、絶対主義の統治目標だった。巨大な宮殿、広大な g 的庭園、華麗な歌劇場、荘厳な礼拝堂が一体となった空間は、絶対君主と国家の一体化を演出する格好の舞台装置になった。k 王権神授説に照らして、君主の身体を介して神の超越性を再現前することが、絶対王政の統治理念になった。d 宮廷は、この世の神に擬せられる国家の不可死の身体が、君主の可死の身体を介して再現前する場となった。しかし、絶対王政が定着すると、このような d 的な具現によって、貴族や民衆を支配する必要はなくなった。その時はじめて君主は、巨大な宮殿における贅を尽した堅苦しい宮廷生活から身を引き、l こじんまりした快適な隠れ家に住まうようになった。

A 下記の問い1～9について、最も適切な答えをイ～ニから一つ選び、マーク解答用紙にマークせよ。

- 1 下線部 a を行った6世紀末から7世紀初頭のローマ教皇は誰か。
イ レオ1世 口 レオ3世 ハ グレゴリウス1世 ニ グレゴリウス3世
- 2 下線部 b に関する説明として、正しいものはどれか。
イ 教皇シクストゥス4世が、ミケランジェロに「天地創造」を描かせた。
口 教皇ユリウス2世が、ラファエロに「アテナイの学堂」を描かせた。
ハ 教皇アレクサンデル6世が、サン＝ピエトロ大聖堂の新築工事を始めた。
ニ 教皇レオ10世が、ヴァチカン宮殿内にシステイナ礼拝堂を造らせた。
- 3 下線部 c に関連する出来事を古い方から年代順に並べた場合、3番目にくるのはどれか。
イ パウルス3世によってトリエント公会議が招集された。
口 イギリス国教会を設立した国王ヘンリ8世が破門された。
ハ 禁書目録の初のリストが教皇庁から公示された。
ニ イエズス会（ジェズイット教団）の設立が認可された。

- 4 下線部 e と同時代に活躍した画家とその作品の組合せとして、正しいものはどれか。
- イ ファン＝ダイク……………「狩猟場のチャールズ1世」
 - ロ ルーベンス……………「ルイ14世の肖像」
 - ハ ベラスケス……………「カール5世の騎馬像」
 - ニ ムリリョ……………「フェリペ4世の騎馬像」
- 5 下線部 f が関わった出来事を古い方から年代順に並べた場合、3番目に来るものはどれか。
- イ スペインの王位継承問題に介入し、イギリスやプロイセンとともにフランスと戦った。
 - ロ ポーランドなどとともに、オスマン帝国との間でカルロヴィッツ条約を結んだ。
 - ハ ドイツ諸侯やオランダなどとアウクスブルク同盟を結び、フランスと戦った。
 - ニ ポーランド王などの支援を受けて、ウィーンを包囲したオスマン軍を撃退した。
- 6 下線部 h を舞台に起ったフランス革命中の出来事はどれか。
- イ 聖職者を公務員にし、俸給を支給する法律が制定された。
 - ロ ルイ16世も参列し、革命一周年を祝う全国連盟祭が開かれた。
 - ハ 同業組合の結成と労働者の団結を禁じる法律が制定された。
 - ニ 国民議회를憲法制定国民議会に改称する決定が行われた。
- 7 下線部 j に関わる説明として、正しいものはどれか。
- イ 神聖ローマ皇帝カール4世が発布した金印勅書によって、当時のザクセン辺境伯が選帝侯になった。
 - ロ 宗教改革の際、当時の選帝侯が建設した城で、ルターが『新約聖書』のドイツ語訳を完成させた。
 - ハ 北方戦争の際、ポーランド王を兼ねていた当時の選帝侯は、スウェーデン国王の軍と戦った。
 - ニ ティルジット条約によって、当時の選帝侯は王に昇格し、ワルシャワ大公を兼ねることになった。
- 8 下線部 k の事例の説明として、正しいものはどれか。
- イ 1685年の決定は、旧教徒として国王に即位したアンリ4世が1598年に発した王令を廃止する決定だった。
 - ロ 1598年の王令によって、サン＝バルテルミの虐殺から36年にわたり続いていたユグノー戦争が終息した。
 - ハ 1598年の王令によって、新教徒は個人の信仰の自由を認められたが、公職に就くことはできなかった。
 - ニ 1685年の決定の前から、ルイ13世、リシュリユー、ルイ14世による新教徒に対する弾圧は始まっていた。
- 9 下線部 l のひとつであるパリのテュイルリー宮殿の説明として、誤っているものはどれか。
- イ ルイ13世の王妃によって建設され始めた。
 - ロ 「8月10日事件」の舞台となった。
 - ハ 国民公会の会議場が置かれた。
 - ニ パリ＝コミューンの蜂起で焼失した。

B 下記の問い1～6について、最も適切な答えを記述解答用紙に記せ。

- 1 空欄 d に当てはまる語句を記せ。
- 2 空欄 g に当てはまる語句を漢字三文字で記せ。
- 3 下線部 i がほぼ現在の形で完成した時のオーストリア大公の名を記せ。
- 4 下線部 m に関連して、カペー朝以来のフランス王は、ある病の治癒力を持つと信じられていた。この治癒の儀式を行なったブルボン朝最後の国王の名を記せ。
- 5 下線部 n を唱えたボシユエは、フランス教会の教皇権からの独立を唱えていた。このような考えは何と呼ばれるか、カタカナで記せ。
- 6 下線部 o のひとつサンスーシ宮殿がある都市の名と、その地で1685年にユグノーの受け入れを命じる王令を発した君主の名をそれぞれ記せ。

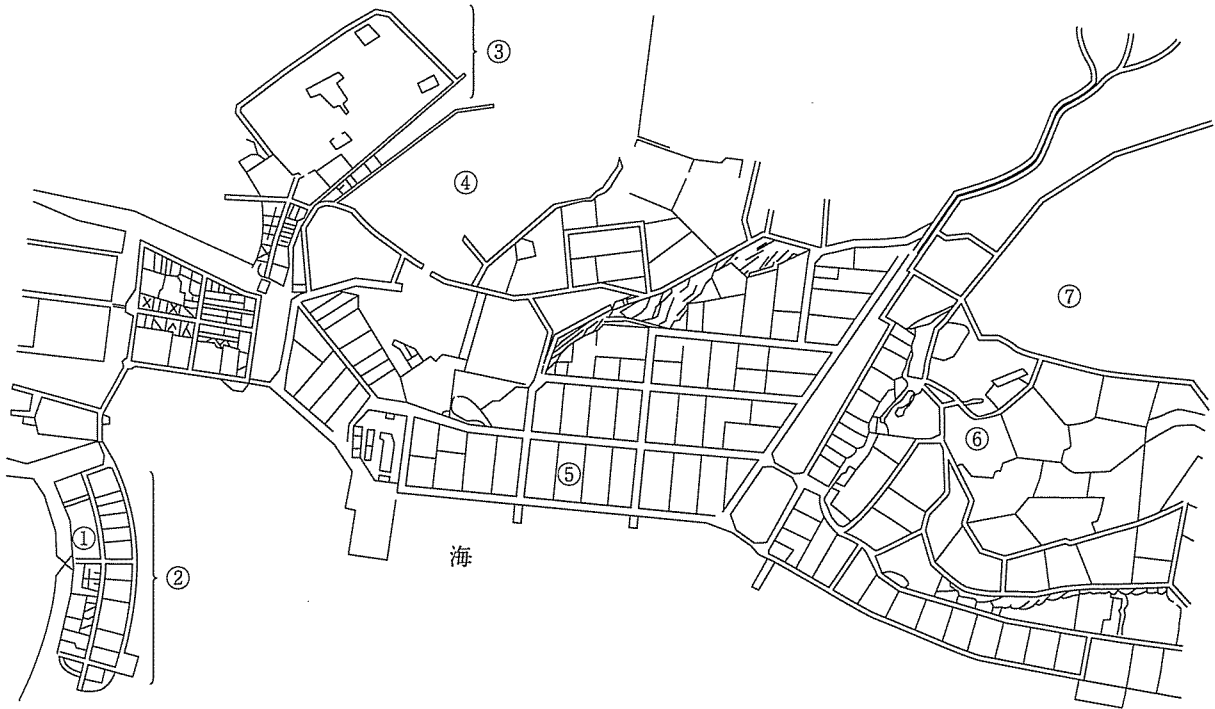
III

以下の港湾都市 $a \sim \delta$ の説明文と市街地図を読んで、下記 A, B に答えよ。

[都市 a]

16世紀後半にポルトガル船の入港地として繁栄し、キリスト教布教の中心ともなった。1641年以降は入港を許された外国船との貿易港として、東アジアの交易拠点の一つとなるとともに、19世紀半ばまでこの国の国内遠方・海外との交易や海外情報入手の貴重な窓口となった。[都市 β] を経由した船舶や知識人の来港も多く、当時、海外の学術知識は主にこれらの人々によって伝えられた。

[都市 a の市街地図] 1873年頃

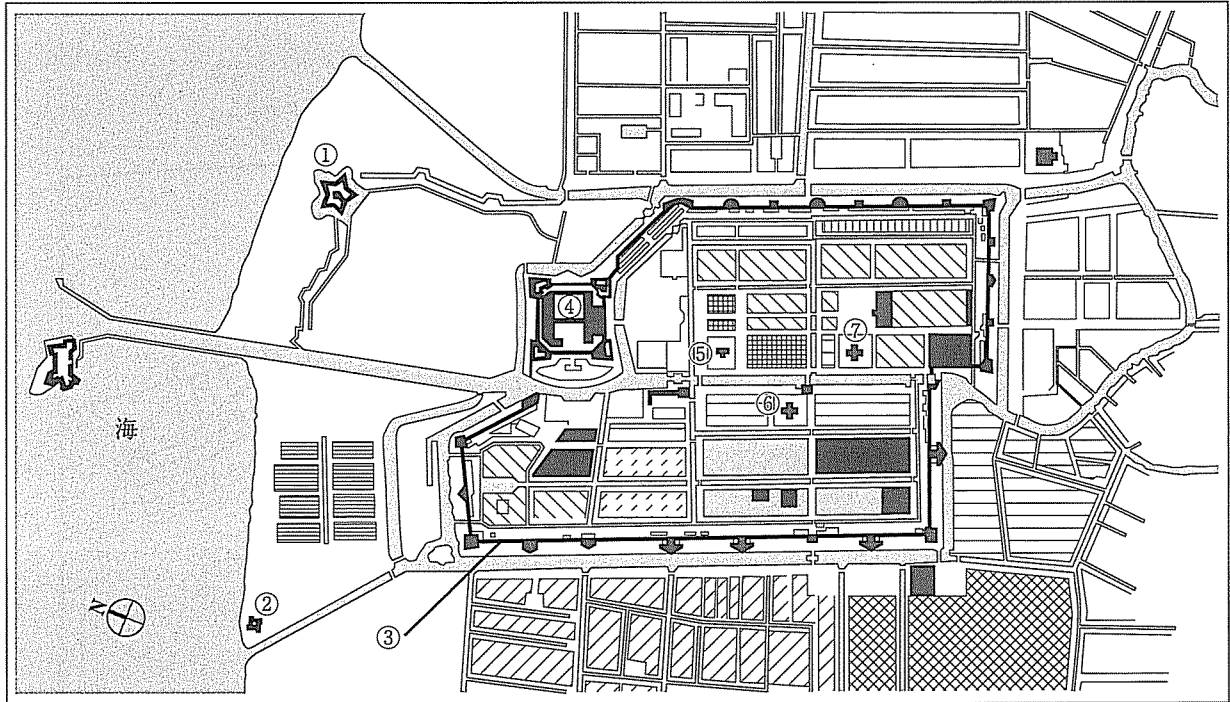


- | | | |
|--------------|------------|----------|
| ① 植物園 | ④ 外国人居住地 | ⑦ 外国人居住地 |
| ② 旧ヨーロッパ人居住地 | ⑤ イギリス領事館 | |
| ③ 旧中国人居住地 | ⑥ カトリック教会堂 | |

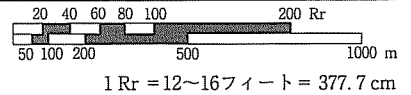
[都市β]

17世紀初頭に **a** の東インド会社が商館を建て、アジア進出の拠点とした。オスマン帝国のムスリム商人や他のヨーロッパ諸国と競争して香辛料貿易の独占をめざした東インド会社は、この都市のある島や周辺に領域支配を拡大した。18世紀末の会社解散後は、**a** がここに植民地政庁を置いて直轄領とし、1830年からこの島の村落にコーヒー、サトウキビ、藍などの作物栽培を割り当て、安い価格で買い上げる制度を導入した。

[都市βの市街地図] 1770年



- ① ステレス要塞 ③ 城壁 ⑤ ルター教会 ⑦ 改革派教会
- ② ディーレン要塞 ④ 総督府 ⑥ ポルトガル教会

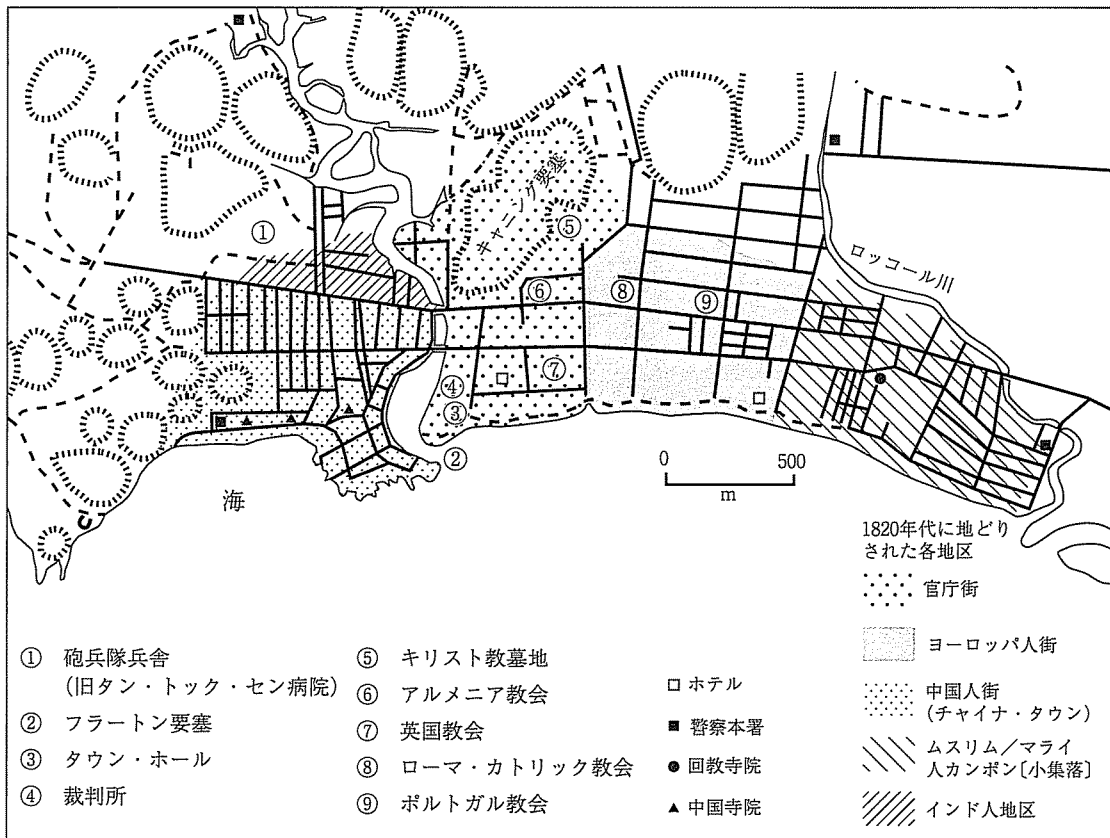


- | | | | |
|-----------------|--------------------|--------------------|---------------|
| ヨーロッパ人居住地区 | マルダイケル (黒人奴隷) 居住地区 | ブギス人居住地区 | ムーア人・マレー人居住地区 |
| 中国人居住地区 | ヨーロッパ人・インド人 居住地区 | マラバール人居住地区 (職人居住区) | カンボン・ルアール・バタン |
| ヨーロッパ人・中国人 居住地区 | ムーア人居住地区 | | |

[都市 γ]

1810年代に [都市 β] の島の **b** による一時占領に関わった植民地行政官が、1819年にここを地域のスルタンに自由港として開港させ、**b** の貿易と入植の拠点として都市建設をはじめた。アジア各地からの移民も流入し、インド洋交易と極東交易の接点として急速に発展を遂げ、1867年には直轄植民地となった。第1次世界大戦後には海軍基地も建設され始め、軍事戦略上の拠点ともなった。

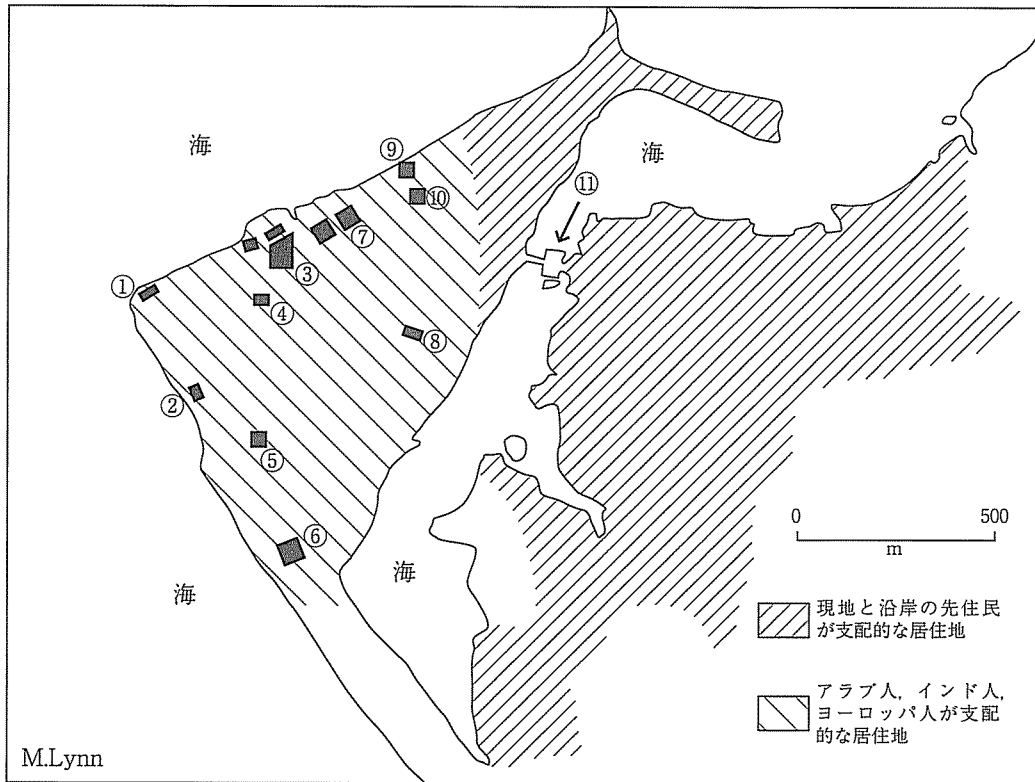
[都市 γ の市街地図] 1862年



[都市δ]

ポルトガル支配ののち、19世紀に入ってスルタンの支配領域の中核都市として台頭し、沿岸部に対する覇権の拠点となった。奴隷貿易、象牙貿易の発展とアラブ人がこの島で所有する丁子のプランテーションの成長により、沿岸域、インド洋交易の主要な中継港となった。1820年代から奴隷貿易の禁圧を口実に **b** が支配に乗り出し、1890年に保護領化を宣言した頃には、土着住民に加えて少数のヨーロッパ人、奴隷や商人などからなる多民族都市となっていた。1890年代以降は対岸沿岸部の都市の成長と鉄道建設によって中継港としての役割を終えた。

[都市δの市街地図] 1890年頃



- | | | |
|--------------|------------|-----------|
| ① イギリス領事館 | ⑤ アメリカ領事館 | ⑨ イタリア領事館 |
| ② ドイツ領事館 | ⑥ 兵舎 | ⑩ フランス領事館 |
| ③ オールド・アラブ要塞 | ⑦ スルタンの公邸 | ⑪ ダラジャニ橋 |
| ④ カトリック聖堂 | ⑧ 大学生伝道団聖堂 | |

A 下記の問い1～4に対する最も適切な答えをイ～ニから一つ選び、マーク解答用紙にマークせよ。

1. 空欄 a と b に入る国名の組み合わせとして正しいものはどれか。

- イ a イギリス b フランス □ a ドイツ b イギリス
ハ a オランダ b イギリス ニ a フランス b オランダ

2. 都市 a～δ の共通点の記述として、正しいものはどれか。

- イ いずれの都市でもヨーロッパ人が住民の反乱を防ぐために要塞を建設し、傭兵を置いていた。
□ いずれの都市にも民族別の居住区があり、出入りは統制され、民族間の交流は厳しく禁じられていた。
ハ いずれの都市にもアジア人の外来商人が住み、海外とのネットワークを活かして商品取引の仲介を行っていた。
ニ いずれの都市にも川や運河を利用した内陸水運が発達し、後背地の開発も水運を利用して進んだ。

3. 都市 β～δ には、いずれも主に都市 a の周辺地域出身の女性が19世紀末に居住していた。その共通で最大の理由はどれか。

- イ 都市 a に来航したヨーロッパ人やアジア人商人と結婚して渡航、居住した。
□ 海外知識を深め、学問を修めるために留学生として渡航、居住した。
ハ 出身社会での女性差別を脱し、自立して生計を立てるために渡航、居住した。
ニ 家計の貧しさゆえに、出稼ぎのためや人身取引の対象として渡航、居住した。

4. 都市 a～δ の中や周辺には、ヨーロッパ人によって植物園が造られた。これらの植物園についての説明として誤っているものはどれか。

- イ ヨーロッパ人の海外進出に伴い、医師、博物学者らが派遣され、各地の風物や風土病、植生などを調査するとともに、薬草や固有植物を採取して植物園で栽培・研究を行った。
□ 現地住民は、ヨーロッパ人による収奪や移植から土着固有の植物を守り絶滅を防ぐために、植物園建設への反対運動を組織したが、阻止できなかった。
ハ 植物園では多様な条件下での育成実験が行われ、有用植物の苗は条件の合う他の植民地に移植され、一部はプランテーション作物として植民地経営を支えた。
ニ これらの植物園は現在も植物園またはその遺構として維持され、多くの観光客を集めるとともに、一部は生物多様性の維持に貢献している。

B 下記の問い1～2について、適切な答えを記述解答用紙に記せ。

1. 都市 a～δ を、地図が描かれた当時の名称で記せ。
2. 都市 a～δ のうち、第二次世界大戦中に日本軍の占領を受けたものを記号で記せ。

IV

以下の文章を読み、下記 A、B に答えよ。

1929年10月にニューヨーク株式取引所で株価が大暴落したことに端を発する大恐慌は、世界に大きな影響を与え、その後の世界各地の政治経済体制を大きく変えていく要因となった。

恐慌の影響を最も強く受けたのは、ドイツである。ドイツは第一次世界大戦によって多額の賠償金や戦債を抱え込み、その支払いにおいてアメリカ資本に依存していたため、アメリカ合衆国で恐慌が起きると、ドイツ経済もたちまち危機に陥った。1931年には、ドイツの賠償と対米戦債の支払いを1年間停止する措置が実施されたが、状況は改善しなかった。結局、選挙を通じて政権を奪取したヒトラーが独裁体制を導入し、賠償金支払いを拒否し、併合や侵略によるドイツ支配地域の拡大を進めた。ドイツは、1929年を基準とした場合の工業生産の落ち込みが主要国で最も大きかったが、ヒトラー政権の成立後は急速に工業生産を回復させていった。

日本も世界恐慌の直撃を受けて不況が深刻化し、政党政治の行き詰まりに対する国民の不満が高まる中で、軍部の政治への関与が強まっていった。1931年には現在の中国の東北部の重要都市 c の郊外の d で鉄道を爆破し、それが中国軍の仕業であるという口実で軍部が軍事行動を起こし、東北地方を占領した（満州事変）。1932年には

e 首相が軍人に暗殺される事態も起き、政党内閣の時代が終焉を迎えた。その後、ドイツと同様、日本も対外侵略を進めていき、アメリカ合衆国やイギリスとの戦争に突入した。日本は、1931年まで工業生産が落ち込んだが、その後は、工業生産が上昇に転じた。

これに対し、広大な植民地を持つイギリスやフランスは、自国の貿易と経済を保護するための政策として、植民地を含む経済圏内では共通の通貨を用い g を廃して自国の輸出を増やし、経済圏外に対しては高い g を設定することで自由貿易を阻む h 経済体制を構築した。しかし、こうした動きにより経済圏の間の競合関係が強まり、国際貿易はさらに縮小し、国際対立は激化することとなった。

スウェーデンなどの北欧諸国も世界恐慌の影響で経済的な困難に直面し、とりわけ農民が深刻な苦境に陥った。しかし、社会民主党や労働党などの左派政権のもとで農民への援助政策などが行われ、政治・経済が安定した。この後北欧諸国では、社会保障の充実や所得分配の平等化などが進められ、i 国家の体制が構築されていった。

世界危機の震源となったアメリカ合衆国では、1933年に就任した大統領が、それまでアメリカ合衆国において支配的であった考え方とは全く異なる経済政策を実施していった。これによりアメリカ合衆国の経済は回復しはじめ、第二次世界大戦を経て、経済危機から脱却していった。このような経済政策の考え方は、イギリスの経済学者によって理論化され、第二次世界大戦後には多くの資本主義諸国の経済政策の理論的根拠となった。

世界恐慌に端を発する諸国間の対立の激化への反省は、第二次世界大戦後の国際政治経済体制の基礎となった。連合国は、まだ戦争が終結していない1944年にブレトン＝ウッズで国際会議を開催し、戦後の国際金融・経済体制を構想した。第二次世界大戦後は、この構想に基づいてアメリカ合衆国を中心とする国際金融・経済体制が構築されたのである。

A 下記の問い1～5について、最も適切な答えをイ～ニから一つ選び、マーク解答用紙にマークせよ。

1 下線部 b に関する出来事①～④を古い方から年代順に並べた場合、正しいものはどれか。

- ①ドイツがデンマーク・ノルウェーに侵攻した。
- ②ドイツとソ連がポーランドを分割・占領した。
- ③連合軍がダンケルクから撤退し、ドイツがパリを占領した。
- ④ドイツがユーゴスラヴィアに侵攻し、全土を制圧した。

イ ①→②→③→④ 口 ②→①→③→④

ハ ①→②→④→③ ニ ②→①→④→③

2 下線部 f に関する記述として、正しいものはどれか。

- イ 1937年7月7日の盧溝橋事件を契機に日中の中で軍事衝突が始まり、双方の宣戦布告のないまま日中戦争が開始された。
- 口 日本軍は1939年に満州国とモンゴル人民共和国の国境付近で中国・モンゴル連合軍と戦い、敗北を喫した。
- ハ 1941年4月に日ソ中立条約を締結して北方の安全を確保すると、日本は南進政策を進め、仏領インドシナの北部への進駐を開始した。
- ニ 1945年にドイツが無条件降伏すると、米英ソの首脳がヤルタで会談を行い、ドイツ・東欧の戦後処理とソ連の対日参戦を決定した。

3 下線部 k の経済学者が著した著作の題名はどれか。

- イ 諸国民の富
- 口 経済学および課税の原理
- ハ 貨幣発行自由化論
- ニ 雇用・利子および貨幣の一般理論

4 下線部 I に関する記述として、誤りを含むものはどれか。

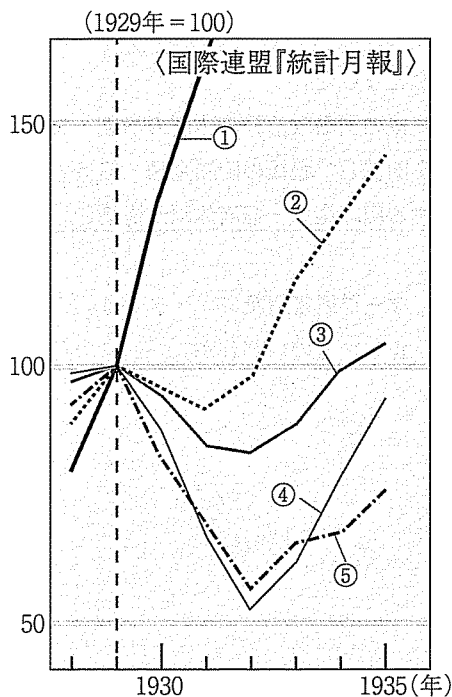
イ 金との交換を保証されたアメリカ合衆国の通貨ドルが国際的な基軸通貨となり、各国の通貨の交換比率を固定することで、輸出促進のための通貨切り下げ競争を防ぐことが目指された。

ロ ソ連は1944年のブレトン＝ウッズ会議に参加し、協定への調印も行なったが、結局批准は行わず、東欧諸国を含む経済相互援助会議を創設して、独自の国際経済金融体制の構築を目指した。

ハ ブレトン＝ウッズ体制を支えるため、通貨の安定に必要な資金を供給するための機関として国際通貨基金（IMF）が、戦後の復興と開発を目的とする資金供与を行う機関として国際復興開発銀行（IBRD）が設立された。

ニ ブレトン＝ウッズ体制は、1980年代末に新たな国際経済金融体制としてワシントン・コンセンサスが確立されるまで継続し、西側諸国の復興と経済発展を支え、冷戦の終焉に貢献した。

5 以下の図は、1929年を100とした時の主要国の工業生産の推移を示すものである。図中の①～⑤と国名の組み合わせとして、正しいものはどれか。



- | | | | | | |
|---|-----------|--------|--------|-----------|-----------|
| イ | ①－アメリカ合衆国 | ②－日本 | ③－イギリス | ④－ドイツ | ⑤－ソ連 |
| ロ | ①－ソ連 | ②－イギリス | ③－日本 | ④－アメリカ合衆国 | ⑤－ドイツ |
| ハ | ①－アメリカ合衆国 | ②－ソ連 | ③－日本 | ④－イギリス | ⑤－ドイツ |
| ニ | ①－ソ連 | ②－日本 | ③－イギリス | ④－ドイツ | ⑤－アメリカ合衆国 |

B 下記の問い1～7について、最も適切な答えを記述解答用紙に記せ。

- 下線部 a の措置の通称を、カタカナで記せ。
- 空欄 c, d にあてはまる地名をそれぞれ漢字で記せ。
- 空欄 e にあてはまる人名を漢字で記せ。
- 空欄 g にあてはまる語句を漢字で記せ。
- 空欄 h にあてはまる語句をカタカナで記せ。
- 空欄 i にあてはまる語句を漢字2字で記せ。
- 下線部 j に関連して、この大統領の実施した経済政策は、具体的にどのような内容のものであり、それまでアメリカ合衆国において支配的であった考え方とどのように異なるものであったのかを、160字以内で記せ。大統領の名前を解答に含めること。句読点も1字と数える。

[以 下 余 白]

