

入学試験問題

理科



(配点 120 点)

令和 2 年 2 月 26 日 9 時 30 分—12 時

注 意 事 項

- 1 試験開始の合図があるまで、この問題冊子を開いてはいけません。
- 2 この問題冊子は全部で 89 ページあります(本文は物理 4～27 ページ, 化学 28～45 ページ, 生物 46～69 ページ, 地学 70～89 ページ)。落丁, 乱丁または印刷不鮮明の箇所があったら, 手を挙げて監督者に知らせなさい。
- 3 解答には, 必ず黒色鉛筆(または黒色シャープペンシル)を使用しなさい。
- 4 解答は, 1 科目につき 1 枚の解答用紙を使用しなさい。
- 5 物理, 化学, 生物, 地学のうちから, あらかじめ届け出た 2 科目について解答しなさい。
- 6 解答用紙の指定欄に, 受験番号(表面 2 箇所, 裏面 1 箇所), 科類, 氏名を記入しなさい。指定欄以外にこれらを記入してはいけません。
- 7 解答は, 必ず解答用紙の指定された箇所に記入しなさい。
- 8 解答用紙表面上方の指定された()内に, その用紙で解答する科目名を記入しなさい。
- 9 解答用紙表面の上部にある切り取り欄のうち, その用紙で解答する科目の分のみ 1 箇所をミシン目に沿って正しく切り取りなさい。
- 10 解答用紙の解答欄に, 関係のない文字, 記号, 符号などを記入してはいけません。また, 解答用紙の欄外の余白には, 何も書いてはいけません。
- 11 この問題冊子の余白は, 草稿用に使用してもよいが, どのページも切り離してはいけません。
- 12 解答用紙は, 持ち帰ってはいけません。
- 13 試験終了後, 問題冊子は持ち帰りなさい。



新聞雜誌

新報

中華民國二十九年

第...號

第...期

本報自創刊以來，承蒙各界人士之厚愛，業務日見發達。茲為適應社會之需要，特將本報之內容加以擴充，並增加新欄，以期提供更豐富之資訊。本報之宗旨，在於報導事實，傳播真理，服務社會。凡我同胞，如有任何建議或投訴，請隨時與本報編輯部聯繫。本報將竭誠為您服務，不勝感荷。

本報之內容，均經嚴格審核，確保真實可靠。凡有虛假消息，本報定將予以嚴懲。本報之廣告，亦將力求精美，效果顯著。凡有廣告主，請洽本報廣告部。本報之訂閱，亦極其便利，歡迎各界人士踴躍參加。本報之地址，位於...，電話...，特此公告。

本報之發行，每日早晨...，每份...。本報之零售，每份...。本報之廣告，每行...。本報之訂閱，每月...。本報之地址，位於...，電話...。本報之發行，每日早晨...，每份...。本報之零售，每份...。本報之廣告，每行...。本報之訂閱，每月...。本報之地址，位於...，電話...。本報之發行，每日早晨...，每份...。本報之零售，每份...。本報之廣告，每行...。本報之訂閱，每月...。本報之地址，位於...，電話...。

計 算 用 紙

(切り離さないで用いよ。)

二つの平面の交線の方程式を求めよ。また、この交線が直線に平行であるとき、その直線の方程式を求めよ。

二つの平面の法線ベクトルを求めよ。また、この二つの平面が平行であるとき、その法線ベクトルの方程式を求めよ。

$$(A_1, B_1, C_1) = \vec{n}_1, (A_2, B_2, C_2) = \vec{n}_2, (A_3, B_3, C_3) = \vec{n}_3, (x, y, z) = \vec{r}$$

二つの平面の交線の方程式を求めよ。また、この交線が直線に平行であるとき、その直線の方程式を求めよ。

二つの平面の交線の方程式を求めよ。また、この交線が直線に平行であるとき、その直線の方程式を求めよ。

二つの平面の交線の方程式を求めよ。また、この交線が直線に平行であるとき、その直線の方程式を求めよ。

$$(x, y, z) = \vec{r}, (x, y, z) = \vec{r}$$

二つの平面の交線の方程式を求めよ。また、この交線が直線に平行であるとき、その直線の方程式を求めよ。

$$(x, y, z) = \vec{r}, (x, y, z) = \vec{r}$$

二つの平面の交線の方程式を求めよ。また、この交線が直線に平行であるとき、その直線の方程式を求めよ。

$$(x, y, z) = \vec{r}, (x, y, z) = \vec{r}$$

$$(x, y, z) = \vec{r}, (x, y, z) = \vec{r}$$

二つの平面の交線の方程式を求めよ。また、この交線が直線に平行であるとき、その直線の方程式を求めよ。

①

$$(x, y, z) = \vec{r}, (x, y, z) = \vec{r}$$

二つの平面の交線の方程式を求めよ。また、この交線が直線に平行であるとき、その直線の方程式を求めよ。

二つの平面の交線の方程式を求めよ。また、この交線が直線に平行であるとき、その直線の方程式を求めよ。

二つの平面の交線の方程式を求めよ。また、この交線が直線に平行であるとき、その直線の方程式を求めよ。

二つの平面の交線の方程式を求めよ。また、この交線が直線に平行であるとき、その直線の方程式を求めよ。

物 理

第1問 xy 平面内で運動する質量 m の小球を考える。小球の各時刻における位置、速度、加速度、および小球にはたらく力のベクトルをそれぞれ

$$\vec{r} = (x, y), \quad \vec{v} = (v_x, v_y), \quad \vec{a} = (a_x, a_y), \quad \vec{F} = (F_x, F_y)$$

とする。また小球の各時刻における原点 O からの距離を $r = \sqrt{x^2 + y^2}$ 、速度の大きさを $v = \sqrt{v_x^2 + v_y^2}$ とする。以下の設問に答えよ。なお小球の大きさは無視できるものとする。

- I (1) 以下の文中の ア から カ に当てはまるものを v_x, v_y, a_x, a_y から選べ。

各時刻において原点 O と小球を結ぶ線分が描く面積速度は

$$A_v = \frac{1}{2}(xv_y - yv_x)$$

で与えられる。ある時刻における位置および速度ベクトルが

$$\vec{r} = (x, y), \quad \vec{v} = (v_x, v_y)$$

であったとき、それらは微小時間 Δt たった後にそれぞれ

$$\begin{aligned} \vec{r}' &= (x + \text{ア} \Delta t, y + \text{イ} \Delta t), \\ \vec{v}' &= (v_x + \text{ウ} \Delta t, v_y + \text{エ} \Delta t) \end{aligned}$$

に変化する。このことを用いると、微小時間 Δt における面積速度の変化分は

$$\Delta A_v = \frac{1}{2}(x \text{オ} - y \text{カ}) \Delta t$$

で与えられる。なお $(\Delta t)^2$ に比例した面積速度の変化分は無視する。

- (2) 設問 I (1) の結果を用いて、面積速度が時間変化しないためには力 \vec{F} の成分 F_x, F_y がどのような条件を満たせばよいか答えよ。ただし小球は原点 O から離れた点にあり、力は零ベクトルではないとする。

- (3) 設問 I (2) の力 \vec{F} を受けながら、小球が図 1—1 の半径 r_0 の円周上を点 A から点 B を通って点 C まで運動したとする。このとき、力 \vec{F} が点 A から点 B までに小球に行う仕事と点 A から点 C までに小球に行う仕事の大小関係を、理由を含めて答えよ。

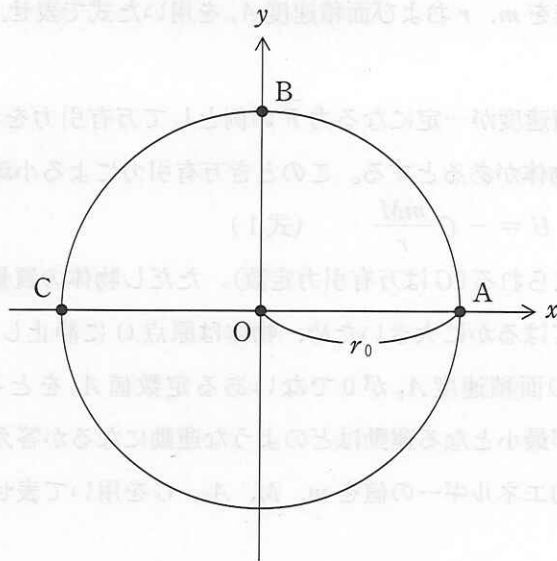


図 1—1

II (1) 小球の原点 O からの距離 r の時間変化率は

$$v_r = \frac{xv_x + yv_y}{r}$$

で与えられる。これを動径方向速度とよぶ。このとき、小球の運動エネルギーと

$$K_r = \frac{1}{2} mv_r^2$$

との差を m , r および面積速度 A_v を用いた式で表せ。

(2) 面積速度が一定になる力 \vec{F} の例として万有引力を考える。原点 O に質量 M の物体があるとする。このとき万有引力による小球の位置エネルギーは

$$U = -G \frac{mM}{r} \quad (\text{式1})$$

で与えられる (G は万有引力定数)。ただし物体の質量 M は小球の質量 m と比べてはるかに大きいため、物体は原点 O に静止していると考えてよい。

小球の面積速度 A_v が 0 でないある定数値 A_0 をとるとき、力学的エネルギーが最小となる運動はどのような運動になるか答えよ。また、そのときの力学的エネルギーの値を m , M , A_0 , G を用いて表せ。

(切り離さないで用いよ。)

...

...

...

...

Ⅲ ボーアの原子模型では電子の円軌道の円周 $2\pi r$ とド・ブROI波長 λ の間に量子条件

$$2\pi r = n\lambda \quad (n = 1, 2, 3, \dots)$$

が成り立つ。以下で考える小球の円運動に対しても同じ量子条件が成り立つと仮定する。

(1) 設問Ⅱ(2)の(式1)に対応する万有引力がはたらく小球の円運動を考える。各 n について、量子条件を満たす円軌道の半径 r_n を n , h , m , M , G を用いた式で表せ。ただし小球のド・ブROI波長 λ は、小球の速度の大きさ v を用いて $\lambda = \frac{h}{mv}$ で与えられる (h はプランク定数)。

(2) 宇宙には暗黒物質という物質が存在し、銀河の暗黒物質は銀河中心からおよそ $R = 10^{22}$ m の半径内に集まっていると考えられている。暗黒物質が未知の粒子によって構成されていると仮定し、設問Ⅲ(1)の結果を用いてその粒子の質量に下限を与えてみよう。暗黒物質の構成粒子を、(式1)に対応する万有引力を受けながら円運動する小球として近似する。設問Ⅲ(1)で考えたボーアの量子条件を満たす小球の軌道半径のうち $n = 1$ としたものが $R = 10^{22}$ m と等しいとしたときの小球の質量を求めよ。

なお銀河の全質量は銀河中心に集まっていて動かないと近似し、その値を $M \doteq 10^{42}$ kg とする。また、 $G \doteq 10^{-10}$ m³/(kg・s²)、 $\frac{h}{2\pi} \doteq 10^{-34}$ m²・kg/s と近似してよい。この設問で求めた質量が暗黒物質を構成する1粒子の質量のおおまかな下限となる。

計 算 用 紙

(切り離さないで用いよ。)

計 算 用 紙

(切り離さないで用いよ。)

計算用紙

問 8 表

品質、コスト、サービスの改善の観点から、本サービスの品質向上を図るため、サービス提供の現場に「サービス品質向上委員会」を設置し、その活動の推進を図る。この委員会では、サービスの品質向上を図るための活動として、サービスの現場に「サービス品質向上委員会」を設置し、その活動の推進を図る。この委員会では、サービスの品質向上を図るための活動として、サービスの現場に「サービス品質向上委員会」を設置し、その活動の推進を図る。

サービスの品質向上を図るための活動として、サービスの現場に「サービス品質向上委員会」を設置し、その活動の推進を図る。この委員会では、サービスの品質向上を図るための活動として、サービスの現場に「サービス品質向上委員会」を設置し、その活動の推進を図る。

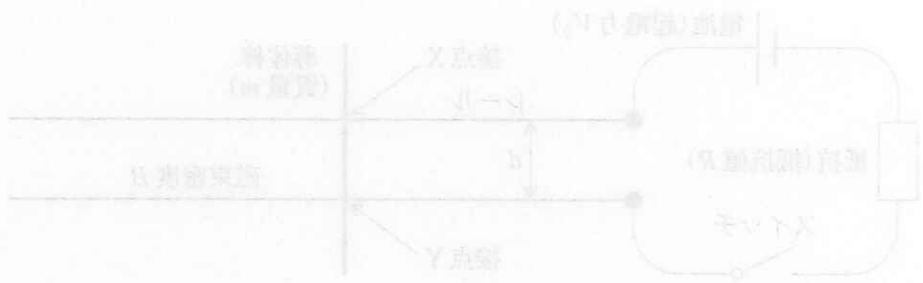


図 1 (サービス品質向上)

サービス品質向上の観点から、サービスの現場に「サービス品質向上委員会」を設置し、その活動の推進を図る。この委員会では、サービスの品質向上を図るための活動として、サービスの現場に「サービス品質向上委員会」を設置し、その活動の推進を図る。

サービスの品質向上を図るための活動として、サービスの現場に「サービス品質向上委員会」を設置し、その活動の推進を図る。この委員会では、サービスの品質向上を図るための活動として、サービスの現場に「サービス品質向上委員会」を設置し、その活動の推進を図る。

サービスの品質向上を図るための活動として、サービスの現場に「サービス品質向上委員会」を設置し、その活動の推進を図る。この委員会では、サービスの品質向上を図るための活動として、サービスの現場に「サービス品質向上委員会」を設置し、その活動の推進を図る。

第2問

I 図2-1のように、水平面上に置かれた2本の長い導体のレール上に、質量 m の導体棒が垂直に渡してある。磁束密度の大きさ B の一様な磁場が全空間で鉛直方向(紙面に垂直方向)にかけられている。導体棒とレールの接点を X , Y と呼ぶ。また、導体棒はレール方向にのみ動けるものとし、摩擦や空気抵抗、導体棒の両端に発生する誘導電荷、および回路を流れる電流が作る磁場の影響は無視できるものとする。

図2-1のように、間隔 d の平行なレールの端に電池(起電力 V_0)、抵抗(抵抗値 R)、スイッチを取り付け、導体棒を静止させる。スイッチを閉じた後の様子について、以下の設問(1)~(5)に答えよ。

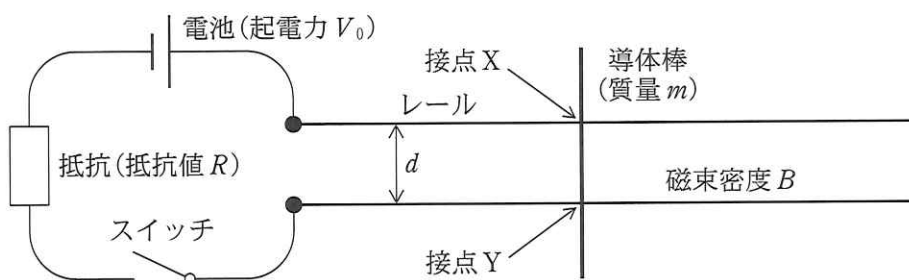


図2-1 (上から見た図)

- (1) 以下の文中の ~ の空欄を埋めよ。ただし , , には式を記入し, , にはそのあとの括弧内から適切な語句を選択せよ。

スイッチを閉じると、回路に電流が流れ、導体棒は右向きに動きはじめた。ある瞬間の電流を I とすると、導体棒には大きさ の力が働き加速されるからである。このことから磁場の向きは、鉛直 (上, 下) 向きであることがわかる。導体棒が動くと、接点 X , Y 間には (X , Y) 側を正とする誘導起電力 V が発生し、導体棒を流れる電流は小さくなる。電池の起電力 V_0 と誘導起電力 V の間に の関係が成り立つと、電流は流れなくなり、導体棒の速さは一定になる。この一定の速さを以下では「到達速さ」と表記する。この場合の到達速さは で与えられる。

(2) 導体棒に電流 I が流れているとき、微小時間 Δt の間に、導体棒の速さや接点 X, Y 間の起電力はどれだけ変化するか。速さの変化量 Δs , 起電力の変化量 ΔV を, $B, d, I, m, R, \Delta t, V_0$ のうち必要なものを使ってそれぞれ求めよ。

(3) スイッチを閉じてから導体棒が到達速さにいたるまでの間に、導体棒を流れる電気量を, B, d, m, R, V_0 のうち必要なものを使って求めよ。

(4) 設問(2), (3)より、導体棒に流れる電流や電気量と接点 X, Y 間に発生する起電力との関係が、コンデンサーを充電する際の電流や電気量と電圧の関係と類似していることがわかる。スイッチを閉じてから導体棒が到達速さにいたるまでの間に、接点 X, Y 間の起電力に逆らって電荷を運ぶのに要する仕事はいくらか。設問(1)で求めた到達速さを s_0 として, B, d, m, R, s_0 のうち必要なものを使って求めよ。

(5) 設問(3)で求めた電気量を Q とすると、スイッチを閉じてから導体棒が到達速さにいたるまでに電池がした仕事は QV_0 で与えられる。この電池がした仕事は、どのようなエネルギーに変わったか、その種類と量をすべて答えよ。

II 設問 I の設定のもとで、導体棒が間隔 d の平行なレール上を到達速さで右に移動している状態から、図 2—2 のように、導体棒は間隔 $2d$ の平行なレール上に移動した。以下の文中の ~ の空欄を埋めよ。

この間スイッチは閉じたままであった場合を考える。このとき、間隔 $2d$ のレール上での到達速さは、間隔 d のレール上での到達速さに比べ、 倍になる。また、それぞれの到達速さで移動しているときの接点 X, Y 間の起電力は、レール間隔が 2 倍になるのにもない、 倍になる。

次に、導体棒が間隔 d のレール上を到達速さで移動しているときにスイッチを切り、その後スイッチを切ったままの状態、導体棒が間隔 $2d$ のレール上に移動した場合を考える。このときは、レール間隔が 2 倍になるのにもない、速さは 倍になり、接点 X, Y 間の起電力は 倍になる。

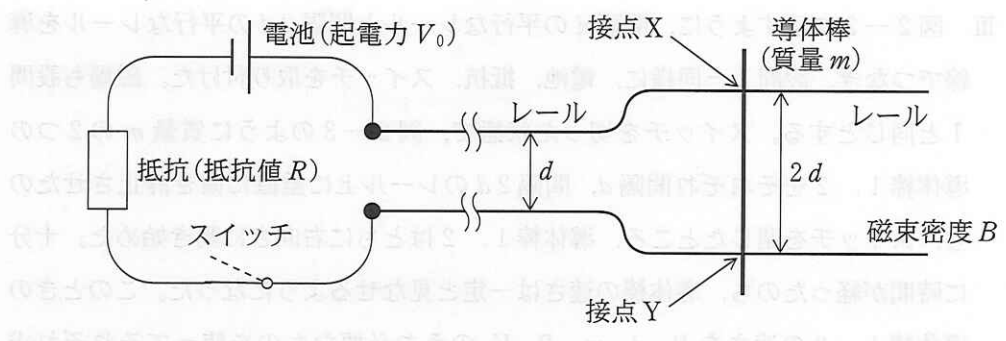


図 2—2

Ⅲ 図 2—3 に示すように、間隔 d の平行なレールと間隔 $2d$ の平行なレールを導線でつなぎ、設問 I と同様に、電池、抵抗、スイッチを取り付けた。磁場も設問 I と同じとする。スイッチを切った状態で、図 2—3 のように質量 m の 2 つの導体棒 1, 2 をそれぞれ間隔 d , 間隔 $2d$ のレール上に垂直に置き静止させたのち、スイッチを閉じたところ、導体棒 1, 2 はともに右向きに動き始めた。十分に時間が経ったのち、導体棒の速さは一定と見なせるようになった。このときの導体棒 1, 2 の速さを B, d, m, R, V_0 のうち必要なものを使ってそれぞれ求めよ。

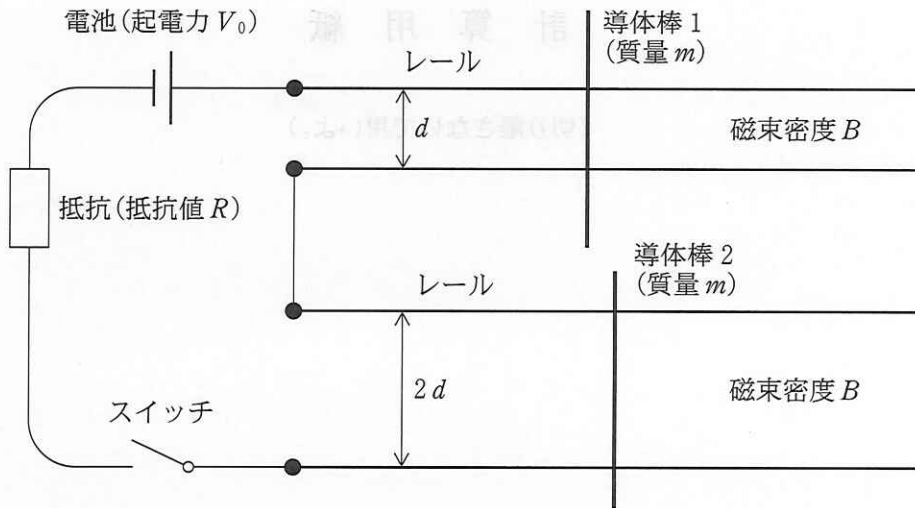


図 2—3

計 算 用 紙

(切り離さないで用いよ。)

計算用紙

3問 図3-1に示すように、容器Xは容器Yを内包し、容器Yは容器Zを内包し、容器Zは容器Wを内包している。容器X、Y、Z、Wの内部の圧力はそれぞれ p_X 、 p_Y 、 p_Z 、 p_W とし、容器X、Y、Z、Wの内部の体積はそれぞれ V_X 、 V_Y 、 V_Z 、 V_W とする。容器X、Y、Z、Wの内部の温度はそれぞれ T_X 、 T_Y 、 T_Z 、 T_W とする。容器X、Y、Z、Wの内部の圧力と体積の関係はそれぞれ $p_X V_X = n_X R T_X$ 、 $p_Y V_Y = n_Y R T_Y$ 、 $p_Z V_Z = n_Z R T_Z$ 、 $p_W V_W = n_W R T_W$ とする。容器X、Y、Z、Wの内部の圧力と体積の関係はそれぞれ $p_X V_X = n_X R T_X$ 、 $p_Y V_Y = n_Y R T_Y$ 、 $p_Z V_Z = n_Z R T_Z$ 、 $p_W V_W = n_W R T_W$ とする。

(1) p_X 、 p_Y 、 p_Z 、 p_W の関係を求めよ。ただし、容器X、Y、Z、Wの内部の圧力はそれぞれ p_X 、 p_Y 、 p_Z 、 p_W とし、容器X、Y、Z、Wの内部の体積はそれぞれ V_X 、 V_Y 、 V_Z 、 V_W とする。容器X、Y、Z、Wの内部の温度はそれぞれ T_X 、 T_Y 、 T_Z 、 T_W とする。容器X、Y、Z、Wの内部の圧力と体積の関係はそれぞれ $p_X V_X = n_X R T_X$ 、 $p_Y V_Y = n_Y R T_Y$ 、 $p_Z V_Z = n_Z R T_Z$ 、 $p_W V_W = n_W R T_W$ とする。

(2) p_X 、 p_Y 、 p_Z 、 p_W の関係を求めよ。ただし、容器X、Y、Z、Wの内部の圧力はそれぞれ p_X 、 p_Y 、 p_Z 、 p_W とし、容器X、Y、Z、Wの内部の体積はそれぞれ V_X 、 V_Y 、 V_Z 、 V_W とする。容器X、Y、Z、Wの内部の温度はそれぞれ T_X 、 T_Y 、 T_Z 、 T_W とする。容器X、Y、Z、Wの内部の圧力と体積の関係はそれぞれ $p_X V_X = n_X R T_X$ 、 $p_Y V_Y = n_Y R T_Y$ 、 $p_Z V_Z = n_Z R T_Z$ 、 $p_W V_W = n_W R T_W$ とする。

(3) p_X 、 p_Y 、 p_Z 、 p_W の関係を求めよ。ただし、容器X、Y、Z、Wの内部の圧力はそれぞれ p_X 、 p_Y 、 p_Z 、 p_W とし、容器X、Y、Z、Wの内部の体積はそれぞれ V_X 、 V_Y 、 V_Z 、 V_W とする。容器X、Y、Z、Wの内部の温度はそれぞれ T_X 、 T_Y 、 T_Z 、 T_W とする。容器X、Y、Z、Wの内部の圧力と体積の関係はそれぞれ $p_X V_X = n_X R T_X$ 、 $p_Y V_Y = n_Y R T_Y$ 、 $p_Z V_Z = n_Z R T_Z$ 、 $p_W V_W = n_W R T_W$ とする。

(4) p_X 、 p_Y 、 p_Z 、 p_W の関係を求めよ。ただし、容器X、Y、Z、Wの内部の圧力はそれぞれ p_X 、 p_Y 、 p_Z 、 p_W とし、容器X、Y、Z、Wの内部の体積はそれぞれ V_X 、 V_Y 、 V_Z 、 V_W とする。容器X、Y、Z、Wの内部の温度はそれぞれ T_X 、 T_Y 、 T_Z 、 T_W とする。容器X、Y、Z、Wの内部の圧力と体積の関係はそれぞれ $p_X V_X = n_X R T_X$ 、 $p_Y V_Y = n_Y R T_Y$ 、 $p_Z V_Z = n_Z R T_Z$ 、 $p_W V_W = n_W R T_W$ とする。

(5) p_X 、 p_Y 、 p_Z 、 p_W の関係を求めよ。ただし、容器X、Y、Z、Wの内部の圧力はそれぞれ p_X 、 p_Y 、 p_Z 、 p_W とし、容器X、Y、Z、Wの内部の体積はそれぞれ V_X 、 V_Y 、 V_Z 、 V_W とする。容器X、Y、Z、Wの内部の温度はそれぞれ T_X 、 T_Y 、 T_Z 、 T_W とする。容器X、Y、Z、Wの内部の圧力と体積の関係はそれぞれ $p_X V_X = n_X R T_X$ 、 $p_Y V_Y = n_Y R T_Y$ 、 $p_Z V_Z = n_Z R T_Z$ 、 $p_W V_W = n_W R T_W$ とする。

第3問 図3—1に示すように、容器X、Yにそれぞれ1モルの単原子分子理想気体が入っている。容器Xの上部は滑らかに動くピストンで閉じられており、ピストンの上にはおもりが載せられている。ピストンの質量は無視できる。容器Yの体積は一定である。容器の外は真空であり、容器Xと、容器Yまたは物体Zが接触した場合にのみ熱のやりとりが行われ、外部の真空や床などとの熱のやりとりは常に無視できるものとする。容器の熱容量は無視できる。また、物体Zの温度は常に $\frac{4}{5}T_A$ に保たれているものとする。

はじめ、容器Xは容器Yと接触しており、ピストンの上には質量 a^5m ($a > 1$)のおもりが載せられている。容器X内の気体の圧力は p_A である。容器X、Y内の気体の温度はともに T_A である。このときの容器X内の気体の状態を状態Aと呼ぶことにする。続いて、図3—1に示すように、以下の操作①～④を順番に行い、容器X内の気体の状態を、 $A \rightarrow B \rightarrow C \rightarrow D \rightarrow E$ と変化させた。これらの操作において、気体の状態変化はゆっくりと起こるものとする。気体定数を R とすると、状態A～Dにおける容器X内の気体の圧力、温度、体積、内部エネルギーは表3—1のように与えられる。

操作①(A → B) 容器Xを、容器Y、物体Zのいずれとも接触しない位置に移動させた。次に、ピストン上のおもりを質量が m になるまで徐々に減らした。

操作②(B → C) 容器Xを物体Zに接触させ、容器X内の気体の温度が $\frac{4}{5}T_A$ になるまで放置した。

操作③(C → D) 容器Xを、容器Y、物体Zのいずれとも接触しない位置に移動させた。次に、ピストン上のおもりを質量が a^5m になるまで徐々に増やした。この操作後の容器X内の気体の温度を T_D とする。

操作④(D → E) 容器Xを容器Yと接触させ、容器X、Y内の気体の温度が等しくなるまで放置した。このときの温度を T_E とする。

以下の設問に答えよ。

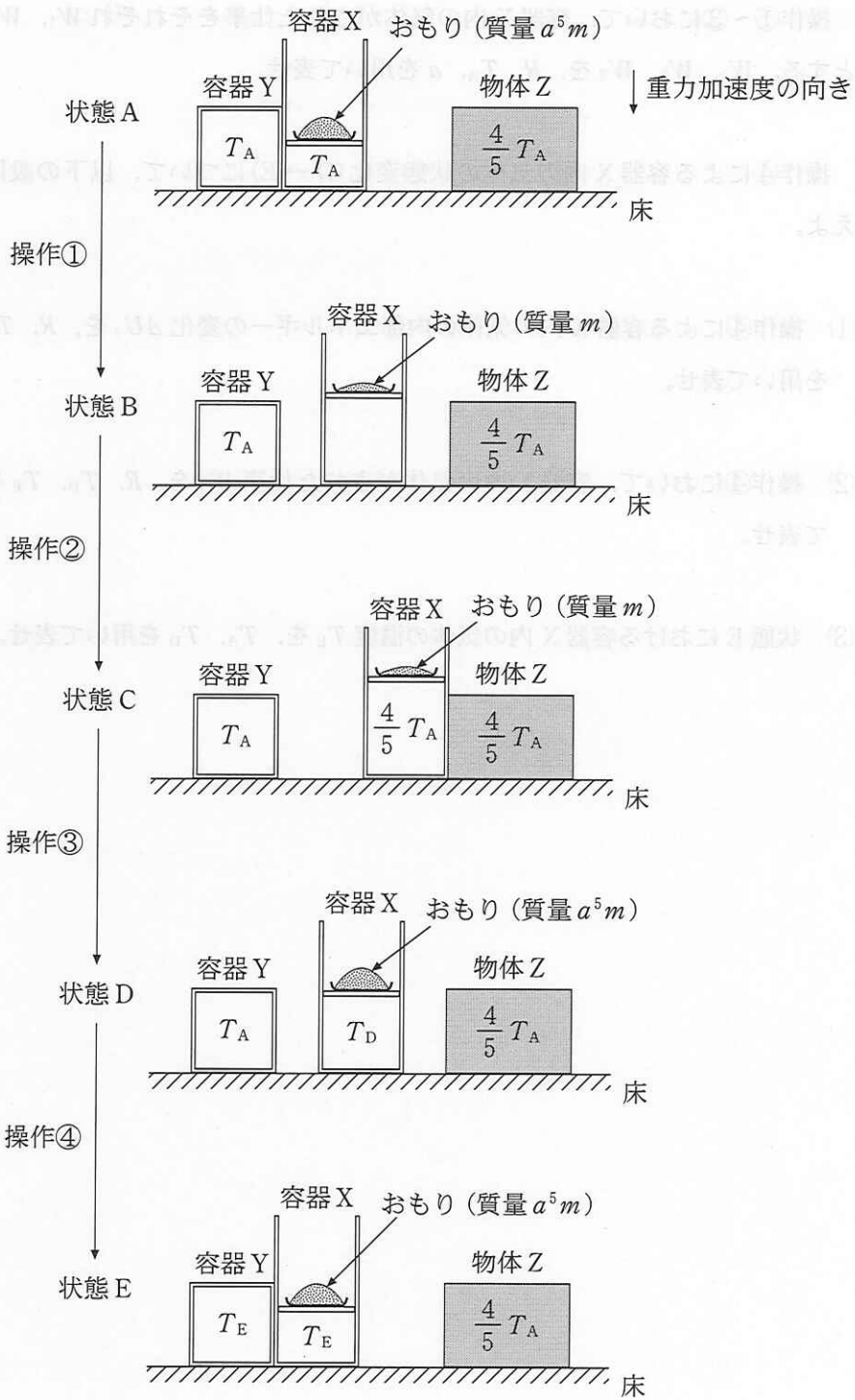


図 3-1

I 操作①～③において、容器 X 内の気体がされた仕事をそれぞれ W_1 , W_2 , W_3 とする。 W_1 , W_2 , W_3 を, R , T_A , a を用いて表せ。

II 操作④による容器 X 内の気体の状態変化 (D → E) について、以下の設問に答えよ。

(1) 操作④による容器 X 内の気体の内部エネルギーの変化 ΔU_4 を, R , T_D , T_E を用いて表せ。

(2) 操作④において、容器 X 内の気体がされた仕事 W_4 を, R , T_D , T_E を用いて表せ。

(3) 状態 E における容器 X 内の気体の温度 T_E を, T_A , T_D を用いて表せ。

表 3—1

	圧力	温 度	体 積	内部エネルギー
状態 A	p_A	T_A	$\frac{RT_A}{p_A}$	$\frac{3}{2} RT_A$
状態 B	$\frac{p_A}{a^5}$	$\frac{T_A}{a^2}$	$a^3 \frac{RT_A}{p_A}$	$\frac{3}{2} a^2 RT_A$
状態 C	$\frac{p_A}{a^5}$	$\frac{4}{5} T_A$	$\frac{4}{5} a^5 \frac{RT_A}{p_A}$	$\frac{6}{5} RT_A$
状態 D	p_A	$\frac{4}{5} a^2 T_A (= T_D)$	$\frac{4}{5} a^2 \frac{RT_A}{p_A}$	$\frac{6}{5} a^2 RT_A$

Ⅲ a の値がある条件を満たすとき、操作①～④は、容器 X 内の気体に対して仕事を行うことで、低温の物体 Z から容器 Y 内の高温の気体に熱を運ぶ操作になっている。操作④による容器 Y 内の気体の内部エネルギーの変化を ΔU_Y として、以下の設問に答えよ。

(1) 操作④によって容器 Y 内の気体の内部エネルギーが増加する ($\Delta U_Y > 0$) ととき、操作①～④における容器 X 内の気体の圧力 p と体積 V の関係を表す図として最も適切なものを、図 3—2 のア～カの中から一つ選んで答えよ。

(2) $\Delta U_Y > 0$ となるための a に関する条件を答えよ。

(3) 操作①～④の間に容器 X 内の気体がされた仕事の総和を W 、操作②において容器 X 内の気体が物体 Z から受け取る熱量を Q_2 とする。 ΔU_Y を、 W と Q_2 を用いて表せ。

(4) 状態 E からさらに引き続き、操作①～④を何度も繰り返すと、容器 Y 内の気体の温度は、ある温度 T_F に漸近する。 T_F を、 T_A と a を用いて表せ。

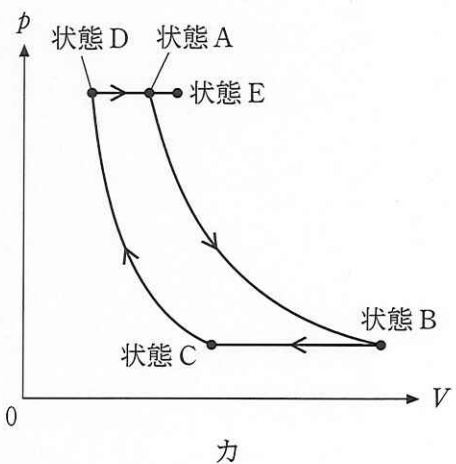
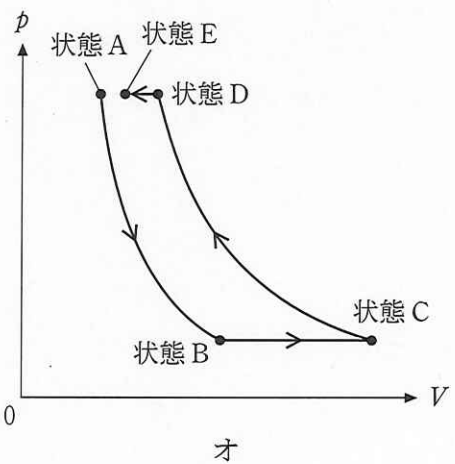
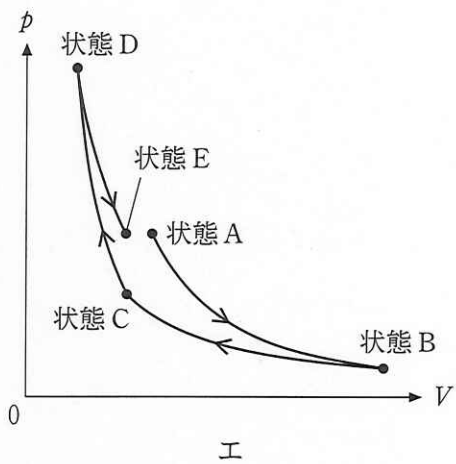
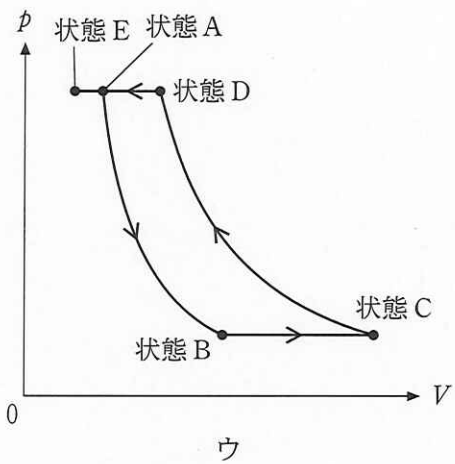
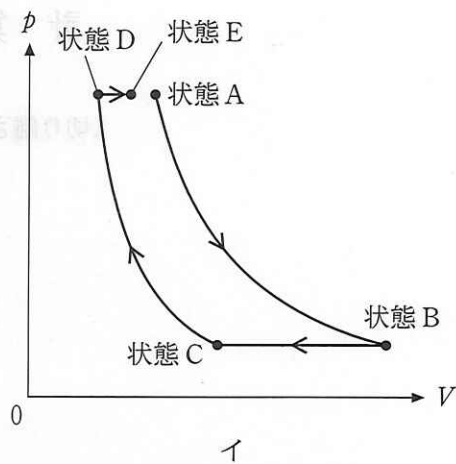
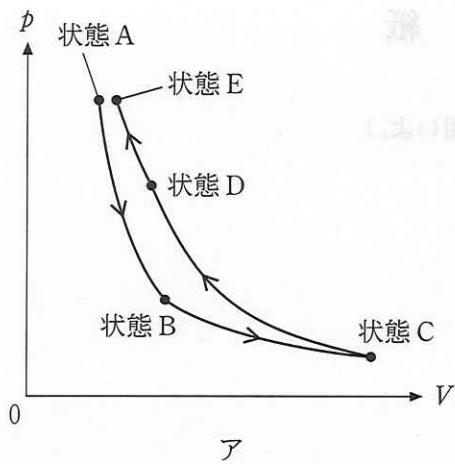


図 3—2

計 算 用 紙

(切り離さないで用いよ。)

計算用紙

(切り離さないで用いよ。)

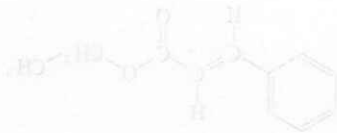
問 1 報

この問は先立計算、その積多量の不足は行はる必要な、より其の間さの、 () の水

、お示したる

I	O	C	H	換元
0.821	18.0	15.0	0.1	揮発性

(例)の五量用)



より其の間さの、 () の水

あるがその干量分の米類、米水、米類、5.00g 量干分、はA 単位換元
 半量水(0.50g)の、より換元換二の5.00g 量干分、より換元換二の5.00g 量干分、はA 単位換元
 B、より換元換二の5.00g 量干分、より換元換二の5.00g 量干分、はA 単位換元
量水のA、より換元換二の5.00g 量干分、より換元換二の5.00g 量干分、はA 単位換元
量水のA、より換元換二の5.00g 量干分、より換元換二の5.00g 量干分、はA 単位換元
 C、より換元換二の5.00g 量干分、より換元換二の5.00g 量干分、はA 単位換元
 D、より換元換二の5.00g 量干分、より換元換二の5.00g 量干分、はA 単位換元
 E、より換元換二の5.00g 量干分、より換元換二の5.00g 量干分、はA 単位換元
 F、より換元換二の5.00g 量干分、より換元換二の5.00g 量干分、はA 単位換元
 G、より換元換二の5.00g 量干分、より換元換二の5.00g 量干分、はA 単位換元
 H、より換元換二の5.00g 量干分、より換元換二の5.00g 量干分、はA 単位換元
 I、より換元換二の5.00g 量干分、より換元換二の5.00g 量干分、はA 単位換元
 J、より換元換二の5.00g 量干分、より換元換二の5.00g 量干分、はA 単位換元
 K、より換元換二の5.00g 量干分、より換元換二の5.00g 量干分、はA 単位換元
 L、より換元換二の5.00g 量干分、より換元換二の5.00g 量干分、はA 単位換元
 M、より換元換二の5.00g 量干分、より換元換二の5.00g 量干分、はA 単位換元
 N、より換元換二の5.00g 量干分、より換元換二の5.00g 量干分、はA 単位換元
 O、より換元換二の5.00g 量干分、より換元換二の5.00g 量干分、はA 単位換元
 P、より換元換二の5.00g 量干分、より換元換二の5.00g 量干分、はA 単位換元
 Q、より換元換二の5.00g 量干分、より換元換二の5.00g 量干分、はA 単位換元
 R、より換元換二の5.00g 量干分、より換元換二の5.00g 量干分、はA 単位換元
 S、より換元換二の5.00g 量干分、より換元換二の5.00g 量干分、はA 単位換元
 T、より換元換二の5.00g 量干分、より換元換二の5.00g 量干分、はA 単位換元
 U、より換元換二の5.00g 量干分、より換元換二の5.00g 量干分、はA 単位換元
 V、より換元換二の5.00g 量干分、より換元換二の5.00g 量干分、はA 単位換元
 W、より換元換二の5.00g 量干分、より換元換二の5.00g 量干分、はA 単位換元
 X、より換元換二の5.00g 量干分、より換元換二の5.00g 量干分、はA 単位換元
 Y、より換元換二の5.00g 量干分、より換元換二の5.00g 量干分、はA 単位換元
 Z、より換元換二の5.00g 量干分、より換元換二の5.00g 量干分、はA 単位換元