

(2018年度)

4 世界史問題 (60分)

(この問題冊子は23ページ、4問である。)

受験についての注意

1. 試験監督者の指示があるまで、問題冊子を開いてはならない。
2. 試験開始前に、試験監督者から指示があったら、解答用紙の右上の番号が自分の受験番号と一致することを確認し、所定の欄に氏名を記入すること。次に、解答用紙の右側のミシン目にそって、きれいに折り曲げてから、受験番号と氏名が書かれた切片を切り離し、机上に置くこと。
3. 試験監督者から試験開始の指示があったら、この問題冊子が、上に記したページ数どおりそろっていることを確かめること。
4. 筆記具は、HかFかHBの黒鉛筆またはシャープペンシルに限る。万年筆・ボールペンなどを使用してはならない。時計に組み込まれたアラーム機能、計算機能、辞書機能やスマートウォッチなどのウェアラブル端末を使用してはならない。
5. 解答は、解答用紙の各問の選択肢の中から正解と思うものを選んで、そのマーク欄をぬりつぶすこと。
6. マークをするとき、マーク欄からはみ出したり、白い部分を残したり、文字や番号、○や×をつけたりしてはならない。また、マーク箇所以外の部分には何も書いてはならない。
7. 訂正する場合は、消しゴムでていねいに消すこと。消しきずはきれいに取り除くこと。
8. 解答用紙を折り曲げたり、破ったりしてはならない。
9. 試験監督者の許可なく試験時間中に退場してはならない。
10. 解答用紙を持ち帰ってはならない。
11. 問題冊子は必ず持ち帰ること。

1 次の文章①～⑥を読んで、以下の問(1～5)に答えなさい。解答は、選択肢(a～e)の中から最も適切なものを一つ選びなさい。

- ① 1883年生まれ。この人物は、清末には東京で結成された(ア)に参加し、その機関誌で清朝打倒の健筆をふるった。中華民国成立以降は、中国国民党内において軍事的に台頭した(イ)の最大のライバルとなってその個人独裁を批判した。ところが、日中戦争期には、(ウ)から離脱し、日本との和平に期待して、日本の傀儡政権を樹立した。
(A)
- ② 1606年生まれ。この人物は、明末の農民反乱軍の指導者であり、40万の大軍を率いて北京を攻略した。このとき、(エ)は紫禁城の裏手で首をつって自殺し、これをもって明朝は滅亡したとされている。ところが、山海関で防衛にあっていた明の将軍(オ)が(カ)の軍隊と手を結んで攻めよせてくると、この人物が率いる大軍は敗北を喫した。
(B)
- ③ 1923年生まれ。この人物は、京都帝国大学で学び、米国のコーネル大学で農学博士の学位を取得した。その後、(キ)に入党し、長く「外省人」(日本の敗戦後に移住してきた漢民族)に支配されてきた台湾において初めて同地出身の総統となった。次いで、台湾の民主化を推し進め、その後、直接選挙によって選ばれた最初の総統となった。
(C)
- ④ 1923年生まれ。この人物は、中国系住民が多かった(ク)が(ケ)から分離・独立した後、(ク)の首相となり、この地を自由貿易港・工業都市国家として発展させた。
- ⑤ 1898年生まれ。この人物は、大飢饉をもたらした(コ)の失敗後、新たに国家主席に就任した。国民経済の立て直しに力を尽くしたが、(サ)では「資本主義の道を歩む者」として厳しい批判を受けて失脚した。獄中で死亡してから10年以上の歳月を経て、名誉回復が実現した。

- ⑥ 1854年生まれ。この人物は、当時民衆に広まっていた(シ)という新興宗教の指導者であり、「緑豆將軍」という愛称で知られていた。彼が農民を率いて郡庁を襲撃したことが(ス)勃発の契機となった。後に日本軍に捕らえられ、処刑された。

問1 空欄(ア～ス)に入る語句は何か。

- (ア) a 興中会 b 国民党 c 中華革命党 d 共和党
e 中国同盟会
- (イ) a 孫文 b 蔣介石 c 袁世凱 d 黃興 e 段祺瑞
- (ウ) a 南京国民政府 b 北京政府 c 冀東防共自治政府
d 中華ソヴィエト共和国 e 重慶国民政府
- (エ) a 正統帝 b 万曆帝 c 崇禎帝 d 建文帝 e 洪武帝
- (オ) a 呉三桂 b 鄭芝竜 c 尚可喜 d 李成梁 e 耿繼茂
- (カ) a 鄭成功 b オイラト c アルタン=ハン d 金 e 清
- (キ) a 民進党 b 台湾労働党 c 民主同盟 d 進歩党
e 中国国民党
- (ク) a 東ティモール b タミル c スリランカ d シンガポール
e クアラルンプール
- (ケ) a スリランカ b マレーシア c インド d インドネシア
e フィリピン
- (コ) a 第1次5カ年計画 b 調整政策 c 土地改革
d プロレタリア文化大革命 e 大躍進政策
- (サ) a 反右派闘争 b 大躍進政策 c 社会主義教育運動
d プロレタリア文化大革命 e 天安門事件
- (シ) a 白蓮教 b 天理教 c 東学 d 西学 e 如来教
- (ス) a 甲申政変 b 甲午農民戦争 c 壬午軍乱 d 洪景来の乱
e 閔妃殺害事件

問2 文章①～⑥は、どの人物の説明か。

- ① a 孫文 b 蔣介石 c 胡漢民 d 溥儀 e 汪兆銘
- ② a 李成梁 b 鄭成功 c 李自成 d ヌルハチ e 洪秀全
- ③ a 李登輝 b 蔣経国 c 陳水扁 d 蔡英文 e 馬英九
- ④ a ゴ＝ディン＝ジエム b スカルノ c コラソン＝アキノ
d ネ＝ウイン e リー＝クアンユー
- ⑤ a 趙紫陽 b 劉少奇 c 鄧小平 d 周恩来 e 毛沢東
- ⑥ a 全琫準 b 崔済愚 c 丁若鏞 d ツォンカバ
e 安重根

問3 文章①の下線部(A)と同じ年に起こった出来事はどれか。

- a ミュンヘン会談 b スターリングラードの戦い
c カイロ宣言 d 日独伊三国同盟の成立
e ミッドウエー海戦

問4 文章②の下線部(B)の説明として誤っているものはどれか。

- a この王朝は、14世紀半ばに貧農から成り上がった人物によって樹立された。
- b この王朝中頃には長江中流域が新たな穀倉地帯となり、「湖広熟すれば天下足る」と称された。
- c この王朝のもとで、無学な庶民や子供でも本来その心の中に本当の道徳心をもっていると主張する思想が流行した。
- d この王朝のもとで、イエズス会の宣教師が、中国全図の「皇輿全覧図」の作成に関与した。
- e この王朝の皇帝は、モンゴル系の部族によって捕虜にされ、後に送還された。

問5 文章③の下線部(C)の説明として誤っているものはどれか。

- a 17世紀に、オランダ人はこの地を占領した。
- b 19世紀後半、この地に流れ着いた琉球の漂流民が殺害される事件が起こり、これを口実には日本は軍隊を派遣した。
- c この地を拠点として、日中混血児である鄭成功の一族は、明の復興を掲げて反清活動を展開した。
- d 国共内戦で敗北した蒋介石は、この地を拠点として大陸反攻を目指していたが、実現することはなかった。
- e この地は、薩摩の島津氏に侵攻されて以来、19世紀後半まで日本・中国に両属していたが東アジアの中継貿易で繁栄していた。

2

次の文章(I～II)を読み、問(1～18)に答えなさい。解答は、問3については選択肢(a～d)から適切なものを2つ選び、その他の問については選択肢(a～d)からもっとも適切なものを1つ選びなさい。

(I) ヨーロッパの大航海時代の扉を開いたのは、5世紀にわたるムスリムによる支配の時代にヨーロッパ外の地理についての知識や、造船技術、航海術を習得していたイベリア半島の国々であった。ポルトガル商人は15世紀初頭からアフリカ西岸の探検に乗り出していたが、「航海王子」(1)がこの事業をさらに推進した。ポルトガルはアフリカ大陸に拠点を築きつつ喜望峰を越え、インド洋の制海権を握り、アジアの港湾都市にも拠点を置いた。アメリカ大陸側においては、大西洋を航行中に西に流されて到着した(2)がブラジルの領有を宣言した。

アメリカ大陸に本格的に進出したのはスペインであった。スペイン女王イサベルは、(3)の地球球体説に基づいて大西洋経由でアジアに到達できると主張するコロンブスの提案を聞き入れた。コロンブスの船団は1492年にサンサルバドル島に到達し、以後征服者(コンキスタドール)によるアメリカ大陸への進出と支配が始まる。アメリカ大陸ではメキシコ高原から中米にかけてのメソ

アメリカ地域とアンデス地域で古代王国が盛衰を繰り返していた。スペイン人の征服者たちは、当時これらの地域を支配していたアステカ王国^(オ)とインカ帝国^(カ)を滅ぼし、財宝を奪いつくすと、農場を開き^(キ)、先住民を使役し始めた。

問1 空欄(1)に入る人名はどれか。

- a ジョアン2世
- b マゼラン(マガリャンイス)
- c ペドロ2世
- d エンリケ

問2 下線部(ア)に関して、後にポルトガル植民地となり、独立後もポルトガル語を公用語としている国家はどれか。

- a セネガル
- b カメルーン
- c アンゴラ
- d マダガスカル

問3 下線部(イ)に関連して、16世紀にポルトガルが交易の拠点とした都市を2つ選びなさい。

- a マラッカ(ムラカ)
- b マニラ
- c バタヴィア
- d 平戸

問4 空欄(2)に入る人名はどれか。

- a カブラル
- b カボット
- c バルボア
- d バルトロメウ=ディアス

問5 下線部(ウ)に関する記述として誤っているものはどれか。

- a トルデシリャス条約で定められた勢力圏に基づいている。
- b メソアメリカ地域やアンデス地域のような発達した古代文明はなく、先住民が分散して居住していた。
- c 当初は染料となる木以外に目立った作物や資源がなかったが、16世紀半ばに黒人奴隷をもちいたコーヒーのプランテーションが急速に発展した。
- d 17世紀に入ると、ポルトガルはアジアの制海権をオランダに奪われ、ブラジルを中軸とした大西洋の海洋交易に力を注ぐようになった。

問6 空欄(3)に入る人名はどれか。

- a プトレマイオス b トスカネリ c コペルニクス
- d ガリレイ

問7 下線部(エ)に関して、この地域の古代文明のうち最も古いものはどれか。

- a マヤ文明 b テオティワカン文明 c トルテカ文明
- d オルメカ文明

問8 下線部(オ)に関する記述として誤っているものはどれか。

- a アステカ人はメシーカを自称し、これが後の国名メキシコの語源となった。
- b 王都テノチティトランは14世紀にチチカカ湖上の島に建設された。
- c 王都テノチティトランに現在のメキシコシティが築かれた。
- d 1521年にコルテスに滅ぼされた。

問9 下線部(カ)に関する記述として誤っているものはどれか。

- a 首都リマを中心に「インカ道」と呼ばれる道路網と駅伝制が整備されていた。
- b 現在のコロンビア南部からチリにいたる広大な領域を支配した。
- c 「太陽の神殿」を代表とする石造建築と金属加工術が発達した。
- d 1533年にピサロに滅ぼされた。

問10 下線部(キ)に関する記述として、誤っているものはどれか。

- a 16世紀初頭、国王が植民者に先住民の統治を委託するエンコミエンダ制が導入された。
- b エンコミエンダ制では、先住民をキリスト教に改宗させることを条件に労働力として使用することが認められた。
- c エンコミエンダ制の導入時より、先住民の改宗を担ったのはイエズス会であった。
- d 聖職者ラス＝カサスはエンコミエンダ制のもとで使役される先住民の悲惨な状況を訴えた。

(II) ヨーロッパ人のアメリカ大陸への進出は、世界の経済や社会のあり方に様々な変化をもたらすことになる。それまで地中海を通過してヨーロッパに運ばれていた商品が大西洋の港に着くようになったことで、16世紀には主要な商業ルートが変わり、イタリア半島の港湾都市が衰退する一方、(4)や(5)が繁栄した。

アメリカ大陸からの銀の流出が世界経済に与えた影響も甚大であった。1540年代にポトシやサカテカスで銀鉱山が発見されると、ヨーロッパに銀が大量に流入し、価格革命と呼ばれる経済変動を引き起こした。太平洋岸の(6)とマニラを(ク)行き来する貿易ルートが確立すると、銀はさらにマニラ経由で中国に大量に流入し、(ク)アジアの経済にも影響を及ぼした。

アメリカ大陸原産の農作物が世界の食文化に与えた影響も大きい。アメリカ大陸で栽培されていたトウモロコシ、(コ)ジャガイモ、トマト、(7)などが、ヨーロッパをはじめ世界各地に伝えられて新たな食文化を作り出していった。逆にサトウキビのように、(キ)ヨーロッパ人によってアメリカ大陸に持ち込まれて主要作物となったものもある。

問11 空欄(4)に入る都市名として適切なものを1つ選びなさい。

- a バルセロナ b リスボン c マルセイユ d カディス

問12 空欄(5)に入る都市名として適切なものを1つ選びなさい。

- a リューベック b ベルリン c ブリュージュ
- d アントウェルペン(アントワープ)

問13 下線部(ク)に関する記述として誤っているものはどれか。

- a ヨーロッパの銀貨が下落して、穀物などの物価が2～3倍に上昇した。
- b 南ドイツの銀鉱山開発に関わっていたフッガー家の没落をもたらした。
- c 領地の農民から固定の貨幣地代を受け取っていた領主層は打撃を受けた。
- d エルベ川以東の地域では輸出用穀物を生産するための農場領主制がひろまり、農民が賃金労働者化した。

問14 空欄(6)に入る都市名として適切なものを1つ選びなさい。

- a パナマ b カンクン c ハバナ d アカプルコ

問15 下線部(ケ)に関する記述として誤っているものはどれか。

- a スペインがアメリカ大陸で鑄造した銀貨は、メキシコ銀と総称された。
- b 同じ頃、日本でも石見や生野で銀鉱山が発見され、中国に大量に流入した。
- c 明代後期の中国では、租税と徭役を銀に換算し一本化して納入させる地丁銀制が実施された。
- d 中国からはマニラ経由で絹・陶磁器などがアメリカ大陸に運ばれた。

問16 下線部(コ)に関する記述として誤っているものはどれか。

- a 寒冷な高地で栽培でき、凍結乾燥して保存できるため、古くよりアンデス高原で食用作物として栽培されていた。
- b 天候の被害を受けにくく、栄養が豊富であるため、ヨーロッパの農民の間で食糧として普及した。
- c アイルランドでは穀物生産が困難であったため、ジャガイモが主食となった。
- d アイルランドでは1840年代にジャガイモの疫病による凶作で飢饉が広がり、北米への移民が始まった。

問17 空欄(7)に入るアメリカ大陸原産の農作物として誤っているものはどれか。

- a サツマイモ b コーヒー c カボチャ d カカオ

問18 下線部(サ)に関する記述として誤っているものはどれか。

- a サトウキビ糖の生産は重労働かつ大量の労働力が必要であったため、しばしば奴隷制度のような強制労働制度が採用された。
- b カリブ諸島では砂糖生産のためのプランテーションが発達し、労働力として黒人奴隷が導入された。
- c カリブ諸島の砂糖プランテーション経営には、スペイン、イギリス、フランス、オランダが参入した。
- d アメリカ合衆国南部では18世紀末に黒人奴隷を用いた砂糖プランテーションが発達したが、19世紀前半に綿花プランテーションに取って代わった。

3 古来、人類は絶えず戦争を行なってきた。以下の戦争に関する史料(A～D)について、問(1～15)に答えなさい。解答は選択肢(a～e)からもっとも適切なものを1つ選びなさい。

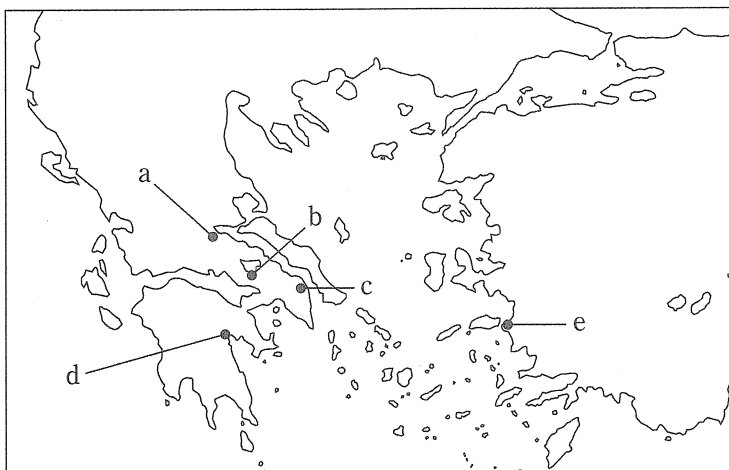
(A) 「初めのうちこそデロス同盟諸国は、独立自治を保ち共同の会議によってことを議決していたのであり、アテナイ^(ア)[アテネ]はそうした条件下で同盟諸国の盟主の地位にあった。だがペルシア戦争^(イ)から今回の戦争^(ウ)にいたるまでの間に、アテナイは次のような多くの出来事に、戦争においても政治的紛争解決においても、直面することとなった。すなわち、ペルシア人とアテナイ人との間に起こった紛争、アテナイ自身の同盟国の離叛、およびペロポネソス諸国^(エ)がことあるごとにいつでも介入してきたことである。(後略)」

(歴史学研究会編『世界史史料』第1巻、岩波書店、2012年。[]内は出題者による挿入である。)

問1 下線部(ア)に関して、誤っている記述はどれか。

- a 民会は18歳以上の男性市民で構成された。
- b テミストクレスは大艦隊を建造した。
- c イオニア植民市の反乱でミレトスを支援した。
- d 民衆裁判所の陪審員は輪番制であった。
- e クレイステネスはデーモスを制定した。

問2 下線部(イ)の戦いの場所として誤っているものはどれか。



問3 下線部(ウ)の戦争が始まった年はいつか。

- a 前490年 b 前479年 c 前431年 d 前338年
e 前334年

問4


- (1) 下線部(エ)に関連して、ペロポネソス同盟の盟主であったポリスの位置はどこか。



- (2) このポリスについて、誤っている記述はどれか。

- a ドーリア人が建設した。
- b コリントス同盟(ヘラス同盟)に加わった。
- c このポリスでヘイロータイ(ヘロット)とは隷属農民のことである。
- d ファランクスを採用した。
- e テルモピレーの戦いで大敗した。

(B) 次の史料は前1世紀に作られたモザイク画である。



問5 このモザイク画で描かれている出来事はどれか。

- a アルベラの戦い b イッソスの戦い c カイロネイアの戦い
- d カンナエの戦い e ディアドコイ戦争

問6 右側の戦車に乗った人物(矢印の人物)は誰か。

- a アルダシール1世 b アレクサンドロス大王 c キュロス2世
- d ダレイオス3世 e ハンニバル

問7 この出来事が起こった年はいつか。

- a 前371年 b 前338年 c 前333年 d 前331年
- e 前216年

問8 この史料が発見されたのはどこか。


- a アレクサンドリア b スサ c バビロン d ペラ
- e ポンペイ

(C) 次の史料はバイユー刺繍画の一場面である。

ア



イ



問9 アの絵に見られる船を使っていた人々に関して、誤っている記述はどれか。

- a クヌート(カヌート)はデーン朝を開いた。
- b 北フランスに定住し、リヨンを都とした。
- c リューリクはノヴゴロド国を建てた。
- d ルッジェーロ2世はシチリア王である。
- e 「北の人」を意味する名前と呼ばれた。

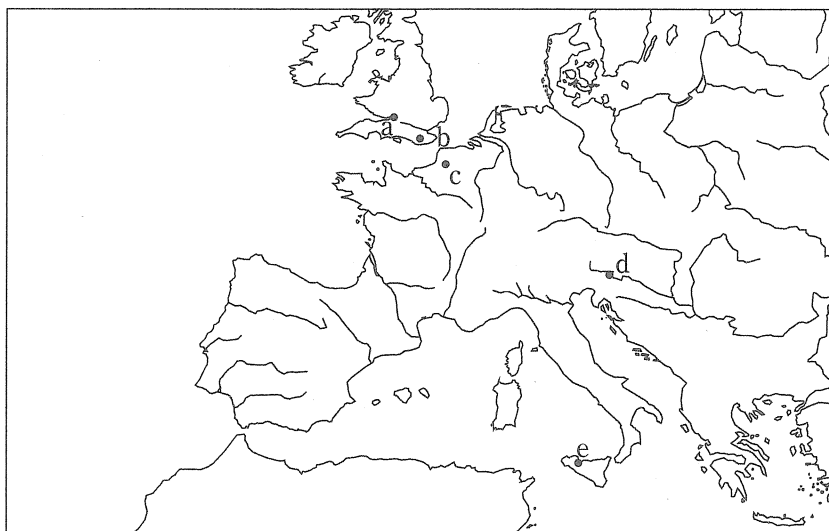
問10 イの絵で描かれている出来事はどれか。

- a クレシーの戦い b シチリアの晩鐘 c バラ戦争
d ヘースティングズの戦い e ポワティエの戦い

問11 イの絵で描かれている出来事が起こった年はどれか。

- a 1016年 b 1066年 c 1130年 d 1346年 e 1455年

問12 イの絵で描かれている出来事が起こったのはどこか。



(D) 以下は第1回十字軍に関する史料である。

「(前略)すなわち、必要なことは、東方の地に住むあなた方の兄弟たち、すでにたびたび求めたにもかかわらずあなた方の援助を得られずにいる兄弟たちのもとへ、馳せ参じて助けることである。なぜならあなた方の多くが聞き知っている通り、ペルシアの民であるトルコ人が、地中海すなわち兄弟たちが聖ゲオルギウスの腕と呼んでいる地域まで至り彼らを襲ったからである。トルコ人はロマニアの国境地帯でキリスト教徒たちの土地をますます占領し、すでに七度に及ぶ戦いで敗れた側を征服し、多数の者を殺しあるいは捕らえ、教会を破壊しては神の王国を略奪した。無論、彼らをそう何時までも無事に放っておく

のなら、彼らはいっそう広範囲に神の信徒を征服するであろう。この件について、この謙った懇願により促すのは、私ではなく主ご自身である。騎士であれ歩兵であれ、富者であれ貧者であれ、^(ウ)どんな階層であれすべての者たちに対し、あなた方には、キリストの伝令として、繰り返し述べて、こう説いていただきたい。その邪悪な民族をわれわれの土地から追い払うため、キリストの崇拜者たちを、機を逸せず助けるべく努めるようにと。今ここにいる方々には私が直接語りかけ、不在の方々には指図を出そう。キリストが命じておられるのだと。(後略)」

(歴史学研究会編『世界史史料』第5巻，岩波書店，2007年)

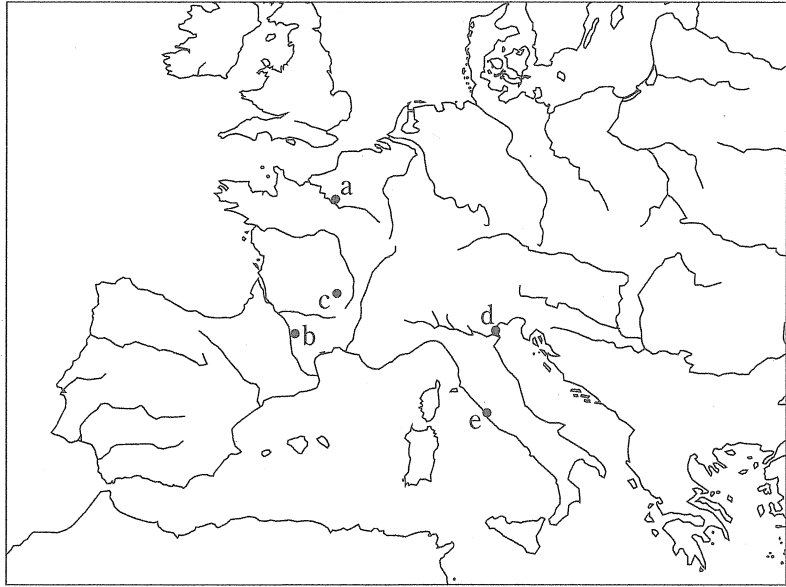
問13 下線部(ア)と(イ)が具体的に示しているのはどれか。

- (ア) a キエフ公国 b ハンガリー王国 c ビザンツ帝国
d ヨハネ騎士団 e リトアニア=ポーランド王国
- (イ) a アイユーブ朝 b カラハン朝 c サイイド朝
d セルジューク朝 e ファーティマ朝

問14 下線部(ウ)の「私」とは誰か。

- a インノケンティウス3世 b ウルバヌス2世
c フリードリヒ1世 d リチャード1世
e ルイ9世

問15 この演説が行われた場所はどこか。



4 次の文章(I～II)を読んで、問(1～7)に答えなさい。解答は最も適切なものを選択肢(a～d)から1つ選びなさい。

(I) 18世紀後半からイギリスでは繊維業やエネルギー部門で^(ア)技術革新が相次ぎ、産業革命の時代に入った。産業革命がイギリスで最初におこった原因は、昔はイギリス国内の経済社会状況に求められた。しかし最近では、外国の影響が注^(イ)目されている。たとえば、実用的で美しいインド綿布がイギリスに入ってきて^(ウ)大流行し、イギリスの繊維業界がそれに対応せざるを得なかった。これは、イギリス国内のみに注目しては出てこない要因である。

問1 下線部(ア)に関して、次の人が発明したものは何か。

(1) ハーグリーブズ

- a 水力紡績機 b 多軸紡績機(ジェニー紡績機) c 飛び杼^ウ
d 力織機

(2) クロンプトン

- a 水力紡績機 b 多軸紡績機(ジェニー紡績機)
- c ミュール紡績機 d 力織機

(3) ダービー

- a コークス製鉄法 b 蒸気機関の改良 c 蒸気ポンプ
- d 綿繰り機

(4) スティーヴンソン

- a 軌道式蒸気機関車 b 実用蒸気機関車 c 外輪式蒸気船
- d スクリュープロペラ式蒸気船

問2 下線部(イ)に関して、イギリスは産業革命発生当時、豊富な工業労働者を確保できた。その要因として関係あるものはどれか。

- a 三圃制の導入
- b ジャガイモ飢饉^{ききん}
- c 第一次囲い込み(エンクロージャー)
- d 第二次囲い込み(エンクロージャー)

問3 下線部(ウ)に関して、以下の問に答えなさい。

(1) アジア綿布の流行まで、ヨーロッパ産でイギリス人の衣服の代表的素材だったものは何か。

- a 絹 b ジュート c 樹皮 d 羊毛

(2) アジア綿布がイギリスに大量流入したのは、イギリスがインドに進出していたからである。イギリスがインド進出する際、拠点とした町はどこか。(地名は当時の名称である)。

- a カルカタ b シャンデルナゴル c ポンディシェリ
- d ラホール

(3) インド進出でフランスと競っていたイギリスが勝利し、フランスがインドシナに転じるきっかけとなった戦争は何か。

- a マイソール戦争 b シク戦争 c プラッシーの戦い
d マラーター戦争

(4) イギリスのインド進出に積極的関与をしたイギリス人は誰か。

- a クライヴ b ゴードン c テイラク d デュプレクス

(5) イギリスの植民地支配からインドが独立する過程(ア～カ)を年代順に並べると、どれが正しいか。

- ア インド統治法の発布 イ 英印円卓会議の開催
ウ 全インド＝ムスリム連盟結成 エ 第一回インド国民会議の開催
オ ベンガル分割令の公布 カ インドとパキスタンの分離独立
a エーオーウーアーイーカ b オーウーエーイーアーカ
c アーオーエーイーウーカ d イーオーエーアーウーカ

(II) イギリスで産業革命がおこり、大量の安い製品が生産されるようになると、他の国もイギリスに負けられないように工業化せざるにはいられなくなった。こうして、工業化は連鎖していった。また、産業革命は人々の生活や社会の構造を一変させ、新しい社会問題も生み出した。産業革命以降の社会問題を解決しようと、19世紀に多くの社会主義者が登場し、解決策を模索した。政治活動に積極的な社会主義者たちの組織は、社会の中で次第に大きな勢力になっていった。

問4 下線部(エ)に関して、次の説明に当てはまる国はどこか。

(1) 19世紀の度重なる政体変化のため一貫した経済政策をとれず、労働力や資本も不足したため、工業化の進展は比較的緩慢であった。

- a アメリカ b ドイツ c フランス d ベルギー

- (2) 1830年代の関税同盟や鉄道建設を契機に工業化が進展し、19世紀後半には重化学工業が発展し、イギリスに迫る工業国家となった。
- a アメリカ b ドイツ c 日本 d フランス
- (3) 19世紀半ばに農奴解放を公布した後、1890年代から外国資本を本格的に導入し、国家主導型の工業化を推し進めた。
- a オーストリア b スウェーデン c ドイツ d ロシア
- (4) 1860年代の政体変化の後、政府の殖産興業により外国の技術の導入に努め、1890年代には軽工業で、1900年代には重工業で工業化を推進した。
- a イタリア b ドイツ c 日本 d ロシア

問5 下線部(カ)に関して、以下の問いに答えなさい。

- (1) 生活苦の原因は新しい機械であると考えた手工業者や労働者がとった反対行動で、1810年代のイギリスで発生した運動は何か。
- a サボタージュ運動 b チャーティスト運動
c ボイコット運動 d ラダイト運動
- (2) 年少者の労働を制限し、工場監督制度の採用を定めた、イギリスの一般工場法が制定されたのはいつか。
- a 1824年 b 1829年 c 1833年 d 1838年

問6 下線部(カ)に関して、以下の問に答えなさい。

- (1) 初期社会主義者のオーウェンの説明として、誤っているものはどれか。
- a 貴族の出身である。
b 工場法の制定に尽力した。
c アメリカ合衆国で理想的共同体の建設を試みた。
d 人道主義的な工場をつくった。

- (2) 初期社会主義者サン＝シモンの説明として正しいものはどれか。
- a イギリスに亡命した後、国際的に活躍した。
 - b 「万国の労働者よ、団結せよ」というスローガンを作った。
 - c アメリカ独立戦争に義勇兵として参加した。
 - d 協同組合的理想社会(ファランジュ)の実現を唱えた。
- (3) オーウェンとサン＝シモンおよびフーリエの三人を「空想的社会主義者」と命名したのは誰か。
- a マルクス b エンゲルス c プルードン d レーニン
- (4) マルクスの説明として誤っているものはどれか。
- a ユダヤ系ドイツ人として生まれた。
 - b 弁証法と唯物論の方法を使って歴史を説明した。
 - c 『共産党宣言』を著した。
 - d 亡命先のスイスで資本主義を分析した膨大な著作を書いた。

問7 下線部(キ)に関して、以下の問に答えなさい。

- (1) 19世紀末、第2インターナショナルで指導的地位を占めたドイツの社会主義政党の名前は何か。(1890年の改名後の名前であらう。なお、正式党名の中の国名は省いて書いてある。)
- a 社会革命党 b 社会主義統一党 c 社会民主党
 - d 社会民主労働党
- (2) 社会主義に労働者が引き寄せられないように、ドイツ首相ビスマルクはさまざまな政策をとったが、その目的をもつ政策とは言えないものはどれか。
- a 疾病保険 b 社会主義者鎮圧法 c 保護関税 d 養老保険
- (3) イギリスでは選挙権を徐々に拡大することによって、労働者の政治参加を段階的に進め、社会対立を緩和しようとした。都市の労働者に選挙権が与えられた第2回選挙法改正は何年か。
- a 1832年 b 1848年 c 1867年 d 1884年

(4) イギリスの労働党は、20世紀になると政権にも参画するようになった。労働党内閣の首相になった人は誰か。

- a イーデン b シューマン c マクドナルド
- d ロイド＝ジョージ

