

(2011年度)

物 理 問 題 (90分)

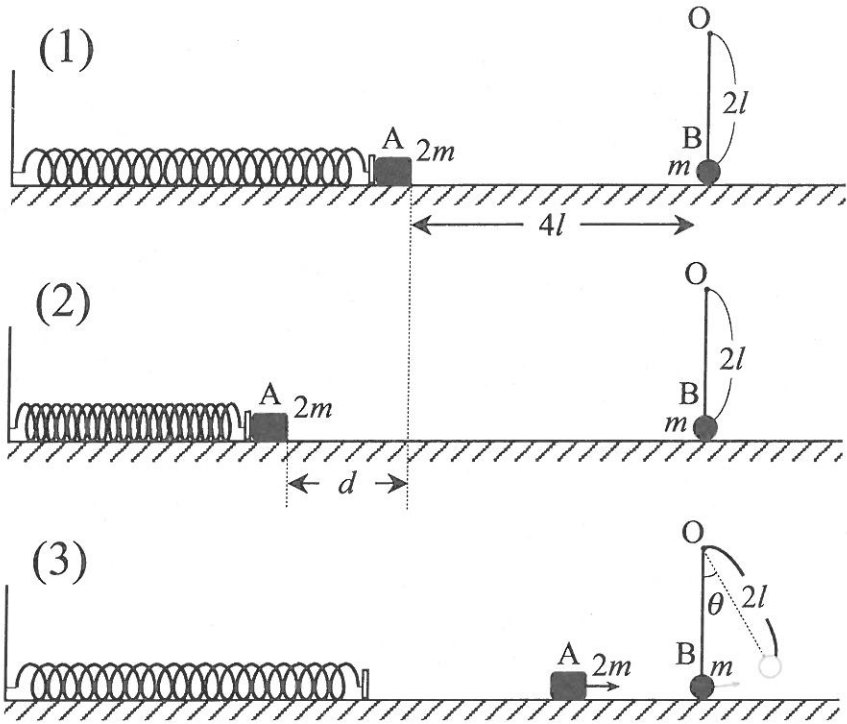
(この問題冊子は15ページ，4問である。)

受験についての注意

1. 監督の指示があるまで，問題冊子を開いてはならない。
2. 携帯電話・PHSの電源は切ること。
3. 試験開始前に，監督から指示があったら，解答用紙の右上の番号が自分の受験番号かどうかを確認し，氏名を記入すること。次に，解答用紙の右側のミシン目にそって，きれいに折り曲げてから，受験番号と氏名が書かれた切片を切り離し，机上に置くこと。
4. 監督から試験開始の合図があったら，この問題冊子が，上に記したページ数どおりそろっているかどうか確かめること。
5. 解答は解答用紙の各問の選択肢の中から正解と思うものを選んで，そのマーク欄をぬりつぶすこと。その他の部分には何も書いてはならない。
6. 筆記具は，HかFかHBの黒鉛筆またはシャープペンシルに限る。万年筆・ボールペンなどを使用してはならない。時計に組み込まれたアラーム機能，計算機能，辞書機能などを使用してはならない。
7. マークをするとき，枠からはみ出したり，枠のなかに白い部分を残したり，文字や番号，枠などに○や×をつけたりしてはならない。
8. 訂正する場合は，消しゴムでていねいに消すこと。消しきずはきれいに取り除くこと。
9. 解答用紙を折り曲げたり，破ったりしてはならない。採点が不可能になる。
10. 試験時間中に退場してはならない。
11. 解答用紙を持ち帰ってはならない。
12. 問題冊子，計算用紙は必ず持ち帰ること。

1 摩擦がある床の上に、図(1)のようにバネ定数 k のバネが左端に固定されており、バネの自然長の位置に質量 $2m$ の小物体 A が置かれている。また、質量 m の小球 B が固定点 O から長さ $2l$ の糸でつり下げられており、小物体 A より右に $4l$ 離れた位置で床に接している。小物体 A と床の間の静止摩擦係数は $\frac{1}{2}$ 、動摩擦係数は $\frac{1}{4}$ であるが、小球 B と床の間には摩擦はない。バネ、その先に付いた薄い板と糸の質量、および糸の伸びは無視できるものとし、重力加速度を g とする。

- 図(2)のように、小物体 A を左に d だけ押しバネを縮めてから、静かに手を離す。 d が小さい場合には、床との摩擦があるため A はその場所で静止するが、 $d > l$ で、A が動き出した。このことより、バネ定数 k は、 $k = [1] \times \frac{mg}{l}$ である。
- 小物体 A を $d = a \times l$ ($a > 1$) まで押してから手を離すと、A は右向きに動き出す。バネが自然長に戻ったときの A の速さは $\sqrt{[2] \times gl}$ であり、その直後 A はバネから離れて、図(3)のように、右方向に進む。A が小球 B に衝突する条件は $a \geq [3]$ である。このとき、衝突する直前の A の速さは $\sqrt{[4] \times gl}$ である。
- $a = 3$ (すなわち $d = 3l$) としたところ、小物体 A は小球 B に衝突した。このとき、衝突直前の A の速さは $[5] \times \sqrt{gl}$ である。衝突が弾性衝突とすると、衝突後の A の速さは $[6] \times \sqrt{gl}$ であり、B の速さは $[7] \times \sqrt{gl}$ である。衝突後、B は糸が鉛直軸に対して θ となる角度まで上がり、振り子運動を続ける。ここで、 $\cos \theta = [8]$ である。一方、A は衝突後も床の上の運動を続けた後、最初に手を離れた位置から $[9] \times l$ だけ右の位置で静止する。全過程のエネルギーの移り変わりを考えると、最初にバネに与えた弾性エネルギー $[10] \times mgl$ のうち、摩擦により失ったエネルギーが $[11] \times mgl$ で、 $[12] \times mgl$ が振り子の力学的エネルギーになった。



[1], [3], [5] ~ [12] の選択肢

- | | | | | |
|---------------------------|----------------------------|----------------------------|----------------------------|----------------------------|
| a) 0 | b) 1 | c) $\sqrt{2}$ | d) 2 | e) 4 |
| f) $\frac{3}{2}$ | g) $\frac{5}{2}$ | h) $\frac{9}{2}$ | i) $\frac{1}{3}$ | j) $\frac{4}{3}$ |
| k) $\frac{5}{9}$ | l) $\frac{8}{9}$ | m) $\frac{55}{9}$ | n) $\frac{65}{9}$ | o) $\frac{65}{18}$ |
| p) $\frac{1+\sqrt{2}}{2}$ | q) $\frac{1+\sqrt{17}}{2}$ | r) $\frac{1+3\sqrt{2}}{2}$ | s) $\frac{1+\sqrt{55}}{2}$ | t) $\frac{1+\sqrt{62}}{2}$ |

[2], [4] の選択肢

- a) 0 b) a c) $\sqrt{2}a$
- d) $2a$ e) $\frac{1}{2}a$ f) $\frac{5}{2}a$
- g) $\frac{1}{2}(a^2 - a)$ h) $\frac{5}{2}(a^2 - a)$ i) $\frac{1}{2}(a^2 - a - 2)$
- j) $\frac{1}{2}(a^2 - a - 4)$ k) $\frac{5}{2}(a^2 - a - 2)$ l) $\frac{5}{2}(a^2 - a - 4)$
- m) $\frac{8}{9}(a^2 - a - 4)$ n) $\frac{8}{9}(a^2 - a + 9)$ o) $\frac{8}{9}(a^2 - a + 13)$
- p) $\frac{8}{9}(a^2 - a + 65)$

以下余白

次頁へ続く

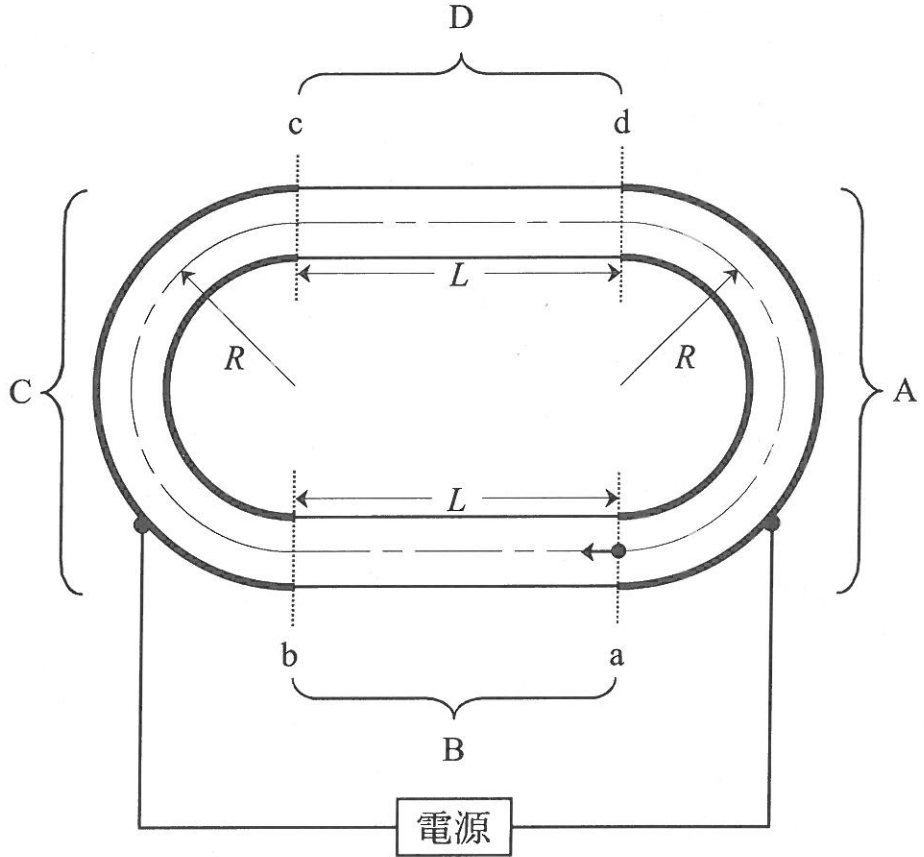
2 図のように、断面が円形の 4 個のパイプがつながった装置がある。2 個は金属製で半円状のパイプ A, C で（中心線の半径を R とする）、もう 2 個は直線状のパイプ B, D で、パイプ A, C と電氣的に絶縁されている。装置内部は真空になっている。このパイプの中心線上を 1 個の荷電粒子（質量 m , 電荷 q , ただし $q > 0$ ）が何周も回る間に、荷電粒子を加速することを考える。

2 個の半円状パイプ A, C には紙面の裏から表へ一様な磁界を別々にかけ、さらに AC 間に電圧をかける。このとき、パイプ A および C 内では常に電界はゼロになっている。荷電粒子がパイプ A または C 中を円運動しているとき AC 間の電圧を反転する。つまり、荷電粒子が直線状パイプ B を運動するときには AC 間に電圧 $+V_0$ （ただし $V_0 > 0$ ）をかけ、パイプ D を通過するときには $-V_0$ をかけて、一定の大きさの電界で荷電粒子を加速する。ただし、荷電粒子の速さは光速よりは十分遅いものとする。

いま、図のように、パイプ A と B の境界 a のパイプの中心線上の点に、荷電粒子をそっと置いた。

1. パイプ B には 電界 $E_B = [1]$ がかかり、荷電粒子は加速されつつ進んだ。パイプ B と C の境界 b に達したときの速さは、 $v_b = [2]$ であり、パイプ B を通過するのに要する時間は、 $t_B = [3]$ である。
2. パイプ B を抜けた荷電粒子が、パイプ C の中心線上を運動するためには、磁束密度 $B_C = [4]$ の磁界をかける必要がある。また、荷電粒子がパイプ C を通過するのに要する時間は、 $t_C = [5]$ である。
3. 次に、荷電粒子はパイプ D の中心線上を加速されつつ進んだ。境界 d に達したときの速さは、 $v_d = [6]$ であり、パイプ D を通過するのに要する時間は、 $t_D = [7]$ である。
4. さらに荷電粒子がパイプ A の中心線上を運動した。そのためには磁束密度 $B_A = [8]$ の磁界をかける必要がある。また、荷電粒子がパイプ A を通過するのに要する時間は、 $t_A = [9]$ である。
5. 荷電粒子が n 周（ただし $n = 1, 2, 3, \dots$ ）して境界 a に戻ってきたときの速さは、 $v_n = [10]$ である。また、荷電粒子が n 周目を回る所要時

間は、 $t_n = [11] \times L \sqrt{\frac{m}{qV_0}} + [12] \times \pi R \sqrt{\frac{m}{qV_0}}$ である。



[1] の選択肢

- a) $\frac{V_0}{2}$ b) V_0 c) $2V_0$ d) $\frac{V_0}{2L}$ e) $\frac{V_0}{L}$ f) $\frac{2V_0}{L}$
 g) $\frac{V_0L}{2}$ h) V_0L

[2], [6] の選択肢

a) $\sqrt{\frac{mV_0}{4q}}$ b) $\sqrt{\frac{mV_0}{2q}}$ c) $\sqrt{\frac{mV_0}{q}}$ d) $\sqrt{\frac{2mV_0}{q}}$ e) $\sqrt{\frac{4mV_0}{q}}$
f) $\sqrt{\frac{qV_0}{4m}}$ g) $\sqrt{\frac{qV_0}{2m}}$ h) $\sqrt{\frac{qV_0}{m}}$ i) $\sqrt{\frac{2qV_0}{m}}$ j) $\sqrt{\frac{4qV_0}{m}}$

[3], [7] の選択肢

a) $L\sqrt{\frac{m}{4qV_0}}$ b) $L\sqrt{\frac{m}{2qV_0}}$ c) $L\sqrt{\frac{m}{qV_0}}$
d) $L\sqrt{\frac{2m}{qV_0}}$ e) $L\sqrt{\frac{4m}{qV_0}}$ f) $(\sqrt{2}-1)L\sqrt{\frac{m}{qV_0}}$
g) $(\sqrt{2}+1)L\sqrt{\frac{m}{qV_0}}$ h) $(2-\sqrt{2})L\sqrt{\frac{m}{qV_0}}$ i) $(2+\sqrt{2})L\sqrt{\frac{m}{qV_0}}$
j) $(2\sqrt{2}-1)L\sqrt{\frac{m}{qV_0}}$ k) $(2\sqrt{2}+1)L\sqrt{\frac{m}{qV_0}}$

[4], [8] の選択肢

a) $\frac{1}{R}\sqrt{\frac{mV_0}{4q}}$ b) $\frac{1}{R}\sqrt{\frac{mV_0}{2q}}$ c) $\frac{1}{R}\sqrt{\frac{mV_0}{q}}$ d) $\frac{1}{R}\sqrt{\frac{2mV_0}{q}}$
e) $\frac{1}{R}\sqrt{\frac{4mV_0}{q}}$ f) $\frac{1}{R}\sqrt{\frac{qV_0}{4m}}$ g) $\frac{1}{R}\sqrt{\frac{qV_0}{2m}}$ h) $\frac{1}{R}\sqrt{\frac{qV_0}{m}}$
i) $\frac{1}{R}\sqrt{\frac{2qV_0}{m}}$ j) $\frac{1}{R}\sqrt{\frac{4qV_0}{m}}$

[5], [9] の選択肢

a) $\pi R \sqrt{\frac{m}{6qV_0}}$ b) $\pi R \sqrt{\frac{m}{4qV_0}}$ c) $\pi R \sqrt{\frac{m}{2qV_0}}$ d) $\pi R \sqrt{\frac{m}{qV_0}}$
e) $\pi R \sqrt{\frac{2m}{qV_0}}$ f) $\pi R \sqrt{\frac{4m}{qV_0}}$ g) $\pi R \sqrt{\frac{6m}{qV_0}}$

[10] の選択肢

a) $\sqrt{\frac{nmV_0}{4q}}$ b) $\sqrt{\frac{nmV_0}{2q}}$ c) $\sqrt{\frac{nmV_0}{q}}$ d) $\sqrt{\frac{2nmV_0}{q}}$
e) $\sqrt{\frac{4nmV_0}{q}}$ f) $\sqrt{\frac{nqV_0}{4m}}$ g) $\sqrt{\frac{nqV_0}{2m}}$ h) $\sqrt{\frac{nqV_0}{m}}$
i) $\sqrt{\frac{2nqV_0}{m}}$ j) $\sqrt{\frac{4nqV_0}{m}}$

[11] の選択肢

a) $2\sqrt{n} - \sqrt{n-1}$ b) $2\sqrt{n} + \sqrt{n-1}$ c) $\sqrt{n} - \sqrt{n-1}$
d) $\sqrt{n} + \sqrt{n-1}$ e) $2(\sqrt{n} - \sqrt{n-1})$ f) $2(\sqrt{n} + \sqrt{n-1})$
g) $\frac{\sqrt{n+3} - \sqrt{n-1}}{2}$ h) $\frac{\sqrt{n+3} + \sqrt{n-1}}{2}$ i) $\sqrt{n+3} - \sqrt{n-1}$
j) $\sqrt{n+3} + \sqrt{n-1}$

[12] の選択肢

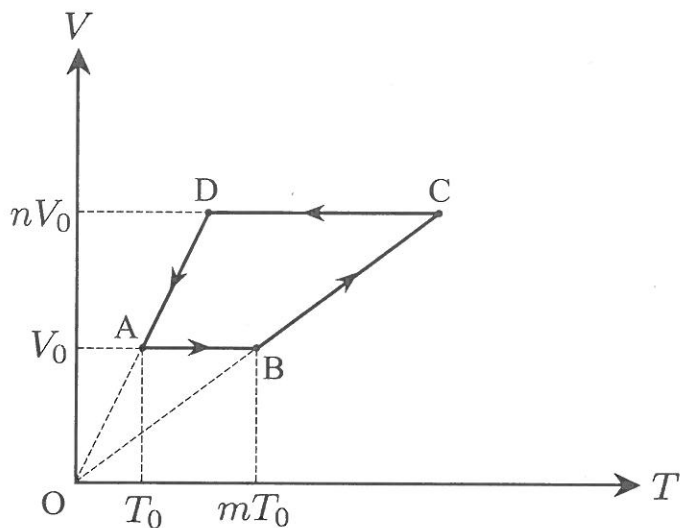
- a) $\frac{1}{\sqrt{4n-2}} + \frac{1}{\sqrt{4n}}$ b) $\frac{1}{\sqrt{4n-2}} + \frac{1}{\sqrt{2n}}$ c) $\frac{1}{2n} + \frac{1}{\sqrt{2n}}$
- d) $\frac{1}{2\sqrt{2n-1}} + \frac{1}{\sqrt{n+1}}$ e) $\frac{1}{2\sqrt{2n-1}} + \frac{1}{\sqrt{2n}}$ f) $\frac{1}{\sqrt{6n-4}} + \frac{1}{\sqrt{6n-2}}$
- g) $\frac{1}{\sqrt{6n-4}} + \frac{1}{2n}$ h) $\frac{1}{\sqrt{6n-4}} + \frac{1}{\sqrt{4n}}$ i) $\frac{1}{\sqrt{2n}} + \frac{1}{\sqrt{n+3}}$
- j) $\frac{1}{\sqrt{6n-4}} + \frac{1}{\sqrt{n+3}}$

以下余白

次頁へ続く

3 なめらかに動くピストンを備えたシリンダー中に 1 モルの単原子分子理想気体を入れ、図のように体積 V 、温度 T の $V-T$ 図上の点で表される状態を $A \rightarrow B \rightarrow C \rightarrow D \rightarrow A$ と 1 サイクル変化させる熱機関を考える。図中、点 O は $V = T = 0$ を表し、気体定数を R とし、 $m, n > 1$ とする。

1. 最初、状態 A での気体の圧力 p_0 は、 $p_0 = [1] \times \frac{RT_0}{V_0}$ と表すことができる。状態 C での圧力は、状態 A の圧力 p_0 を用いて $[2] \times p_0$ と書け、温度は $[3] \times T_0$ となる。状態 D での圧力は $[4] \times p_0$ となり、温度は $[5] \times T_0$ となる。
2. この 1 サイクルで気体が外部に仕事をする過程は $[6]$ で、その大きさは $[7] \times RT_0$ であり、外部から仕事をされる過程は $[8]$ で、その大きさは $[9] \times RT_0$ となる。したがって、この 1 サイクルで気体が外部にした正味の仕事は $[10] \times RT_0$ であることがわかる。また、この 1 サイクルで気体が熱を吸収する過程は $[11]$ で、このときの気体の内部エネルギーの変化は $[12] \times RT_0$ であり、吸収した熱量は $[13] \times RT_0$ となる。以上から、この熱機関の熱効率 η は $[14]$ と表される。



[1] ~ [5], [7], [9], [10], [12], [13] の選
 択肢

- | | | | | | |
|----|-----------------------------------|----|-----------------------------------|----|-----------------------------------|
| a) | $\frac{1}{2}$ | b) | 1 | c) | $\frac{3}{2}$ |
| d) | 2 | e) | m | f) | n |
| g) | $\frac{1}{m}$ | h) | $\frac{1}{n}$ | i) | $\frac{m}{n}$ |
| j) | $\frac{n}{m}$ | k) | $m - 1$ | l) | $n - 1$ |
| m) | mn | n) | $m(n - 1)$ | o) | $(m - 1)(n - 1)$ |
| p) | $\frac{m - 1}{n - 1}$ | q) | $\frac{3}{2}mn - \frac{3}{2}$ | r) | $\frac{3}{2}mn + n - \frac{5}{2}$ |
| s) | $\frac{5}{2}mn - m - \frac{3}{2}$ | t) | $\frac{5}{2}mn + m - \frac{3}{2}$ | u) | $\frac{5}{2}mn - n - \frac{3}{2}$ |

[6], [8], [11] の選択肢

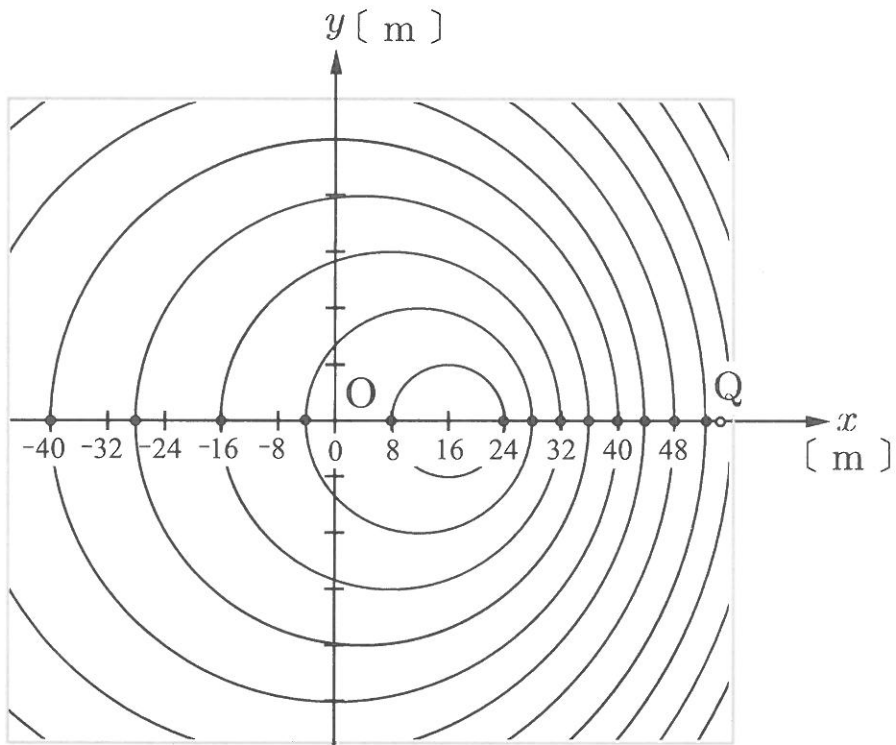
- | | | | | | | | |
|----|---------------------------------|----|---------------------------------|----|---------------------------------|----|---------------------------------|
| a) | $A \rightarrow B$ | b) | $B \rightarrow C$ | c) | $C \rightarrow D$ | d) | $D \rightarrow A$ |
| e) | $A \rightarrow B \rightarrow C$ | f) | $B \rightarrow C \rightarrow D$ | g) | $C \rightarrow D \rightarrow A$ | h) | $D \rightarrow A \rightarrow B$ |

[14] の選択肢

- | | | | | | |
|----|--|----|--|----|--|
| a) | $\frac{m - 1}{\frac{3}{2}mn - n - \frac{5}{2}}$ | b) | $\frac{m - 1}{\frac{3}{2}mn + n - \frac{5}{2}}$ | c) | $\frac{n - 1}{\frac{3}{2}mn - m - \frac{5}{2}}$ |
| d) | $\frac{n - 1}{\frac{3}{2}mn + m - \frac{5}{2}}$ | e) | $\frac{n - 1}{\frac{5}{2}mn - m - \frac{3}{2}}$ | f) | $\frac{n - 1}{\frac{5}{2}mn + m - \frac{3}{2}}$ |
| g) | $\frac{m(n - 1)}{\frac{5}{2}mn - m - \frac{3}{2}}$ | h) | $\frac{m(n - 1)}{\frac{5}{2}mn + m - \frac{3}{2}}$ | i) | $\frac{n(m - 1)}{\frac{5}{2}mn - m - \frac{3}{2}}$ |
| j) | $\frac{n(m - 1)}{\frac{5}{2}mn + m - \frac{3}{2}}$ | k) | $\frac{(m - 1)(n - 1)}{\frac{5}{2}mn - m - \frac{3}{2}}$ | l) | $\frac{(m - 1)(n - 1)}{\frac{5}{2}mn + m - \frac{3}{2}}$ |

4 図のように、静かな水面上を、船が機械振動により周期 2 秒で波紋を作りながら、東の方向（図の x 軸の正の方向）に向かって一定の速さで走っている。原点 O を通り過ぎてから、10 秒後の波の山の波面の位置を図中の円で表す。この船の前方の位置 Q （図中の白丸）で、この波を観測すると、この波の速さは [1] m/s で、振動数は [2] Hz である。また、船の速さは [3] m/s である。

いま、位置 Q での観測者が別の船に乗って一定の速さ 3 m/s で東の方向へ走り出すと、観測者が観測する波の速さは [4] m/s、波長は [5] m、振動数は [6] Hz となる。



[1] ~ [6] の選択肢

a) 1 b) 2 c) 3 d) 4 e) 5 f) 6 g) 7

h) $\frac{1}{2}$ i) $\frac{3}{2}$ j) $\frac{5}{2}$ k) $\frac{7}{2}$ l) $\frac{1}{3}$ m) $\frac{2}{3}$ n) $\frac{4}{3}$

o) $\frac{1}{4}$ p) $\frac{3}{4}$ q) $\frac{5}{4}$ r) $\frac{1}{5}$ s) $\frac{2}{5}$ t) $\frac{3}{5}$ u) $\frac{4}{5}$

