

2023年度 一般前期入学試験 理科

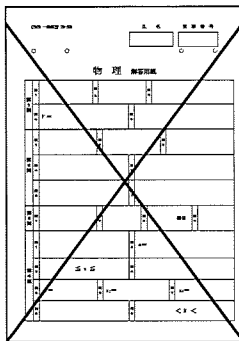
科目選択について		問題ページ
右記①～③のうち <u>2つを選択</u>	① 物理	1～5
	② 化学	7～13
	③ 生物	15～28

注意：答えはすべてそれぞれの解答用紙に記入しなさい。

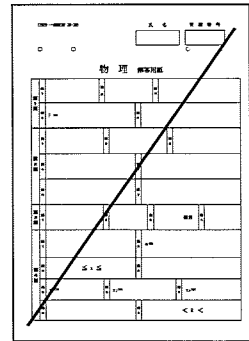
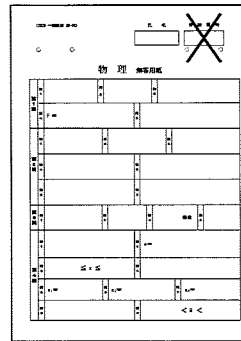
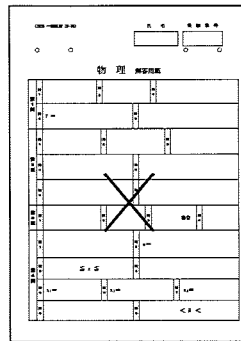
非選択科目の解答用紙への記入について（注意事項）

- ・試験開始 30 分後に、非選択科目の解答用紙を回収します。
- ・非選択科目の解答用紙にも氏名、受験番号を記入し、解答用紙全体に隅から隅まで大きく『×(バツ)』を記入して下さい。

良い書き方



良くない書き方



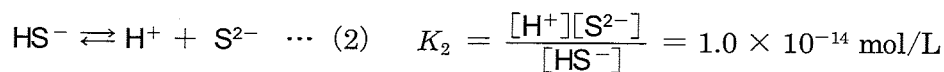
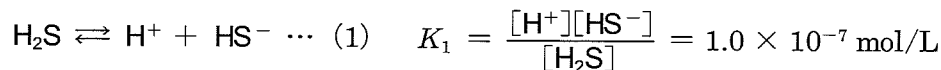
空白

化 学 (その1)

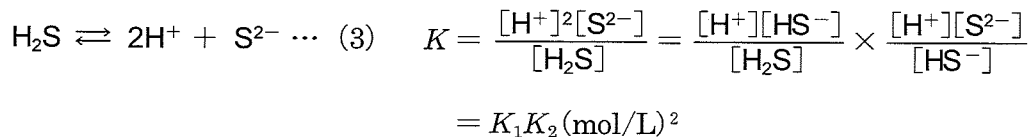
必要ならば, H = 1.00, C = 12.0, O = 16.0, Na = 23.0, Cl = 35.5, Ca = 40.0, Cu = 63.5, Br = 80.0 の原子量, 標準状態での気体のモル体積 22.4 L/mol を用いよ。

第1問 次の文章を読んで, 以下の問い(問1 ~ 3)に答えよ。ただし, 濃度は有効数字2桁で答えよ。また, pH の値は小数第1位まで答えよ。

二価の弱酸である硫化水素は, 水溶液中で式(1)と式(2)のように二段階で電離する。それぞれの電離定数 K_1 と K_2 は次の値であるとする。



電離定数が $K_1 \gg K_2$ であるため, 水溶液中の $[\text{H}^+]$ は式(1)の反応で決まると考えてよい。式(1)と式(2)を合わせた反応は式(3)のようになり, その電離定数 K は次のようになる。



金属イオンを含む水溶液に硫化水素を通じると, 硫化物の沈殿を生じることが多い。

いま, 水溶液中の2種類のある金属イオン M_a^{2+} と M_b^{2+} (M_a と M_b は単なる記号で, 元素記号ではない) について, 硫化水素による M_aS と M_bS の沈殿の生成を考える。ただし, 温度は常に一定で, M_aS と M_bS の溶解度積 K_{sp} はそれぞれ $1.0 \times 10^{-10} (\text{mol/L})^2$ と $1.0 \times 10^{-18} (\text{mol/L})^2$ とする。また, 水に硫化水素を十分に通じてできる硫化水素の飽和水溶液の濃度は pH によらず 0.10 mol/L で, 硫化水素を通じるときや pH を変化させるときの水溶液の体積変化は無視できるものとする。

問1 純水に硫化水素を十分に通じてできる飽和水溶液の pH の値を答えよ。また, この飽和水溶液中の S^{2-} のモル濃度 $[\text{mol/L}]$ を答えよ。

化 学 (その2)

問2 M_a^{2+} と M_b^{2+} をそれぞれ 0.10 mol/L ずつ含む混合水溶液を pH 7.0 に保ちながら硫化水素を十分に通じて飽和させると、どのような変化がみられるか。①, ②, ③, …の中から選び、番号で答えよ。

- ① M_aS と M_bS の沈殿はいずれも生じない。
- ② M_aS の沈殿は生じないが、 M_bS の沈殿が生じる。
- ③ M_aS の沈殿が生じるが、 M_bS の沈殿は生じない。
- ④ M_aS と M_bS の沈殿が生じ、それぞれの物質量をくらべると M_aS の方が多い。
- ⑤ M_aS と M_bS の沈殿が生じ、それぞれの物質量は等しい。
- ⑥ M_aS と M_bS の沈殿が生じ、それぞれの物質量をくらべると M_bS の方が多い。

問3 M_a^{2+} と M_b^{2+} をそれぞれ 0.10 mol/L ずつ含む混合水溶液に硫化水素を十分に通じて飽和させたとき、いずれか一方の金属イオンのみを沈殿させたい。そのためには、水溶液の pH の値は、(ア) より大きく (イ) 以下の範囲に保たれている必要がある。(ア) にあてはまるもっとも小さな数値と、(イ) にあてはまるもっとも大きな数値を答えよ。

第2問 次の実験について、以下の問い(問1～3)に答えよ。

実験：質量パーセント濃度 2.38 % の臭素水 50.0 mL がある。(1) この臭素水に二酸化硫黄の気体を通すと臭素水の色が完全に消えた。 色が消えるのに標準状態で (ア) mL の二酸化硫黄を要した。

問1 下線部 (1) の反応の反応式を書け。

問2 (ア) に入る適切な数値を 有効数字 3 桁 で答えよ。ただし、臭素水の密度は 1.01 g/cm^3 とする。

問3 以下の a ~ d をこの臭素水に二酸化硫黄の代わりに過剰量加えた。臭素水の色が完全に消えるものはどれか。①, ②, ③, …の中から選び、番号で答えよ。

a エチレンガス b 塩化カリウム水溶液 c 希硝酸 d フェノール水溶液

- ① 全て消えない ② a ③ b ④ c ⑤ d
- ⑥ a と b ⑦ a と c ⑧ a と d ⑨ b と c ⑩ b と d
- ⑪ c と d ⑫ a と b と c ⑬ a と b と d ⑭ a と c と d ⑮ b と c と d
- ⑯ 全て消える

化 学 (その3)

第3問 以下の問い(問1, 2)にもっとも適するものを①, ②, ③, …の中から選び、番号で答えよ。

問1 正しいのはどれか。

- a セラミックスは絶縁性や耐熱性に優れている。
- b ビタミンCは食品の酸化防止剤として用いられている。
- c ポリプロピレンはペットボトルの原料として用いられている。
- d 酸化物や硫化物などの鉱石を還元して金属の単体を得ることを製錬という。
- e 合成洗剤は衣類や食器の汚れに対し、親水基で汚れを取り囲み、疎水基を外側にして汚れを水中に分散させる。

- ① a ② b ③ c ④ d ⑤ e
 ⑥ aとb ⑦ aとc ⑧ aとd ⑨ aとe ⑩ bとc
 ⑪ bとd ⑫ bとe ⑬ cとd ⑭ cとe ⑮ dとe
 ⑯ aとbとc ⑰ aとbとd ⑱ aとbとe ⑲ aとcとd ⑳ aとcとe
 ㉑ aとdとe ㉒ bとcとd ㉓ bとcとe ㉔ bとdとe ㉕ cとdとe

問2 表中のa～eの項目について、XとYの元素または化合物を比べたとき $X > Y$ となるのはどれか。なお、eでは溶解した化合物は完全に電離しているものとする。

	項目	X	Y
a	原子半径	F	Ne
b	第一イオン化エネルギー	Be	Na
c	電気陰性度	H	O
d	沸点	HF	HCl
e	同じ質量を水に溶解させ、同じ体積の希薄溶液としたときの凝固点降下度	CaCl ₂	NaCl

- ① a ② b ③ c ④ d ⑤ e
 ⑥ aとb ⑦ aとc ⑧ aとd ⑨ aとe ⑩ bとc
 ⑪ bとd ⑫ bとe ⑬ cとd ⑭ cとe ⑮ dとe
 ⑯ aとbとc ⑰ aとbとd ⑱ aとbとe ⑲ aとcとd ⑳ aとcとe
 ㉑ aとdとe ㉒ bとcとd ㉓ bとcとe ㉔ bとdとe ㉕ cとdとe

化 学 (その4)

第4問 次の化合物 A～L に関する 1)～4) の文章を読んで、以下の問い(問1～4) に答えよ。

- 1) 化合物 A は炭酸塩で、石灰石や大理石などの主要成分として存在する。A を水に懸濁した液に、二酸化炭素を過剰に通じると化合物 B が生成して溶ける。B の水溶液を熱すると再び A の白色沈殿が生じる。A と希塩酸との反応で得られる化合物 C は潮解性で水によく溶ける。C と希硫酸との反応で得られる塩 D の二水和物をセッコウという。
- 2) 化合物 E は硫酸塩で、X 線の吸収能が大きいので、消化管(胃)の X 線造影剤に用いられる。また、硫酸イオンの検出に E を生じる反応が用いられている。
- 3) 化合物 F は白色粉末の酸化物で、顔料や化粧品、医薬品に用いられる。F は酸にも塩基にも溶ける。F を構成する金属元素は融点が比較的低い重金属(融点 $420\text{ }^{\circ}\text{C}$ 、密度 7.13 g/cm^3) で、この金属イオンを含む水溶液に少量の塩基を加えると、沈殿 G が生じる。G は酸にも強塩基にも溶け、過剰のアンモニア水にも溶ける。この金属イオンは中性または弱塩基性の条件で硫化水素を通じると、白色沈殿が生じる。
- 4) 化合物 H は共有結合した酸化物で、石英や水晶などの岩石中に存在する。H を水酸化ナトリウムとともに熱するとガラス状固体 I が生成する。I に水を加えて熱すると粘性の大きな水あめ状の液体 J になる。また、この液体 J に塩酸を加えると白色ゲル状化合物 K が生じる。K を加熱して脱水すると、乾燥剤や吸着剤として利用される化合物 L ができる。

問1 化合物 A～I の化学式を書け。

問2 化合物 G に水酸化ナトリウム水溶液を加えたときの反応式を書け。

問3 化合物 J～L の名称を書け。

問4 2) で化合物 E が胃の X 線造影剤に用いられる理由については、いくつかの理由が考えられる。E の X 線吸収能が大きいという点は、そのうちの一つであるが、化学的な性質としてそれ以外に考えられる理由を 20 字以内で書け。

化 学 (その5)

第5問 次の文章を読んで、以下の問い(問1～6)に答えよ。

糖類には、単糖、2分子の単糖が脱水縮合した二糖、そして多数の単糖が脱水縮合した多糖がある。多糖には種子に含まれるデンプン、動物の筋肉に含まれるグリコーゲン、植物の細胞壁の主成分であるセルロースなどがあり、分子式(ア)であらわされる。

デンプンは数百から数千個の α -グルコースが重合した(イ)と(ウ)の混合物からなる。(イ)は1位と4位のヒドロキシ基の間で(エ)結合した直鎖状につながったらせん構造を持つ分子で、(ウ)はさらに1位と6位のヒドロキシ基間で(エ)結合した枝分かれ状につながったらせん構造を持つ分子である。グリコーゲンは(ウ)よりも枝分かれが多い構造を持ち、ヨウ素デンプン反応で(オ)色を示す。

デンプンに酵素アミラーゼを作用させて加水分解すると、さまざまな分子量を持つデキストリンが生じ、最終的には分子式(カ)の二糖のマルトースとなる。二糖にはマルトース以外にも、スクロース、ラクトース、セロビオースがあり、スクロースはグルコースとフルクトース、ラクトースは(キ)と(ク)、セロビオースは(ケ)と(コ)の単糖から構成される。

酵素を用いて二糖を加水分解させると2分子の単糖が生じる。例えばマルトースには酵素マルターゼが、スクロースには酵素スクラーゼや酵素(サ)が用いられる。このうち、スクロースが酵素分解されて得られるグルコースとフルクトースの等量混合物を(シ)といい、⁽¹⁾(シ)にフェーリング液を加えて加熱すると反応が起こり化合物の沈殿を生じる。

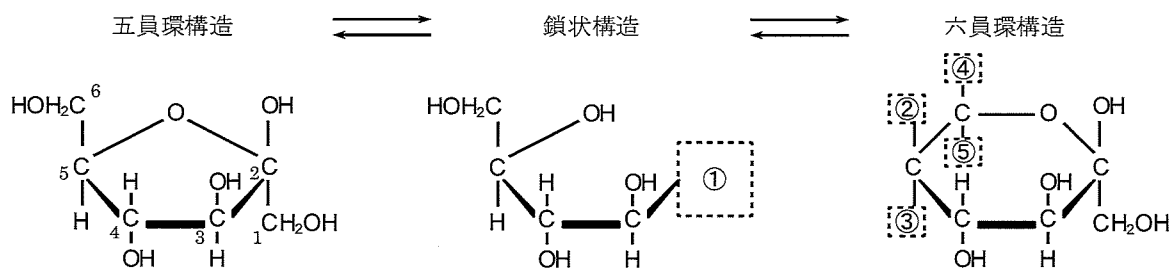


図1

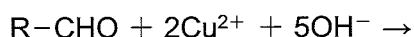
問1 (ア)～(シ)に適切な分子式または語句を記入せよ。

問2 β -フルクトースは水溶液中で環状構造および鎖状構造を示す(図1)。図1の破線枠内①～⑤に、原子もしくは示性式であらわした原子団を入れよ。

化 学 (その6)

問3 スクロースは β -フルクトースと α -グルコースのヒドロキシ基同士が脱水縮合したものである。 α -グルコース1位の炭素原子に結合しているヒドロキシ基と反応する β -フルクトースのヒドロキシ基はどれか。どの位置の炭素原子に結合しているヒドロキシ基であるかを、図1の五員環構造中に示されている炭素原子の番号を選べ。

問4 下線部(1)のフェーリング液を用いた反応について、溶液に含まれるグルコース(R-CHO)との反応式を以下に示す。反応式を完結し、生成する沈殿物の色を記せ。



問5 マルトース、スクロース、ラクトース、セロビオースのそれぞれが同じ物質[mol]含まれている混合水溶液から100gをとり、これにフェーリング液を加えて反応させたところ、4.29gの化合物の沈殿が得られた。新たに上記の混合水溶液をとり微量の酵素を加えて加水分解させて、すべての二糖を単糖にすると、質量パーセント濃度が何%の単糖水溶液を得ることができるか。有効数字3桁で答えよ。なお、加える酵素および加水分解による体積変化はないものとする。

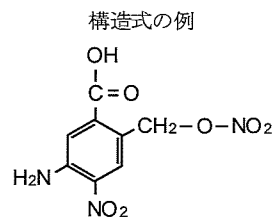
問6 5.13 g/100 mL のスクロース水溶液を調製し、その一部をとりスクラーゼを添加して37℃で一定時間反応させた。このとき、水溶液中のスクロースの何%が単糖に分解しているかを確認するために、水溶液の一部をとり浸透圧計を用いて浸透圧を測定した。その浸透圧の値は基準として用いた9.00 g/100 mLのグルコース水溶液の値の50.0%を示した。スクロースの何%がグルコースとフルクトースに分解したか。有効数字3桁で答えよ。なお、加えるスクラーゼおよび加水分解による体積変化はないものとする。

化 学 (その7)

第6問 次の1)～4)の文章を読んで、以下の問い(問1～5)に答えよ。

- 1) $C_{50}H_{68}O_7$ の分子式からなるエステル化合物Aがある。化合物Aのエステル結合を水酸化ナトリウム水溶液で加水分解した後、強酸を加えると、中性化合物Bと酸性化合物CおよびDが生成した。このときBとCとDの物質質量[mol]比は1:1:2であった。
- 2) ここで得られた化合物Bに対して、濃硫酸と濃硝酸の混酸を反応させると、心臓病(狭心症)の薬や無煙火薬の材料として使用される化合物Eが生成した。
- 3) 化合物Cは $C_7H_6O_3$ の分子式を持ち、メタノールと少量の濃硫酸を作用させると、消炎鎮痛剤として使用される化合物Fが生成した。一方、化合物Cと無水酢酸に濃硫酸を作用させると、解熱鎮痛剤として使用される化合物Gと酢酸ができた。
- 4) 分枝のない脂肪酸Dに⁽¹⁾オゾンを用いて作用させて分解すると、プロピオンアルデヒド C_3H_6O の他に2種類のカルボニル化合物HとIが得られた。なお、化合物Iは炭素5個からなる化合物であった。

問1 生成した化合物B, E, F, Gの構造式を構造式の例にならって書け。



問2 化合物C, E, Fのうち、塩化鉄(III)水溶液で呈色反応を示す化合物はどれか。①, ②, ③, …の中から選び、番号で答えよ。

- ① C ② E ③ F ④ CとE ⑤ CとF
⑥ EとF ⑦ CとEとF

問3 化合物Dの分子式を書け。

問4 下線部(1)のように炭素原子間に二重結合を持つ化合物にオゾンを用いて作用させると、分解反応が起こり、炭素間の結合が切断され、カルボニル基を持つ2つの化合物を生じる。たとえば、プロペンにオゾン分解すると、アセトアルデヒドとホルムアルデヒドが生成する。化合物Dのオゾン分解では、カルボニル化合物HとIが物質質量[mol]比として4:1で生成した。カルボニル化合物HとIの構造式を書け。

問5 780mgの化合物Aから得られる化合物Dの質量[mg]はいくらか。ここで得られた化合物Dに白金触媒存在下で水素を用いて作用させると、反応する水素の質量[mg]はいくらか。

