

物理の全問を通して、ある小問でのみ定義される物理量の記号を他の小問の解答で用いないように注意せよ。円周率を π とする。

1 物体の振動運動について考えよう。

- I. 図1-1のように、ばね定数 k の軽いばねを天井からつり下げる。ばねの他端に質量 m の小球をつけ、ばねの自然の長さの位置Aで静かに手を離すと小球は鉛直方向に単振動した。小球にはたらく力のつり合いの位置を原点Oとし、鉛直下向きに x 軸をとる。重力加速度の大きさを g とし、空気抵抗や摩擦は無視できるものとする。

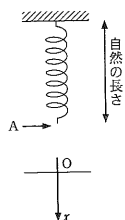


図1-1

- (1) 位置Aの x 座標はいくらか。
- (2) 原点Oを通過するときの小球の速さはいくらか。
- (3) $x = x_1$ のときの小球の加速度を a_1 を用いて表せ。
- (4) 単振動の角振動数および周期はいくらか。

- II. 図1-2のように、地球の中心Oを通り、地表の地点Aと地点Bを結ぶ直線状の細長いトンネルがあるとす。点Oを原点としAからBの向きに x 軸をとる。地点Aで静かに手を離し、トンネル内で質量 m の小球を単振動させる。地球は密度が一律な質量 M 、半径 R の球であるとし、万有引力定数を G とする。地球の質量は小球の質量に比べて十分に大きく、自転などの地球の運動の影響、摩擦や空気抵抗は無視できるものとする。なお、 x 軸上での位置 x において小球が地球から受ける力は、地球と同じ密度で半径 $|x|$ の球の質量が原点Oに集まったと仮定した場合に、その質量と小球との間にはたらく力と等しいことが知られている。

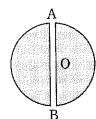


図1-2

- (5) 地球の密度はいくらか。
 - (6) $x = x_2$ のときの小球の加速度を a_2 を用いて表せ。
 - (7) 原点Oを通過するときの小球の速さはいくらか。
 - (8) 地点Aを出発した小球が初めて地点Bに到達するまでにかかる時間として、以下の(ア)から(イ)の中から最も近いものを選び記号で答えよ。ただし必要であれば $\pi \approx 3$ 、 $R \approx 6 \times 10^6$ m、 $M \approx 6 \times 10^{24}$ kg、 $G \approx 6 \times 10^{-11}$ N·m²/kg²、 $\sqrt{2} \approx 1.4$ 、 $\sqrt{3} \approx 1.7$ 、 $\sqrt{5} \approx 2.2$ として計算せよ。
- (ア) 1分 (イ) 10分 (ウ) 25分 (エ) 40分 (オ) 1時間 (カ) 4時間 (キ) 半日
(ク) 1日 (ケ) 1週間

- 2 図2のように、真空中に単色光の光源S、鏡B、鏡C、検出器Dを配置する。SCとBDは直交しており、その交点を点Aとする。点AにはSCとの角度が45°になるように厚さの無視できるハーフミラーを置く。ハーフミラーでは、光の一部は透過し、残りの光は反射される。ハーフミラーを透過する際の光の位相変化は無視できる。光源Sから出た光は、まず点Aで、ハーフミラーで反射されて鏡Bに向かう光とハーフミラーを透過して鏡Cに向かう光の二つに分かれる。鏡Bに向かった光のうち、鏡Bで反射され、点Aでハーフミラーを透過した光が検出器Dに向かう。鏡Cに向かった光のうち、鏡Cで反射されて点Aで反射された光も検出器Dに向かう。このようにして、検出器Dでは、SACADとSABADの二つの経路を進んだ光の干渉が観測される。

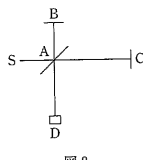


図2

- ABの距離を l_1 とする。鏡Cは直線SC上を移動できるが、ACの距離は常にABの距離より長い。はじめの状態では、光源Sから出る光の波長は λ で、ACの距離は l_2 であり、検出器Dでは光は強めあつているものとする。
- (1) はじめの状態では、SACADと進んだ光とSABADと進んだ光の距離の差(経路差)はいくらか。
 - (2) ハーフミラーと鏡B、Cの反射でずれる光の位相の大きさはそれぞれいくらか。次の(ア)、(イ)、(ウ)の中から最も適切なものを選んで記号で答えよ。ただし、ハーフミラーや鏡での反射は、固定端での波の反射と見なせるものとする。同じ記号を繰り返し選んでもよい。
- (ア) 0 (イ) $\frac{\pi}{2}$ (ウ) π

- (3) はじめの状態では、SACADと進んだ光とSABADと進んだ光が検出器Dに到達したときの位相差はどのようになっているか。次の(ア)、(イ)、(ウ)の中から最も適切なものを選んで記号で答えよ。
- (ア) ずれるはない (イ) $\frac{\pi}{2}$ ずれている (ウ) π ずれている
- (4) ACの距離を l_2 から $l_2 + \Delta l$ まで大きくしていくと、Dでは光は一度弱めあつたのち、再び強めあつた。 Δl を波長 λ を用いて表せ。
- (5) 波長 λ と l_2 の関係を m (0より大きい整数)を用いて表せ。
- (6) (4)の現象を観測したのち、ACの距離を $l_2 + \Delta l$ の状態に保つて今度は波長を λ から $\lambda + \Delta \lambda$ まで増加させていくと、観測される光は一度弱めあつたのち、再び強めあつた。(5)の整数 m を λ と $\Delta \lambda$ を用いて表せ。
- (7) (6)で再び強めあつた状態のときのSACADと進んだ光とSABADと進んだ光の経路差を λ と $\Delta \lambda$ を用いて表せ。
- (8) はじめの状態では、ACの間に薄膜をACに対して垂直に置いた。薄膜の厚さが d ($d > 0$)のとき光が強めあつた、厚さが d よりも小さいときには光は強めあつたことはなかった。薄膜の屈折率はいくらか、 l_2 を用いずに答えよ。薄膜での反射は無視できるとする。

- 3 図3-1のように、磁場(磁界)のない真空中に十分に長い三本の直線の導線 L_A 、 L_B 、 L_C が z 軸と平行に張られている。導線 L_A 、 L_B 、 L_C にはそれぞれ z 軸の正の向きに I_A 、 I_B 、 I_C の大きさの電流が流れている。電流は時間変化しないものとする。導線 L_A 、 L_B 、 L_C が xy 平面と交わる点をそれぞれ点A、点B、点Cとする。点Aを原点として点Bの方向を x 軸の正の向きとし、 x 軸と z 軸に垂直に y 軸をとる。このとき点Cは、 $x > 0$ 、 $y > 0$ の領域にある。三角形ABCは $\angle ABC$ が直角の二等辺三角形であり、ABの距離を $2d$ とする。 xy 平面上で $x > 0$ 、 $y > 0$ の領域にあって、点A、B、Cからの距離が等しい点を点Pとする。点Pは辺ACの中点にあたる。真空の透磁率を μ_0 とする。

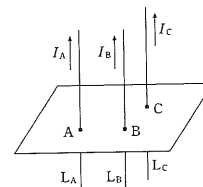


図3-1

- (1) 電流 I_A が導線 L_A から距離 r 離れたところにつくる磁場の強さはいくらか。
- (2) 電流 I_A が点Pにつくる磁場の x 成分と y 成分はいくらか。
- (3) z 軸の正の側から見たとき、電流 I_A が点Pにつくる磁場の向きとして最も適切なものを図3-2の(ア)~(イ)、あるいは、(ウ) z 軸の正の向き、(エ) z 軸の負の向き、の中から選んで記号で答えよ。
- (4) 電流 I_A と I_C の大きさが等しい場合、三本の電流が点Pにつくる磁場の x 成分と y 成分はいくらか。
- (5) 電流が $I_A = I_B$ のとき、三本の電流が点Pにつくる磁場の x 成分を0とするためには、電流 I_C の大きさは I_A の何倍であればよいか。
- (6) 電流が $I_A = 2I$ 、 $I_B = I_C = I$ のとき、点Pの磁束密度の大きさを I_A 、 I_B 、 I_C を用いずに答えよ。
- (7) 電流が $I_A = 2I$ 、 $I_B = I_C = I$ のとき、導線 L_C の $z = -\frac{l}{2}$ から $z = \frac{l}{2}$ の部分にはたらく力の大きさはいくらか。 I_A 、 I_B 、 I_C を用いずに答えよ。
- (8) 三本の導線の代わりに、点Pを中心とする1回巻きの円形コイルを置いて電流 $2I$ を適切な向きに流して(6)のときと同じ磁場を点Pにつくるには、円形コイルの半径をいくらとして、コイルの面をどのような向きに置けばよいかを簡潔に答えよ。

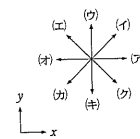


図3-2