

# 入 学 試 験 問 題 (1次)

## 理 科

令和4年1月24日

10時50分—12時10分


### 注 意 事 項

- 1 試験開始の合図があるまで、この問題冊子を開かないこと。
- 2 この問題冊子は表紙・白紙を除き46ページ(物理1～11ページ, 化学12～22ページ, 生物23～46ページ)である。落丁, 乱丁, 印刷不鮮明の箇所等があった場合は申し出ること。
- 3 物理, 化学, 生物のうちからあらかじめ入学志願票に記入した2科目を解答すること。
- 4 解答には必ず黒鉛筆(またはシャープペンシル)を使用すること。
- 5 解答は, 各設問ごとに一つだけ選び, 解答用紙の所定の解答欄の該当する記号を塗りつぶすこと。
- 6 解答を訂正する場合は, 消しゴムできれいに消すこと。
- 7 解答用紙の解答欄は, 左から物理, 化学, 生物の順番になっているので, マークする科目の解答欄を間違えないように注意すること。
- 8 監督員の指示に従って, 問題冊子の表紙の指定欄に受験番号を記入し, 解答用紙の指定欄に受験番号, 受験番号のマーク, 氏名を記入すること。「志願票に記入した科目を2つマークしなさい」の欄には, 入学志願票と同じ科目にマークすること。
- 9 この問題冊子の余白は, 草稿用に使用してよい。ただし, 切り離してはならない。
- 10 解答用紙およびこの問題冊子は, 持ち帰ってはならない。

受験番号				
------	--	--	--	--

上の枠内に受験番号を記入しなさい。





# 生 物

設問ごとに、与えられた選択肢の中から最も適当なものを一つ選べ。

- 1 酵素 A は、基質 S を加水分解して生成物 P を生成する。基質 S と酵素 A を温度 37℃、pH 7 の水溶液中で反応させ、反応時間と生成物 P の量の関係を調べたところ図 1 のようになった。ただし、反応開始時に基質 S の量は酵素 A の量に対して十分にあったものとする。

この酵素反応を次の㉗～㉜の条件で行った場合、反応開始から 30 分間のグラフの傾きが図 1 と同じになると予想されるものはどれか。ただし、㉗～㉜に示した条件以外は上記の実験と同じとし、全ての条件で反応開始 120 分後までに生成物 P の量は一定に達するものとする。

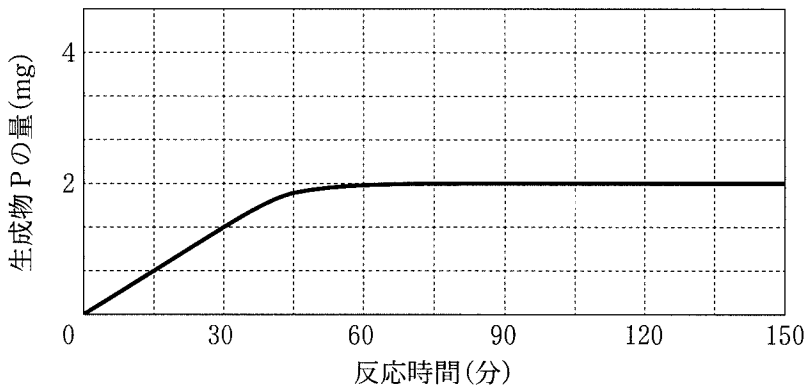


図 1 反応時間と生成物 P の量の関係

- ㉗ 反応温度を 30℃ にした場合
- ㉘ 酵素 A の量を 2 倍にした場合
- ㉙ 酵素 A の量を 1/2 倍にした場合
- ㉚ 基質 S の量を 2 倍にした場合
- ㉛ 酵素 A と基質 S の量を変えず、溶媒の量を 2 倍にした場合

2 哺乳類の mRNA は、ゲノム DNA の塩基配列に基づいて、転写とスプライシングを経て合成される。ある哺乳動物の細胞から mRNA を抽出し、それを用いて 2 本鎖 DNA を合成した。図 1 は、遺伝子 A の mRNA に由来する DNA の塩基配列であり、開始コドンから終止コドンまでの翻訳領域を含んでいる。最上段左の塩基を 5' 末端、最下段右の塩基を 3' 末端として示し、数字は右端の塩基が何番目かを表している。また、開始コドンに相当する塩基配列を二重下線で示した。

```

                                                    50
5'-CCTCCAGCAA GCTCAGGATG CTGCTCAGCC ACCAGGACCT GCTGAGGACA
                                                    |
                                                    100
AATGCCTCAG AGCAGAAGAT GACGTTGAGT TCCCTGAAGG ATGATATCGG
                                                    |
                                                    150
AGCCTGCAGG AATTGCTGCT CCGTGACAAA AGCGCAGTTG CAAACCACAC
                                                    |
                                                    200
TGGCGGAGTT TAAGGACATA CAAGCAAAGT TGATGGAGCA GGAGAGCATC
                                                    |
                                                    222
CTGTAAGAAC TGCAAGAGCG TG-3'

```

図 1 ある哺乳動物の遺伝子 A の mRNA に由来する cDNA の塩基配列

図 1 の塩基配列をもとに、開始コドンから終止コドンまでの領域を PCR 法にて増幅させるために 2 つのプライマーを作製する。開始コドンを含むプライマーを ATGCTGCTCAGCCACCAGG とする場合、終止コドンを含むプライマーの塩基配列として適当なものを選べ。ただし、プライマーの塩基配列は左側が 5' 末端、右側が 3' 末端である。

- ㉞ TAAACTCGCCAGTGTGGT
- ㉟ GCAGGAGAGCATCCTGTAA
- ㊱ TCAACTTTGCTTGTATGTC
- ㊲ TTACAGGATGCTCTCCTGC
- ㊳ TAAGAACTGCAAGAGCGTG

3 体液性免疫と細胞性免疫の両方に当てはまる記述はいくつあるか。

- A ヘルパー T 細胞が関与する。
- B B 細胞が関与する。
- C 抗体が関与する。
- D 免疫記憶が成立する。
- E ツベルクリン反応に関与する。
- F 血液凝固に関与する。
- G 樹状細胞が関与する。

㉞ 1 以下    ㉟ 2    ㊱ 3    ㊲ 4    ㊳ 5 以上

4 表1は、5人(1番～5番)の血しょうと赤血球について、凝集反応を調べた結果である。この結果から推察されるABO式血液型について適当なものはどれか。

表1 血しょうと赤血球の凝集反応

		赤血球				
		1番	2番	3番	4番	5番
血しょう	1番	－	－	－	－	－
	2番	＋	－	＋	－	－
	3番	＋	＋	－	＋	－
	4番	＋	－	＋	－	－
	5番	＋	＋	＋	＋	－

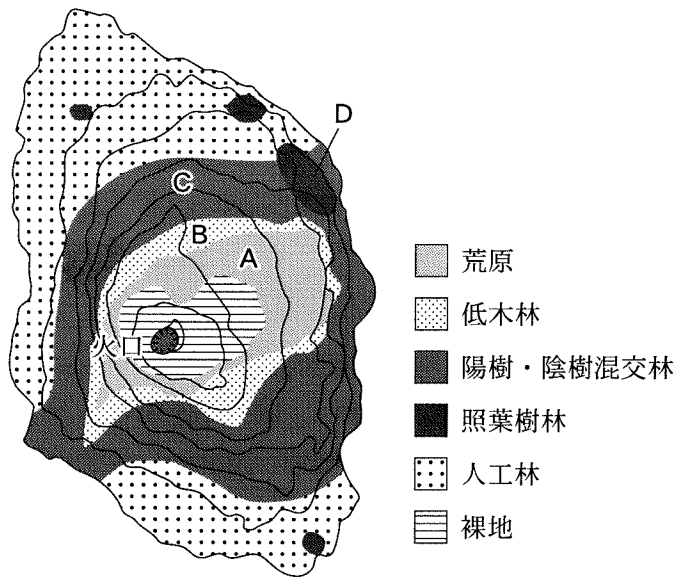
＋凝集反応あり，－凝集反応なし

- a 1番はO型である。
- b 2番をA型とすると，3番はB型である。
- c 3番はAB型である。
- d 4番はB型である。
- e 5番はO型である。

- ㉞ aとb    ㉟ cとd    ㊱ cとe    ㊲ aとd    ㊳ bとe

植生に関する次の文章を読み、以下の問い(問題5～7)に答えよ。

伊豆諸島の大島は火山島であり、北緯 34 度 44 分に位置し、面積は約 90 km<sup>2</sup>、最高標高は三原新山の 758 m である(図 1)。図 1 の A～D は 1957～1960 年に植生や環境条件の調査を行った地点を示し、その調査結果を図 2 にまとめた。生育する主な植物について、各調査地点における出現頻度を線の太さで表し、遷移の過程で出現時期が早いと考えられるグループ順に並べてある。図 2 を見ると、例えば、ハコネウツギはハチジョウススキとの共存はほとんどないが、オオバヤシャブシとともに低木林を形成し、ミズキやオオシマザクラとは低木林でも混交林でも共存することがわかる。



(等高線の間隔は 100 m)

図 1 大島の地形と調査地点



調査地点		A	B	C	D
		荒原	低木林	陽樹・陰樹混交林	照葉樹林
火山溶岩の噴出年代(年)		1950	1778	684	紀元前 2000
植物種数(種)		3	21	42	33
植生の高さ(m)		0.6	2.8	9.2	12.5
地表照度*(%)		90	23	2.7	1.8
土壌の厚さ(cm)		0.1	0.8	40	37
土壌有機物(%)		1.1	6.4	20	31
草本	シマトヌキラン				
	ハチジョウイトドリ				
	ハチジョウススキ				
低木	オオバヤシャブシ				
	ハコネウツギ				
落葉樹	ミズキ				
	オオシマザクラ				
	シマエゴノキ				
	カラスザンショウ				
	ハチジョウキブシ				
	ハチジョウイボタ				
常緑樹	ヒサカキ				
	シロダモ				
	ヤブニッケイ				
	ヤブツバキ				
	イヌツゲ				
	スダジイ				
	タブノキ				

\* 植生の最上部の照度を100%とする。

図2 調査結果

5 大島の植生の遷移に関する記述として最も適当なものを選び。

- ㊦ 裸地から荒原への移行には7年が必要で、荒原ではハチジョウススキが優占種となる。
- ㊧ オオバヤシャブシは最も寿命が長いので、荒原から照葉樹林まですべての植生で見られる。
- ㊨ 陰樹の幼木の生育には日陰が必要であるため、低木林では陰樹がほとんど見られない。
- ㊩ 風化した火山溶岩からなる土壌の厚さが40 cm程度になると陽樹・陰樹混交林が形成される。
- ㊪ 照葉樹林では部分的な遷移が繰り返されるため、スダジイとタブノキ以外の常緑樹も混在している。

6 大島では照葉樹林は丘陵帯に点在していた(図1)。一般に、陸上のバイオームの分布は年平均気温と年降水量で決まっている。また、気温は標高が100 m上昇するごとに0.5~0.6℃低下するため、バイオームは垂直方向でも層状に変化する。表1は大島の年平均気温と年降水量、図3は10種類の主要なバイオームと気温・降水量との対応関係である。バイオームに関する記述として最も適当なものを選び。

- ㊦ 大島と年平均気温が同じで、年降水量が2500 mm少ない地域には木本が点在する草原が分布する。
- ㊧ 大島と年降水量が同じで、年平均気温が10℃高い地域では樹高50 mにも達する常緑広葉樹が優先する。
- ㊨ 大島とほぼ同じ緯度にある本州の標高1000 mの山地帯にはクスノキやカシ類が優先する森林が分布する。
- ㊩ 鹿児島県の屋久島では、大島の三原新山と同じ標高に夏緑樹林が優先する森林が分布する。
- ㊪ 図3で照葉樹林と重なっている7のバイオームでは、乾季に葉を落とす落葉広葉樹が優先する。

表1 大島の年平均気温と年降水量

	1940年	1950年	1960年	1970年
年平均気温(°C)	15.0	15.3	15.5	14.4
年降水量(mm)	2789.8	3046.7	3235.8	2658.0

(気象観測所の標高は74 m)

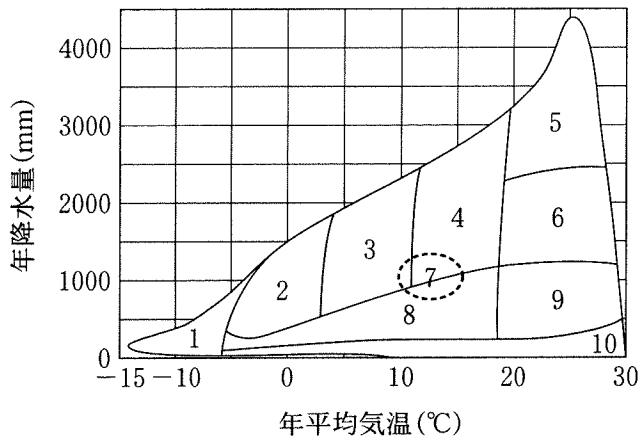


図3 10種類に区分したバイオームと気候の関係

7 次の文章の( B )と( D )に入る語句あるいは相当する化学構造式の組み合わせとして最も適当なものを選び。

遷移の初期から生育できるハンノキ属のオオバヤシャブシの根には、根粒菌が共生して形成された根粒と呼ばれるコブのような構造がついている。根粒菌は、大気中の窒素から植物が利用可能な( A )をつくることができる。植物が根から吸収した( A )は( B )合成酵素のはたらきにより( C )と結合し、( B )となる。( B )のアミノ基はアミノ基転移酵素により  $\alpha$ -ケトグルタル酸に移され、 $\alpha$ -ケトグルタル酸は( C )になる。さらに( C )に取り込まれたアミノ基がアミノ基転移酵素によって他の有機酸と結合して、さまざまなアミノ酸がつくられる。アミノ酸は、多数結合してタンパク質になったり、代謝されて核酸、ATP、( D )などの有機窒素化合物の合成に用いられったりする。オオバヤシャブシはこうして栄養分が少ないやせた土壤にも生育できる。

	B	D
㉗	$\begin{array}{c} \text{CO—COOH} \\   \\ \text{CH}_2 \\   \\ \text{CH}_2\text{—COOH} \end{array}$	クロロフィル
㉘	$\begin{array}{c} \text{H}_2\text{N—CH—COOH} \\   \\ \text{CH}_2 \\   \\ \text{CH}_2\text{—COOH} \end{array}$	NADPH
㉙	$\begin{array}{c} \text{H}_2\text{N—CH—COOH} \\   \\ \text{CH}_2 \\   \\ \text{CH}_2\text{—CO—NH}_2 \end{array}$	クロロフィル
㉚	$\begin{array}{c} \text{H}_2\text{N—CH—COOH} \\   \\ \text{CH}_2 \\   \\ \text{CH}_2\text{—CO—NH}_2 \end{array}$	カロテノイド
㉛	$\begin{array}{c} \text{H}_2\text{N—CH—COOH} \\   \\ \text{CH}_2 \\   \\ \text{CH}_2\text{—COOH} \end{array}$	カロテノイド

次の文章を読み、以下の問い(問題8・9)に答えよ。

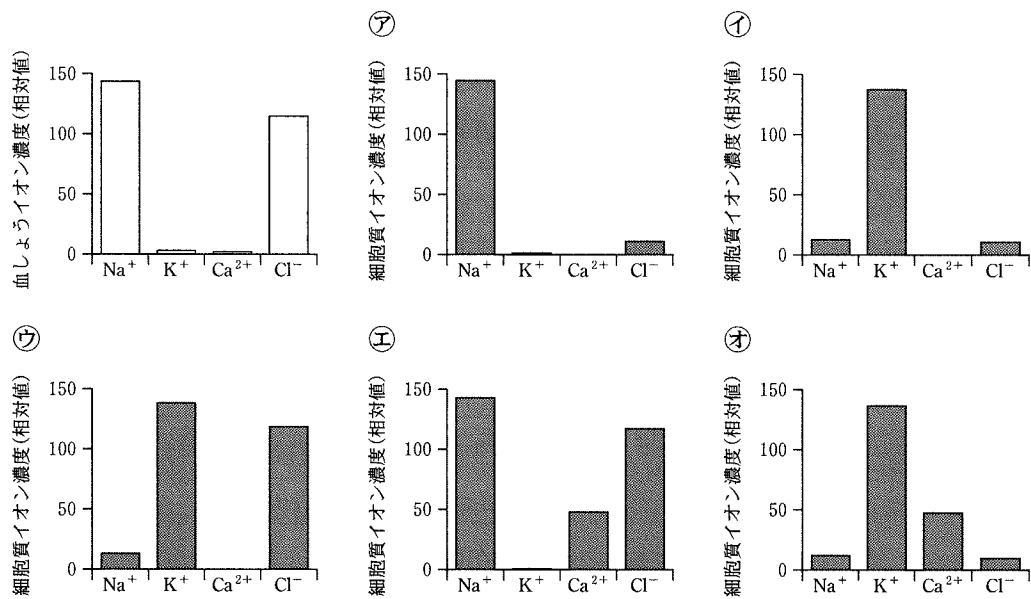
細胞やいくつかの細胞小器官は脂質二重膜によって包まれており、イオン種によって濃度が膜の内外で大きく異なることがある。例えばナトリウムポンプは $\text{Na}^+$ と $\text{K}^+$ を逆方向に輸送することで、細胞内外の $\text{Na}^+$ と $\text{K}^+$ のイオン濃度勾配が保たれるよう働いている。ニューロンの活動電位の発生には、この濃度勾配を保つ仕組みが必須である。

ニューロンの活動電位が神経終末に到着すると電位依存性カルシウムチャネルが開くことで $\text{Ca}^{2+}$ が神経終末内部に流入し、その結果、神経伝達物質がシナプス間隙に放出される。抑制性シナプスでは、GABAなどの抑制性伝達物質がシナプス後膜に存在するリガンド依存性イオンチャネルを開くことでシナプス後細胞内に $\text{Cl}^-$ が流入し、抑制性シナプス後電位が発生する。神経筋接合部では、筋繊維(筋細胞)上に存在するアセチルコリン受容体が開くことで細胞内に $\text{Na}^+$ が流入し、興奮性シナプス後電位が発生する。この電位が閾値に達すると筋細胞に活動電位が生じ、それが引き金となって筋小胞体に蓄えられた $\text{Ca}^{2+}$ が放出される。 $\text{Ca}^{2+}$ はトロポニンに結合し、筋収縮を開始する。筋細胞が再分極すると、 $\text{Ca}^{2+}$ は筋小胞体に再び取り込まれ、筋肉は弛緩する。

8 下線①～⑦で起こる物質移動のうち、受動輸送によるものはいくつあるか。

- ㉞ 1以下    ㉟ 2    ㊱ 3    ㊲ 4    ㊳ 5以上

9 下図の左上のグラフは細胞外液(血しょう)のイオン組成を示す。細胞内液(細胞質)のイオン組成を示すグラフとして最も適当なものはどれか。



次の文章を読み、以下の問い(問題 10~12)に答えよ。

mRNA がどのアミノ酸をコードするのは、1960 年代にニーレンバーグやコラーナらの実験によって解明された。彼らは大腸菌をすりつぶした抽出液を用いた無細胞タンパク質合成系を用いて、人工 RNA からポリペプチドを合成させた。そこで同様の方法を使い、あらかじめ塩基配列のわかった人工 RNA を加えどのようなポリペプチドができるかを調べた。その結果を表 1 に示す。

表 1

使用した RNA 配列	合成されたポリペプチド		
…UUUUUUUUUUUU…	フェニルアラニンのみ		
…AAAAAAAAAAAA…	リシンのみ		
…UAUAUAUAUA…	イソロイシンとチロシンが交互に並んだもの		
…UUAUUAUUA…	イソロイシンのみ	ロイシンのみ	チロシンのみ
…AAUAAUAAU…	イソロイシンのみ	アスパラギンのみ	
…UUUUAUUUUA…	フェニルアラニン—イソロイシン—チロシン—ロイシンがこの順番で繰り返し並んだもの		
…AAUAAAUAUU…	イソロイシン—アスパラギン—リシンからなるトリペプチド		

10 RNA のトリプレットとコードされるアミノ酸の組み合わせとして正しいものはどれか。

- ㉞ AAU—イソロイシン
- ㉟ AUA—チロシン
- ㊱ AUU—ロイシン
- ㊲ UAU—チロシン
- ㊳ UUA—イソロイシン

- 11 ある遺伝子の mRNA の塩基配列を解析したところ、501 番目のアミノ酸残基がアスパラギンからチロシンに変化していることがわかった。変異する前の mRNA の塩基配列のデータの一部は以下の通りであった。

…UAAGAUAAUUAAUAGUACU…

下線部の 5 つの塩基のいずれかが変異していた。起きた変異の説明で正しいものはどれか。

- ㉞ 下線部 1 番目の A が U に変わった。
- ㉟ 下線部 2 番目の A が U に変わった。
- ㊱ 下線部 3 番目の U が A に変わった。
- ㊲ 下線部 4 番目の U が A に変わった。
- ㊳ 下線部 5 番目の A が U に変わった。



12 ゾウリムシの遺伝暗号表は、一般的な生物の遺伝暗号表とは異なっているらしい。どう異なっているかを調べるため、大腸菌の代わりにゾウリムシを用いて同様の実験を行った。その結果を表2に示す。表1と表2の実験に関する考察のうち、最も適当なものはどれか。

表2

使用した RNA 配列	合成されたポリペプチド		
…UUUUUUUUUUUU…	フェニルアラニンのみ		
…AAAAAAAAAAAA…	リシンのみ		
…UAUUAUUAUUA…	イソロイシンとチロシンが交互に並んだもの		
…UUUUAUUUAUU…	イソロイシンのみ	ロイシンのみ	チロシンのみ
…AAUAAUAAUAA…	イソロイシンのみ	アスパラギンのみ	グルタミンのみ
…UUUUAUUUAUU…	フェニルアラニン—イソロイシン—チロシン—ロイシンがこの順番で繰り返し並んだもの		
…AAUAAUAAUAA…	リシン—グルタミン—イソロイシン—アスパラギンがこの順番で繰り返し並んだもの		

- ㊦ ゾウリムシには終止コドンが2通りしかない。
- ㊧ ゾウリムシのタンパク質にはグルタミンが多く使用される。
- ㊨ ゾウリムシは、大腸菌にはないアミノ酸を使用することができる。
- ㊩ ゾウリムシの遺伝子は、大腸菌の同じ機能を持つ遺伝子よりも長い。
- ㊪ ゾウリムシの遺伝子では大腸菌と比べ高い頻度で UAA が使用される。

- 13 図はある遺伝的疾患をもつ一族の家系図である。A～Eのうち、この疾患の遺伝様式として可能性のあるものはいくつあるか。ただし、この疾患の発症率は100%とする。

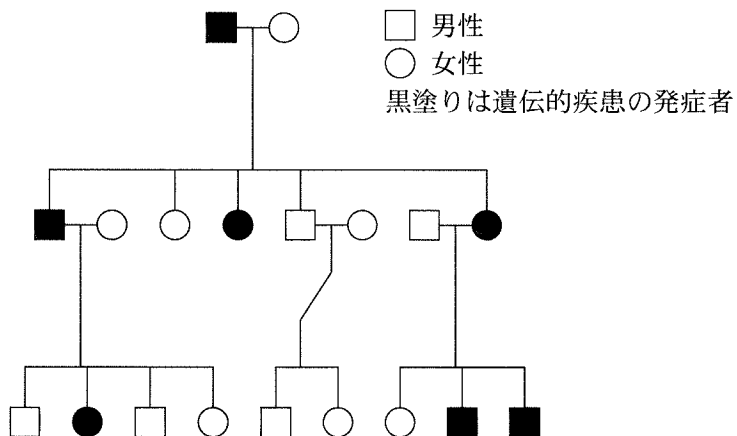


図1 ある遺伝的疾患をもつ一族の家系図

- A 常染色体優性遺伝    B 常染色体劣性遺伝    C X染色体優性遺伝  
 D X染色体劣性遺伝    E Y染色体遺伝

- ㊦ 0      ㊧ 1      ㊨ 2      ㊩ 3      ㊪ 4

14 ドブネズミで3つの劣性遺伝子(a : アルビノ\*, b : 曲がった尾, c : 斜視\*\*)が知られている。ある三遺伝子雑種について三点交雑法による試験を行ったところ、次世代の表現型の分離比は表1のようになった。ac 遺伝子間と ab 遺伝子間の組換え価の差を求めよ。

\*色素欠乏のため体毛などが白色または著しい淡色となること。

\*\*右眼と左眼の視線が違う場所に向かっている状態のこと。

表1 次世代の表現型の分離比

表現型	個体数(匹)
野生型	343
アルビノ	9
アルビノ, 曲がった尾	74
アルビノ, 曲がった尾, 斜視	357
アルビノ, 斜視	61
曲がった尾	79
曲がった尾, 斜視	11
斜視	66
	計 1000

- ア 0      イ 5      ウ 12      エ 14      オ 16

15 発生に関する記述のうち、正しいものはどれか。

- ア ニワトリの卵原細胞は、分裂により増殖し始原生殖細胞となる。  
 イ カエルの中胚葉は、腸管内壁の上皮に分化する。  
 ウ ショウジョウバエの発生では、ビコイド mRNA の多い側が尾部となる。  
 エ カエルの初期原腸胚の原口背唇部は、神経管を誘導する。  
 オ おしべの先端は葯といい、中に多数の単相の花粉母細胞がある。

**次の文章を読み、以下の問い(問題 16~18)に答えよ。**

マウスに視覚刺激を与えると、大脳皮質視覚野では神経細胞群の電氣的活動が増大する。この性質を利用し、視覚回路の形成について調べた。幼獣期(生後 28 日)と成獣期(生後 50 日)のマウスを用い、図 1 に示すように右目を遮眼子で覆い、左目のみに視覚刺激を提示し、視覚野の神経細胞群の反応を記録した。以下の実験 A ~ E を行い、その結果をまとめたのが図 2 である。

実験 A 幼獣の左目のみに視覚刺激を提示し、神経細胞群の反応を記録した(図 2 A)。

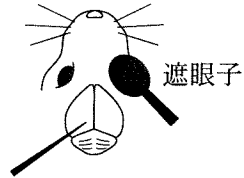

実験 B 幼獣の左目のまぶたを縫合して 3 日間飼育した(これを視覚遮断という)。縫合を解いてまぶたを開いたのち、左目のみに視覚刺激を提示し、神経細胞群の反応を記録した(図 2 B)。

実験 C 成獣の左目のみに視覚刺激を提示し、神経細胞群の反応を記録した(図 2 C)。

実験 D 成獣の左目を視覚遮断し 3 日間飼育した。左目のまぶたを開き、左目のみに視覚刺激を提示し、神経細胞群の反応を記録した(図 2 D)。

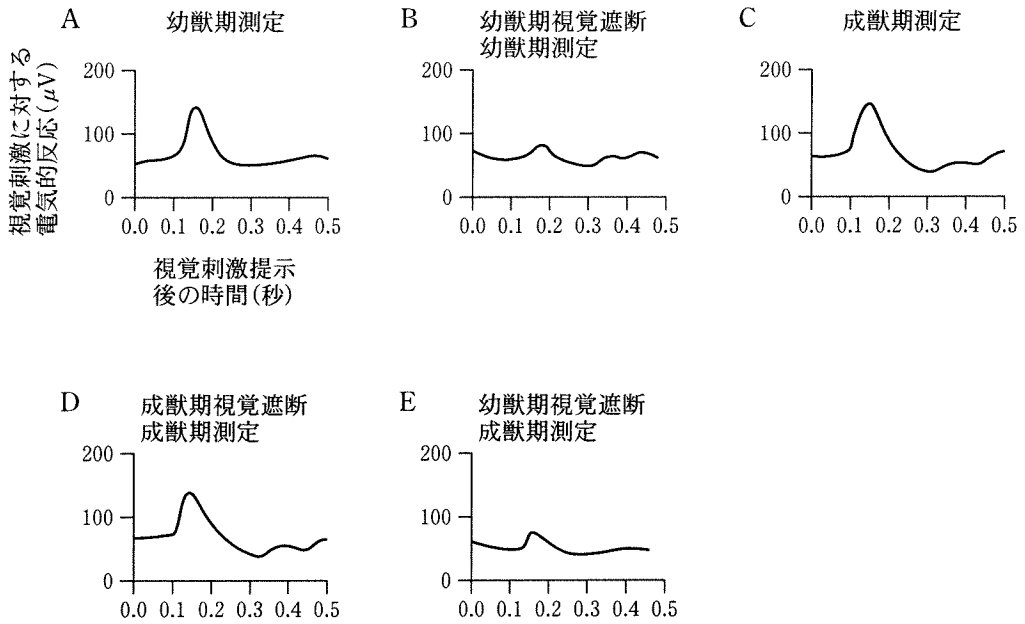
実験 E 幼獣の左目を視覚遮断し 3 日間飼育した。左目のまぶたを開き、成獣になるまで飼育してから左目のみに視覚刺激を提示し、神経細胞群の反応を記録した(図 2 E)。

視覚刺激装置



記録電極

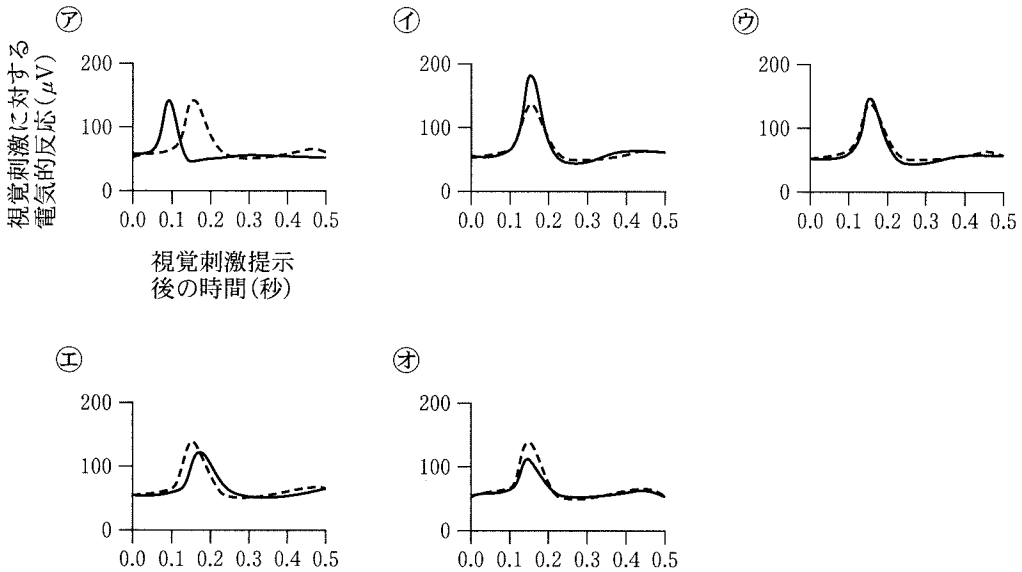
図1 視覚刺激実験の方法



※  $\mu\text{V}$  は電圧(V)の単位で,  $1\mu\text{V} = 100$  万分の  $1\text{V}$  である。

図2 大脳皮質視覚野の神経細胞群の反応

16 網膜で受容された情報を視覚野に伝える視神経は、ほぼすべて有髄神経である。髄鞘が形成されなかった場合に実験Aを行うと視覚野の神経細胞群の反応はどうか。最も適当なものを選び。ただし、有髄神経の反応を破線で示す。



17 この実験において視覚刺激に対する視覚野の神経細胞群の反応として最も適当なものを選び。

- ア 幼獣期に視覚遮断をされても、成獣期までに神経細胞群の反応は回復する。
- イ 成獣期に3日間視覚遮断をされても、神経細胞群の反応は視覚遮断されていない成獣と同等である。
- ウ 幼獣期に視覚遮断された成獣では、神経細胞群は少しの光に対しても敏感に反応する。
- エ 幼獣期は成獣期に比べて神経細胞群の反応は大きい。
- オ 幼獣期に3日間視覚遮断された成獣と成獣期に3日間視覚遮断された成獣では、神経細胞群の反応は同等である。

18 この実験より導かれる考察として最も適当なものはどれか。

- ㊦ 幼児期に視覚が遮断されたヒトでは、成人期以降まで視覚障害が残る可能性がある。
- ㊧ 成長ホルモンが眼球に与える影響により視覚遮断に対する感受性が決定されている可能性がある。
- ㊨ マウスでは生後 28 日と生後 50 日で視覚遮断に対する感受性が異なっていたため、ヒトでも生後 28 日の視覚遮断が生後 50 日よりも重大な影響を及ぼす可能性がある。
- ㊩ 幼獣期の方が薬剤や外傷に対して抵抗性があるため、ヒトでも幼児期であれば視覚遮断後も視覚機能は正常に保たれると考えられる。
- ㊪ 幼獣期の視覚遮断は、視覚機能の老化を導くと考えられる。

19 植物の環境応答に関する以下の記述のうち、最も適当なものを選べ。

- ㊦ 光発芽種子であるレタスの種子は、赤色光に応答して発芽が抑制される。
- ㊧ 秋まきコムギの発芽種子は、長日条件と数週間の低温(1 - 10℃)にさらされることで花芽を形成する。
- ㊨ 乾燥状態に置かれた植物の気孔の閉鎖は、主にエチレンの作用により起こる。
- ㊩ 植物の茎や根の伸長成長は、オーキシンにより促進される。
- ㊪ アブラナ、トウモロコシ、エンドウは、日長が一定以上になると花芽を形成する長日植物である。

20 生物多様性は、生態系の多様性、種の多様性、遺伝子の多様性という3つのとらえ方ができる。以下の調査のうち、ある地域における種の多様性を直接的に観察しているものはいくつあるか。

- A 生息する土壌生物の種類を調査した。
- B 森林の面積と草原の面積を測定し比較した。
- C 標識再捕獲法によって域内のアカミミガメの個体数を推定した。
- D  $\alpha$  グロビン遺伝子の塩基配列にみられる一塩基多型 (SNP) を複数の種で比較した。
- E ヤマアカガエルを体表の模様によって分類し、それぞれの個体数を調査した。

㉠ 1以下    ㉡ 2    ㉢ 3    ㉣ 4    ㉤ 5

21 北米南部に生息するアカシアとそれに共生するアリの関係を調査した。このアリは、アカシアの棘の空洞をすみかとし、タンパク質に富んだ葉の突起部を食べる。

アリが共生したアカシアをA群とB群にランダムに分け、A群には手を加えず、B群からはア리를駆除したうえで再侵入を防ぐ処理をした。

結果1：70日の観察期間中の新芽の成長は、A群で平均72.9cmであったのに対し、B群では平均10.3cmであった。

結果2：10ヶ月後のアカシアの生存率は、A群で72%であったのに対し、B群では43%であった。

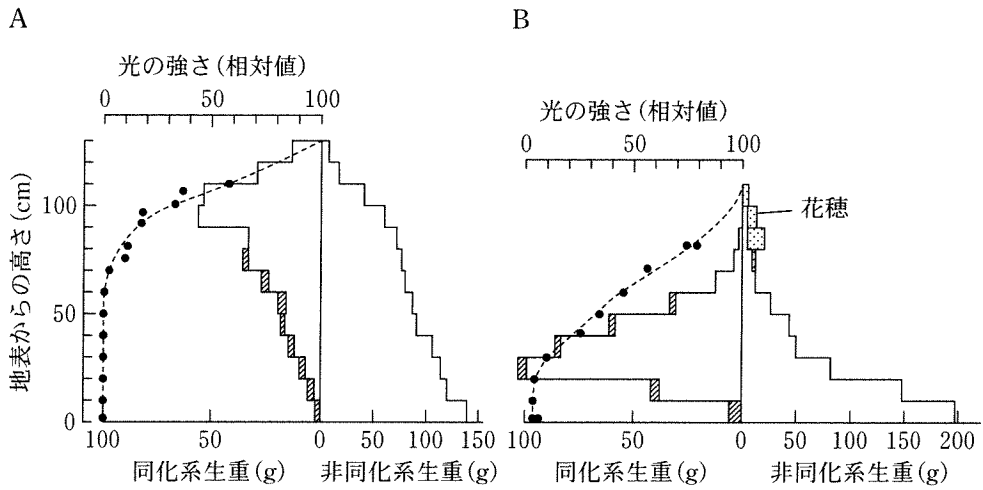
以下の記述のうち適当なものはいくつあるか。

- A アカシアとアリの関係は、片利共生である。
- B アカシアは、単独では生存することができない。
- C アリは、利益としてアカシアから食物を得ている。
- D アリは、アカシアから何らかの不利益を被っている。
- E アカシアは、食べられる損失を上回る利益をアリから得ている。

㉠ 1以下    ㉡ 2    ㉢ 3    ㉣ 4    ㉤ 5



22 植物個体群を光合成器官と非光合成器官の垂直分布でとらえた構造は、生産構造と呼ばれ、層別刈取法によって図式化される。図1は2つの異なる植物個体群AとBの生産構造図である。図1に関する記述のうち、正しいものはいくつあるか。



破線は光の強さ、棒グラフの斜線部分は枯れた葉を示す。

(Monsi and Saeki, 1953 を一部改変)

図1 生産構造図

- A 一般に開けた環境ではAよりBの方が有利である。
- B AはBより非同化器官の生産にかかるコストが低い。
- C Aでは、下層の葉が枯れることで群落全体の生産効率が上がる。
- D Aでは、葉の広がる地表100cmの高さで多くの光が吸収されている。
- E 葉の形態や分布構造は、群落内部への光の透過と密接に関係している。

㉞ 1以下    ㉟ 2    ㊱ 3    ㊲ 4    ㊳ 5

23 適応放散の例として最も適当なものを選べ。

- ㉞ アブラナ科のヤセイカンランからキャベツ，ブロッコリー，カリフラワー，ケールなど多くの品種が作出された。
- ㉟ ハワイ諸島には，体の大きさやくちばしのかたち，羽の色などの形態が異なるハワイミツスイ類の鳥が40種以上生息する。
- ㊱ オーストラリア大陸にかつて生息していた有袋類のフクロオオカミは，形態が真獣類のオオカミによく似ていた。
- ㊲ キンギョには大きさや色，形の異なる多様な品種がある。
- ㊳ ブタとイノシシは見た目が大きく違うが，交配により繁殖可能な子がうまれる。

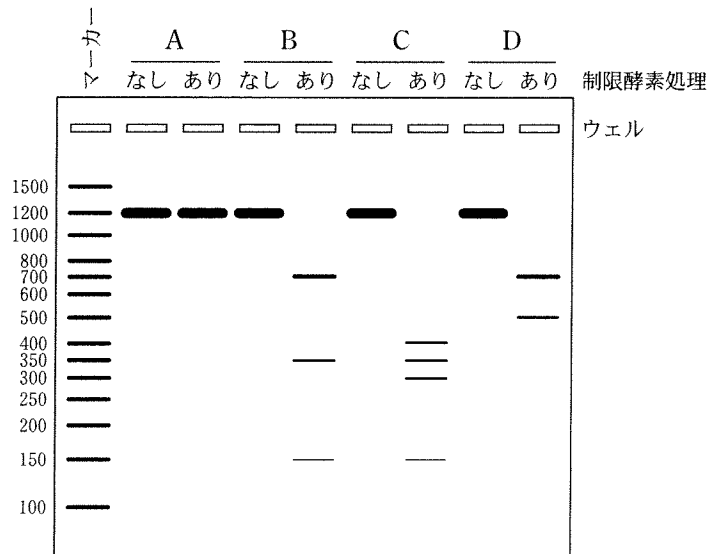
24 脊索動物の特徴として正しいものはいくつあるか。

- A 左右相称であり，原口は成体の肛門になる。
- B 化石がエディアカラ生物群のなかに見つかる。
- C 発生過程において，トロコフォア幼生の時期を経るものがある。
- D 未発達なものからよく発達したものまで，様々な形態の顎を持つ。

- ㉞ 0      ㉟ 1      ㊱ 2      ㊲ 3      ㊳ 4

25 ごく近縁な4種の植物A~Dの系統関係を推定するために、次の実験を行い  
 図1の結果を得た。実験の結果と合う系統樹を選べ。

<実験> A~Dの葉からDNAを抽出し、葉緑体DNAの一部をPCR法で増幅した。得られたPCR産物の半量はそのまま、残りは制限酵素 *EcoRI* で切断した後に、アガロースゲル電気泳動を行った。



左端の数字は分子量マーカーの塩基対数を示す。

図1 アガロースゲル電気泳動の結果

